

# 1

NOVOS  
TESTES DE  
VESTIBULARES

## Fundamentos de Matemática Elementar

Gelson Iezzi  
Carlos Murakami



- conjuntos
- funções




**GELSON IEZZI**  
**CARLOS MURAKAMI**

FUNDAMENTOS DE  
**MATEMÁTICA 1**  
**ELEMENTAR**

**CONJUNTOS FUNÇÕES**

84 exercícios resolvidos  
484 exercícios propostos com resposta  
398 testes de vestibulares com resposta

7ª edição



**ATUAL**  
**EDITORA**



# Sumário

<b>CAPÍTULO I — NOÇÕES DE LÓGICA</b> .....	1
I. Proposição .....	1
II. Negação .....	2
III. Proposição composta — conectivos .....	3
IV. Condicionais .....	6
V. Tautologias .....	9
VI. Proposições logicamente falsas .....	10
VII. Relação de implicação .....	11
VIII. Relação de equivalência .....	11
IX. Sentenças abertas, quantificadores .....	12
X. Como negar proposições .....	15
<b>CAPÍTULO II — CONJUNTOS</b> .....	18
I. Conjunto — Elemento — Pertinência .....	18
II. Descrição de um conjunto .....	20
III. Conjunto unitário — Conjunto vazio .....	21
IV. Conjunto universo .....	22
V. Conjuntos iguais .....	24
VI. Subconjuntos .....	25
VII. Reunião de conjuntos .....	28
VIII. Interseção de conjuntos .....	29
IX. Propriedades .....	30
X. Diferença de conjuntos .....	33
XI. Complementar de $B$ em $A$ .....	33
Leitura: Cantor e a teoria dos conjuntos .....	38
<b>CAPÍTULO III — CONJUNTOS NUMÉRICOS</b> .....	40
I. Conjunto dos números naturais .....	40
II. Conjunto dos números inteiros .....	41
III. Conjunto dos números racionais .....	44
IV. Conjunto dos números reais .....	49
V. Intervalos .....	53
VI. Conjunto dos números complexos .....	56
VII. Resumo .....	56
Apêndice: Princípio da indução finita .....	57
Leitura: Eudóxio e os incomensuráveis .....	62



<b>CAPÍTULO IV — RELAÇÕES</b> .....	64
I. Par ordenado .....	64
II. Representação gráfica .....	65
III. Produto cartesiano .....	67
IV. Relação binária .....	71
V. Domínio e imagem .....	74
VI. Relação inversa .....	76
VII. Propriedades das relações .....	78
<b>CAPÍTULO V — INTRODUÇÃO ÀS FUNÇÕES</b> .....	79
I. Conceito de função .....	79
II. Definição de função .....	81
III. Notação das funções .....	84
IV. Domínio e imagem .....	88
V. Funções iguais .....	93
Leitura: Stevin e as frações decimais .....	95
<b>CAPÍTULO VI — FUNÇÃO CONSTANTE — FUNÇÃO AFIM</b> .....	97
I. Função constante .....	97
II. Função identidade .....	98
III. Função linear .....	98
IV. Função afim .....	100
V. Gráfico .....	100
VI. Imagem .....	105
VII. Coeficientes da função afim .....	106
VIII. Zero da função afim .....	108
IX. Funções crescentes e decrescentes .....	110
X. Crescimento/decrésimo da função afim .....	113
XI. Sinal de uma função .....	114
XII. Sinal da função afim .....	116
XIII. Inequações .....	121
XIV. Inequações simultâneas .....	126
XV. Inequações-produto .....	128
XVI. Inequações-quociente .....	135
<b>CAPÍTULO VII — FUNÇÕES QUADRÁTICAS</b> .....	138
I. Definição .....	138
II. Gráfico .....	138
III. Concavidade .....	140
IV. Forma canônica .....	140
V. Zeros .....	141
VI. Máximo e mínimo .....	146
VII. Vértice da parábola .....	148
VIII. Imagem .....	150
IX. Eixo de simetria .....	153
X. Informações que auxiliam a construção do gráfico .....	154
XI. Sinal da função quadrática .....	160
XII. Inequação do 2º grau .....	165
XIII. Comparação de um número real com as raízes da equação do 2º grau .....	173



XIV. Sinais das raízes da equação do 2º grau .....	180
Leitura: Dedekind e os números reais .....	183
<b>CAPÍTULO VIII — FUNÇÃO MODULAR</b> .....	185
I. Função definida por várias sentenças abertas .....	185
II. Módulo .....	188
III. Função modular .....	189
IV. Equações modulares .....	196
V. Inequações modulares .....	200
Leitura: Boole e a álgebra do pensamento .....	205
<b>CAPÍTULO IX — OUTRAS FUNÇÕES ELEMENTARES</b> .....	207
I. Função $f(x) = x^3$ .....	207
II. Função recíproca .....	208
III. Função máximo inteiro .....	212
<b>CAPÍTULO X — FUNÇÃO COMPOSTA — FUNÇÃO INVERSA</b> .....	214
I. Função composta .....	214
II. Função sobrejetora .....	222
III. Função injetora .....	223
IV. Função bijetora .....	224
V. Função inversa .....	234
Leitura: Bertrand Russel e o logicismo .....	249
<b>APÊNDICE I — EQUAÇÕES IRRACIONAIS</b> .....	251
<b>APÊNDICE II — INEQUAÇÕES IRRACIONAIS</b> .....	262
<b>RESPOSTAS DOS EXERCÍCIOS</b> .....	272
<b>TESTES DE VESTIBULARES</b> .....	315
<b>RESPOSTAS DOS TESTES</b> .....	379



# Noções de Lógica

## I. Proposição

**1.** Chama-se *proposição* ou *sentença* toda oração declarativa que pode ser classificada em verdadeira ou em falsa.

Observemos que toda proposição apresenta três características obrigatórias:

- 1ª) sendo oração, tem sujeito e predicado;
- 2ª) é declarativa (não é exclamativa nem interrogativa);
- 3ª) tem um, e somente um, dos dois valores lógicos: ou é verdadeira ( $V$ ) ou é falsa ( $F$ ).

### *Exemplos*

São proposições:

- a) Nove é diferente de cinco. ( $9 \neq 5$ )
- b) Sete é maior que três. ( $7 > 3$ )
- c) Dois é um número inteiro. ( $2 \in \mathbb{Z}$ )
- d) Três é divisor de onze. ( $3 \nmid 11$ )
- e) Quatro vezes cinco é igual a vinte. ( $4 \cdot 5 = 20$ )

Dessas proposições, todas são verdadeiras exceto *d*.



Não são consideradas proposições as frases:

- f) Três vezes cinco mais um. ( $3 \cdot 5 + 1$ )
- g) A raiz quadrada de dois é número racional? ( $\sqrt{2} \in \mathbb{Q}$ ?)
- h) O triplo de um número menos um é igual a onze. ( $3x - 1 = 11$ )

A frase  $f$  não tem predicado, a frase  $g$  é interrogativa e a frase  $h$  não pode ser classificada em verdadeira ou falsa.

## II. Negação

2. A partir de uma proposição  $p$  qualquer, sempre podemos construir outra, denominada *negação de  $p$*  e indicada com o símbolo  $\sim p$ .

*Exemplos*

- a)  $p$ : Nove é diferente de cinco. ( $9 \neq 5$ )  
 $\sim p$ : Nove é igual a cinco. ( $9 = 5$ )
- b)  $p$ : Sete é maior que três. ( $7 > 3$ )  
 $\sim p$ : Sete é menor ou igual a três. ( $7 \leq 3$ )
- c)  $p$ : Dois é um número inteiro. ( $2 \in \mathbb{Z}$ )  
 $\sim p$ : Dois não é um número inteiro. ( $2 \notin \mathbb{Z}$ )
- d)  $p$ : Três é divisor de onze. ( $3 \mid 11$ )  
 $\sim p$ : Três não é divisor de onze. ( $3 \nmid 11$ )
- e)  $p$ : Quatro vezes cinco é igual a vinte. ( $4 \cdot 5 = 20$ )  
 $\sim p$ : Quatro vezes cinco é diferente de vinte. ( $4 \cdot 5 \neq 20$ )

Para que  $\sim p$  seja realmente uma proposição devemos ser capazes de classificá-la em verdadeira ( $V$ ) ou falsa ( $F$ ). Para isso vamos postular (decretar) o seguinte critério de classificação:

A proposição  $\sim p$  tem sempre o valor oposto de  $p$ , isto é,  $\sim p$  é verdadeira quando  $p$  é falsa e  $\sim p$  é falsa quando  $p$  é verdadeira.

Esse critério está resumido na tabela ao lado, denominada *tabela-verdade* da proposição  $\sim p$ .

$p$	$\sim p$
V	F
F	V

Assim, reexaminando os exemplos anteriores, temos que  $\sim p$  é verdadeira no exemplo  $d$  e  $\sim p$  é falsa nos demais.



## EXERCÍCIOS

1. Quais das sentenças abaixo são proposições? No caso das proposições, quais são verdadeiras?
- |                                       |                         |
|---------------------------------------|-------------------------|
| a) $5 \cdot 4 = 20$                   | e) $1 + 3 \neq 1 + 6$   |
| b) $5 - 4 = 3$                        | f) $(-2)^5 \geq (-2)^3$ |
| c) $2 + 7 \cdot 3 = 5 \cdot 4 + 3$    | g) $3 + 4 > 0$          |
| d) $5(3 + 1) = 5 \cdot 3 + 5 \cdot 1$ | h) $11 - 4 \cdot 2$     |
2. Qual é a negação de cada uma das seguintes proposições? Que negações são verdadeiras?
- |                                   |  |
|-----------------------------------|--|
| a) $3 \cdot 7 = 21$               | e) $\left(\frac{1}{2}\right)^7 < \left(\frac{1}{2}\right)^3$ |
| b) $3 \cdot (11 - 7) \neq 5$      | f) $\sqrt{2} < 1$  |
| c) $3 \cdot 2 + 1 > 4$            | g) $-(-4) \geq 7$  |
| d) $5 \cdot 7 - 2 \leq 5 \cdot 6$ | h) $3 \mid 7$  |

### III. Proposição composta – Conectivos

A partir de proposições dadas podemos construir novas proposições mediante o emprego de dois símbolos lógicos chamados conectivos: conectivo  $\wedge$  (lê-se: e) e o conectivo  $\vee$  (lê-se: ou).

#### 3. Conectivo $\wedge$

Colocando o conectivo  $\wedge$  entre duas proposições  $p$  e  $q$ , obtemos uma nova proposição,  $p \wedge q$ , denominada *conjunção* das sentenças  $p$  e  $q$ .

*Exemplos*

- 1º)  $p: 2 > 0$   
 $q: 2 \neq 1$   
 $p \wedge q: 2 > 0$  e  $2 \neq 1$
- 2º)  $p: -2 < -1$   
 $q: (-2)^2 < (-1)^2$   
 $p \wedge q: -2 < -1$  e  $(-2)^2 < (-1)^2$



- 3º)  $p$ : um quadrado de lado  $a$  tem diagonal  $2a$   
 $q$ : um quadrado de lado  $a$  tem área  $a^2$   
 $p \wedge q$ : um quadrado de lado  $a$  tem diagonal  $2a$  e área  $a^2$

- 4º)  $p$ : 2|5 (2 é divisor de 5)  
 $q$ : 3|5 (3 é divisor de 5)  
 $p \wedge q$ : 2|5 e 3|5 (2 e 3 são divisores de 5)

Vamos postular um critério para estabelecer o valor lógico ( $V$  ou  $F$ ) de uma conjunção a partir dos valores lógicos (conhecidos) das proposições  $p$  e  $q$ :

A conjunção  $p \wedge q$  é verdadeira se  $p$  e  $q$  são ambas verdadeiras; se ao menos uma delas for falsa, então  $p \wedge q$  é falsa.

Esse critério está resumido na tabela ao lado, em que são examinadas todas as possibilidades para  $p$  e  $q$ . Essa tabela é denominada tabela-verdade da proposição  $p \wedge q$ .

$p$	$q$	$p \wedge q$
V	V	V
V	F	F
F	V	F
F	F	F

Reexaminando os exemplos anteriores, temos:

- 1º)  $p$ :  $2 > 0$  (V)  
 $q$ :  $2 \neq 1$  (V)  
 então:  
 $p \wedge q$ :  $2 > 0$  e  $2 \neq 1$  (V)

- 2º)  $p$ :  $-2 < -1$  (V)  
 $q$ :  $(-2)^2 < (-1)^2$  (F)  
 então:  
 $p \wedge q$ :  $-2 < -1$  e  $(-2)^2 < (-1)^2$  (F)

- 3º)  $p$ : um quadrado de lado  $a$  tem diagonal  $2a$  (F)  
 $q$ : um quadrado de lado  $a$  tem área  $a^2$  (V)  
 então:  
 $p \wedge q$ : um quadrado de lado  $a$  tem diagonal  $2a$  e área  $a^2$  (F)

- 4º)  $p$ : 2|5 (F)  
 $q$ : 3|5 (F)  
 então:  
 $p \wedge q$ : 2|5 e 3|5 (F)

#### 4. Conectivo $\vee$

Colocando o conectivo  $\vee$  entre duas proposições  $p$  e  $q$ , obtemos uma nova proposição,  $p \vee q$ , denominada *disjunção* das sentenças  $p$  e  $q$ .

##### Exemplos

1º)  $p$ :  $5 > 0$  (cinco é maior que zero)  
 $q$ :  $5 > 1$  (cinco é maior que um)  
 $p \vee q$ :  $5 > 0$  ou  $5 > 1$  (cinco é maior que zero ou maior que um)

2º)  $p$ :  $3 = 3$  (três é igual a três)  
 $q$ :  $3 < 3$  (três é menor que três)  
 $p \vee q$ :  $3 \leq 3$  (três é menor ou igual a três)

3º)  $p$ : 10 é número primo  
 $q$ : 10 é número composto  
 $p \vee q$ : 10 é número primo ou número composto

4º)  $p$ :  $3^4 < 2^6$   
 $q$ :  $2^2 < (-3)^5$   
 $p \vee q$ :  $3^4 < 2^6$  ou  $2^2 < (-3)^5$

Vamos postular um critério para decidir o valor lógico ( $V$  ou  $F$ ) de uma disjunção a partir dos valores lógicos (conhecidos) das proposições  $p$  e  $q$ :

A disjunção  $p \vee q$  é verdadeira se ao menos uma das proposições  $p$  ou  $q$  é verdadeira; se  $p$  e  $q$  são ambas falsas, então  $p \vee q$  é falsa.

Esse critério está resumido na tabela ao lado, denominada tabela-verdade da proposição  $p \vee q$ .

$p$	$q$	$p \vee q$
V	V	V
V	F	V
F	V	V
F	F	F

Revedo os exemplos anteriores, temos:

1º)  $p$ :  $5 > 0$  (V)  
 $q$ :  $5 > 1$  (V)  
então:  
 $p \vee q$ :  $5 > 0$  ou  $5 > 1$  (V)



2º)  $p: 3 = 3$  (V)

$q: 3 < 3$  (F)

então:

$p \vee q: 3 \leq 3$  (V)

3º)  $p: 10$  é número primo (F)

$q: 10$  é número composto (V)

então:

$p \vee q: 10$  é número primo ou composto (V)

4º)  $p: 3^4 < 2^6$  (F)

$q: 2^2 < (-3)^5$  (F)

então:

$p \vee q: 3^4 < 2^6$  ou  $2^2 < (-3)^5$  (F)

## EXERCÍCIO

3. Classifique em verdadeira ou falsa cada uma das seguintes proposições compostas:

a)  $3 > 1$  e  $4 > 2$

b)  $3 > 1$  ou  $3 = 1$

c)  $2|4$  ou  $2|(4 + 1)$

d)  $3(5 + 2) = 3 \cdot 5 + 3 \cdot 2$  e  $3|7$

e)  $\frac{1}{2} < \frac{3}{4}$  ou  $5|11$

f)  $(-1)^6 = -1$  e  $2^5 < (-2)^7$

g)  $\sqrt{16} = 6$  ou  $\text{mdc}(4, 7) = 2$

## IV. Condicionais

Ainda a partir de proposições dadas podemos construir novas proposições mediante o emprego de outros dois símbolos lógicos chamados *condicionais*: o condicional *se ... então ...* (símbolo:  $\rightarrow$ ) e o condicional *... se, e somente se, ...* (símbolo:  $\leftrightarrow$ ).

### 5. Condicional $\rightarrow$

Colocando o condicional  $\rightarrow$  entre duas proposições  $p$  e  $q$ , obtemos uma nova proposição,  $p \rightarrow q$ , que se lê: “se  $p$ , então  $q$ ”, “ $p$  é condição necessária para  $q$ ”, “ $q$  é condição suficiente para  $p$ ”.

No condicional  $p \rightarrow q$ , a proposição  $p$  é chamada *antecedente* e  $q$  é chamada *conseqüente*.

### Exemplos

- 1º)  $p$ : dois é divisor de quatro ( $2|4$ )  
 $q$ : quatro é divisor de vinte ( $4|20$ )  
 $p \rightarrow q$ : se dois é divisor de quatro, então quatro é divisor de vinte ( $2|4 \rightarrow 4|20$ )
- 2º)  $p$ : dois vezes cinco é igual a dez ( $2 \cdot 5 = 10$ )  
 $q$ : três é divisor de dez ( $3|10$ )  
 $p \rightarrow q$ : se dois vezes cinco é igual a dez, então três é divisor de dez ( $2 \cdot 5 = 10 \rightarrow 3|10$ )
- 3º)  $p$ : cinco é menor que dois ( $5 < 2$ )  
 $q$ : dois é número inteiro ( $2 \in \mathbb{Z}$ )  
 $p \rightarrow q$ : se cinco é menor que dois, então dois é número inteiro ( $5 < 2 \rightarrow 2 \in \mathbb{Z}$ )
- 4º)  $p$ : um meio é menor que um terço ( $\frac{1}{2} < \frac{1}{3}$ )  
 $q$ : três é igual a cinco ( $3 = 5$ )  
 $p \rightarrow q$ : se um meio é menor que um terço, então três é igual a cinco ( $\frac{1}{2} < \frac{1}{3} \rightarrow 3 = 5$ )

Vamos postular um critério de classificação para a proposição  $p \rightarrow q$  baseado nos valores lógicos de  $p$  e  $q$ :

O condicional  $p \rightarrow q$  é falso somente quando  $p$  é verdadeira e  $q$  é falsa; caso contrário,  $p \rightarrow q$  é verdadeiro.

Esse critério está resumido na tabela ao lado, denominada tabela-verdade da proposição  $p \rightarrow q$ .

$p$	$q$	$p \rightarrow q$
V	V	V
V	F	F
F	V	V
F	F	V

Revendando os exemplos dados, temos:

- 1º)  $p$  é  $V$  e  $q$  é  $V$ , então  $p \rightarrow q$  é  $V$ .  
 2º)  $p$  é  $V$  e  $q$  é  $F$ , então  $p \rightarrow q$  é  $F$ .  
 3º)  $p$  é  $F$  e  $q$  é  $V$ , então  $p \rightarrow q$  é  $V$ .  
 4º)  $p$  é  $F$  e  $q$  é  $F$ , então  $p \rightarrow q$  é  $V$ .



## 6. Condicional $\leftrightarrow$

Colocando o condicional  $\leftrightarrow$  entre duas proposições  $p$  e  $q$ , obtemos uma nova proposição,  $p \leftrightarrow q$ , que se lê: “ $p$  se, e somente se,  $q$ ”, “ $p$  é condição necessária e suficiente para  $q$ ”, “ $q$  é condição necessária e suficiente para  $p$ ” ou “se  $p$ , então  $q$  e reciprocamente”.

### Exemplos

1º)  $p$ :  $2 \mid 12$

$q$ :  $2 \cdot 7 \mid 12 \cdot 7$

$p \leftrightarrow q$ :  $2 \mid 12 \leftrightarrow 2 \cdot 7 \mid 12 \cdot 7$

2º)  $p$ :  $\frac{3}{2} = \frac{6}{4}$

$q$ :  $3 \cdot 4 \neq 6 \cdot 2$

$p \leftrightarrow q$ :  $\frac{3}{2} = \frac{6}{4} \leftrightarrow 3 \cdot 4 \neq 6 \cdot 2$

3º)  $p$ :  $6 = 12 : 3$

$q$ :  $3 \cdot 6 = 18$

$p \leftrightarrow q$ :  $6 = 12 : 3 \leftrightarrow 3 \cdot 6 = 18$

4º)  $p$ :  $4 \leq 3$

$q$ :  $4 \cdot 5 \leq 3 \cdot 5$

$p \leftrightarrow q$ :  $4 \leq 3 \leftrightarrow 4 \cdot 5 \leq 3 \cdot 5$

Vamos postular para o condicional  $p \leftrightarrow q$  o seguinte critério de classificação:

O condicional  $\leftrightarrow$  é verdadeiro somente quando  $p$  e  $q$  são ambas verdadeiras ou ambas falsas; se isso não acontecer, o condicional  $\leftrightarrow$  é falso.

Assim a tabela-verdade da proposição  $p \leftrightarrow q$  é a que está ao lado.

$p$	$q$	$p \leftrightarrow q$
V	V	V
V	F	F
F	V	F
F	F	V

Revedo os exemplos dados, temos:

1º)  $p$  é  $V$  e  $q$  é  $V$ , então  $p \leftrightarrow q$  é  $V$ .

2º)  $p$  é  $V$  e  $q$  é  $F$ , então  $p \leftrightarrow q$  é  $F$ .

3º)  $p$  é  $F$  e  $q$  é  $V$ , então  $p \leftrightarrow q$  é  $F$ .

4º)  $p$  é  $F$  e  $q$  é  $F$ , então  $p \leftrightarrow q$  é  $V$ .

## EXERCÍCIOS

4. Classifique em verdadeira ou falsa cada uma das proposições abaixo.
- |  |  |
|--|--|
| a) $2 - 1 = 1 \rightarrow 5 + 7 = 3 \cdot 4$               | e) $2 \mid 8 \rightarrow \text{mmc}(2, 8) = 2$                   |
| b) $2^2 = 4 \leftrightarrow (-2)^2 = 4$                    | f) $6 \leq 2 \leftrightarrow 6 - 2 \geq 0$                       |
| c) $5 + 7 \cdot 1 = 10 \rightarrow 3 \cdot 3 = 9$          | g) $\frac{3}{5} < \frac{2}{7} \rightarrow 3 \cdot 7 = 2 \cdot 5$ |
| d) $\text{mdc}(3, 6) = 1 \leftrightarrow 4$ é número primo |  |
5. Admitindo que  $p$  e  $q$  são verdadeiras e  $r$  é falsa, determine o valor ( $V$  ou  $F$ ) de cada proposição abaixo.
- |                                   |                                      |
|-----------------------------------|--------------------------------------|
| a) $p \rightarrow r$              | e) $p \rightarrow (q \rightarrow r)$ |
| b) $p \leftrightarrow q$          | f) $p \rightarrow (q \vee r)$        |
| c) $r \rightarrow p$              | g) $\sim p \leftrightarrow \sim q$   |
| d) $(p \vee r) \leftrightarrow q$ | h) $\sim p \leftrightarrow r$        |
6. Sendo a proposição  $p \rightarrow (r \vee s)$  falsa e a proposição  $(q \wedge \sim s) \leftrightarrow p$  verdadeira, classifique em verdadeira ou falsa as afirmações  $p$ ,  $q$ ,  $r$  e  $s$ .

## V. Tautologias

7. Seja  $v$  uma proposição formada a partir de outras ( $p$ ,  $q$ ,  $r$ , ...) mediante o emprego de conectivos ( $\vee$  ou  $\wedge$ ) ou de modificador ( $\sim$ ) ou de condicionais ( $\rightarrow$  ou  $\leftrightarrow$ ). Dizemos que  $v$  é uma *tautologia* ou *proposição logicamente verdadeira* quando  $v$  tem o valor lógico  $V$  (verdadeira) independentemente dos valores lógicos de  $p$ ,  $q$ , etc.

Assim a tabela-verdade de uma tautologia  $v$  apresenta só  $V$  na coluna de  $v$ .

*Exemplos*

1º)  $(p \wedge \sim p) \rightarrow (q \vee p)$  é uma tautologia, pois:

p	q	$\sim p$	$p \wedge \sim p$	$q \vee p$	$(p \wedge \sim p) \rightarrow (q \vee p)$
V	V	F	F	V	V
V	F	F	F	V	V
F	V	V	F	V	V
F	F	V	F	F	V



2º)  $\sim(p \wedge q) \leftrightarrow (\sim p \vee \sim q)$  é uma tautologia, pois:

p	q	$p \wedge q$	$\sim(p \wedge q)$	$\sim p$	$\sim q$	$\sim p \vee \sim q$	$\sim(p \wedge q) \leftrightarrow (\sim p \vee \sim q)$
V	V	V	F	F	F	F	V
V	F	F	V	F	V	V	V
F	V	F	V	V	F	V	V
F	F	F	V	V	V	V	V

## VI. Proposições logicamente falsas

8. Seja  $f$  uma proposição formada a partir de outras ( $p, q, r, \dots$ ) mediante o emprego de conectivos ( $\vee$  ou  $\wedge$ ), ou de modificador ( $\sim$ ) ou de condicionais ( $\rightarrow$  ou  $\leftrightarrow$ ). Dizemos que  $f$  é uma *proposição logicamente falsa* quando  $f$  tem o valor lógico  $F$  (falsa) independentemente dos valores lógicos de  $p, q$ , etc.

Assim, a tabela-verdade de uma proposição logicamente falsa  $f$  apresenta só  $F$  na coluna de  $f$ .

### Exemplos

1º)  $p \wedge \sim p$  é proposição logicamente falsa, pois:

p	$\sim p$	$p \wedge \sim p$
V	F	F
F	V	F

2º)  $(p \vee \sim q) \leftrightarrow (\sim p \wedge q)$

p	q	$\sim p$	$\sim q$	$p \vee \sim q$	$\sim p \wedge q$	$(p \vee \sim q) \leftrightarrow (\sim p \wedge q)$
V	V	F	F	V	F	F
V	F	F	V	V	F	F
F	V	V	F	F	V	F
F	F	V	V	V	F	F

## VII. Relação de implicação

**9.** Dadas as proposições  $p$  e  $q$ , dizemos que “ $p$  implica  $q$ ” quando na tabela de  $p$  e  $q$  não ocorre  $VF$  em nenhuma linha, isto é, quando não temos simultaneamente  $p$  verdadeira e  $q$  falsa.

Quando  $p$  implica  $q$ , indicamos  $p \Rightarrow q$ .

### Observações

1ª) Notemos que  $p$  implica  $q$  quando o condicional  $p \rightarrow q$  é verdadeiro.

2ª) Todo teorema é uma implicação da forma

hipótese  $\Rightarrow$  tese

Assim, demonstrar um teorema significa mostrar que não ocorre o caso de a hipótese ser verdadeira e a tese falsa.

### Exemplos

1º)  $2 \mid 4 \Rightarrow 2 \mid 4 \cdot 5$

significa dizer que o condicional “se 2 é divisor de 4, então 2 é divisor de  $4 \cdot 5$ ” é verdadeiro.

2º)  $p$  é positivo e primo  $\Rightarrow \text{mdc}(p, p^2) = p$

quer dizer que o condicional “se  $p$  é número primo e positivo, então o máximo divisor comum de  $p$  e  $p^2$  é  $p$ ” é verdadeiro.

## VIII. Relação de equivalência

**10.** Dadas as proposições  $p$  e  $q$ , dizemos que “ $p$  é equivalente a  $q$ ” quando  $p$  e  $q$  têm tabelas-verdades iguais, isto é, quando  $p$  e  $q$  têm sempre o mesmo valor lógico.

Quando  $p$  é equivalente a  $q$ , indicamos:  $p \Leftrightarrow q$ .

### Observações

1ª) Notemos que  $p$  equivale a  $q$  quando o condicional  $p \leftrightarrow q$  é verdadeiro.

2ª) Todo teorema, cujo recíproco também é verdadeiro, é uma equivalência.

hipótese  $\Leftrightarrow$  tese



*Exemplos*

1º)  $(p \rightarrow q) \Leftrightarrow (\sim q \rightarrow \sim p)$

p	q	$p \rightarrow q$	$\sim q$	$\sim p$	$\sim q \rightarrow \sim p$
V	V	V	F	F	V
V	F	F	V	F	F
F	V	V	F	V	V
F	F	V	V	V	V

2º)  $2 \mid 8 \Leftrightarrow \text{mdc}(2, 8) = 2$  significa dizer que é verdadeiro o bicondicional “2 é divisor de 8 se, e somente se, o máximo divisor comum de 2 e 8 é 2”.

## EXERCÍCIOS

7. Verifique, por meio das tabelas-verdades, a validade das equivalências abaixo.

a) da conjunção

$$p \wedge q \Leftrightarrow q \wedge p$$

$$(p \wedge q) \wedge r \Leftrightarrow p \wedge (q \wedge r)$$

$$p \wedge p \Leftrightarrow p$$

$$p \wedge v \Leftrightarrow p$$

$$p \wedge f \Leftrightarrow f$$

c) da conjunção relativamente à disjunção

$$p \wedge (q \vee r) \Leftrightarrow (p \wedge q) \vee (p \wedge r)$$

$$p \vee (q \wedge r) \Leftrightarrow (p \vee q) \wedge (p \vee r)$$

$$p \wedge (p \vee q) \Leftrightarrow p$$

$$p \vee (p \wedge q) \Leftrightarrow p$$

b) da disjunção

$$p \vee q \Leftrightarrow q \vee p$$

$$(p \vee q) \vee r \Leftrightarrow p \vee (q \vee r)$$

$$p \vee p \Leftrightarrow p$$

$$p \vee v \Leftrightarrow v$$

$$p \vee f \Leftrightarrow p$$

d) da negação

$$\sim(\sim p) \Leftrightarrow p$$

$$\sim(p \wedge q) \Leftrightarrow \sim p \vee \sim q$$

$$\sim(p \vee q) \Leftrightarrow \sim p \wedge \sim q$$

em que  $p, q, r$  são proposições quaisquer,  $v$  é uma tautologia e  $f$  uma proposição logicamente falsa.

## IX. Sentenças abertas, quantificadores

11. Há expressões como:

- a)  $x + 1 = 7$
- b)  $x > 2$
- c)  $x^3 = 2x^2$

que contêm variáveis e cujo valor lógico (verdadeira ou falsa) vai depender do valor atribuído à variável.

Nos exemplos citados temos:

- a)  $x + 1 = 7$  é verdadeira se trocarmos  $x$  por  $6$  e é falsa para qualquer outro valor dado a  $x$ ;
- b)  $x > 2$  é verdadeira, por exemplo, para  $x = 0$ ;
- c)  $x^3 = 2x^2$  é verdadeira se trocarmos  $x$  por  $0$  ( $0^3 = 2 \cdot 0^2$ ) ou  $2$  ( $2^3 = 2 \cdot 2^2$ ) e é falsa para qualquer outro valor dado a  $x$ .

Orações que contêm variáveis são chamadas *funções proporcionais* ou *sentenças abertas*. Tais orações não são proposições pois seu valor lógico ( $V$  ou  $F$ ) é discutível, dependem do valor dado às variáveis.

Há, entretanto, duas maneiras de transformar sentenças abertas em proposições:

- 1ª) atribuir valor às variáveis
- 2ª) utilizar quantificadores.

## 12. O quantificador universal

O quantificador universal, usado para transformar sentenças abertas em proposições, é indicado pelo símbolo  $\forall$ , que se lê: “qualquer que seja”, “para todo”, “para cada”.

### Exemplos

- 1º)  $(\forall x)(x + 1 = 7)$ , que se lê: “qualquer que seja o número  $x$ , temos  $x + 1 = 7$ ”. **(Falsa)**
- 2º)  $(\forall x)(x^3 = 2x^2)$ , que se lê: “para todo número  $x$ ,  $x^3 = 2x^2$ ”. **(Falsa)**
- 3º)  $(\forall a)((a + 1)^2 = a^2 + 2a + 1)$ , que se lê: “qualquer que seja o número  $a$ , temos  $(a + 1)^2 = a^2 + 2a + 1$ ”. **(Verdadeira)**
- 4º)  $(\forall y)(y^2 + 1 > 0)$ , que se lê: “para todo número  $y$ , temos  $y^2 + 1$  positivo”. **(Verdadeira)**

## 13. O quantificador existencial

O quantificador existencial é indicado pelo símbolo  $\exists$ , que se lê: “existe”, “existe pelo menos um”, “existe um”.

*Exemplos*

1º)  $(\exists x)(x + 1 = 7)$ , que se lê:

“existe um número  $x$  tal que  $x + 1 = 7$ ”. **(Verdadeira)**

2º)  $(\exists x)(x^3 = 2x^2)$ , que se lê:

“existe um número  $x$  tal que  $x^3 = 2x^2$ ”. **(Verdadeira)**

3º)  $(\exists a)(a^2 + 1 \leq 0)$ , que se lê:

“existe um número  $a$  tal que  $a^2 + 1$  é não positivo”. **(Falsa)**

4º)  $(\exists m)(m(m + 1) \neq m^2 + m)$ , que se lê:

“existe pelo menos um número  $m$  tal que  $m(m + 1) \neq m^2 + m$ ”. **(Falsa)**

**14.** Algumas vezes utilizamos também outro quantificador:  $\exists!$ , que se lê: “existe um único”, “existe um e um só”, “existe só um”.

*Exemplos*

1º)  $(\exists! x)(x + 1 = 7)$ , que se lê:

“existe um só número  $x$  tal que  $x + 1 = 7$ ”. **(Verdadeira)**

2º)  $(\exists! x)(x^3 = 2x^2)$ , que se lê:

“existe um só número  $x$  tal que  $x^3 = 2x^2$ ”. **(Falsa)**

3º)  $(\exists! x)(x + 2 > 3)$ , que se lê:

“existe um só número  $x$  tal que  $x + 2 > 3$ ”. **(Falsa)**

## EXERCÍCIO

**8.** Transforme as seguintes sentenças abertas em proposições verdadeiras usando quantificadores:

a)  $x^2 - 5x + 4 = 0$

e)  $-(-x) = x$

b)  $(a + 1)(a - 1) = a^2 - 1$

f)  $5a + 4 \leq 11$

c)  $\frac{y}{3} + \frac{y}{4} \neq \frac{y}{7}$

g)  $\sqrt{x^2} = x$

d)  $\sqrt{m^2} + 9 \neq m + 3$

h)  $\frac{a^2 - a}{a} = a - 1$



## X. Como negar proposições

Já vimos o que é a negação de uma proposição simples, no item II deste capítulo.

Vamos destacar aqui resultados obtidos no exercício 7, os quais constituem processos para negar proposições compostas e condicionais.

### 15. Negação de uma conjunção

Tendo em vista que  $\neg(p \wedge q) \Leftrightarrow \neg p \vee \neg q$ , podemos estabelecer que a negação de  $p \wedge q$  é a proposição  $\neg p \vee \neg q$ .

#### Exemplos

$$\begin{aligned} 1^\circ) & p: a \neq 0 \\ & q: b \neq 0 \\ & p \wedge q: a \neq 0 \text{ e } b \neq 0 \\ & \neg(p \wedge q): a = 0 \text{ ou } b = 0 \end{aligned}$$

$$\begin{aligned} 2^\circ) & p: 2|4 \\ & q: 3|9 \\ & p \wedge q: 2|4 \text{ e } 3|9 \\ & \neg(p \wedge q): 2 \nmid 4 \text{ ou } 3 \nmid 9 \end{aligned}$$

### 16. Negação de uma disjunção

Tendo em vista que  $\neg(p \vee q) \Leftrightarrow (\neg p \wedge \neg q)$ , podemos estabelecer que a negação de  $p \vee q$  é a proposição  $\neg p \wedge \neg q$ .

#### Exemplos

$$\begin{aligned} 1^\circ) & p: \text{o triângulo } ABC \text{ é isósceles} \\ & q: \text{o triângulo } ABC \text{ é equilátero} \\ & p \vee q: \text{o triângulo } ABC \text{ é isósceles ou equilátero} \\ & \neg(p \vee q): \text{o triângulo } ABC \text{ não é isósceles e não é equilátero} \end{aligned}$$

$$\begin{aligned} 2^\circ) & p: a = 0 \\ & q: b = 0 \\ & p \vee q: a = 0 \text{ ou } b = 0 \\ & \neg(p \vee q): a \neq 0 \text{ e } b \neq 0 \end{aligned}$$

### 17. Negação de um condicional simples

Já que  $\neg(p \rightarrow q) \Leftrightarrow p \wedge \neg q$ , podemos estabelecer que a negação de  $p \rightarrow q$  é a proposição  $p \wedge \neg q$ .

#### Exemplos

- 1º)  $p: 2 \in \mathbb{Z}$   
 $q: 2 \in \mathbb{Q}$   
 $p \rightarrow q: 2 \in \mathbb{Z} \rightarrow 2 \in \mathbb{Q}$   
 $\neg(p \rightarrow q): 2 \in \mathbb{Z}$  e  $2 \notin \mathbb{Q}$
- 2º)  $p: 5^2 = (-5)^2$   
 $q: 5 = -5$   
 $p \rightarrow q: 5^2 = (-5)^2 \rightarrow 5 = -5$   
 $\neg(p \rightarrow q): 5^2 = (-5)^2$  e  $5 \neq -5$

### 18. Negação de proposições quantificadas

a) Uma sentença quantificada com o quantificador universal, do tipo  $(\forall x)(p(x))$ , é negada assim: substitui-se o quantificador pelo existencial e nega-se  $p(x)$ , obtendo:  $(\exists x)(\neg p(x))$ .

#### Exemplos

- 1º) sentença:  $(\forall x)(x + 3 = 5)$   
 negação:  $(\exists x)(x + 3 \neq 5)$
- 2º) sentença:  $(\forall x)(x(x + 1) = x^2 + x)$   
 negação:  $(\exists x)(x(x + 1) \neq x^2 + x)$
- 3º) sentença:  $(\forall x)(\sqrt{x^2 + 1} = x + 1)$   
 negação:  $(\exists x)(\sqrt{x^2 + 1} \neq x + 1)$
- 4º) sentença: Todo losango é um quadrado.  
 negação: Existe um losango que não é quadrado.

b) Uma sentença quantificada com o quantificador existencial, do tipo  $(\exists x)(p(x))$ , é negada assim: substitui-se o quantificador pelo universal e nega-se  $p(x)$ , obtendo:  $(\forall x)(\neg p(x))$ .

#### Exemplos

- 1º) sentença:  $(\exists x)(x = x)$   
 negação:  $(\forall x)(x \neq x)$

$$2^{\circ}) \text{ sentença: } (\exists a) \left( a + \frac{1}{2} \geq \frac{1}{3} \right)$$

$$\text{negação: } (\forall a) \left( a + \frac{1}{2} < \frac{1}{3} \right)$$

$$3^{\circ}) \text{ sentença: } (\exists a) \left( \frac{1}{a} \in \mathbb{R} \right)$$

$$\text{negação: } (\forall a) \left( \frac{1}{a} \notin \mathbb{R} \right)$$

## EXERCÍCIOS

9. Diga qual é a negação de cada proposição abaixo.

a)  $\text{mdc}(2, 3) = 1$  ou  $\text{mmc}(2, 3) \neq 6$

b)  $\frac{3}{5} = \frac{6}{10}$  ou  $3 \cdot 10 \neq 6 \cdot 5$

c)  $\frac{3}{7} \geq 1$  e  $-3 \geq -7$

d)  $2^2 = 4 \rightarrow \sqrt{4} = 2$

e)  $(-3)^2 = 9 \rightarrow \sqrt{9} \neq -3$

f)  $2 \leq 5 \rightarrow 3^2 \leq 5^2$

g)  $(\forall x) (x > 2 \rightarrow 3^x > 3^2)$

h)  $(\exists x) (\sqrt{x} < 0)$

i) Todo número inteiro primo é ímpar.

j) Todo triângulo isósceles é equilátero.

k) Existe um losango que não é quadrado.

l) Existe um número cuja raiz quadrada é zero.

m) Todo triângulo que tem três ângulos congruentes tem três lados congruentes.

10. Classifique em  $V$  ou  $F$  as negações construídas no exercício anterior.



# Conjuntos

Faremos aqui uma revisão das principais noções da teoria dos conjuntos, naquilo que importa à Matemática Elementar. Em seguida usaremos essas noções para apresentar os principais conjuntos de números.

## I. Conjunto – Elemento – Pertinência

**19.** Na teoria dos conjuntos três noções são aceitas sem definição, isto é, são consideradas noções primitivas:

- a) conjunto
- b) elemento
- c) pertinência entre elemento e conjunto

A noção matemática de conjunto é praticamente a mesma que se usa na linguagem comum: é o mesmo que agrupamento, classe, coleção, sistema. Eis alguns exemplos:

- 1) conjunto das vogais
- 2) conjunto dos algarismos romanos
- 3) conjunto dos números ímpares positivos
- 4) conjunto dos planetas do sistema solar
- 5) conjunto dos números primos positivos
- 6) conjunto dos naipes das cartas de um baralho
- 7) conjunto dos nomes dos meses de 31 dias

Cada membro ou objeto que entra na formação do conjunto é chamado *elemento*. Assim, nos exemplos anteriores, temos os elementos:

- 1) a, e, i, o, u
- 2) I, V, X, L, C, D, M
- 3) 1, 3, 5, 7, 9, 11, ...
- 4) Mercúrio, Vênus, Terra, Marte, ...
- 5) 2, 3, 5, 7, 11, 13, ...
- 6) paus, ouros, copas, espadas
- 7) janeiro, março, maio, julho, agosto, outubro, dezembro

No exemplo 3, cada número ímpar é elemento do conjunto dos números ímpares, isto é, pertence ao conjunto. Em particular, 5 pertence ao conjunto dos números ímpares e 2 não pertence.

Um elemento de um conjunto pode ser uma letra, um número, um nome, etc. É importante notar que um conjunto pode ser elemento de outro conjunto. Por exemplo, o conjunto das seleções que disputam um campeonato mundial de futebol é um conjunto formado por equipes que, por sua vez, são conjuntos de jogadores.

Indicamos um conjunto, em geral, com uma letra maiúscula,  $A, B, C, \dots$ , e um elemento com uma letra minúscula,  $a, b, c, d, x, y, \dots$ .

Sejam  $A$  um conjunto e  $x$  um elemento. Se  $x$  pertence ao conjunto  $A$ , escrevemos:

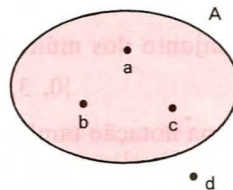
$$x \in A$$

Para indicar que  $x$  não é elemento do conjunto  $A$ , escrevemos:

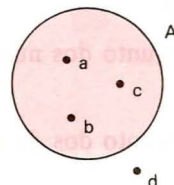
$$x \notin A$$

É habitual representar um conjunto pelos pontos interiores a uma linha fechada e não entrelaçada. Assim, na representação ao lado temos:

$$a \in A, b \in A \text{ e } d \notin A.$$



No caso de usarmos um círculo para representar um conjunto, estaremos usando o assim chamado diagrama de Euler-Venn.



## II. Descrição de um conjunto

Utilizamos dois recursos principais para descrever um conjunto e seus elementos: enumeramos (citamos, escrevemos) os elementos do conjunto ou damos uma propriedade característica dos elementos do conjunto.

### 20. Descrição pela citação dos elementos

Quando um conjunto é dado pela enumeração de seus elementos, devemos indicá-lo escrevendo seus elementos entre chaves.

#### *Exemplos*

- 1º) conjunto das vogais     {a, e, i, o, u}
- 2º) conjunto dos algarismos romanos     {I, V, X, L, C, D, M}
- 3º) conjunto dos nomes de meses de 31 dias  
      {janeiro, março, maio, julho, agosto, outubro, dezembro}

Essa notação também é empregada quando o conjunto é infinito: escrevemos alguns elementos que evidenciem a lei de formação e em seguida colocamos reticências.

#### *Exemplos*

- 1º) conjunto dos números ímpares positivos  
      {1, 3, 5, 7, 9, 11, 13, ...}
- 2º) conjunto dos números primos positivos  
      {2, 3, 5, 7, 11, 13, ...}
- 3º) conjunto dos múltiplos inteiros de 3  
      {0, 3, -3, 6, -6, 9, -9, ...}

A mesma notação também é empregada quando o conjunto é finito com grande número de elementos: escrevemos os elementos iniciais, colocamos reticências e indicamos o último elemento.

#### *Exemplos*

- 1º) conjunto dos números inteiros de 0 a 500  
      {0, 1, 2, 3, ..., 500}
- 2º) conjunto dos divisores positivos de 100  
      {1, 2, 5, 10, ..., 100}



## 21. Descrição por uma propriedade

Quando queremos descrever um conjunto  $A$  por meio de uma propriedade característica  $P$  de seus elementos  $x$ , escrevemos:

$$A = \{x \mid x \text{ tem a propriedade } P\}$$

e lemos: “ $A$  é o conjunto dos elementos  $x$  tal que  $x$  tem a propriedade  $P$ ”.

### Exemplos

1º)  $\{x \mid x \text{ é Estado da região Sul do Brasil}\}$  é uma maneira de indicar o conjunto:

{Paraná, Santa Catarina, Rio Grande do Sul}

2º)  $\{x \mid x \text{ é divisor inteiro de } 3\}$  é uma maneira de indicar o conjunto:  
{1, -1, 3, -3}

3º)  $\{x \mid x \text{ é inteiro e } 0 \leq x \leq 500\}$  pode também ser indicado por:  
{0, 1, 2, 3, ..., 500}

## III. Conjunto unitário – Conjunto vazio

22. Chama-se *conjunto unitário* aquele que possui um único elemento.

### Exemplos

1º) conjunto dos divisores de 1, inteiros e positivos: {1}

2º) conjunto das soluções da equação  $3x + 1 = 10$ : {3}

3º) conjunto dos Estados brasileiros que fazem fronteira com o Uruguai:  
{Rio Grande do Sul}

23. Chama-se *conjunto vazio* aquele que não possui elemento algum. O símbolo usual para o conjunto vazio é  $\emptyset$ .

Obtemos um conjunto vazio quando descrevemos um conjunto por meio de uma propriedade  $P$  logicamente falsa.

### Exemplos

1º)  $\{x \mid x \neq x\} = \emptyset$

2º)  $\{x \mid x \text{ é ímpar e múltiplo de } 2\} = \emptyset$

3º)  $\{x \mid x > 0 \text{ e } x < 0\} = \emptyset$

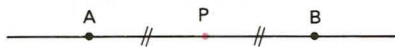
## IV. Conjunto universo

**24.** Quando vamos desenvolver um certo assunto de Matemática, admitimos a existência de um conjunto  $U$  ao qual pertencem todos os elementos utilizados no tal assunto. Esse conjunto  $U$  recebe o nome de *conjunto universo*.

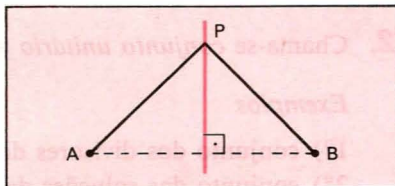
Assim, se procuramos as soluções reais de uma equação, nosso conjunto universo é  $\mathbb{R}$  (conjunto dos números reais); se estamos resolvendo um problema cuja solução vai ser um número inteiro, nosso conjunto universo é  $\mathbb{Z}$  (conjunto dos números inteiros); se estamos resolvendo um problema de Geometria Plana, nosso conjunto universo é um certo plano  $\alpha$ .

Quase sempre a resposta para algumas questões depende do universo  $U$  em que estamos trabalhando. Consideremos a questão: “Qual é o conjunto dos pontos  $P$  que ficam a igual distância de dois pontos dados  $A$  e  $B$ , sendo  $A \neq B$ ?”

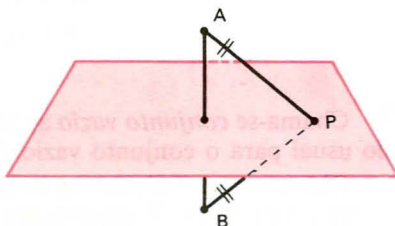
1) Se  $U$  é a reta  $AB$ , o conjunto procurado é formado só por  $P$ ;



2) Se  $U$  é um plano contendo  $A$  e  $B$ , o conjunto procurado é a reta mediatriz do segmento  $AB$ ;



3) Se  $U$  é o espaço, o conjunto procurado é o plano mediador do segmento  $AB$  (plano perpendicular a  $AB$  no seu ponto médio).



Portanto, quando vamos descrever um conjunto  $A$  através de uma propriedade  $P$ , é essencial fixarmos o conjunto universo  $U$  em que estamos trabalhando, escrevendo

$$A = \{x \in U \mid x \text{ tem a propriedade } P\}$$

# EXERCÍCIOS

11. Dê os elementos dos seguintes conjuntos:

A =  $\{x \mid x \text{ é letra da palavra } \textit{matemática}\}$

B =  $\{x \mid x \text{ é cor da bandeira brasileira}\}$

C =  $\{x \mid x \text{ é nome de Estado que começa com } a\}$

## Solução

A =  $\{m, a, t, e, i, c\}$

B =  $\{\text{branco, azul, amarelo, verde}\}$

C =  $\{\text{Amazonas, Amapá, Acre, Alagoas}\}$

12. Descreva por meio de uma propriedade característica dos elementos cada um dos conjuntos seguintes:

A =  $\{0, 2, 4, 6, 8, \dots\}$

B =  $\{0, 1, 2, \dots, 9\}$

C =  $\{\text{Brasília, Rio de Janeiro, Salvador}\}$

## Solução

A =  $\{x \mid x \text{ é inteiro, par e não negativo}\}$

B =  $\{x \mid x \text{ é algarismo arábico}\}$

C =  $\{x \mid x \text{ é nome de cidade que já foi capital do Brasil}\}$

13. Escreva com símbolos:

a) o conjunto dos múltiplos inteiros de 3, entre  $-10$  e  $+10$ ;

b) o conjunto dos divisores inteiros de 42;

c) o conjunto dos múltiplos inteiros de 0;

d) o conjunto das frações com numerador e denominador compreendidos entre 0 e 3;

e) o conjunto dos nomes das capitais da região Centro-Oeste do Brasil.

14. Descreva por meio de uma propriedade dos elementos:

A =  $\{+1, -1, +2, -2, +3, -3, +6, -6\}$

B =  $\{0, -10, -20, -30, -40, \dots\}$

C =  $\{1, 4, 9, 16, 25, 36, \dots\}$

D =  $\{\text{Lua}\}$



15. Quais dos conjuntos abaixo são unitários?

$$A = \left\{x \mid x < \frac{9}{4} \text{ e } x > \frac{6}{5}\right\}$$

$$B = \{x \mid 0 \cdot x = 2\}$$

$$C = \{x \mid x \text{ é inteiro e } x^2 = 3\}$$

$$D = \{x \mid 2x + 1 = 7\}$$

16. Quais dos conjuntos abaixo são vazios?

$$A = \{x \mid 0 \cdot x = 0\}$$

$$B = \left\{x \mid x > \frac{9}{4} \text{ e } x < \frac{6}{5}\right\}$$

$$C = \{x \mid x \text{ é divisor de zero}\}$$

$$D = \{x \mid x \text{ é divisível por zero}\}$$

## V. Conjuntos iguais

25. Dois conjuntos  $A$  e  $B$  são iguais quando todo elemento de  $A$  pertence a  $B$  e, reciprocamente, todo elemento de  $B$  pertence a  $A$ . Em símbolos:

$$A = B \iff (\forall x) (x \in A \iff x \in B)$$

### Exemplos

1º)  $\{a, b, c, d\} = \{d, c, b, a\}$

2º)  $\{1, 3, 5, 7, 9, \dots\} = \{x \mid x \text{ é inteiro, positivo e ímpar}\}$

3º)  $\{x \mid 2x + 1 = 5\} = \{2\}$

Observemos que na definição de igualdade entre conjuntos não intervém a noção de ordem entre os elementos; portanto:

$$\{a, b, c, d\} = \{d, c, b, a\} = \{b, a, c, d\}$$

Observemos ainda que a repetição de um elemento na descrição de um conjunto é algo absolutamente inútil, pois, por exemplo:

$$\{a, b, c, d\} = \{a, a, b, b, b, c, d, d, d, d\}$$

(para conferir basta usar a definição). Assim, preferimos sempre a notação mais simples.

**26.** Se  $A$  não é igual a  $B$ , escrevemos  $A \neq B$ . É evidente que  $A$  é diferente de  $B$  se existe um elemento de  $A$  não pertencente a  $B$  ou existe em  $B$  um elemento não pertencente a  $A$ .

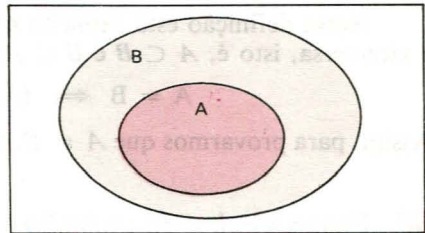
*Exemplo*

$$\{a, b, d\} \neq \{a, b, c, d\}$$

## VI. Subconjuntos

**27.** Um conjunto  $A$  é subconjunto de um conjunto  $B$  se, e somente se, todo elemento de  $A$  pertence também a  $B$ .

Com a notação  $A \subset B$  indicamos que “ $A$  é subconjunto de  $B$ ” ou “ $A$  está contido em  $B$ ” ou “ $A$  é parte de  $B$ ”.



O símbolo  $\subset$  é denominado *sinal de inclusão*.

Em símbolos, a definição fica assim:

$$A \subset B \iff (\forall x) (x \in A \implies x \in B)$$

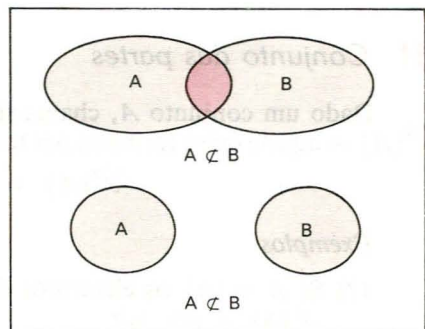
*Exemplos*

- 1º)  $\{a, b\} \subset \{a, b, c, d\}$
- 2º)  $\{a\} \subset \{a, b\}$
- 3º)  $\{a, b\} \subset \{a, b\}$
- 4º)  $\{x \mid x \text{ é inteiro e par}\} \subset \{x \mid x \text{ é inteiro}\}$

**28.** Quando  $A \subset B$ , também podemos escrever  $B \supset A$ , que se lê “ $B$  contém  $A$ ”.

Com a notação  $A \not\subset B$  indicamos que “ $A$  não está contido em  $B$ ”, isto é, a negação de  $A \subset B$ .

É evidente que  $A \not\subset B$  somente se existe ao menos um elemento de  $A$  que não pertence a  $B$ .



Assim, por exemplo, temos:

$$1^{\circ}) \{a, b, c\} \not\subset \{b, c, d, e\}$$

$$2^{\circ}) \{a, b\} \not\subset \{c, d, e\}$$

$$3^{\circ}) \{x \mid x \text{ é inteiro e par}\} \not\subset \{x \mid x \text{ é inteiro e primo}\}$$

### 29. Conjuntos iguais

Vimos anteriormente o conceito de igualdade de conjuntos:

$$A = B \iff (\forall x) (x \in A \iff x \in B).$$

Nessa definição está explícito que todo elemento de  $A$  é elemento de  $B$  e vice-versa, isto é,  $A \subset B$  e  $B \subset A$ ; portanto, podemos escrever:

$$A = B \iff (A \subset B \text{ e } B \subset A).$$

Assim, para provarmos que  $A = B$ , devemos provar que  $A \subset B$  e  $B \subset A$ .

### 30. Propriedades da inclusão

Sendo  $A, B$  e  $C$  três conjuntos arbitrários, valem as seguintes propriedades:

$$1^{\text{a}}) \emptyset \subset A$$

$$2^{\text{a}}) A \subset A \text{ (reflexiva)}$$

$$3^{\text{a}}) (A \subset B \text{ e } B \subset A) \Rightarrow A = B \text{ (anti-simétrica)}$$

$$4^{\text{a}}) (A \subset B \text{ e } B \subset C) \Rightarrow C \text{ (transitiva)}$$

A demonstração dessas propriedades é imediata, com exceção da 1.<sup>a</sup>, que passamos a provar. Para todo  $x$ , a implicação

$$x \in \emptyset \Rightarrow x \in A$$

é verdadeira, pois  $x \in \emptyset$  é falsa. Então, por definição de subconjunto,  $\emptyset \subset A$ .

### 31. Conjunto das partes

Dado um conjunto  $A$ , chama-se conjunto das partes de  $A$  — notação  $\mathcal{P}(A)$  — aquele que é formado por todos os subconjuntos de  $A$ . Em símbolos:

$$\mathcal{P}(A) = \{X \mid X \subset A\}$$

*Exemplos*

1.<sup>o</sup>) Se  $A = \{a\}$ , os elementos de  $\mathcal{P}(A)$  são  $\emptyset$  e  $\{a\}$ , isto é:  
 $\mathcal{P}(A) = \{\emptyset, \{a\}\}.$

2º) Se  $A = \{a, b\}$ , os elementos de  $\mathcal{P}(A)$  são  $\emptyset, \{a\}, \{b\}$  e  $\{a, b\}$ , isto é:  
 $\mathcal{P}(A) = \{\emptyset, \{a\}, \{b\}, \{a, b\}\}.$

3º) Se  $A = \{a, b, c\}$ , os elementos de  $\mathcal{P}(A)$  são  $\emptyset, \{a\}, \{b\}, \{c\}, \{a, b\}, \{a, c\}, \{b, c\}$  e  $\{a, b, c\}$ , isto é:

$$\mathcal{P}(A) = \{\emptyset, \{a\}, \{b\}, \{c\}, \{a, b\}, \{b, c\}, \{c, a\}, \{a, b, c\}\}.$$

## EXERCÍCIOS

17. Dados  $A = \{1, 2, 3, 4\}$  e  $B = \{2, 4\}$ ,

a) escreva com os símbolos da teoria dos conjuntos as seguintes sentenças:

1ª) 3 é elemento de  $A$

4ª)  $B$  é igual a  $A$

2ª) 1 não está em  $B$

5ª) 4 pertence a  $B$

3ª)  $B$  é parte de  $A$

b) classifique as sentenças anteriores em falsa ou verdadeira.

### Solução

1ª)  $3 \in A$  (V)

4ª)  $B = A$  (F)

2ª)  $1 \notin B$  (V)

5ª)  $4 \in B$  (V)

3ª)  $B \subset A$  (V)

18. Sendo  $A = \{1, 2\}$ ,  $B = \{2, 3\}$ ,  $C = \{1, 3, 4\}$  e  $D = \{1, 2, 3, 4\}$ , classifique em  $V$  ou  $F$  cada sentença abaixo e justifique.

a)  $A \subset D$

c)  $B \subset C$

e)  $C = D$

b)  $A \subset B$

d)  $D \supset B$

f)  $A \not\subset C$

### Solução

a) V, pois  $1 \in A$ ,  $1 \in D$ ,  $2 \in A$  e  $2 \in D$

b) F, pois  $1 \in A$  e  $1 \notin B$

c) F, pois  $2 \in B$  e  $2 \notin C$

d) V, pois  $2 \in B$ ,  $2 \in D$ ,  $3 \in B$  e  $3 \in D$

e) F, pois  $2 \in D$  e  $2 \notin C$

f) V, pois  $2 \in A$  e  $2 \notin C$



19. Quais das igualdades abaixo são verdadeiras?

- a)  $\{a, a, a, b, b\} = \{a, b\}$
- b)  $\{x|x^2 = 4\} = \{x|x \neq 0 \text{ e } x^3 - 4x = 0\}$
- c)  $\{x|2x + 7 = 11\} = \{2\}$
- d)  $\{x|x < 0 \text{ e } x \geq 0\} = \emptyset$

20. Diga se é verdadeira (V) ou falsa (F) cada uma das sentenças abaixo.

- a)  $0 \in \{0, 1, 2, 3, 4\}$
- b)  $\{a\} \in \{a, b\}$
- c)  $\emptyset \in \{0\}$
- d)  $0 \in \emptyset$
- e)  $\{a\} \subset \emptyset$
- f)  $a \in \{a, \{a\}\}$
- g)  $\{a\} \subset \{a, \{a\}\}$
- h)  $\emptyset \subset \{\emptyset, \{a\}\}$
- i)  $\emptyset \in \{\emptyset, \{a\}\}$
- j)  $\{a, b\} \in \{a, b, c, d\}$

21. Faça um diagrama de Venn que simbolize a situação seguinte:  $A, B, C, D$  são conjuntos não vazios,  $D \subset C \subset B \subset A$ .

22. Construa o conjunto das partes do conjunto  $A = \{a, b, c, d\}$ .

## VII. Reunião de conjuntos

32. Dados dois conjuntos  $A$  e  $B$ , chama-se *reunião* de  $A$  e  $B$  o conjunto formado pelos elementos que pertencem a  $A$  ou a  $B$ .

$$A \cup B = \{x|x \in A \text{ ou } x \in B\}$$

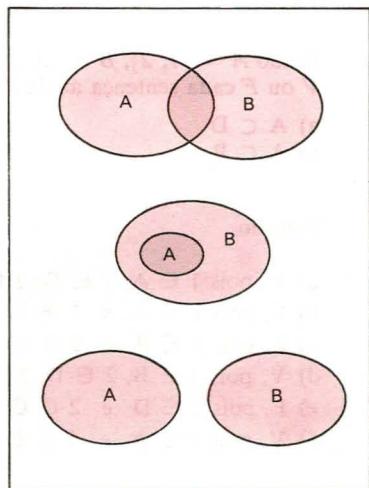
O conjunto  $A \cup B$  (lê-se “ $A$  reunião  $B$ ” ou “ $A$  u  $B$ ”) é formado pelos elementos que pertencem a pelo menos um dos conjuntos  $A$  e  $B$ .

Notemos que  $x$  é elemento de  $A \cup B$  se ocorrer ao menos uma das condições seguintes:

$$x \in A \text{ ou } x \in B.$$

### Exemplos

- 1º)  $\{a, b\} \cup \{c, d\} = \{a, b, c, d\}$
- 2º)  $\{a, b\} \cup \{a, b, c, d\} = \{a, b, c, d\}$
- 3º)  $\{a, b, c\} \cup \{c, d, e\} = \{a, b, c, d, e\}$
- 4º)  $\{a, b, c\} \cup \emptyset = \{a, b, c\}$
- 5º)  $\emptyset \cup \emptyset = \emptyset$



### 33. Propriedades da reunião

Seendo  $A$ ,  $B$  e  $C$  conjuntos quaisquer, valem as seguintes propriedades:

- 1ª)  $A \cup A = A$  (idempotente)
- 2ª)  $A \cup \emptyset = A$  (elemento neutro)
- 3ª)  $A \cup B = B \cup A$  (comutativa)
- 4ª)  $(A \cup B) \cup C = A \cup (B \cup C)$  (associativa)

*Demonstração*

Fazendo  $A = \{x \mid x \text{ tem a propriedade } p\}$  ou, simplesmente,  $A = \{x \mid p(x)\}$  e, ainda:  $B = \{x \mid Q(x)\}$ ,  $C = \{x \mid r(x)\}$  e  $\emptyset = \{x \mid f(x)\}$  em que  $f$  é proposição logicamente falsa, temos:

$$A \cup A = \{x \mid p(x) \text{ ou } p(x)\} = \{x \mid p(x)\} = A.$$

Analogamente, as demais decorrem das propriedades das proposições vistas no exercício 7.

## VIII. Interseção de conjuntos

**34.** Dados dois conjuntos  $A$  e  $B$ , chama-se *interseção* de  $A$  e  $B$  o conjunto formado pelos elementos que pertencem a  $A$  e a  $B$ .

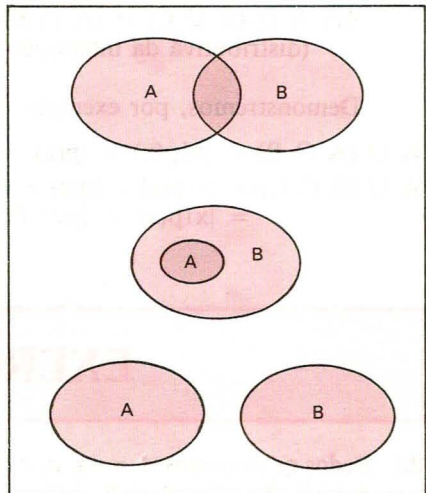
$$A \cap B = \{x \mid x \in A \text{ e } x \in B\}$$

O conjunto  $A \cap B$  (lê-se “ $A$  inter  $B$ ”) é formado pelos elementos que pertencem aos dois conjuntos ( $A$  e  $B$ ) *simultaneamente*.

Se  $x \in A \cap B$ , isso significa que  $x$  pertence a  $A$  e *também*  $x$  pertence a  $B$ . O *conectivo e* colocado entre duas condições significa que elas devem ser obedecidas *ao mesmo tempo*.

*Exemplos*

- 1º)  $\{a, b, c\} \cap \{b, c, d, e\} = \{b, c\}$
- 2º)  $\{a, b\} \cap \{a, b, c, d\} = \{a, b\}$
- 3º)  $\{a, b, c\} \cap \{a, b, c\} = \{a, b, c\}$
- 4º)  $\{a, b\} \cap \{c, d\} = \emptyset$
- 5º)  $\{a, b\} \cap \emptyset = \emptyset$



### 35. Propriedades da interseção

Sendo  $A$ ,  $B$  e  $C$  conjuntos quaisquer, valem as seguintes propriedades:

- 1ª)  $A \cap A = A$  (idempotente)
- 2ª)  $A \cap U = A$  (elemento neutro)
- 3ª)  $A \cap B = B \cap A$  (comutativa)
- 4ª)  $A \cap (B \cap C) = (A \cap B) \cap C$  (associativa)

Como mostramos para a operação de reunião, essas propriedades são também demonstráveis com auxílio do exercício 7.

### 36. Conjuntos disjuntos

Quando  $A \cap B = \emptyset$ , isto é, quando os conjuntos  $A$  e  $B$  não têm elemento comum,  $A$  e  $B$  são denominados *conjuntos disjuntos*.

## IX. Propriedades

**37.** Sendo  $A$ ,  $B$  e  $C$  conjuntos quaisquer, valem as seguintes propriedades, que inter-relacionam a reunião e a interseção de conjuntos:

- 1ª)  $A \cup (A \cap B) = A$
- 2ª)  $A \cap (A \cup B) = A$
- 3ª)  $A \cup (B \cap C) = (A \cup B) \cap (A \cup C)$   
(distributiva da reunião em relação à interseção)
- 4ª)  $A \cap (B \cup C) = (A \cap B) \cup (A \cap C)$   
(distributiva da interseção em relação à reunião).

Demonstremos, por exemplo, a 1ª e a 3ª:

$$\begin{aligned}
 A \cup (A \cap B) &= \{x | p(x) \vee (p(x) \wedge q(x))\} = \{x | (p(x))\} = A \\
 A \cup (B \cap C) &= \{x | p(x) \vee (q(x) \wedge r(x))\} = \{x | (p(x) \vee q(x)) \wedge (p(x) \vee r(x))\} = \\
 &= \{x | p(x) \vee q(x)\} \cap \{x | p(x) \vee r(x)\} = (A \cup B) \cap (A \cup C)
 \end{aligned}$$

## EXERCÍCIOS

**23.** Dados os conjuntos  $A = \{a, b, c\}$ ,  $B = \{c, d\}$  e  $C = \{c, e\}$ , determine  $A \cup B$ ,  $A \cup C$ ,  $B \cup C$  e  $A \cup B \cup C$ .

**24.** Prove que  $A \subset (A \cup B)$ ,  $\forall A$ .

**Solução**

$$x \in A \implies (x \in A \text{ ou } x \in B)$$

é uma implicação verdadeira,  $\forall x$ ; portanto:  $A \subset (A \cup B)$ .

**25.** Classifique em  $V$  ou  $F$ :

a)  $\emptyset \subset (A \cup B)$

d)  $(A \cup B) \subset (A \cup B)$

b)  $(A \cup B) \subset A$

e)  $B \subset (A \cup B)$

c)  $A \supset (A \cup B)$

f)  $(A \cup B) \subset (A \cup B \cup C)$

admitindo que  $A$ ,  $B$  e  $C$  são conjuntos quaisquer.

**26.** Determine a reunião dos círculos de raio  $r$ , contidos num plano  $\alpha$  e que têm um ponto comum  $\theta \in \alpha$ .

**27.** Determine a reunião das retas de um plano  $\alpha$  que são paralelas a uma dada reta  $r$  de  $\alpha$ .

**28.** Dados os conjuntos  $A = \{a, b, c, d\}$ ,  $B = \{b, c, d, e\}$  e  $C = \{c, e, f\}$ , descreva  $A \cap B$ ,  $A \cap C$ ,  $B \cap C$  e  $A \cap B \cap C$ .

**29.** Prove que  $(A \cap B) \subset A$ ,  $\forall A$ .

**Solução**

$$x \in (A \cap B) \implies (x \in A \text{ e } x \in B) \implies x \in A$$

é uma implicação verdadeira,  $\forall x$ ; portanto:  $(A \cap B) \subset A$ .

**30.** Classifique em  $V$  ou  $F$ :

a)  $\emptyset \subset (A \cap B)$

b)  $A \subset (A \cap B)$

c)  $A \in (A \cap B)$

d)  $(A \cap B) \subset (A \cap B)$

e)  $(A \cap B) \subset B$

f)  $(A \cap B) \supset (A \cap B \cap C)$

admitindo que  $A$ ,  $B$  e  $C$  são conjuntos quaisquer.



31. Considere os conjuntos:

$K$  = conjunto dos quadriângulos planos

$P = \{x \in K \mid x \text{ tem lados } 2 \text{ a } 2 \text{ paralelos}\}$

$L = \{x \in K \mid x \text{ tem } 4 \text{ lados congruentes}\}$

$R = \{x \in K \mid x \text{ tem } 4 \text{ ângulos retos}\}$

$Q = \{x \in K \mid x \text{ tem } 4 \text{ lados congruentes e } 2 \text{ ângulos retos}\}$

Determine os conjuntos:

a)  $L \cap P$

c)  $L \cap R$

e)  $L \cap Q$

b)  $R \cap P$

d)  $Q \cap R$

f)  $P \cup Q$

32. Dados os conjuntos  $A = \{1, 2, 3\}$ ,  $B = \{3, 4\}$  e  $C = \{1, 2, 4\}$ , determine o conjunto  $X$  tal que  $X \cup B = A \cup C$  e  $X \cap B = \emptyset$ .

**Solução**

a)  $X \cup B = \{1, 2, 3, 4\}$ , então os possíveis elementos de  $X$  são: 1, 2, 3 e 4.

b)  $X \cap B = \emptyset \Rightarrow 3 \notin X$  e  $4 \notin X$

Conclusão  $X = \{1, 2\}$ .

33. Determine o conjunto  $X$  tal que:

$$\{a, b, c, d\} \cup X = \{a, b, c, d, e\}, \{c, d\} \cup X = \{a, c, d, e\} \text{ e}$$

$$\{b, c, d\} \cap X = \{c\}.$$

34. Sabe-se que  $A \cup B \cup C = \{n \in \mathbb{N} \mid 1 \leq n \leq 10\}$ ,  $A \cap B = \{2, 3, 8\}$ ,  $A \cap C = \{2, 7\}$ ,  $B \cap C = \{2, 5, 6\}$  e  $A \cup B = \{n \in \mathbb{N} \mid 1 \leq n \leq 8\}$ . Determine  $C$ .

35. Determine o número de conjuntos  $X$  que satisfazem a relação  $\{1, 2\} \subset X \subset \{1, 2, 3, 4\}$ .

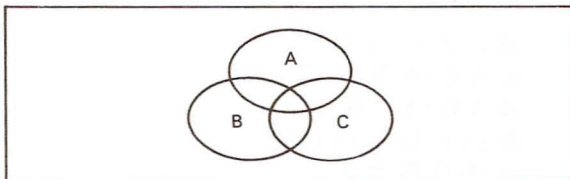
36. Assinale no diagrama abaixo, um de cada vez, os seguintes conjuntos:

a)  $A \cap B \cap C$

b)  $A \cap (B \cup C)$

c)  $A \cup (B \cap C)$

d)  $A \cup B \cup C$



37. Sejam os conjuntos  $A$  com 2 elementos,  $B$  com 3 elementos,  $C$  com 4 elementos. Qual é o número máximo de elementos de  $(A \cap B) \cap C$ ?

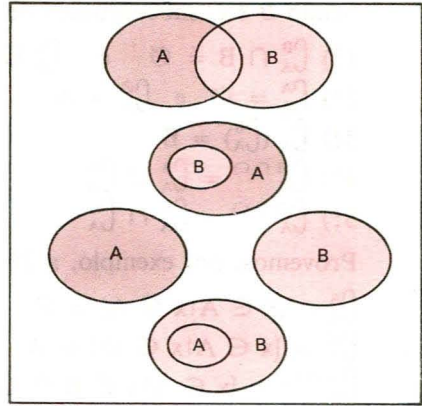
## X. Diferença de conjuntos

**38.** Dados dois conjuntos  $A$  e  $B$ , chama-se *diferença* entre  $A$  e  $B$  o conjunto formado pelos elementos de  $A$  que não pertencem a  $B$ .

$$A - B = \{x | x \in A \text{ e } x \notin B\}$$

*Exemplos*

- 1º)  $\{a, b, c\} - \{b, c, d, e\} = \{a\}$
- 2º)  $\{a, b, c\} - \{b, c\} = \{a\}$
- 3º)  $\{a, b\} - \{c, d, e, f\} = \{a, b\}$
- 4º)  $\{a, b\} - \{a, b, c, d, e\} = \emptyset$



## XI. Complementar de $B$ em $A$

**39.** Dados dois conjuntos  $A$  e  $B$ , tais que  $B \subset A$ , chama-se *complementar de  $B$  em relação a  $A$*  o conjunto  $A - B$ , isto é, o conjunto dos elementos de  $A$  que não pertencem a  $B$ .

Com o símbolo

$$\overset{B}{\underset{A}{C}} \text{ ou } \bar{B}$$

indicamos o complementar de  $B$  em relação a  $A$ .

Notemos que  $\overset{B}{\underset{A}{C}}$  só é definido para  $B \subset A$ , e aí temos:

$$\overset{B}{\underset{A}{C}} = A - B$$

*Exemplos*

1º) Se  $A = \{a, b, c, d, e\}$  e  $B = \{c, d, e\}$ , então:

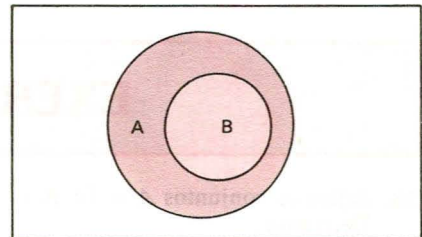
$$\overset{B}{\underset{A}{C}} = \{a, b\}$$

2º) Se  $A = \{a, b, c, d\} = B$ , então:

$$\overset{B}{\underset{A}{C}} = \emptyset$$

3º) Se  $A = \{a, b, c, d\}$  e  $B = \emptyset$ , então:

$$\overset{B}{\underset{A}{C}} = \{a, b, c, d\} = A$$



**40. Propriedades da complementação**

Sejam  $B$  e  $C$  subconjuntos de  $A$ , valem as seguintes propriedades:

1ª)  $\complement_A^B \cap B = \emptyset$  e  $\complement_A^B \cup B = A$

2ª)  $\complement_A^A = \emptyset$  e  $\complement_A^\emptyset = A$

3ª)  $\complement_A(\complement_A^B) = B$

4ª)  $\complement_A^{(B \cap C)} = \complement_A^B \cup \complement_A^C$

5ª)  $\complement_A^{(B \cup C)} = \complement_A^B \cap \complement_A^C$

Provemos, por exemplo, a 2ª e a 4ª:

$$\complement_A^A = \{x \in A \mid x \notin A\} = \emptyset$$

$$\complement_A^\emptyset = \{x \in A \mid x \notin \emptyset\} = A$$

$$\begin{aligned} \complement_A^{(B \cap C)} &= \{x \in A \mid x \notin B \cap C\} = \{x \in A \mid x \notin B \text{ ou } x \notin C\} = \\ &= \{x \in A \mid x \notin B\} \cup \{x \in A \mid x \notin C\} = \complement_A^B \cup \complement_A^C \end{aligned}$$

## EXERCÍCIOS

**38.** Sejam os conjuntos  $A = \{a, b, c, d\}$ ,  $B = \{c, d, e, f, g\}$  e  $C = \{b, d, e, g\}$ . Determine:

a)  $A - B$

c)  $C - B$

e)  $A - (B \cap C)$

b)  $B - A$

d)  $(A \cup C) - B$

f)  $(A \cup B) - (A \cap C)$

**39.** Prove que  $(A - B) \subset A$ ,  $\forall A$ .

**Solução**

A implicação  $x \in (A - B) \implies (x \in A \text{ e } x \notin B) \implies x \in A$  é verdadeira para todo  $x$ , então  $(A - B) \subset A$ .

**40.** Classifique em  $V$  ou  $F$  as sentenças:

a)  $(A - B) \supset \emptyset$

c)  $(A - B) \subset B$

b)  $(A - B) \cup (A \cap B) = A$

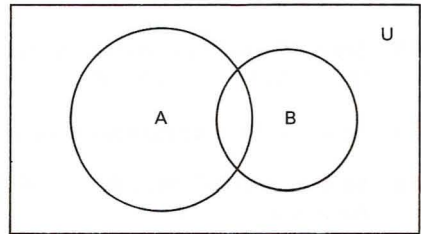
d)  $(A - B) \subset (A \cup B)$

admitindo que  $A$  e  $B$  são conjuntos quaisquer.

41. Dados os conjuntos  $A = \{1, 2, 3, 4, 5\}$ ,  $B = \{1, 2, 4, 6, 8\}$  e  $C = \{2, 4, 5, 7\}$ , obtenha um conjunto  $X$  tal que  $X \subset A$  e  $A - X = B \cap C$ .

42. Assinale no diagrama ao lado, um de cada vez, os seguintes conjuntos:

- a)  $\overline{A} - B$
- b)  $\overline{A} - A \cup B$
- c)  $\overline{B} \cup A$
- d)  $\overline{A \cup B}$
- e)  $\overline{A \cap B}$
- f)  $\overline{B} \cap A$



43. Prove que  $A - \overline{B} = A \cap B$ , em que  $A$  e  $B$  são conjuntos quaisquer do universo  $U$ .

**Solução**

A implicação

$$x \in (A - \overline{B}) \iff (x \in A \text{ e } x \notin \overline{B}) \iff (x \in A \text{ e } x \in B) \iff x \in A \cap B \text{ é verdadeira, } \forall x; \text{ portanto, está provado.}$$

44. Classifique em  $V$  ou  $F$  as seguintes sentenças:

- a)  $(A - B) \cup (B - A) = (A \cup B) - (A \cap B)$
- b)  $A \subset B \implies (\bigcap B) \subset (\bigcap A)$
- c)  $(A - B) \subset (\bigcap A)$
- d)  $(A - B) \subset (\bigcap B)$

45. Sendo  $E = \{1, 2, 3, 4, 5, 6, 7, 8\}$ ,  $p(y) : y + 1 \leq 6$  e  $F = \{y \in E \mid y \text{ satisfaz } p(y)\}$ , determine  $\overline{F}$ .

46. Descreva os elementos dos conjuntos abaixo:

- A =  $\{x \mid x^2 - 5x - 6 = 0\}$
- B =  $\{x \mid x \text{ é letra da palavra } \textit{exercício}\}$
- C =  $\{x \mid x^2 - 9 = 0 \text{ ou } 2x - 1 = 9\}$
- D =  $\{x \mid 2x + 1 = 0 \text{ e } 2x^2 - x - 1 = 0\}$
- E =  $\{x \mid x \text{ é algarismo do número } 234\,543\}$

47. Seja  $E = \{a, \{a\}\}$ . Diga quais das proposições abaixo são verdadeiras.

- a)  $a \in E$
- b)  $\{a\} \in E$
- c)  $a \subset E$
- d)  $\{a\} \subset E$
- e)  $\emptyset \in E$
- f)  $\emptyset \subset E$



48. Sejam  $A$  e  $B$  dois conjuntos finitos. Prove que

$$n_{A \cup B} = n_A + n_B - n_{A \cap B}.$$

O símbolo  $n_X$  representa o número de elementos do conjunto  $X$ .

49. Dados  $A$  e  $B$  conjuntos tais que  $n(A) = 4$ ,  $n(B) = 5$ , e  $n(A \cap B) = 3$ , determine o número de subconjuntos de  $A \cup B$ .

50. Sendo  $A$ ,  $B$  e  $C$  conjuntos finitos, estabeleça uma fórmula para calcular  $n_{A \cup B \cup C}$ .

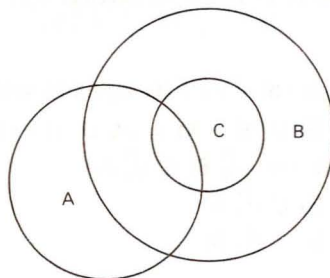
51. Se  $A = \{3n \mid n \in \mathbb{N}\}$  e  $B = \{n \in \mathbb{N} \mid n \text{ é divisor de } 120\}$ , qual é o número de elementos de  $A \cap B$ ?

52. Em uma escola que tem 415 alunos, 221 estudam inglês, 163 estudam francês e 52 estudam ambas as línguas. Quantos alunos estudam inglês ou francês? Quantos alunos não estudam nenhuma das duas?

53. Denotando-se por  $X'$  o complementar de um conjunto qualquer  $X$ , determine o conjunto  $[P' \cup (P \cap Q)]$ , quaisquer que sejam os conjuntos  $P$  e  $Q$ .

54. Considerando os conjuntos  $A$ ,  $B$  e  $C$ , representados ao lado, e sabendo que

- $n(A \cup B) = 24$
- $n(A \cap B) = 4$
- $n(B \cup C) = 16$
- $n(A - C) = 11$
- $n(B - C) = 10$ , calcule:



- a)  $n(A - B)$
- b)  $n(A \cap B \cap C)$
- c)  $n(B - (C \cup A))$
- d)  $n((A \cap B) - C)$
- e)  $n(B - (A \cap B))$

55. Sabendo que  $A$  e  $B$  são subconjuntos de  $U$ ,

$\bar{A} = \{e, f, g, h, i\}$ ,  $A \cap B = \{c, d\}$ ,  $A \cup B = \{a, b, c, d, e, f\}$ , responda: Quantos elementos tem  $A$ ? e  $B$ ?

Obs.:  $\bar{A}$  é o complementar de  $A$  em  $U$ .

56. Uma população consome três marcas de sabão em pó:  $A$ ,  $B$  e  $C$ . Feita uma pesquisa de mercado, colheram-se os resultados tabelados abaixo:

marca	A	B	C	A e B	B e C	C e A	A, B e C	nenhuma das três
número de consumidores	109	203	162	25	41	28	5	115

Forneça:

- a) o número de pessoas consultadas;
- b) o número de pessoas que só consomem a marca  $A$ ;
- c) o número de pessoas que não consomem as marcas  $A$  ou  $C$ ;
- d) o número de pessoas que consomem ao menos duas marcas.

**57.** Determine os conjuntos  $A$ ,  $B$  e  $C$  que satisfazem as seguintes seis condições:

1ª)  $A \cup B \cup C = \{z, x, v, u, t, s, r, q, p\}$

2ª)  $A \cap B = \{r, s\}$

3ª)  $B \cap C = \{s, x\}$

4ª)  $C \cap A = \{s, t\}$

5ª)  $A \cup C = \{p, q, r, s, t, u, v, x\}$

6ª)  $A \cup B = \{p, q, r, s, t, x, z\}$

**58.** Em certa comunidade há indivíduos de três raças: branca, preta e amarela. Sabendo que 70 são brancos, 350 são não pretos e 50% são amarelos, responda:

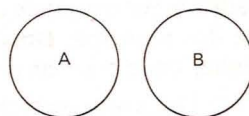
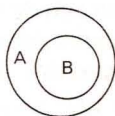
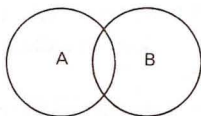
- a) quantos indivíduos tem a comunidade?
- b) quantos são os indivíduos amarelos?

**59.** De todos os empregados de uma firma, 30% optaram por um plano de assistência médica. A firma tem a matriz na capital e somente duas filiais, uma em Santos e outra em Campinas. 45% dos empregados trabalham na matriz e 20% dos empregados trabalham na filial de Santos. Sabendo que 20% dos empregados da capital optaram pelo plano de assistência médica e que 35% dos empregados da filial de Santos o fizeram, qual a porcentagem dos empregados da filial de Campinas que optaram pelo plano?

**60.** Dados dois conjuntos  $A$  e  $B$ , chama-se diferença simétrica de  $A$  com  $B$  o conjunto  $A \triangle B$  tal que:

$$A \triangle B = (A - B) \cup (B - A).$$

- a) Determine  $\{a, b, c, d\} \triangle \{c, d, e, f, g\}$ .
- b) Prove que  $A \triangle \emptyset = A$ , para todo  $A$ .
- c) Prove que  $A \triangle A = \emptyset$ , para todo  $A$ .
- d) Prove que  $A \triangle B = B \triangle A$ , para  $A$  e  $B$  quaisquer.
- e) Assinale em cada diagrama abaixo o conjunto  $A \triangle B$ .



**61.** Desenhe um diagrama de Venn representando quatro conjuntos,  $A$ ,  $B$ ,  $C$  e  $D$ , não vazios, de modo que se tenha:

$$A \not\subset B, B \not\subset A, C \supset (A \cup B) \text{ e } D \subset (A \cap B).$$

## LEITURA

## Cantor e a Teoria dos Conjuntos

Hygino H. Domingues

A natureza do infinito é uma questão antiga e controversa. Arquimedes (287-212 a.C.) fazia distinção entre *infinito potencial* e *infinito atual*. Este último, que vem a ser o infinito como algo completo, era descartado por não haver nenhuma evidência de que alguma coleção de objetos pudesse corresponder a tal idéia. O conjunto  $\mathbb{N}$ , por outro lado, é um exemplo de conjunto potencialmente infinito, pois sempre se pode somar uma unidade a cada um de seus elementos obtendo-se outro número natural.

No século XVII Galileu comparou os conjuntos  $\mathbb{N}^* = \{1, 2, 3, \dots\}$  e  $P = \{2, 4, 6, \dots\}$ . E assinalou que, se a idéia de infinito atual fosse válida, haveria tantos números pares e ímpares reunidos quanto pares apenas, posto que a correspondência  $1 \rightarrow 2, 2 \rightarrow 4, 3 \rightarrow 6, \dots, n \rightarrow 2n, \dots$  de  $\mathbb{N}^*$  em  $P$  é, como se diz hoje, biunívoca. Este aparente paradoxo deve tê-lo levado a deixar de lado tais cogitações.

Aliás, a idéia de infinito atual, por ter conotações de ordem religiosa, não era aceita também por certos teólogos (São Tomás de Aquino, por exemplo) que viam em Deus a única natureza absolutamente infinita. E isso deve ter contribuído para que sua adoção fosse retardada em Matemática.

Curiosamente, quem tirou a Matemática dessa camisa-de-força foi um homem de profunda fé religiosa, Georg Cantor (1845-1918). Cantor nasceu na Rússia, na cidade de São Petersburgo, mas aos 11 anos mudou-se com sua família para a Alemanha, onde se fixou. Em 1862 iniciou o curso de Engenharia em Zurique mas, depois de um semestre, deixou-o para fazer Matemática em Berlim, em cuja universidade obteve o grau de doutor no ano de 1867 com uma tese sobre teoria dos números. Dois anos depois foi admitido na Universidade de Halle, onde transcorreria sua carreira acadêmica.

Dedicando-se entre 1870 e 1872 a pesquisas na área de análise matemática, Cantor acabou tendo sua atenção atraída para um assunto com o qual seu espírito tinha especial afinidade: a natureza dos conjuntos infinitos. E de sua opção por este caminho nasceria a teoria dos conjuntos como capítulo autônomo da Matemática.




Em 1872, o matemático alemão Dedekind dera o primeiro passo nesse sentido com a seguinte definição (aqui em terminologia moderna): “Um conjunto se diz infinito se pode ser colocado em correspondência biunívoca com uma parte própria de si mesmo”. Ou seja, aquilo que a Galileu parecera um paradoxo tornava-se a propriedade fundamental dos conjuntos infinitos, com todas as suas implicações.

O grande mérito de Cantor foi perceber, a partir daí, a existência de conjuntos infinitos de espécies diferentes, numa escala de grandeza. Se dois conjuntos, como  $\mathbb{N}^*$  e  $\mathbb{P}$ , podem ser colocados em correspondência biunívoca, diz-se que ambos têm mesma *potência*. E foi através dessas potências que Cantor hierarquizou o infinito. Na primeira categoria da escala do infinito estão todos os conjuntos com a mesma potência de  $\mathbb{N}^*$ , entre os quais estão  $\mathbb{P}$ ,  $\mathbb{Z}$  e, surpreendentemente, o próprio  $\mathbb{Q}$ . Estes são os conjuntos *enumeráveis*. A seqüência a seguir, em que os números são ordenados pela sua *altura* (= numerador + denominador), dá uma idéia do porquê de  $\mathbb{Q}^*$  ser também enumerável:

$1/1, 1/2, 2/1, 1/3, 2/2, 3/1, 1/4, 2/3, 3/2, 4/1, \dots$

Cantor mostrou que  $\mathbb{R}$  e  $\mathbb{C}$  têm a mesma potência e que esta é superior à dos enumeráveis. E mostrou ainda que a escala do infinito não tem limites: sempre há potências maiores e maiores.

Certos resultados obtidos por Cantor surpreenderam a ele mesmo. Sob esse ponto de vista é possível entender o porquê das duras críticas que recebeu de importantes matemáticos de seu tempo. Mas, para o progresso da Matemática, prevaleceram opiniões como a de Hilbert: “Do paraíso criado por Cantor ninguém nos tirará”.



Georg Ferdinand Ludwig Philipp Cantor  
(1845-1918).



# Conjuntos Numéricos

## I. Conjunto dos números naturais

**41.** Chama-se conjunto dos números naturais — símbolo  $\mathbb{N}$  — o conjunto formado pelos números  $0, 1, 2, 3, \dots$ .

$$\mathbb{N} = \{0, 1, 2, 3, \dots\}$$

Neste conjunto são definidas duas operações fundamentais, a adição e a multiplicação, que apresentam as seguintes propriedades:

**[A.1]** *associativa da adição*

$$(a + b) + c = a + (b + c)$$

para todos,  $a, b, c \in \mathbb{N}$ .

**[A.2]** *comutativa da adição*

$$a + b = b + a$$

para todos  $a, b \in \mathbb{N}$ .

**[A.3]** *elemento neutro da adição*

$$a + 0 = a$$

para todo  $a \in \mathbb{N}$ .

**[M.1]** *associativa da multiplicação*

$$(ab)c = a(bc)$$

para todos  $a, b, c \in \mathbb{N}$ .

**[M.2]** *comutativa da multiplicação*

$$ab = ba$$

para todos  $a, b \in \mathbb{N}$ .

**[M.3]** *elemento neutro da multiplicação*

$$a \cdot 1 = a$$

para todo  $a \in \mathbb{N}$ .

**[D]** *distributiva da multiplicação relativamente à adição*

$$a(b + c) = ab + ac$$

para todos  $a, b, c \in \mathbb{N}$ .

Veremos que os próximos conjuntos numéricos a serem apresentados são ampliações de  $\mathbb{N}$ , isto é, contêm  $\mathbb{N}$ , têm uma adição e uma multiplicação com as propriedades formais já apresentadas e outras mais, que constituem justamente o motivo determinante da ampliação.

Assim, dado um natural  $a \neq 0$ , o simétrico de  $a$  não existe em  $\mathbb{N}$ :  $-a \notin \mathbb{N}$ . O resultado disso é que o símbolo  $a - b$  não tem significado em  $\mathbb{N}$  para todos  $a, b \in \mathbb{N}$ , isto é, em  $\mathbb{N}$  a subtração não é uma operação. Venceremos essa dificuldade introduzindo um novo conjunto numérico.

## EXERCÍCIOS

62. Seja  $H$  o conjunto  $\{n \in \mathbb{N} \mid 2 \leq n \leq 40, n \text{ múltiplo de } 2, n \text{ não múltiplo de } 3\}$ . Qual é o número de elementos de  $H$ ?
63. Um subconjunto  $X$  de números naturais contém 12 múltiplos de 4, 7 múltiplos de 6, 5 múltiplos de 12 e 8 números ímpares. Qual é o número de elementos de  $X$ ?
64. Sendo  $A = \{n \mid n = 2p - 1 \text{ e } p \in B\}$ , qual é a condição sobre  $B$  para que  $n$  seja um número natural ímpar?

## II. Conjunto dos números inteiros

42. Chama-se conjunto dos números inteiros — símbolo  $\mathbb{Z}$  — o seguinte conjunto:

$$\mathbb{Z} = \{\dots, -3, -2, -1, 0, 1, 2, 3, \dots\}$$

No conjunto  $\mathbb{Z}$  distinguimos três subconjuntos notáveis:

$$\mathbb{Z}_+ = \{0, 1, 2, 3, \dots\} = \mathbb{N}$$

(chamado conjunto dos inteiros não negativos)

$$\mathbb{Z}_- = \{0, -1, -2, -3, \dots\}$$

(chamado conjunto dos inteiros não positivos)

$$\mathbb{Z}^* = \{\dots, -3, -2, -1, 1, 2, 3, \dots\}$$

(chamado conjunto dos inteiros não nulos).

### 43. Operações em $\mathbb{Z}$

No conjunto  $\mathbb{Z}$  são definidas também as operações de adição e multiplicação que apresentam, além de [A.1], [A.2], [A.3], [M.1], [M.2], [M.3] e [D], a propriedade:

**[A.4]** *simétrico ou oposto para a adição*

Para todo  $a \in \mathbb{Z}$  existe  $-a \in \mathbb{Z}$  tal que

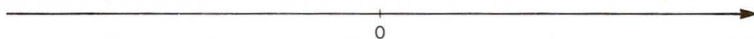
$$a + (-a) = 0.$$

Devido à propriedade [A.4], podemos definir em  $\mathbb{Z}$  a operação de subtração, estabelecendo que  $a - b = a + (-b)$  para todos  $a, b \in \mathbb{Z}$ .

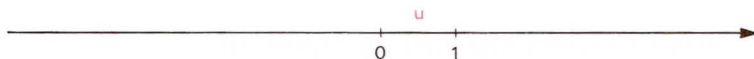
### 44. Os números inteiros e a reta

Os números inteiros podem ser representados sobre uma reta orientada por meio do seguinte procedimento:

a) sobre a reta estabelecemos um sentido positivo e um ponto  $O$  (origem), que representa o inteiro  $0$  (zero):

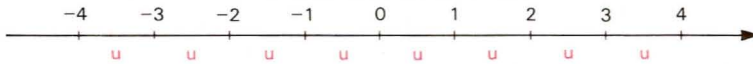


b) a partir de  $0$ , no sentido positivo, marcamos um segmento unitário  $u \neq 0$  cuja extremidade passará a representar o inteiro  $1$ :



c) para cada inteiro positivo  $n$ , a partir de  $0$ , marcamos um segmento de medida  $nu$  no sentido positivo cuja extremidade representará  $n$  e marcamos um segmento de medida  $nu$  no sentido negativo cuja extremidade representará o inteiro  $-n$ .

O resultado é este:



### 45. Divisibilidade

Uma importante noção que devemos ter sobre números inteiros é o conceito de divisor.

Dizemos que o inteiro  $a$  é divisor do inteiro  $b$  — símbolo  $a|b$  — quando existe um inteiro  $c$  tal que  $ca = b$ .

$$a|b \iff (\exists c \in \mathbb{Z} \mid ca = b)$$

#### Exemplos

- 1º)  $2 \mid 12$  pois  $6 \cdot 2 = 12$
- 2º)  $3 \mid -18$  pois  $(-6) \cdot 3 = -18$
- 3º)  $-5 \mid 20$  pois  $(-4) \cdot (-5) = 20$
- 4º)  $-2 \mid -14$  pois  $7 \cdot (-2) = -14$
- 5º)  $4 \mid 0$  pois  $0 \cdot 4 = 0$
- 6º)  $0 \mid 0$  pois  $1 \cdot 0 = 0$

Quando  $a$  é divisor de  $b$ , dizemos que “ $b$  é divisível por  $a$ ” ou “ $b$  é múltiplo de  $a$ ”.

Para um inteiro  $a$  qualquer, indicamos com  $D(a)$  o conjunto de seus divisores e com  $M(a)$  o conjunto de seus múltiplos.

#### Exemplos

- 1º)  $D(2) = \{1, -1, 2, -2\}$        $M(2) = \{0, \pm 2, \pm 4, \pm 6, \dots\}$
- 2º)  $D(-3) = \{1, -1, 3, -3\}$        $M(-3) = \{0, \pm 3, \pm 6, \pm 9, \dots\}$
- 3º)  $D(0) = \mathbb{Z}$        $M(0) = \{0\}$

Dizemos que um número inteiro  $p$  é primo quando  $p \neq 0, 1$  e  $-1$  e  $D(p) = \{1, -1, p, -p\}$ .

#### Exemplos

$2, -2, 3, -3, 5, -5, 7$  e  $-7$  são primos.



## EXERCÍCIOS

- 65.** Quais das proposições abaixo são verdadeiras?
- |                                    |   |                                |
|------------------------------------|---|--------------------------------|
| a) $0 \in \mathbb{N}$              | d) $\mathbb{N} \cup \mathbb{Z}_- = \mathbb{Z}$  | g) $(-4)(-5) \in \mathbb{Z}_+$ |
| b) $(2 - 3) \in \mathbb{N}$        | e) $\mathbb{Z}_+ \cap \mathbb{Z}_- = \emptyset$ | h) $0 \in \mathbb{Z}_-$        |
| c) $\mathbb{N} \subset \mathbb{Z}$ | f) $(-3)^2 \in \mathbb{Z}_-$                    | i) $(5 - 11) \in \mathbb{Z}$   |
- 66.** Descreva os seguintes conjuntos:  $D(6)$ ,  $D(-18)$ ,  $D(-24) \cap D(16)$ ,  $M(4)$ ,  $M(10)$  e  $M(-9) \cap M(6)$ .
- 67.** Quais dos seguintes elementos de  $\mathbb{Z}$  não são primos:  $12$ ,  $-13$ ,  $0$ ,  $5$ ,  $31$ ,  $-1$ ,  $2$ ,  $-4$ ,  $1$ ,  $49$  e  $53$ ?
- 68.** Sendo  $a$  e  $b$  dois números inteiros, responda:
- a)  $D(a)$  e  $D(b)$  podem ser disjuntos?
  - b) Que nome se dá a um inteiro  $m$  tal que  $D(a) \cap D(b) = D(m)$ ?
  - c) Quando  $D(a) \cap D(b) = \{1, -1\}$ , qual é a relação existente entre  $a$  e  $b$ ?
  - d) Em que caso ocorre  $M(a) \subset M(b)$ ?
  - e) Em que caso ocorre  $M(a) \cap M(b) = M(ab)$ ?
  - f) Que nome se dá a um inteiro  $n$  tal que  $M(a) \cap M(b) = M(n)$ ?
- 69.** Determine os seguintes números inteiros:
- |                |                  |                  |
|----------------|------------------|------------------|
| a) mdc (2, 3)  | c) mdc (-6, -14) | e) mmc (-4, 6)   |
| b) mdc (-4, 6) | d) mmc (2, 3)    | f) mmc (-6, -14) |

### III. Conjunto dos números racionais

Dado um número inteiro  $q \neq 1$  e  $-1$ , o inverso de  $q$  não existe em  $\mathbb{Z}$ :  $\frac{1}{q} \notin \mathbb{Z}$ . Por isso não podemos definir em  $\mathbb{Z}$  a operação de divisão, dando significado ao símbolo  $\frac{p}{q}$ . Vamos superar essa dificuldade introduzindo os números racionais.

- 46.** Chama-se conjunto dos números racionais — símbolo  $\mathbb{Q}$  — o conjunto dos pares ordenados (ou frações)  $\frac{a}{b}$ , em que  $a \in \mathbb{Z}$  e  $b \in \mathbb{Z}^*$ , para os quais adotam-se as seguintes definições:

$$1^{\text{a}}) \text{ igualdade: } \frac{a}{b} = \frac{c}{d} \iff ad = bc$$

$$2^{\text{a}}) \text{ adição: } \frac{a}{b} + \frac{c}{d} = \frac{ad + bc}{bd}$$

$$3^{\text{a}}) \text{ multiplicação: } \frac{a}{b} \cdot \frac{c}{d} = \frac{ac}{bd}$$

No conjunto dos racionais destacamos os subconjuntos:

$\mathbb{Q}_+$  = conjunto dos racionais não negativos

$\mathbb{Q}_-$  = conjunto dos racionais não positivos

$\mathbb{Q}^*$  = conjunto dos racionais não nulos

Na fração  $\frac{a}{b}$ ,  $a$  é o numerador e  $b$  o denominador. Se  $a$  e  $b$  são primos entre si, isto é, se  $\text{mdc}(a, b) = 1$ , dizemos que  $\frac{a}{b}$  é uma fração irredutível. Assim, as frações  $\frac{2}{3}$ ,  $\frac{3}{7}$  e  $\frac{7}{15}$  são irredutíveis, mas  $\frac{6}{10}$  não é.

Consideremos o conjunto  $\mathbb{Q}'$  formado pelos números racionais com denominador unitário:  $\mathbb{Q}' = \left\{ \frac{x}{1} \mid x \in \mathbb{Z} \right\}$ . Temos:

$$\frac{a}{1} = \frac{b}{1} \iff a = b$$

$$\frac{a}{1} + \frac{b}{1} = \frac{a + b}{1} \iff a + b = a + b$$

$$\frac{a}{1} \cdot \frac{b}{1} = \frac{a \cdot b}{1} \iff a \cdot b = a \cdot b$$

portanto, os racionais com denominador igual a 1 comportam-se para a igualdade, a adição e a multiplicação como se fossem números inteiros. Assim, fazendo o racional  $\frac{x}{1}$  coincidir com o inteiro  $x$ , decorre que:

$$\mathbb{Q}' = \mathbb{Z}, \quad \text{logo,} \quad \mathbb{Z} \subset \mathbb{Q}.$$

#### 47. Operações em $\mathbb{Q}$

Pode-se verificar que a adição e a multiplicação de racionais apresentam as seguintes propriedades:

$$[\text{A.1}] \quad \left( \frac{a}{b} + \frac{c}{d} \right) + \frac{e}{f} = \frac{a}{b} + \left( \frac{c}{d} + \frac{e}{f} \right)$$

$$[A.2] \quad \frac{a}{b} + \frac{c}{d} = \frac{c}{d} + \frac{a}{b}$$

$$[A.3] \quad \frac{a}{b} + 0 = \frac{a}{b}$$

$$[A.4] \quad \frac{a}{b} + \left(-\frac{a}{b}\right) = 0$$

$$[M.1] \quad \left(\frac{a}{b} \cdot \frac{c}{d}\right) \cdot \frac{e}{f} = \frac{a}{b} \left(\frac{c}{d} \cdot \frac{e}{f}\right)$$

$$[M.2] \quad \frac{a}{b} \cdot \frac{c}{d} = \frac{c}{d} \cdot \frac{a}{b}$$

$$[M.3] \quad \frac{a}{b} \cdot 1 = \frac{a}{b}$$

$$[D] \quad \frac{a}{b} \cdot \left(\frac{c}{d} + \frac{e}{f}\right) = \frac{a}{b} \cdot \frac{c}{d} + \frac{a}{b} \cdot \frac{e}{f}$$

em que  $\frac{a}{b}$ ,  $\frac{c}{d}$  e  $\frac{e}{f}$  são racionais quaisquer; portanto, são válidas as mesmas propriedades formais vistas para os números inteiros. Além dessas, temos também a seguinte:

**[M.4]** *simétrico ou inverso para a multiplicação*

para todo  $\frac{a}{b} \in \mathbb{Q}$  e  $\frac{a}{b} \neq 0$ , existe

$$\frac{b}{a} \in \mathbb{Q} \quad \text{tal que} \quad \frac{a}{b} \cdot \frac{b}{a} = 1.$$

Devido à propriedade [M.4], podemos definir em  $\mathbb{Q}^*$  a operação de divisão, estabelecendo que  $\frac{a}{b} : \frac{c}{d} = \frac{a}{b} \cdot \frac{d}{c}$  para  $\frac{a}{b}$  e  $\frac{c}{d}$  racionais quaisquer não nulos.

## 48. Representação decimal

Notemos que todo número racional  $\frac{a}{b}$  pode ser representado por um número decimal. Passa-se um número racional  $\frac{a}{b}$  para a forma de número decimal dividindo o inteiro  $a$  pelo inteiro  $b$ . Na passagem de uma notação para outra podem ocorrer dois casos:

1º) o número decimal tem uma quantidade finita de algarismos, diferentes de zero, isto é, é uma decimal exata.

*Exemplos*

$$\frac{3}{1} = 3 \quad \frac{1}{2} = 0,5 \quad \frac{1}{20} = 0,05 \quad \frac{27}{1\,000} = 0,027$$

2º) o número decimal tem uma quantidade infinita de algarismos que se repetem periodicamente, isto é, é uma dízima periódica.

*Exemplos*

$$\frac{1}{3} = 0,333\dots = 0,\bar{3} \text{ (período 3)}$$

$$\frac{2}{7} = 0,285714285714\dots = 0,285714 \text{ (período 285714)}$$

$$\frac{11}{6} = 1,8333\dots = 1,8\bar{3} \text{ (período 3)}$$

Podemos notar também que todo número na forma de decimal exata ou de dízima periódica pode ser convertido à forma de fração  $\frac{a}{b}$  e, portanto, representa um número racional.

Quando a decimal é exata, podemos transformá-lo em uma fração cujo numerador é o numeral decimal sem a vírgula e cujo denominador é o algarismo 1 seguido de tantos zeros quantas forem as casas decimais do numeral dado.

*Exemplos*

$$0,37 = \frac{37}{100} \quad 2,631 = \frac{2631}{1\,000} \quad 63,4598 = \frac{634598}{10\,000}$$

Quando a decimal é uma dízima periódica, devemos procurar sua geratriz. Damos a seguir três exemplos de como obter a geratriz de uma dízima periódica

*Exemplo 1:* 0,777...

$$\left. \begin{array}{l} x = 0,777\dots \\ 10x = 7,777\dots \end{array} \right\} \Rightarrow 10x - x = 7 \Rightarrow x = \frac{7}{9}$$

$$\text{então: } 0,777\dots = \frac{7}{9}.$$

*Exemplo 2:* 6,4343...

$$\left. \begin{array}{l} x = 6,434343\dots \\ 100x = 643,434343\dots \end{array} \right\} \Rightarrow 100x - x = 637 \Rightarrow x = \frac{637}{99}$$

$$\text{então: } 6,434343\dots = \frac{637}{99}.$$



Exemplo 3: 2,57919191...

$$\left. \begin{array}{l} x = 2,57919191\dots \\ 100x = 257,919191\dots \\ 10\,000x = 25791,919191\dots \end{array} \right\} \begin{array}{l} \Rightarrow 10\,000x - 100x = 25\,534 \Rightarrow \\ \Rightarrow x = \frac{25\,534}{9\,900} \end{array}$$

então:  $2,57919191\dots = \frac{25\,534}{9\,900}$ .

## EXERCÍCIOS

**70.** Quais das seguintes proposições são verdadeiras?

a)  $\mathbb{N} \subset \mathbb{Q}$

e)  $0,474747\dots \in \mathbb{Q}$

i)  $\frac{14}{2} \in \mathbb{Q} - \mathbb{Z}$

b)  $\mathbb{Z} \subset \mathbb{Q}$

f)  $\left\{ \frac{4}{7}, \frac{11}{3} \right\} \subset \mathbb{Q}$

j)  $\frac{21}{14}$  é irredutível

c)  $0 \in \mathbb{Q}$

g)  $1 \in \mathbb{Q} - \mathbb{Z}$

k)  $\frac{121}{147} < \frac{131}{150}$

d)  $517 \in \mathbb{Q}$

h)  $\frac{2}{7} \in \mathbb{Q} - \mathbb{Z}$

l)  $r \in \mathbb{Q} \Rightarrow -r \in \mathbb{Q}$

**71.** Coloque na forma de uma fração irredutível os seguintes números racionais: 0,4; 0,444...; 0,32; 0,323232...; 54,2; 5,423423423...

**72.** Coloque em ordem crescente os seguintes números racionais:  $\frac{15}{16}$ ,  $\frac{11}{12}$ ,  $\frac{18}{19}$ , 1,  $\frac{47}{48}$  e  $\frac{2}{3}$ .

**73.** Mostre que, se  $r_1$  e  $r_2$  são racionais e  $r_1 < r_2$ , então existe um racional  $r$  tal que  $r_1 < r < r_2$ .

**74.** Represente sobre uma reta orientada os seguintes números racionais:  $-2$ ,  $-\frac{3}{2}$ ,  $-1$ ,  $-\frac{1}{4}$ ,  $0$ ,  $\frac{2}{3}$ ,  $1$ ,  $\frac{4}{3}$ ,  $2$ ,  $\frac{7}{3}$  e  $\frac{6}{2}$ .

**75.** Calcule o valor de:

a)  $\frac{0,2 \cdot 0,7 - 4 \cdot 0,01}{0,5 \cdot 0,2}$

b)  $0,999\dots + \frac{1}{5} + \frac{1}{3} - \frac{3}{5} - \frac{1}{15}$

- 76.** Na minha calculadora, a tecla da divisão não funciona. Nessa situação, para dividir um número por 40, usando a calculadora, eu devo multiplicar 40 por qual número?
- 77.** Considere o número  $\alpha = 1 + \frac{4}{10} + \frac{1}{10^2} + \frac{1}{10^3} + \frac{1}{10^4} + \dots$ .  
Se ele for racional, coloque-o na forma decimal e na forma de fração irredutível.
- 78.** Suponha que um país *A* tem uma renda *per capita* anual de 20 000 dólares e uma população de 50 milhões de habitantes. Um outro país *B* tem uma renda *per capita* de 10 000 dólares e uma população de 20 milhões. Se os dois países se fundirem para formar um novo país, a renda *per capita* resultante estará mais próxima de qual valor?
- 79.** A pressão *P* e o volume *V* de um gás perfeito mantido a uma temperatura constante satisfazem a Lei de Boyle  $PV = \text{constante}$ . Se aumentarmos a pressão em 25%, em quantos por cento diminuirá o volume do gás?

## IV. Conjunto dos números reais

### 49. Números irracionais

Existem números cuja representação decimal com infinitas casas decimais não é periódica. Por exemplo, o numeral decimal 0,101001 0001... (em que o número de algarismos 0 intercalados entre os algarismos 1 vai crescendo) é não periódico. Ele representa um número *não* racional. Ele representa um *número irracional*.

Outros exemplos de números irracionais:

1,234567891011

6,202002000...

34,56789101112...

**50.** Chama-se conjunto dos números reais — **IR** — aquele formado por todos os números com representação decimal, isto é, as decimais exatas ou periódicas (que são números racionais) e as decimais não exatas e não periódicas (chamadas números irracionais).

Dessa forma, todo número racional é número real, ou seja:

$$\mathbb{Q} \subset \mathbb{R}.$$

Além dos racionais, estão em  $\mathbb{R}$  números como:

$$\begin{aligned}\sqrt{2} &= 1,4142136\dots \\ \pi &= 3,1415926\dots \\ a &= 1,010010001\dots\end{aligned}$$

chamados *números irracionais*.

Se quisermos outros números irracionais, poderemos obtê-los, por exemplo, por meio da expressão  $\sqrt{p}$ , em que  $p$  é primo e positivo. São irracionais:  $\sqrt{3}$ ,  $\sqrt{5}$ ,  $\sqrt{7}$ , etc.

Outro recurso para construção de irracionais é usar o fato de que, se  $\alpha$  é irracional e  $r$  é racional não nulo, então:  $\alpha + r$ ,  $\alpha \cdot r$ ,  $\frac{\alpha}{r}$  e  $\frac{r}{\alpha}$  são todos irracionais.

*Exemplos*

$$\sqrt{2} + 1, 3\sqrt{2}, \frac{\sqrt{3}}{2}, \frac{3}{\sqrt{5}} \text{ são irracionais.}$$

Além de  $\mathbb{Q}$ , destacamos em  $\mathbb{R}$  três outros subconjuntos:

$\mathbb{R}_+$  = conjunto dos reais não negativos

$\mathbb{R}_-$  = conjunto dos reais não positivos

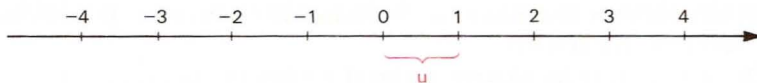
$\mathbb{R}^*$  = conjunto dos reais não nulos.

## 51. Operações em $\mathbb{R}$

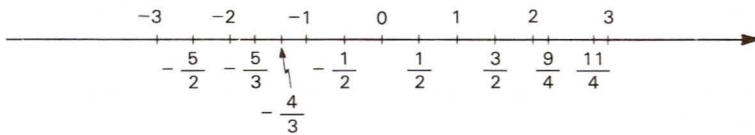
As operações de adição e multiplicação em  $\mathbb{R}$  gozam das mesmas propriedades vistas para o conjunto  $\mathbb{Q}$ . Em  $\mathbb{R}$  é também definida a operação de subtração e em  $\mathbb{R}^*$  é definida a divisão.

## 52. Os números reais e a reta

Já vimos que os números inteiros podem ser representados por pontos de uma reta:

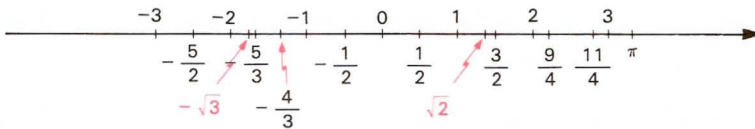


Analogamente, os números racionais não inteiros também podem. Se queremos, por exemplo, representar o número  $\frac{1}{2}$  sobre a reta, marcamos a partir de 0 um segmento de medida  $\frac{1}{2}u$  no sentido positivo. A extremidade desse segmento representa  $\frac{1}{2}$ . Na figura abaixo representamos sobre a reta vários números racionais.



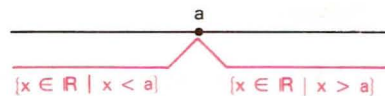
Os números racionais, entretanto, não preenchem completamente a reta, isto é, há pontos da reta que não representam nenhum racional. Por exemplo, entre os pontos 1,41 e 1,42 fica um ponto que representa  $\sqrt{2} = 1,414215\dots$  (irracional).

Quando representamos também sobre a reta os números irracionais, cada ponto da reta passa a representar necessariamente um número racional ou irracional (portanto, real), isto é, os reais preenchem completamente a reta.



Essa reta, que representa  $\mathbb{R}$ , é chamada *reta real* ou *reta numérica*.

Na reta real os números estão *ordenados*. Um número  $a$  é menor que qualquer número  $x$  colocado à sua direita e maior que qualquer número  $x$  à sua esquerda.





## EXERCÍCIOS

**80.** Quais das proposições abaixo são verdadeiras?

- |                                    |  |   |
|------------------------------------|--|---|
| a) $3 \in \mathbb{R}$              | d) $\frac{1}{2} \in \mathbb{R} - \mathbb{Q}$ | g) $(\sqrt{2} - 3\sqrt{3}) \in \mathbb{R} - \mathbb{Q}$     |
| b) $\mathbb{N} \subset \mathbb{R}$ | e) $\sqrt{4} \in \mathbb{R} - \mathbb{Q}$    | h) $\frac{3\sqrt{2}}{\sqrt{5}} \in \mathbb{R} - \mathbb{Q}$ |
| c) $\mathbb{Z} \subset \mathbb{R}$ | f) $\sqrt[3]{4} \in \mathbb{R} - \mathbb{Q}$ | i) $\frac{3\sqrt{2}}{5\sqrt{2}} \in \mathbb{Q}$             |

**81.** Prove que, se  $a, b, c, d$  são racionais,  $p$  é primo positivo e  $a + b\sqrt{p} = c + d\sqrt{p}$ , então  $a = c$  e  $b = d$ .

**Solução**

$$a + b\sqrt{p} = c + d\sqrt{p} \iff (b - d)\sqrt{p} = c - a$$

Como  $c - a$  é racional, a última igualdade só subsiste quando  $(b - d)\sqrt{p} \in \mathbb{Q}$ , isto é, se  $b - d = 0$ . Neste caso,  $c - a = 0$ , provando a tese.

**82.** Mostre que  $\sqrt{4 + 2\sqrt{3}} = 1 + \sqrt{3}$ .

**83.** Mostre que existem  $a$  e  $b$  racionais tais que  $\sqrt{18 - 8\sqrt{2}} = a + b\sqrt{2}$ .

**84.** Dados dois números  $x$  e  $y$  reais e positivos, chama-se média aritmética de  $x$  com  $y$  o real  $a = \frac{x + y}{2}$  e chama-se média geométrica o real  $g = \sqrt{xy}$ . Mostre que  $a \geq g$  para todos  $x, y \in \mathbb{R}_+$ .

**85.** a) Mostre, por meio de um exemplo, que existe um número irracional  $a$  tal que  $a^4$  e  $a^6$  são números racionais.  
 b) Mostre que, se  $a^7$  e  $a^{12}$  são racionais, então  $a$  é racional.

**86.** Prove que  $\sqrt{2} \notin \mathbb{Q}$ .

**Solução**

1. Admitamos que a fração irredutível  $\frac{a}{b}$  seja tal que  $\sqrt{2} = \frac{a}{b}$ ;

2.  $\frac{a}{b} = \sqrt{2} \implies a^2 = 2b^2 \implies a^2$  é par  $\implies a$  é par;
3. fazendo  $a = 2m$ , com  $m \in \mathbb{Z}$ , temos:  
 $a^2 = 2b^2 \implies (2m)^2 = 2b^2 \implies b^2 = 2m^2 \implies b^2$  é par  $\implies b$  é par e isso é absurdo, pois  $\text{mdc}(a, b) = 1$ .

- 87.** Prove que, dado um número racional  $\frac{a}{b}$  e um número natural  $n \geq 2$ , nem sempre  $\sqrt[n]{\frac{a}{b}}$  é racional.
- 88.** Dentre os reais  $-1, 0, 1, 2$  e  $3$ , qual não pode ser escrito sob a forma  $r = \frac{x+1}{x}$ ,  $x$  real?

## V. Intervalos

- 53.** Dados dois números reais  $a$  e  $b$ , com  $a < b$ , definimos:

a) *intervalo aberto* de extremos  $a$  e  $b$  é o conjunto

$$]a, b[ = \{x \in \mathbb{R} \mid a < x < b\}$$

que também pode ser indicado por  $a \text{---} b$ .

b) *intervalo fechado* de extremos  $a$  e  $b$  é o conjunto

$$[a, b] = \{x \in \mathbb{R} \mid a \leq x \leq b\}$$

que também pode ser indicado por  $a \text{---} b$ .

c) *intervalo fechado à esquerda* (ou aberto à direita) de extremos  $a$  e  $b$  é o conjunto

$$[a, b[ = \{x \in \mathbb{R} \mid a \leq x < b\}$$

que também pode ser indicado por  $a \text{---} b$ .

d) *intervalo fechado à direita* (ou aberto à esquerda) de extremos  $a$  e  $b$  é o conjunto

$$]a, b] = \{x \in \mathbb{R} \mid a < x \leq b\}$$

que também pode ser indicado por  $a \text{---} b$ .

Os números reais  $a$  e  $b$  são denominados, respectivamente, *extremo inferior* e *extremo superior* do intervalo.

*Exemplos*

- 1º)  $]2, 5[ = \{x \in \mathbb{R} \mid 2 < x < 5\}$  é intervalo aberto.
- 2º)  $[-1, 4] = \{x \in \mathbb{R} \mid -1 \leq x \leq 4\}$  é intervalo fechado.
- 3º)  $\left[\frac{2}{5}, 7\right[ = \left\{x \in \mathbb{R} \mid \frac{2}{5} \leq x < 7\right\}$  é intervalo fechado à esquerda.
- 4º)  $\left]-\frac{1}{3}, \sqrt{2}\right] = \left\{x \in \mathbb{R} \mid -\frac{1}{3} < x \leq \sqrt{2}\right\}$  é intervalo fechado à direita.

Também consideramos intervalos lineares os “intervalos infinitos” assim definidos:

- a)  $]-\infty, a[ = \{x \in \mathbb{R} \mid x < a\}$   
que também podemos indicar por  $-\infty \text{ --- } a$ .
- b)  $]-\infty, a] = \{x \in \mathbb{R} \mid x \leq a\}$   
que também podemos indicar por  $-\infty \text{ --- } \mid a$ .
- c)  $]a, +\infty[ = \{x \in \mathbb{R} \mid x > a\}$   
que também podemos indicar por  $a \text{ --- } +\infty$ .
- d)  $]a, +\infty] = \{x \in \mathbb{R} \mid x \geq a\}$   
que também podemos indicar por  $a \mid \text{--- } +\infty$ .
- e)  $]-\infty, +\infty[ = \mathbb{R}$   
que também podemos indicar por  $-\infty \text{ --- } +\infty$ .

**54.** *Representação gráfica*

Os intervalos têm uma representação geométrica sobre a reta real como segue:



## EXERCÍCIOS

**89.** Represente sobre a reta real cada um dos seguintes conjuntos:

$$A = \{x \in \mathbb{R} \mid 1 \leq x \leq 2\}$$

$$B = \{x \in \mathbb{R} \mid 0 < x < 3\}$$

$$C = \{x \in \mathbb{R} \mid x \leq 0 \text{ ou } x > 2\}$$

$$D = \{x \in \mathbb{R} \mid -1 < x < 0 \text{ ou } x \geq 3\}$$


**90.** Descreva, conforme a notação da teoria dos conjuntos, os seguintes intervalos:

$$[-1, 3], [0, 2[, ]-3, 4[, ]-\infty, 5[ \text{ e } [1, +\infty[.$$

**91.** Utilizando a representação gráfica dos intervalos sobre a reta real, determine

$$A \cap B \text{ e } A \cup B, \text{ sendo } A = [0, 3] \text{ e } B = [1, 4].$$

**Solução**



$$\text{então } A \cap B = [1, 3] \text{ e } A \cup B = [0, 4].$$

**92.** Descreva os seguintes conjuntos:

a)  $[0, 2] \cap [1, 3]$

b)  $[0, 2] \cap ]1, 3[$

c)  $]-1, \frac{2}{5}[ \cap ]0, \frac{4}{3}[$

d)  $] -\infty, 2] \cap [0, +\infty[$

e)  $[-1, +\infty[ \cap \left[-\frac{9}{2}, 2\right[$

f)  $[1, 2] \cap [0, 3] \cap [-1, 4]$

**93.** Determine os seguintes conjuntos:

a)  $[-1, 3] \cup [0, 4]$

b)  $] -2, 1] \cup ]0, 5[$

c)  $[-1, 3] \cup [3, 5]$

d)  $\left[-\frac{1}{2}, 0\right[ \cup \left]-\frac{3}{2}, -\frac{1}{4}\right]$

**94.** Sendo  $A = [0, 5[$  e  $B = ]1, 3[$ , determine  $\complement_A^B$ .



- 95.** Sendo  $A = \{x \in \mathbb{R} \mid -1 < x \leq 3\}$  e  $B = \{x \in \mathbb{R} \mid 2 < x \leq 5\}$ , calcule  $A \cup B$ .
- 96.** Sejam  $A = (-\infty; 2]$  e  $B = [0; +\infty)$  intervalos de números reais. Determine  $A \cap B$ .
- 97.** Determine a interseção dos conjuntos:  
 $\mathbb{R} \cap \mathbb{Q}$ ;  $(\mathbb{N} \cap \mathbb{Z}) \cup \mathbb{Q}$  e  $\mathbb{N} \cup (\mathbb{Z} \cap \mathbb{Q})$ .

## VI. Conjunto dos números complexos

**55.** Vimos que  $\sqrt[n]{a} \in \mathbb{R}_+$  qualquer que seja o real  $a$  não negativo. Assim, por exemplo,  $\sqrt{2}$ ,  $\sqrt[3]{5}$ ,  $\sqrt[4]{8}$ ,  $\sqrt[5]{\frac{17}{2}}$  e  $\sqrt[6]{\pi}$  são números reais.

Desde que o índice da raiz seja ímpar, os radicais da forma  $\sqrt[n]{-a}$ , em que  $a \in \mathbb{R}_+$ , também representam números reais. É o caso, por exemplo, de  $\sqrt[3]{-1}$ ,  $\sqrt[3]{-32}$  e  $\sqrt[5]{-3}$ .

Se o radicando é negativo e o índice da raiz é par, entretanto, o radical  $\sqrt[n]{-a}$  não representa elemento de  $\mathbb{R}$ . Por exemplo,  $\sqrt{-1}$  não é real, pois:

$$\sqrt{-1} = x \implies -1 = x^2$$

e isso é impossível, pois se  $x \in \mathbb{R}$ , então  $x^2 \geq 0$ .

Resolveremos definitivamente o problema de dar significado ao símbolo  $\sqrt[n]{a}$ , para todo número  $a$ , introduzindo no volume 6 desta coleção o conjunto  $\mathbb{C}$  dos números complexos, do qual  $\mathbb{R}$  é um subconjunto.

## VII. Resumo

Os conjuntos numéricos podem ser representados esquematicamente pela figura ao lado:

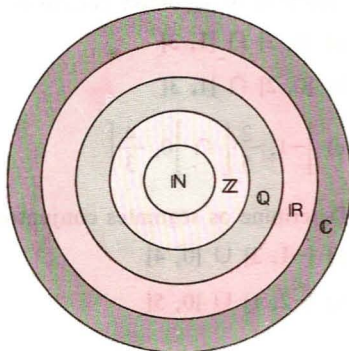
Observemos que  
 $\mathbb{N} \subset \mathbb{Z} \subset \mathbb{Q} \subset \mathbb{R} \subset \mathbb{C}$ .

Notemos também que:

$\mathbb{Z} - \mathbb{N}$  = conjunto dos números inteiros negativos

$\mathbb{Q} - \mathbb{Z}$  = conjunto dos números racionais não inteiros

$\mathbb{R} - \mathbb{Q}$  = conjunto dos números reais irracionais.



## Apêndice

### Princípio da indução finita

#### 56. Indução vulgar

A indução vulgar (generalização de propriedade após verificação de que a propriedade é válida em alguns casos particulares) pode conduzir a sérios enganos na Matemática. Vejamos dois exemplos:

1º) Consideremos a relação  $y = 2^{2^n} + 1$  definida para  $n \in \mathbb{N}$ .

Temos:

$$n = 0 \implies y = 2^{2^0} + 1 = 2^1 + 1 = 3$$

$$n = 1 \implies y = 2^{2^1} + 1 = 2^2 + 1 = 5$$

$$n = 2 \implies y = 2^{2^2} + 1 = 2^4 + 1 = 17$$

$$n = 3 \implies y = 2^{2^3} + 1 = 2^8 + 1 = 257$$

$$n = 4 \implies y = 2^{2^4} + 1 = 2^{16} + 1 = 65\,537$$

Os números  $y$  encontrados são números primos. Fermat (1601-1665) acreditou que a fórmula acima daria números primos, qualquer que fosse o valor inteiro positivo atribuído a  $n$ . Esta indução é falsa, pois Euler (1707-1783) mostrou que para  $n = 5$  resulta  $y = 2^{2^5} + 1 = 2^{32} + 1 = 4\,294\,967\,297 = 641 \times 6\,700\,417$ , isto é, resulta um número divisível por 641 e que, portanto, não é primo.

2º) Dada a relação  $y = -\frac{n^3}{6} + \frac{3n^2}{2} - \frac{7n}{3} + 3$ , definida para todo  $n \in \mathbb{N}^*$ , temos:

$$n = 1 \implies y = -\frac{1^3}{6} + \frac{3 \cdot 1^2}{2} - \frac{7 \cdot 1}{3} + 3 = \frac{-1 + 9 - 14 + 18}{6} = 2$$

$$n = 2 \implies y = -\frac{2^3}{6} + \frac{3 \cdot 2^2}{2} - \frac{7 \cdot 2}{3} + 3 = \frac{-8 + 36 - 28 + 18}{6} = 3$$

$$n = 3 \implies y = -\frac{3^3}{6} + \frac{3 \cdot 3^2}{2} - \frac{7 \cdot 3}{3} + 3 = \frac{-27 + 81 - 42 + 18}{6} = 5$$

$$n = 4 \implies y = -\frac{4^3}{6} + \frac{3 \cdot 4^2}{2} - \frac{7 \cdot 4}{3} + 3 = \frac{-64 + 144 - 56 + 18}{6} = 7$$

Poderíamos tirar a conclusão precipitada: “ $y$  é número primo,  $\forall n \in \mathbb{N}^*$ ”. Essa indução também é falsa, pois:

$$n = 5 \Rightarrow y = -\frac{5^3}{6} + \frac{3 \cdot 5^2}{2} - \frac{7 \cdot 5}{3} + 3 = \frac{-125 + 225 - 70 + 18}{6} = 8.$$

**57.** É necessário, portanto, dispor de um método com base lógica que permita decidir sobre a validade ou não de uma indução vulgar.

Consideremos, por exemplo, a igualdade:

$$1 + 3 + 5 + \dots + (2n - 1) = n^2 \quad (n \in \mathbb{N}^*)$$

que expressa a propriedade: “a soma dos  $n$  primeiros números ímpares positivos é  $n^2$ ”.

Vamos verificar se ela é verdadeira:

$$n = 1 \Rightarrow 1 = 1^2 \quad (\mathbf{V})$$

$$n = 2 \Rightarrow 1 + 3 = 4 = 2^2 \quad (\mathbf{V})$$

$$n = 3 \Rightarrow 1 + 3 + 5 = 9 = 3^2 \quad (\mathbf{V})$$

...

$$n = 10 \Rightarrow 1 + 3 + 5 + \dots + 19 = 100 = 10^2 \quad (\mathbf{V})$$

Mesmo que continuemos o trabalho fazendo a verificação até  $n = 1\,000\,000$ , não estará provado que a fórmula vale para todo  $n$  natural, pois poderá existir um  $n > 1\,000\,000$  em que a fórmula falha.

## 58. Princípio da indução finita

Para provarmos que a relação é válida para todo  $n \in \mathbb{N}^*$  empregamos o princípio da indução finita (P.I.F.) cujo enunciado é o seguinte:

*Uma proposição  $P(n)$ , aplicável aos números naturais  $n$ , é verdadeira para todo  $n \in \mathbb{N}$ ,  $n \geq n_0$ , quando:*

1.º)  $P(n_0)$  é verdadeira, isto é, a propriedade é válida para  $n = n_0$ , e

2.º) Se  $k \in \mathbb{N}$ ,  $k \geq n_0$  e  $P(k)$  é verdadeira, então  $P(k + 1)$  também é verdadeira.

Provemos, por exemplo, que:

$$1 + 3 + 5 + \dots + (2n - 1) = n^2 \quad (n \in \mathbb{N}^*)$$

1.º) Verifiquemos que  $P(1)$  é verdadeira:

$$n = 1 \Rightarrow 1 = 1^2$$

2º) Admitamos que  $P(k)$ , com  $k \in \mathbb{N}^*$ , seja verdadeira:

$$1 + 3 + 5 + \dots + (2k - 1) = k^2 \quad (\text{hipótese da indução})$$

e provemos que decorre a validade de  $P(k + 1)$ , isto é:

$$1 + 3 + 5 + \dots + (2k - 1) + [2(k + 1) - 1] = (k + 1)^2.$$

Temos:

$$1 + 3 + 5 + \dots + (2k - 1) + (2k + 1) = \underbrace{k^2}_{\substack{\uparrow \\ \text{hipótese da indução}}} + (2k + 1) = k^2 + 2k + 1 = (k + 1)^2.$$

## EXERCÍCIOS

Demonstre usando o princípio da indução finita.

98.  $1 + 2 + 3 + \dots + n = \frac{n(n + 1)}{2}, \forall n \in \mathbb{N}^*.$

99.  $2 + 5 + 8 + \dots + (2 + 3n) = \frac{(n + 1)(4 + 3n)}{2}, \forall n \in \mathbb{N}.$

100.  $2^0 + 2^1 + 2^2 + \dots + 2^{n-1} = 2^n - 1, \forall n \in \mathbb{N}^*.$

101.  $1^2 + 2^2 + 3^2 + \dots + n^2 = \frac{n(n + 1)(2n + 1)}{6}, \forall n \in \mathbb{N}^*.$

102.  $1^3 + 2^3 + 3^3 + \dots + n^3 = \left[ \frac{n(n + 1)}{2} \right]^2, \forall n \in \mathbb{N}^*.$

103.  $8 \mid (3^{2n} - 1), \forall n \in \mathbb{N}^*.$

### Solução

1º)  $P(1)$  é verdadeira, pois  $8 \mid (3^2 - 1)$ .

2º) Admitamos que  $P(k)$ ,  $k \in \mathbb{N}^*$ , seja verdadeira

$8 \mid (3^{2k} - 1)$  (hipótese da indução)

e provemos que  $8 \mid (3^{2(k+1)} - 1)$ :

$$3^{2(k+1)} - 1 = 3^{2k+2} - 1 = 3^{2k} \cdot 3^2 - 1 = 3^{2k}(8 + 1) - 1 = 8 \cdot 3^{2k} + (3^{2k} - 1)$$

então:

$$\left. \begin{array}{l} 8 \mid 8 \cdot 3^{2k} \\ 8 \mid (3^{2k} - 1) \end{array} \right\} \Rightarrow 8 \mid (8 \cdot 3^{2k} + 3^{2k} - 1) \Rightarrow 8 \mid (3^{2(k+1)} - 1).$$



**104.**  $6 \mid n(n + 1)(n + 2), \forall n \in \mathbb{N}.$

**105.**  $2 \mid (n^2 + n), \forall n \in \mathbb{N}.$

**106.**  $3 \mid (n^3 + 2n), \forall n \in \mathbb{N}.$

**107.**  $(1 + 1) \left(1 + \frac{1}{2}\right) \left(1 + \frac{1}{3}\right) \cdots \left(1 + \frac{1}{n}\right) = n + 1, \forall n \in \mathbb{N}^*.$

**108.**  $\frac{1}{1 \cdot 2} + \frac{1}{2 \cdot 3} + \frac{1}{3 \cdot 4} + \cdots + \frac{1}{n(n + 1)} = \frac{n}{n + 1}, \forall n \in \mathbb{N}^*.$

**109.**  $1 \cdot 2 + 2 \cdot 3 + 3 \cdot 4 + \cdots + n(n + 1) = \frac{n(n + 1)(n + 2)}{3}, \forall n \in \mathbb{N}^*.$

**110.**  $2n \geq n + 1, \forall n \in \mathbb{N}^*.$

**Solução**

1º)  $P(1)$  é verdadeira, pois  $2 \cdot 1 \geq 1 + 1.$

2º) Admitamos que  $P(k), k \in \mathbb{N}^*,$  seja verdadeira:

$2k \geq k + 1$  (hipótese da indução)

e provemos que  $2(k + 1) \geq (k + 1) + 1.$

Temos:

$2(k + 1) = 2k + 2 \geq (k + 1) + 2 > (k + 1) + 1$

**111.**  $2^n > n, \forall n \in \mathbb{N}.$

**112.**  $1^3 + 2^3 + 3^3 + \cdots + n^3 > \frac{n^4}{4}, \forall n \in \mathbb{N}^*.$

**113.**  $(1 + a)^n \geq 1 + na, \forall n \in \mathbb{N}^*, \forall a \in \mathbb{R}, a \geq -1.$

**114.** O número de diagonais de um polígono convexo de  $n$  lados é  $d_n = \frac{n(n - 3)}{2}.$

**Solução**

1º)  $P(3)$  é verdadeira, pois:

$n = 3 \implies d_3 = \frac{3(3 - 3)}{2} = 0$

e isso é verdade porque um triângulo não tem diagonais.

2º) Supondo válida a fórmula para um polígono de  $k$  lados ( $k \geq 3$ ):

$$d_k = \frac{k(k-3)}{2} \quad (\text{hipótese da indução})$$

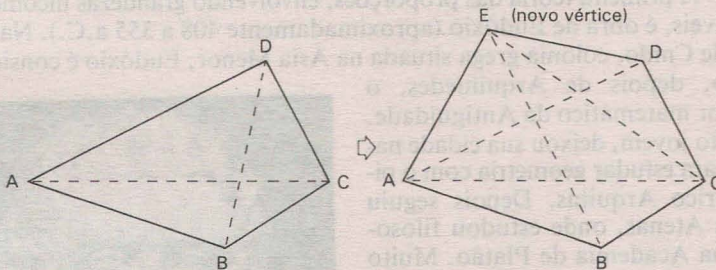
provemos que ela vale para um polígono de  $k + 1$  lados:

$$d_{k+1} = \frac{(k+1)[(k+1)-3]}{2} = \frac{(k+1)(k-2)}{2}.$$

Quando passamos de um polígono com  $k$  vértices para um de  $k + 1$  vértices, acrescentando mais um vértice, ocorre o seguinte:

1. todas as diagonais do primeiro polígono continuam sendo diagonais do segundo;
2. um lado do primeiro se transforma em diagonal do segundo;
3. no segundo há  $k - 2$  novas diagonais (as que partem do novo vértice).

Vejam, por exemplo, a passagem de um quadrilátero para um pentágono:



$AC$  e  $BD$  são diagonais  $\rightarrow AC$  e  $BD$  continuam diagonais  
 $AD$  é lado  $\rightarrow AD$  se transforma em diagonal  
 $EB$  e  $EC$  são diagonais

Então:

$$d_{k+1} = d_k + 1 + (k-2) = \frac{k(k-3)}{2} + k - 1 = \frac{k^2 - 3k + 2k - 2}{2} = \frac{(k+1)(k-2)}{2}.$$

**115.** A soma das medidas dos ângulos internos de um polígono convexo de  $n$  lados é  $S_n = (n-2) \cdot 180^\circ$ .

**116.** Se  $A$  é um conjunto finito com  $n$  elementos, então  $\mathcal{P}(A)$ , conjunto das partes de  $A$ , tem  $2^n$  elementos.




## LEITURA

## Eudóxio e os Incomensuráveis

Hygino H. Domingues

A descoberta no séc. V a.C. da existência de grandezas incomensuráveis (como a diagonal e o lado de um quadrado) abalou a matemática grega, dado o peso que nela tinha a escola pitagórica. Afinal esta escola apoiava-se na convicção de que o universo numérico não ultrapassava o que hoje chamamos de conjunto dos números racionais estritamente positivos. Ademais, o espírito do povo grego era muito diferente do babilônico, por exemplo, que aceitava as aproximações de números irracionais acaso surgidos em algum problema sem questionamentos de ordem teórica. Os pitagóricos, por não encontrarem uma saída matemática satisfatória para o impasse, limitaram-se sempre, no caso de razões, àquelas entre grandezas comensuráveis.

A primeira teoria das proporções, envolvendo grandezas incomensuráveis, é obra de Eudóxio (aproximadamente 408 a 355 a.C.). Natural de Cnido, colônia grega situada na Ásia Menor, Eudóxio é considerado, depois de Arquímedes, o maior matemático da Antiguidade. Muito jovem, deixou sua cidade natal para estudar geometria com o pitagórico Arquitas. Depois seguiu para Atenas, onde estudou filosofia na Academia de Platão. Muito pobre, optou por morar na cidade de Pireu, a duas milhas de Atenas, onde a pensão era mais barata, fazendo a pé, todos os dias, o caminho de ida e volta à Academia. Esteve também meio ano no Egito aprendendo, e depois fundou, em Císico, uma escola que teve muito êxito. Com cerca de 40 anos de idade voltou em visita a Atenas, acompanhado de alguns alunos, sendo recepcionado por Platão com um banquete. Retornou por fim a Cnido para ensinar e participar da vida da cidade, terminando seus dias cercado de prestígio.



*Eudóxio foi aluno da Academia, escola de filosofia criada por Platão (foto). À entrada da Academia lia-se a inscrição: "Que aqui não adentrem aqueles que não conhecem geometria".*

A solução encontrada por Eudócio para o problema da incomensurabilidade, embora brilhante, tinha como sério inconveniente o fato de ser meramente geométrica, o que contribuiu fortemente para que nos dois milênios seguintes a geometria se tornasse praticamente a única base de rigor da Matemática.

Eudócio introduziu a noção de *grandeza* para representar genericamente coisas como segmentos, ângulos, áreas, volumes e tempo, por exemplo, e a idéia de *múltiplo* de uma grandeza segundo um número natural não nulo. Assim, se  $a$ ,  $b$ ,  $c$ ,  $d$  são grandezas ( $a$  e  $b$  da mesma espécie;  $c$  e  $d$  também da mesma espécie), o conceito de proporção segundo Eudócio (e que irá figurar nos *Elementos* de Euclides como definição 5, livro V) é o seguinte:

“ $a/b = c/d$  se, e somente se, para quaisquer naturais não nulos  $m$  e  $n$ : ( $ma = nb \Rightarrow mc = nd$ ) ou ( $ma > nb \Rightarrow mc > nd$ ) ou ( $ma < nb \Rightarrow mc < nd$ ).

Com isso, no fundo, o conjunto dos números racionais maiores que zero fica dividido em duas classes, aquela dos quocientes  $m/n$  tais que  $ma \leq nb$  e a dos quocientes  $m/n$  para os quais  $ma > nb$ . Escapou aos gregos destacar o ente definido por essas classes, ou seja, o número real  $\alpha$  que é a medida de  $b$  em relação a  $a$ .

Outra criação importante de Eudócio foi o chamado (atualmente) método de exaustão para determinar áreas e volumes de figuras curvas. Tal método baseia-se, em última instância, num postulado que leva o nome de Arquimedes mas que, segundo este, é devido a Eudócio: “Dadas duas grandezas não nulas de mesma espécie, sempre há um múltiplo de uma que supera a outra”. Com isso Eudócio pôde provar, por exemplo, que as áreas de dois círculos estão entre si como os quadrados de seus raios e os volumes de duas esferas como os cubos de seus raios.

Resultados como esses, embora notáveis, por não se traduzirem em métodos numéricos, põem em relevo a face negativa da matemática de Eudócio.



# Relações

## I. Par ordenado

### 59. Par

Chama-se *par* todo conjunto formado por dois elementos. Assim  $\{1, 2\}$ ,  $\{3, -1\}$ ,  $\{a, b\}$  indicam pares. Lembrando do conceito de igualdade de conjuntos, observamos que inverter a ordem dos elementos não produz um novo par:

$$\{1, 2\} = \{2, 1\}, \{3, -1\} = \{-1, 3\}, \{a, b\} = \{b, a\}.$$

Em Matemática existem situações em que há necessidade de distinguir dois pares pela ordem dos elementos. Por exemplo, no sistema de equações

$$\begin{cases} x + y = 3 \\ x - y = 1 \end{cases}$$

$x = 2$  e  $y = 1$  é solução, ao passo que  $x = 1$  e  $y = 2$  não é solução. Se representássemos por um conjunto, teríamos:  $\{2, 1\}$  seria solução e  $\{1, 2\}$  não seria solução. Há uma contradição pois, sendo  $\{2, 1\} = \{1, 2\}$ , o mesmo conjunto é e não é solução. Por causa disso dizemos que a solução é o *par ordenado*  $(2, 1)$  em que fica subentendido que o primeiro elemento 2 refere-se à incógnita  $x$  e o segundo elemento 1 refere-se à incógnita  $y$ .

## 60. Par ordenado

Admitiremos a noção de *par ordenado* como conceito primitivo<sup>(\*)</sup>. Para cada elemento  $a$  e cada elemento  $b$ , admitiremos a existência de um terceiro elemento  $(a, b)$ , que denominamos *par ordenado*, de modo que se tenha

$$(a, b) = (c, d) \iff a = c \text{ e } b = d$$

## II. Representação gráfica

### 61. Plano cartesiano

Consideremos dois eixos  $x$  e  $y$  perpendiculares em  $O$ , os quais determinam o plano  $\alpha$ .

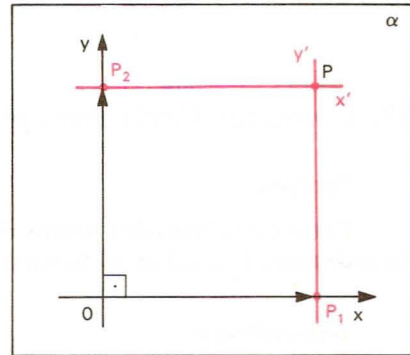
Dado um ponto  $P$  qualquer,  $P \in \alpha$ , conduzamos por ele duas retas:

$$x' \parallel x \text{ e } y' \parallel y.$$

Denominemos  $P_1$  a interseção de  $x$  com  $y'$  e  $P_2$  a interseção de  $y$  com  $x'$ .

Nessas condições definimos:

- abscissa* de  $P$  é o número real  $x_p$  representado por  $P_1$
- ordenada* de  $P$  é o número real  $y_p$  representado por  $P_2$
- coordenadas* de  $P$  são os números reais  $x_p$  e  $y_p$ , geralmente indicados na forma de um par ordenado  $(x_p, y_p)$  em que  $x_p$  é o primeiro termo
- eixo das abscissas* é o eixo  $x$  (ou  $Ox$ )
- eixo das ordenadas* é o eixo  $y$  (ou  $Oy$ )
- sistema* de eixos cartesiano ortogonal (ou ortonormal ou retangular) é o sistema  $xOy$
- origem* do sistema é o ponto  $O$
- plano cartesiano* é o plano  $\alpha$



(\*) Poderíamos definir par ordenado como Kuratowski fez:

$$(a, b) = \{\{a\}, \{a, b\}\}$$

mas isso ficaria fora do nível deste curso.

*Exemplo*

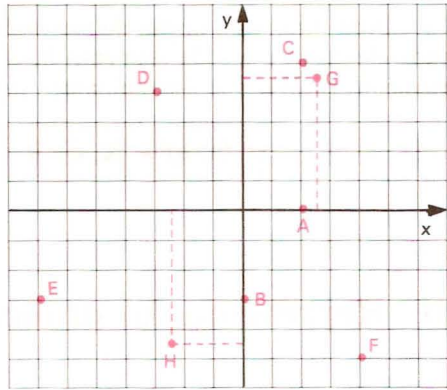
Vamos localizar os pontos

$A(2, 0)$ ,  $B(0, -3)$ ,  $C(2, 5)$ ,  $D(-3, 4)$

$E(-7, -3)$ ,  $F(4, -5)$ ,  $G\left(\frac{5}{2}, \frac{9}{2}\right)$  e

$H\left(-\frac{5}{2}, -\frac{9}{2}\right)$

no plano cartesiano lembrando que, no par ordenado, o primeiro número representa a abscissa e o segundo a ordenada do ponto.



## 62. Correspondência entre pontos e pares ordenados

*Teorema*

Entre o conjunto dos pontos  $P$  do plano cartesiano e o conjunto dos pares ordenados  $(x_p, y_p)$  de números reais existe uma correspondência biunívoca.

*Demonstração*

*1ª parte*

As definições dadas anteriormente indicam que a *todo* ponto  $P$ ,  $P \in \alpha$ , corresponde um único par de pontos  $(P_1, P_2)$  sobre os eixos  $x$  e  $y$  respectivamente e, portanto, um *único par ordenado* de números reais  $(x_p, y_p)$  tais que  $x_p$  e  $y_p$  são representados por  $P_1$  e  $P_2$ , respectivamente.

Esquema:  $P \longrightarrow (P_1, P_2) \longrightarrow (x_p, y_p)$ .

*2ª parte*

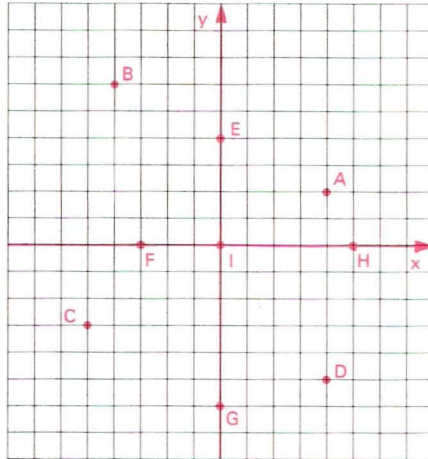
Dado o par ordenado de números reais  $(x_p, y_p)$ , existem  $P_1 \in x$  e  $P_2 \in y$  tais que  $P_1$  representa  $x_p$  e  $P_2$  representa  $y_p$ , conforme vimos no item 52.

Se construirmos  $x' \parallel x$  por  $P_2$  e  $y' \parallel y$  por  $P_1$ , essas retas vão concorrer em  $P$ . Assim, a todo par  $(x_p, y_p)$  corresponde um *único ponto*  $P$ ,  $P \in \alpha$ .

Esquema:  $(x_p, y_p) \longrightarrow (P_1, P_2) \longrightarrow P$ .

# EXERCÍCIOS

117. Dê as coordenadas de cada ponto do plano cartesiano abaixo.



118. Assinale no plano cartesiano os pontos:  $A(2, -3)$ ,  $B(0, -4)$ ,  $C(-4, -5)$ ,  $D(-1, 0)$ ,  $E(0, 5)$ ,  $F(5, 4)$ ,  $G(3, 0)$ ,  $H(-3, 2)$ ,  $I\left(\frac{1}{2}, \frac{5}{2}\right)$ .

## III. Produto cartesiano

63. Sejam  $A$  e  $B$  dois conjuntos não vazios. Denominamos *produto cartesiano* de  $A$  por  $B$  o conjunto  $A \times B$  cujos elementos são todos pares ordenados  $(x, y)$ , em que o primeiro elemento pertence a  $A$  e o segundo elemento pertence a  $B$ .

$$A \times B = \{(x, y) \mid x \in A \text{ e } y \in B\}$$

O símbolo  $A \times B$  lê-se “ $A$  cartesiano  $B$ ” ou “produto cartesiano de  $A$  por  $B$ ”.

Se  $A$  ou  $B$  for o conjunto vazio, definiremos o produto cartesiano de  $A$  por  $B$  como sendo o conjunto vazio.

$$A \times \emptyset = \emptyset \qquad \emptyset \times B = \emptyset \qquad \emptyset \times \emptyset = \emptyset$$



*Exemplos*

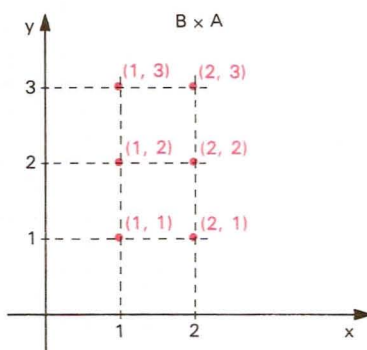
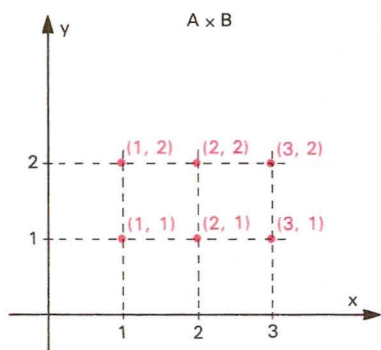
1º) Se  $A = \{1, 2, 3\}$  e  $B = \{1, 2\}$ , temos

$$A \times B = \{(1, 1), (1, 2), (2, 1), (2, 2), (3, 1), (3, 2)\}$$

e

$$B \times A = \{(1, 1), (1, 2), (1, 3), (2, 1), (2, 2), (2, 3)\}$$

e as representações no plano cartesiano são as seguintes:



2º) Se  $A = \{2, 3\}$ , então o conjunto  $A \times A$  (que também pode ser indicado por  $A^2$  e lê-se “ $A$  dois”) é:

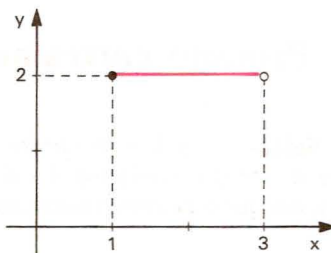
$$A \times A = \{(2, 2), (2, 3), (3, 2), (3, 3)\}.$$

3º) Se  $A = \{x \in \mathbb{R} \mid 1 \leq x < 3\}$  e

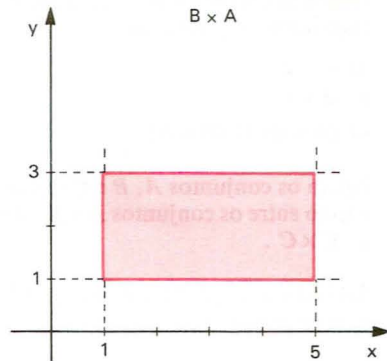
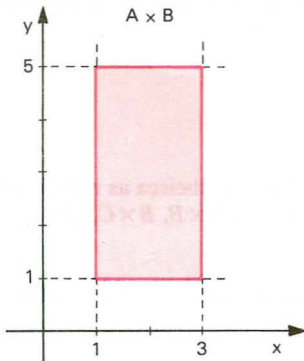
$B = \{2\}$ , então temos

$$A \times B = \{(x, 2) \mid x \in A\}.$$

A representação gráfica de  $A \times B$  dá como resultado o conjunto de pontos do segmento paralelo ao eixo dos  $x$  da figura ao lado.



4º) Se  $A = \{x \in \mathbb{R} \mid 1 \leq x \leq 3\}$  e  $B = \{x \in \mathbb{R} \mid 1 \leq x \leq 5\}$ , temos  $A \times B = \{(x, y) \in \mathbb{R}^2 \mid 1 \leq x \leq 3 \text{ e } 1 \leq y \leq 5\}$  representado graficamente no plano cartesiano pelo conjunto de pontos de um retângulo. Notemos que  $B \times A = \{(x, y) \in \mathbb{R}^2 \mid 1 \leq x \leq 5 \text{ e } 1 \leq y \leq 3\}$  é representado por um retângulo distinto do anterior.



**Observações**

1ª) Se  $A \neq B$ , então  $A \times B \neq B \times A$ , isto é, o produto cartesiano de dois conjuntos não goza da propriedade comutativa.

2ª) Se  $A$  e  $B$  são conjuntos finitos com  $m$  e  $n$  elementos respectivamente, então  $A \times B$  é um conjunto finito com  $m \cdot n$  elementos.

3ª) Se  $A$  ou  $B$  for infinito e nenhum deles for vazio, então  $A \times B$  é um conjunto infinito.

## EXERCÍCIOS

**119.** Dados os conjuntos

$$A = \{1, 3, 4\} \quad B = \{-2, 1\} \quad C = \{-1, 0, 2\}$$

represente pelos elementos e pelo gráfico cartesiano os seguintes produtos:

- |                 |                 |          |
|-----------------|-----------------|----------|
| a) $A \times B$ | c) $A \times C$ | e) $B^2$ |
| b) $B \times A$ | d) $C \times A$ | f) $C^2$ |

**120.** Dados os conjuntos

$$A = \{x \in \mathbb{R} \mid 1 \leq x \leq 3\}$$

$$B = \{x \in \mathbb{R} \mid -2 \leq x \leq 2\}$$

$$C = \{x \in \mathbb{R} \mid -4 < x \leq 1\}$$

represente graficamente os seguintes produtos:

- |                 |                 |          |
|-----------------|-----------------|----------|
| a) $A \times B$ | c) $B \times C$ | e) $A^2$ |
| b) $A \times C$ | d) $C \times B$ | f) $C^2$ |

- 121.** Dados os conjuntos  $A = \{1, 2, 3, 4\}$  e  $B = \{x \in \mathbb{R} \mid 1 \leq x \leq 4\}$ , represente graficamente os conjuntos:
- $A \times B$
  - $B \times A$
  - $(A \times B) \cup (B \times A)$
- 122.** Sejam os conjuntos  $A, B$  e  $C$  tais que  $A \subset B \subset C$ . Estabeleça as relações de inclusão entre os conjuntos  $A \times A, A \times B, A \times C, B \times A, B \times B, B \times C, C \times A, C \times B$  e  $C \times C$ .
- 123.** Sabendo que  $\{(1, 2), (4, 2)\} \subset A^2$  e  $n(A^2) = 9$ , represente pelos elementos o conjunto  $A^2$ .

**Solução**

O número de elementos de  $A^2$  é igual ao quadrado do número de elementos de  $A$ ; portanto:

$$n(A^2) = [n(A)]^2 \implies [n(A)]^2 = 9 \implies n(A) = 3.$$

Se  $A$  é um conjunto de 3 elementos,  $(1, 2) \in A^2$  e  $(4, 2) \in A^2$ , concluímos que  $A = \{1, 2, 4\}$ .

Assim sendo,

$$A \times A = \{(1, 1), (1, 2), (1, 4), (2, 1), (2, 2), (2, 4), (4, 1), (4, 2), (4, 4)\}.$$

- 124.** Se  $\{(1, -2), (3, 0)\} \subset A^2$  e  $n(A^2) = 16$ , então represente  $A^2$  pelos seus elementos.
- 125.** Considerando  $A \subset B, \{(0, 5), (-1, 2), (2, -1)\} \subset A \times B$  e  $n(A \times B) = 12$ , represente  $A \times B$  pelos seus elementos.
- 126.** Sejam  $F = \{1, 2, 3, 4\}$  e  $G = \{3, 4, 7\}$ . Determine o número de elementos de  $F \times G$ .
- 127.** Dados os conjuntos  $A = \left\{1, \frac{3}{2}\right\} \cup \{x \in \mathbb{R} \mid 2 < x < 3\}$  e  $B = \{x \in \mathbb{R} \mid 1 \leq x \leq 2\}$ , represente graficamente  $A \times B$ .
- 128.** Seja  $\mathbb{Z}$  o conjunto dos números inteiros. Sejam ainda os conjuntos  $A = \{x \in \mathbb{Z} \mid -1 < x \leq 2\}$  e  $B = \{3, 4, 5\}$ . Qual é o número de elementos do conjunto  $D = \{(x, y) \in A \times B \mid y \geq x + 4\}$ ?

## IV. Relação binária

**64.** Consideremos os conjuntos  $A = \{2, 3, 4\}$  e  $B = \{2, 3, 4, 5, 6\}$ . O produto cartesiano de  $A$  por  $B$  é o conjunto

$$A \times B = \{(x, y) \mid x \in A \text{ e } y \in B\}$$

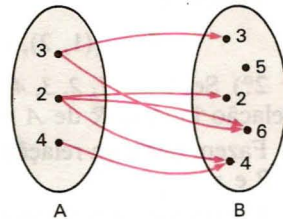
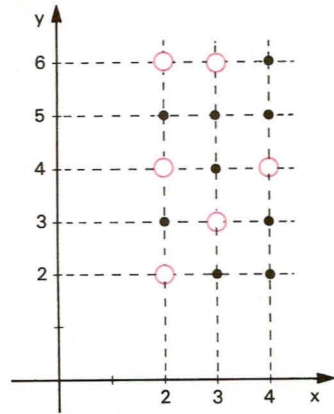
formado por  $3 \cdot 5 = 15$  elementos representados na figura ao lado. Se agora considerarmos o conjunto de pares ordenados  $(x, y)$  de  $A \times B$  tais que  $x \mid y$  (lê-se:  $x$  é divisor de  $y$ ), teremos

$$\begin{aligned} R &= \{(x, y) \in A \times B \mid x \mid y\} = \\ &= \{(2, 2), (2, 4), (2, 6), (3, 3), (3, 6), (4, 4)\}, \end{aligned}$$

que é chamado relação entre os elementos de  $A$  e de  $B$  ou, mais simplesmente, uma *relação binária de  $A$  em  $B$* .

O conjunto  $R$  está contido em  $A \times B$  e é formado por pares  $(x, y)$ , em que o elemento  $x$  de  $A$  é “associado” ao elemento  $y$  de  $B$  mediante um certo critério de “relacionamento” ou “correspondência”

Será bastante útil a representação da relação por meio de flechas, como na figura ao lado.



**65.** Dados dois conjuntos  $A$  e  $B$ , chama-se *relação binária de  $A$  em  $B$*  todo subconjunto  $R$  de  $A \times B$ .

$$R \text{ é relação binária de } A \text{ em } B \iff R \subset A \times B.$$

Se, eventualmente, os conjuntos  $A$  e  $B$  forem iguais, todo subconjunto de  $A \times A$  é chamado *relação binária em  $A$* .

$$R \text{ é relação binária em } A \iff R \subset A \times A.$$

Utilizaremos as seguintes nomenclaturas já consagradas:

$A$  = conjunto de partida da relação  $R$

$B$  = conjunto de chegada ou contradomínio da relação  $R$ .



Quando o par  $(x, y)$  pertence à relação  $R$ , escrevemos  $xRy$  (lê-se: “ $x$  erre  $y$ ”).

$$(x, y) \in R \iff xRy$$

e se o par  $(x, y)$  não pertence à relação  $R$ , escrevemos  $x \cancel{R}y$  (lê-se: “ $x$  não erre  $y$ ”).

$$(x, y) \notin R \iff x \cancel{R}y$$

*Exemplos*

1º) Se  $A = \{1, 2, 3, 4, 5\}$  e  $B = \{1, 2, 3, 4\}$ , quais são os elementos da relação  $R = \{(x, y) \mid x < y\}$  de  $A$  em  $B$ ?

Os elementos de  $R$  são todos os pares ordenados de  $A \times B$  nos quais o primeiro elemento é menor que o segundo, isto é, são os pares formados pela “associação de cada elemento  $x \in A$  com cada elemento de  $y \in B$  tal que  $x < y$ ”.

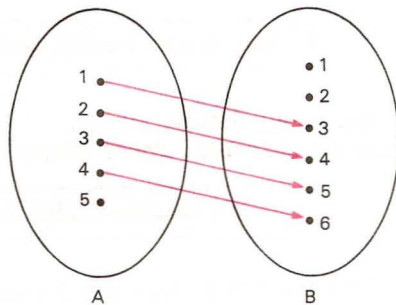
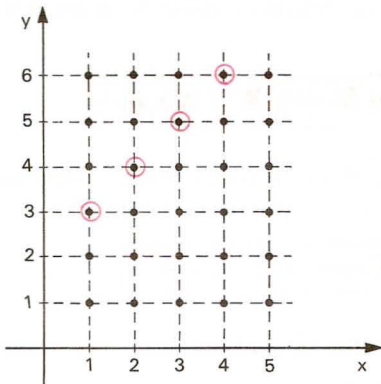
Temos, então:

$$R = \{(1, 2), (1, 3), (1, 4), (2, 3), (2, 4), (3, 4)\}.$$

2º) Se  $A = \{1, 2, 3, 4, 5\}$  e  $B = \{1, 2, 3, 4, 5, 6\}$ , quais são os elementos da relação binária  $R$  de  $A$  em  $B$  assim definida:  $xRy \iff y = x + 2$ ?

Fazem parte da relação todos os pares ordenados  $(x, y)$  tais que  $x \in A$ ,  $y \in B$  e  $y = x + 2$ .

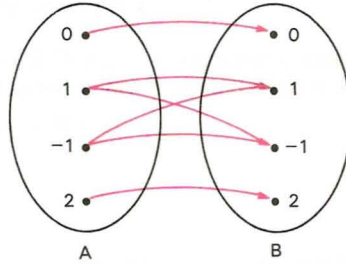
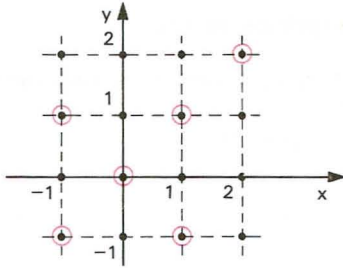
Utilizando as representações gráficas:



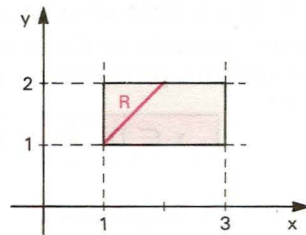
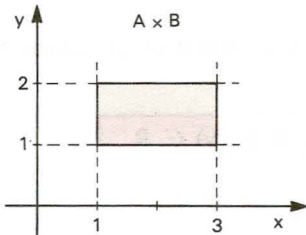
3º) Se  $A = \{-1, 0, 1, 2\}$ , quais são os elementos da relação  $R = \{(x, y) \in A^2 \mid x^2 = y^2\}$ ?

Fazendo a representação gráfica, notamos que:

$$R = \{(0, 0), (1, 1), (1, -1), (-1, -1), (-1, 1), (2, 2)\}.$$



4º) Se  $A = \{x \in \mathbb{R} \mid 1 \leq x \leq 3\}$  e  $B = \{y \in \mathbb{R} \mid 1 \leq y \leq 2\}$ , pede-se a representação cartesiana de  $A \times B$  e  $R = \{(x, y) \in A \times B \mid y = x\}$ .



## EXERCÍCIOS

129. I) Enumere pares ordenados  
 II) represente por meio de flechas  
 III) faça o gráfico cartesiano

das relações binárias de  $A = \{-2, -1, 0, 1, 2\}$  em  $B = \{-3, -2, -1, 1, 2, 3, 4\}$  definidas por:

- a)  $x R y \iff x + y = 2$   
 b)  $x S y \iff x^2 = y$   
 c)  $x T y \iff |x| = |y|$

- d)  $x V y \iff x + y > 2$   
 e)  $x W y \iff (x - y)^2 = 1$

- 130.** Dado o conjunto  $A = \{1, 2, 3, 4, 5, 6\}$ , enumere os pares ordenados e construa o gráfico cartesiano da relação  $R$  em  $A$  dada por:

$$R = \{(x, y) \in A^2 \mid \text{mdc}(x, y) = 2\}.$$

- 131.** Seja o conjunto  $A = \{1, 2, 3, 4, 5, 6\}$ . Construa o gráfico cartesiano da relação  $R$  em  $A$  definida por:

$$x R y \iff x \text{ e } y \text{ são primos entre si.}$$

- 132.** Dado o conjunto  $A = \{m \in \mathbb{Z} \mid -7 \leq m \leq 7\}$ , construa o gráfico cartesiano da relação binária  $R$  em  $A$  definida por:

$$x R y \iff x^2 + y^2 = 25.$$

## V. Domínio e imagem

### 66. Domínio

Seja  $R$  uma relação de  $A$  em  $B$ .

Chama-se *domínio* de  $R$  o conjunto  $D$  de todos os primeiros elementos dos pares ordenados pertencente a  $R$ .

$$x \in D \iff \exists y, y \in B \mid (x, y) \in R$$

Decorre da definição que  $D \subset A$ .

### 67. Imagem

Chama-se *imagem* de  $R$  o conjunto  $Im$  de todos os segundos elementos dos pares ordenados pertencentes a  $R$ .

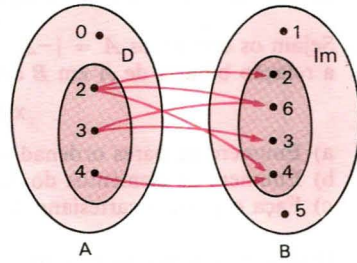
$$y \in Im \iff \exists x, x \in A \mid (x, y) \in R$$

Decorre da definição que  $Im \subset B$ .

#### Exemplos

1º) Se  $A = \{0, 2, 3, 4\}$  e  $B = \{1, 2, 3, 4, 5, 6\}$ , qual é o domínio e a imagem da relação  $R = \{(x, y) \in A \times B \mid y \text{ é múltiplo de } x\}$ ?

Utilizando o esquema das flechas é fácil perceber que  $D$  é o conjunto dos elementos de  $A$  dos quais partem flechas e que  $Im$  é o conjunto dos elementos de  $B$  aos quais chegam flechas; portanto:



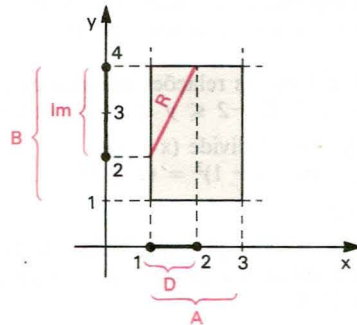
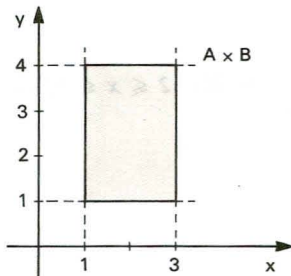
$$R = \{(2, 2), (2, 4), (2, 6), (3, 3), (3, 6), (4, 4)\}$$

$$D = \{2, 3, 4\} \quad Im = \{2, 3, 4, 6\}$$

2º) Se  $A = \{x \in \mathbb{R} \mid 1 \leq x \leq 3\}$  e  $B = \{y \in \mathbb{R} \mid 1 \leq y \leq 4\}$ , qual é o domínio e a imagem da relação  $R = \{(x, y) \in A \times B \mid y = 2x\}$ ?

Utilizando a representação cartesiana, temos:

$$D = \{x \in \mathbb{R} \mid 1 \leq x \leq 2\} \quad \text{e} \quad Im = \{y \in \mathbb{R} \mid 2 \leq y \leq 4\}.$$



## EXERCÍCIOS

133. Estabeleça o domínio e a imagem das seguintes relações:

a)  $\{(1, 1), (1, 3), (2, 4)\}$

d)  $\{(1 + \sqrt{2}, \sqrt{2}), (1 - \sqrt{3}, 1)\}$

b)  $\{(-2, 4), (-1, 1), (3, -7), (2, 1)\}$

e)  $\left\{\left(3, \frac{1}{2}\right), \left(\frac{5}{2}, -1\right), \left(\frac{3}{2}, 0\right)\right\}$

c)  $\{(2, 1), (1, -3), (5, \sqrt{2})\}$



**134.** Estabeleça o domínio e a imagem das relações binárias do exercício 129.

**135.** Sejam os conjuntos  $A = \{-2, -1, 0, 1, 2, 3, 4, 5\}$ ,  $B = \{-2, -1, 0, 1, 2\}$  e  $R$  a relação binária de  $A$  em  $B$  definida por

$$x R y \iff x = y^2.$$

- Enumere os pares ordenados de  $R$ .
- Enumere os elementos do domínio e da imagem de  $R$ .
- Faça o gráfico cartesiano de  $R$ .

**136.** Qual é o domínio da relação

$$f = \left\{ (x, y) \in \mathbb{R} \times \mathbb{R} \mid y = \frac{2}{4 - x^2} \right\}?$$

**137.** Se  $R$  é a relação binária de  $A = \{x \in \mathbb{R} \mid 1 \leq x \leq 6\}$  em  $B = \{y \in \mathbb{R} \mid 1 \leq y \leq 4\}$ , definida por

$$x R y \iff x = 2y$$

forneça:

- a representação cartesiana de  $A \times B$ ;
- a representação cartesiana de  $R$ ;
- o domínio e a imagem de  $R$ .

**138.** Se  $R$  e  $S$  são as relações binárias de  $A = \{x \in \mathbb{Z} \mid -2 \leq x \leq 5\}$  em  $B = \{y \in \mathbb{Z} \mid -2 \leq y \leq 3\}$  definidas por:

$$x R y \iff 2 \text{ divide } (x - y)$$

$$x S y \iff (x - 1)^2 = (y - 2)^2.$$

forneça:

- as representações cartesianas de  $R$  e de  $S$ ;
- o domínio e a imagem de  $R$  e de  $S$ ;
- $R \cap S$ .

## VI. Relação inversa

**68.** Dada uma relação binária  $R$  de  $A$  em  $B$ , consideremos o conjunto

$$R^{-1} = \{(y, x) \in B \times A \mid (x, y) \in R\}.$$

Como  $R^{-1}$  é subconjunto de  $B \times A$ , então  $R^{-1}$  é uma relação binária de  $B$  em  $A$ , à qual daremos o nome de *relação inversa de  $R$* .

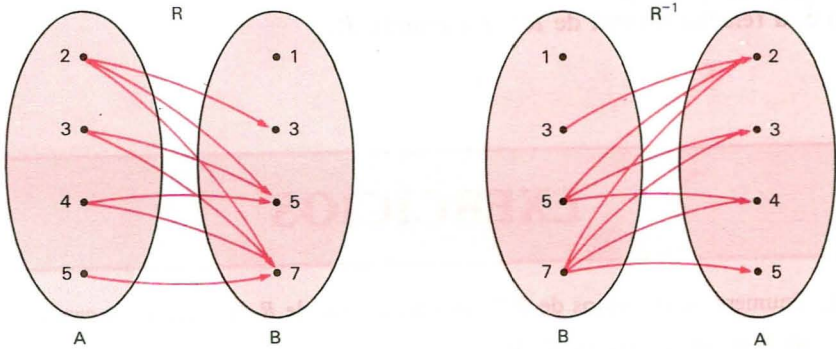
$$(y, x) \in R^{-1} \iff (x, y) \in R$$

Decorre dessa definição que  $R^{-1}$  é o conjunto dos pares ordenados obtidos a partir dos pares ordenados de  $R$  invertendo-se a ordem dos termos em cada par.

*Exemplos*

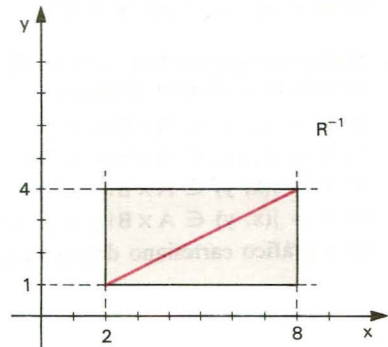
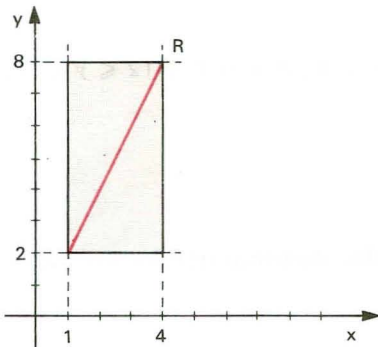
1º) Se  $A = \{2, 3, 4, 5\}$  e  $B = \{1, 3, 5, 7\}$ , quais são os elementos de  $R = \{(x, y) \in A \times B \mid x < y\}$  e de  $R^{-1}$ ?

Utilizando o esquema das flechas,



temos:  $R = \{(2, 3), (2, 5), (2, 7), (3, 5), (3, 7), (4, 5), (4, 7), (5, 7)\}$   
 e  $R^{-1} = \{(3, 2), (5, 2), (7, 2), (5, 3), (7, 3), (5, 4), (7, 4), (7, 5)\}$ .

2º) Se  $A = \{x \in \mathbb{R} \mid 1 \leq x \leq 4\}$  e  $B = \{y \in \mathbb{R} \mid 2 \leq y \leq 8\}$ , representar no plano cartesiano as relações  $R = \{(x, y) \in A \times B \mid y = 2x\}$  e sua inversa  $R^{-1}$ .



## VII. Propriedades das relações

**69.** São evidentes as seguintes propriedades:

$$1^{\text{a}}) D(R^{-1}) = \text{Im}(R)$$

isto é, o domínio de  $R^{-1}$  é igual à imagem de  $R$ .

$$2^{\text{a}}) \text{Im}(R^{-1}) = D(R)$$

isto é, a imagem de  $R^{-1}$  é igual ao domínio de  $R$ .

$$3^{\text{a}}) (R^{-1})^{-1} = R$$

isto é, a relação inversa de  $R^{-1}$  é a relação  $R$ .

## EXERCÍCIOS

**139.** Enumere os elementos de  $R^{-1}$ , relação inversa de  $R$ , nos seguintes casos:

a)  $R = \{(1, 2), (3, 1), (2, 3)\}$

b)  $R = \{(1, -1), (2, -1), (3, -1), (-2, 1)\}$

c)  $R = \{(-3, -2), (1, 3), (-2, -3), (3, 1)\}$

**140.** Enumere os elementos e esboce os gráficos de  $R$  e  $R^{-1}$ , relações binárias em  $A = \{x \in \mathbb{N} \mid x \leq 10\}$ , nos seguintes casos:

a)  $R = \{(x, y) \in A^2 \mid x + y = 8\}$

b)  $R = \{(x, y) \in A^2 \mid x + 2y = 10\}$

c)  $R = \{(x, y) \in A^2 \mid y = (x - 3)^2 + 1\}$

d)  $R = \{(x, y) \in A^2 \mid y = 2^x\}$

**141.** Dados os conjuntos  $A = \{x \in \mathbb{R} \mid 1 \leq x \leq 6\}$ ,  $B = \{y \in \mathbb{R} \mid 2 \leq y \leq 10\}$  e as seguintes relações binárias:

a)  $R = \{(x, y) \in A \times B \mid x = y\}$

b)  $S = \{(x, y) \in A \times B \mid y = 2x\}$

c)  $T = \{(x, y) \in A \times B \mid y = x + 2\}$

d)  $V = \{(x, y) \in A \times B \mid x + y = 7\}$

dê o gráfico cartesiano dessas relações e das respectivas relações inversas.

# Introdução às Funções

## I. Conceito de função

### 70. Exemplos iniciais

Vamos considerar, por exemplo, os conjuntos

$$A = \{0, 1, 2, 3\} \quad \text{e} \quad B = \{-1, 0, 1, 2, 3\}$$

e as seguintes relações binárias de  $A$  em  $B$ :

$$R = \{(x, y) \in A \times B \mid y = x + 1\}$$

$$S = \{(x, y) \in A \times B \mid y^2 = x^2\}$$

$$T = \{(x, y) \in A \times B \mid y = x\}$$

$$V = \{(x, y) \in A \times B \mid y = (x - 1)^2 - 1\}$$

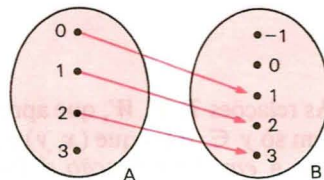
$$W = \{(x, y) \in A \times B \mid y = 2\}$$

Analisando cada uma das relações, temos:

a)  $R = \{(0, 1), (1, 2), (2, 3)\}$

Para cada elemento  $x \in A$ , com exceção do 3, existe um só elemento  $y \in B$  tal que  $(x, y) \in R$ .

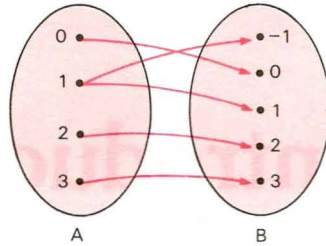
Para o elemento 3  $\in A$ , não existe  $y \in B$  tal que  $(3, y) \in R$ .





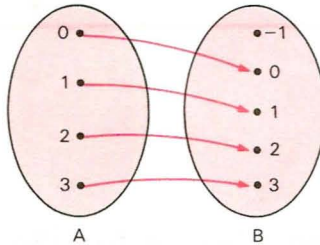
b)  $S = \{(0, 0), (1, 1), (1, -1), (2, 2), (3, 3)\}$

Para cada elemento  $x \in A$ , com exceção do 1, existe um só elemento  $y \in B$  tal que  $(x, y) \in S$ . Para o elemento  $1 \in A$  existem dois elementos de  $B$ , o 1 e o  $-1$ , tais que  $(1, 1) \in S$  e  $(1, -1) \in S$ .



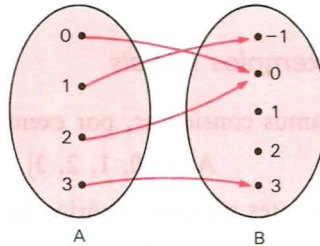
c)  $T = \{(0, 0), (1, 1), (2, 2), (3, 3)\}$

Para todo elemento  $x \in A$ , sem exceção, existe um só elemento  $y \in B$  tal que  $(x, y) \in T$ .



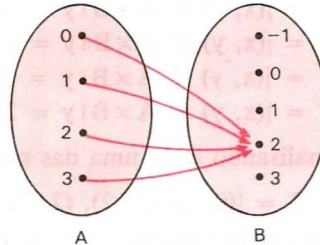
d)  $V = \{(0, 0), (1, -1), (2, 0), (3, 3)\}$

Para todo elemento  $x \in A$ , sem exceção, existe um só elemento  $y \in B$  tal que  $(x, y) \in V$ .



e)  $W = \{(0, 2), (1, 2), (2, 2), (3, 2)\}$

Para todo elemento  $x \in A$ , sem exceção, existe um só elemento  $y \in B$  tal que  $(x, y) \in W$ .



As relações  $T, V, W$ , que apresentam a particularidade: “para todo  $x \in A$  existe um só  $y \in B$  tal que  $(x, y)$  pertence à relação”, recebem o nome de *aplicação de A em B* ou *função definida em A com imagens em B*.

## II. Definição de função

**71.** Dados dois conjuntos  $A$  e  $B^{(*)}$ , não vazios, uma relação  $f$  de  $A$  em  $B$  recebe o nome de *aplicação de  $A$  em  $B$*  ou *função definida em  $A$  com imagens em  $B$*  se, e somente se, para todo  $x \in A$  existe um só  $y \in B$  tal que  $(x, y) \in f$ .

$$f \text{ é aplicação de } A \text{ em } B \iff (\forall x \in A, \exists! y \in B \mid (x, y) \in f)$$

### 72. Esquema de flechas

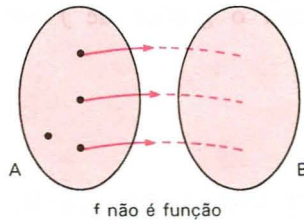
Vejamos agora, com o auxílio do esquema das flechas, que condições deve satisfazer uma relação  $f$  de  $A$  em  $B$  para ser aplicação (ou função).

1º) É necessário que todo elemento  $x \in A$  participe de pelo menos um par  $(x, y) \in f$ , isto é, *todo elemento de  $A$  deve servir como ponto de partida de flecha*.

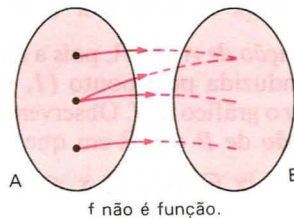
2º) É necessário que cada elemento  $x \in A$  participe de apenas um único par  $(x, y) \in f$ , isto é, *cada elemento de  $A$  deve servir como ponto de partida de uma única flecha*.

Uma relação  $f$  não é aplicação (ou função) se não satisfizer uma das condições acima, isto é:

1º) se existir um elemento de  $A$  do qual não parta flecha alguma ou



2º) se existir um elemento de  $A$  do qual partam duas ou mais flechas.



(\*) Em todo o nosso estudo de funções, fica estabelecido que  $A$  e  $B$  são conjuntos formados de números reais, isto é,  $A$  e  $B$  contidos em  $\mathbb{R}$ .

### 73. Gráfico cartesiano

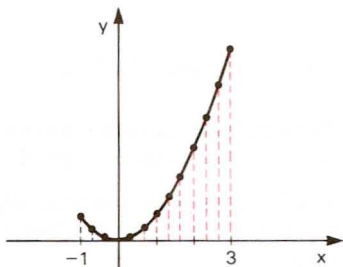
Podemos verificar pela representação cartesiana da relação  $f$  de  $A$  em  $B$  se  $f$  é ou não função: basta verificarmos se a *reta paralela ao eixo  $y$*  conduzida pelo ponto  $(x, 0)$ , em que  $x \in A$ , *encontra sempre o gráfico de  $f$  em um só ponto*.

#### Exemplos

1º) A relação  $f$  de  $A$  em  $\mathbb{R}$ , com

$$A = \{x \in \mathbb{R} \mid -1 \leq x \leq 3\},$$

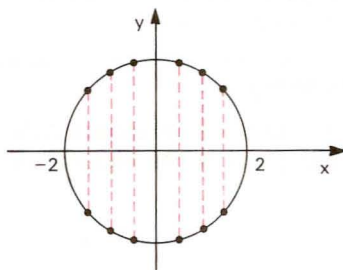
representada ao lado, *é função*, pois toda reta vertical conduzida pelos pontos de abscissa  $x \in A$  *encontra sempre o gráfico de  $f$  em um só ponto*.



2º) A relação  $f$  de  $A$  em  $\mathbb{R}$ , representada ao lado, em que

$$A = \{x \in \mathbb{R} \mid -2 \leq x \leq 2\},$$

*não é função*, pois há retas verticais que encontram o gráfico de  $f$  em dois pontos.

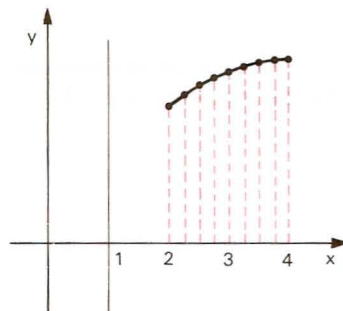


3º) A relação  $f$  de  $A$  em  $\mathbb{R}$ , representada ao lado, em que

$$A = \{x \in \mathbb{R} \mid 0 \leq x \leq 4\},$$

*não é função de  $A$  em  $\mathbb{R}$* , pois a reta vertical conduzida pelo ponto  $(1, 0)$  *não encontra* o gráfico de  $f$ . Observemos que  $f$  *é função de  $B$  em  $\mathbb{R}$*  em que

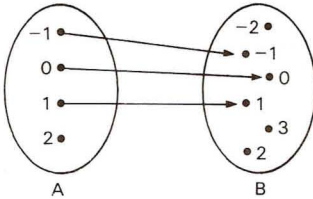
$$B = \{x \in \mathbb{R} \mid 2 \leq x \leq 4\}.$$



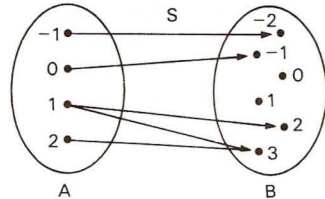
# EXERCÍCIOS

**142.** Estabeleça se cada um dos esquemas das relações abaixo define ou não uma função de  $A = \{-1, 0, 1, 2\}$  em  $B = \{-2, -1, 0, 1, 2, 3\}$ . Justifique.

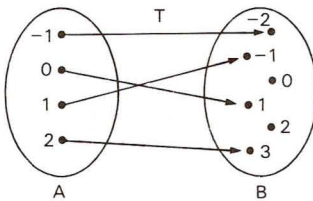
a)



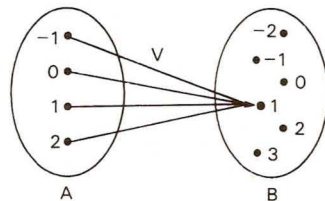
b)



c)

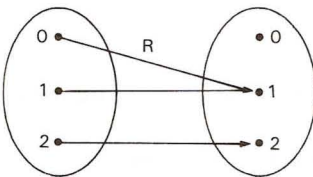


d)

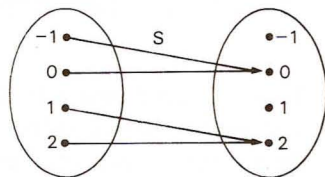


**143.** Quais dos esquemas abaixo definem uma função de  $A = \{0, 1, 2\}$  em  $B = \{-1, 0, 1, 2\}$ ?

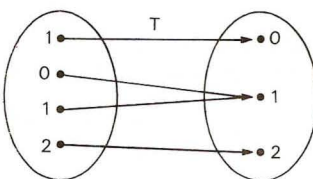
a)



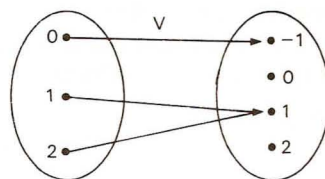
b)



c)



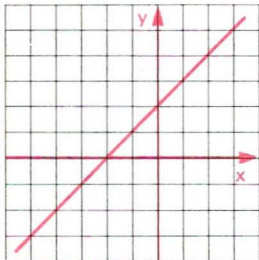
d)



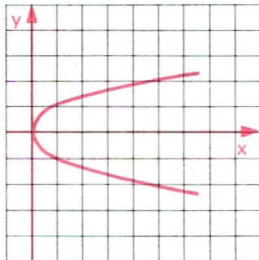


**144.** Quais das relações de  $\mathbb{R}$  em  $\mathbb{R}$ , cujos gráficos aparecem abaixo, são funções? Justifique.

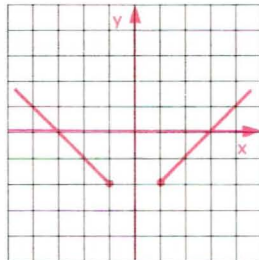
a)



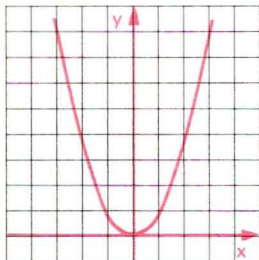
b)



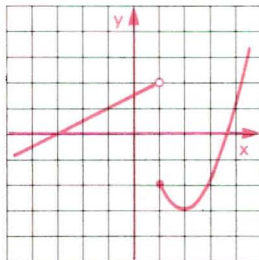
c)



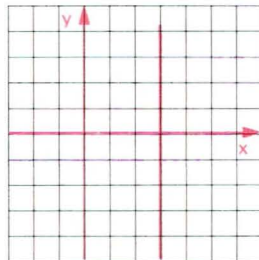
d)



e)



f)



### III. Notação das funções

**74.** Toda função é uma relação binária de  $A$  em  $B$ ; portanto, toda função é um conjunto de pares ordenados.

Geralmente, existe uma sentença aberta  $y = f(x)$  que expressa a lei mediante a qual, dado  $x \in A$ , determina-se  $y \in B$  tal que  $(x, y) \in f$ , então  $f = \{(x, y) \mid x \in A, y \in B \text{ e } y = f(x)\}$ .

Isso significa que, dados os conjuntos  $A$  e  $B$ , a função  $f$  tem a lei de correspondência  $y = f(x)$ .

Para indicarmos uma função  $f$ , definida em  $A$  com imagens em  $B$  segundo a lei de correspondência  $y = f(x)$ , usaremos uma das seguintes notações:

$$f: A \longrightarrow B \quad \text{ou} \quad A \xrightarrow{f} B \quad \text{ou} \quad f: A \rightarrow B \quad \text{tal que} \\ x \longmapsto f(x) \quad \text{ou} \quad x \longmapsto f(x) \quad \text{ou} \quad y = f(x)$$

*Exemplos*

$$1^{\circ}) f: A \longrightarrow B \quad \text{tal que} \quad y = 2x$$

é uma função que associa a cada  $x$  de  $A$  um  $y$  de  $B$  tal que  $y = 2x$ .

$$2^{\circ}) f: \mathbb{R} \longrightarrow \mathbb{R} \quad \text{tal que} \quad y = x^2$$

é uma função que leva a cada  $x$  de  $\mathbb{R}$  um  $y$  de  $\mathbb{R}$  tal que  $y = x^2$ .

$$3^{\circ}) f: \mathbb{R}_+ \longrightarrow \mathbb{R} \quad \text{tal que} \quad y = \sqrt{x}$$

é uma função que faz corresponder a cada  $x \in \mathbb{R}_+$  um  $y \in \mathbb{R}$  tal que  $y = \sqrt{x}$ .

**75.** *Imagem de um elemento*

Se  $(a, b) \in f$ , como já dissemos anteriormente, o elemento  $b$  é chamado *imagem* de  $a$  pela aplicação  $f$  ou *valor* de  $f$  no elemento  $a$ , e indicamos:

$$f(a) = b$$

que se lê “ $f$  de  $a$  é igual a  $b$ ”.

*Exemplo*

Seja a função

$$f: \mathbb{R} \longrightarrow \mathbb{R}$$

$$x \longmapsto 2x + 1, \text{ então:}$$

a) a imagem de  $0$  pela aplicação  $f$  é  $1$ , isto é:

$$f(0) = 2 \cdot 0 + 1 = 1$$

b) a imagem de  $-2$  pela aplicação  $f$  é  $-3$ , isto é:

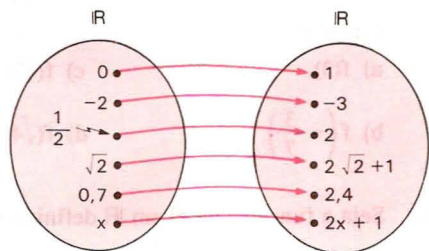
$$f(-2) = 2 \cdot (-2) + 1 = -3$$

c) analogamente

$$f\left(\frac{1}{2}\right) = 2 \cdot \frac{1}{2} + 1 = 2$$

$$f(\sqrt{2}) = 2 \cdot \sqrt{2} + 1$$

$$f(0,7) = 2 \cdot 0,7 + 1 = 2,4$$



## EXERCÍCIOS

**145.** Qual é a notação das seguintes funções de  $\mathbb{R}$  em  $\mathbb{R}$ ?

- a)  $f$  associa cada número real ao seu oposto.
- b)  $g$  associa cada número real ao seu cubo.
- c)  $h$  associa cada número real ao seu quadrado menos 1.
- d)  $k$  associa cada número real ao número 2.

**146.** Qual é a notação das seguintes funções?

- a)  $f$  é função de  $\mathbb{Q}$  em  $\mathbb{Q}$  que associa cada número racional ao seu oposto adicionado com 1.
- b)  $g$  é a função de  $\mathbb{Z}$  em  $\mathbb{Q}$  que associa cada número inteiro à potência de base 2 desse número.
- c)  $h$  é a função de  $\mathbb{R}^*$  em  $\mathbb{R}$  que associa cada número real ao seu inverso.

**147.** Seja  $f$  a função de  $\mathbb{Z}$  em  $\mathbb{Z}$  definida por  $f(x) = 3x - 2$ . Calcule:

- a)  $f(2)$
- b)  $f(-3)$
- c)  $f(0)$
- d)  $f\left(\frac{3}{2}\right)$

**148.** Seja  $f$  a função de  $\mathbb{R}$  em  $\mathbb{R}$  definida por  $f(x) = x^2 - 3x + 4$ . Calcule:

- a)  $f(2)$
- b)  $f(-1)$
- c)  $f\left(\frac{1}{2}\right)$
- d)  $f\left(-\frac{1}{3}\right)$
- e)  $f(\sqrt{3})$
- f)  $f(1 - \sqrt{2})$

**149.** Seja  $P$  o único número natural que é primo e par. Sendo  $f(x) = (0,25)^{-x} + x - 1$ , determine o valor de  $f(P)$ .

**150.** Seja  $f$  a função de  $\mathbb{R}$  em  $\mathbb{R}$  assim definida

$$f(x) = \begin{cases} 1 & \text{se } x \in \mathbb{Q} \\ x + 1 & \text{se } x \notin \mathbb{Q} \end{cases}$$

Calcule:

- a)  $f(3)$
- b)  $f\left(-\frac{3}{7}\right)$
- c)  $f(\sqrt{2})$
- d)  $f(\sqrt{4})$
- e)  $f(\sqrt{3} - 1)$
- f)  $f(0,75)$

**151.** Seja a função  $f$  de  $\mathbb{R}$  em  $\mathbb{R}$  definida por  $f(x) = \frac{2x - 3}{5}$ . Qual é o elemento do domínio que tem  $-\frac{3}{4}$  como imagem?

**Solução**

Queremos determinar o valor de  $x$  tal que  $f(x) = -\frac{3}{4}$ ;

basta, portanto, resolver a equação  $\frac{2x-3}{5} = -\frac{3}{4}$ .

Resolvendo a equação:

$$\frac{2x-3}{5} = -\frac{3}{4} \iff 4(2x-3) = -3 \cdot 5 \iff 8x-12 = -15 \iff x = -\frac{3}{8}.$$

Resposta: O elemento é  $x = -\frac{3}{8}$ .

- 152.** Seja a função  $f$  de  $\mathbb{R} - \{1\}$  em  $\mathbb{R}$  definida por  $f(x) = \frac{3x+2}{x-1}$ . Qual é o elemento do domínio que tem imagem 2?
- 153.** Quais são os valores do domínio da função real definida por  $f(x) = x^2 - 5x + 9$  que produzem imagem igual a 3?
- 154.** A função  $f$  de  $\mathbb{R}$  em  $\mathbb{R}$  é tal que, para todo  $x \in \mathbb{R}$ ,  $f(3x) = 3f(x)$ . Se  $f(9) = 45$ , calcule  $f(1)$ .

**Solução**

$$\text{Fazendo } 3x = 9 \implies x = 3$$

$$f(9) = f(3 \cdot 3) = 3 \cdot f(3) = 45 = 3 \cdot 15 \implies f(3) = 15$$

$$\text{Fazendo } 3x = 3 \implies x = 1$$

$$f(3) = f(3 \cdot 1) = 3 \cdot f(1) = 15 = 3 \cdot 5 \implies f(1) = 5$$

Portanto,  $f(1) = 5$ .

- 155.** A função  $f: \mathbb{R} \rightarrow \mathbb{R}$  tem a propriedade:  $f(m \cdot x) = m \cdot f(x)$  para  $m \in \mathbb{R}$  e  $x \in \mathbb{R}$ . Calcule  $f(0)$ .
- 156.** É dada uma função real tal que:
- $f(x) \cdot f(y) = f(x+y)$
  - $f(1) = 2$
  - $f(\sqrt{2}) = 4$
- Calcule  $f(3 + \sqrt{2})$ .



**157.** Seja  $f$  uma função, definida no conjunto dos números naturais, tal que:

$$f(n + 1) = 2f(n) + 3$$

para todo  $n$  natural.

- Supondo  $f(0) = 0$ , calcule  $f(1), f(2), f(3), f(4), \dots$  e descubra a “fórmula geral” de  $f(n)$ .
- Prove por indução finita a fórmula descoberta.

## IV. Domínio e imagem

Considerando que toda função  $f$  de  $A$  em  $B$  é uma relação binária, então  $f$  tem um *domínio* e uma *imagem*.

### 76. Domínio

Chamamos de *domínio* o conjunto  $D$  dos elementos  $x \in A$  para os quais existe  $y \in B$  tal que  $(x, y) \in f$ . Como, pela definição de função, todo elemento de  $A$  tem essa propriedade, temos nas funções:

**domínio = conjunto de partida**

isto é,

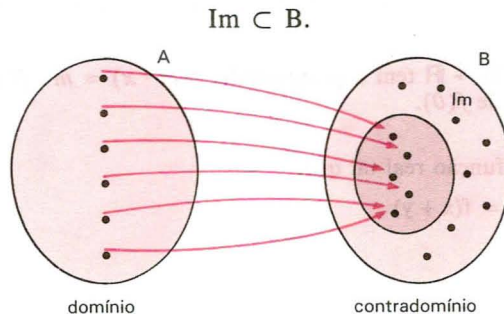
$$D = A.$$

### 77. Imagem

Chamamos de *imagem* o conjunto  $Im$  dos elementos  $y \in B$  para os quais existe  $x \in A$  tal que  $(x, y) \in f$ ; portanto:

**imagem é subconjunto do contradomínio**

isto é,



Notemos, que, feita a representação cartesiana da função  $f$ , temos:

**Domínio**

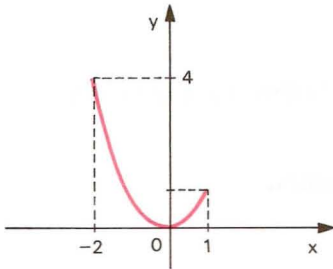
$(D)$  é o conjunto das abscissas dos pontos tais que as retas *verticais* conduzidas por esses pontos interceptam o gráfico de  $f$ , isto é, é o conjunto formado por todas as abscissas dos pontos do gráfico de  $f$ .

**Imagem**

$(Im)$  é o conjunto das ordenadas dos pontos tais que as retas *horizontais* conduzidas por esses pontos interceptam o gráfico de  $f$ , isto é, é o conjunto formado por todas as ordenadas dos pontos do gráfico de  $f$ .

**Exemplos**

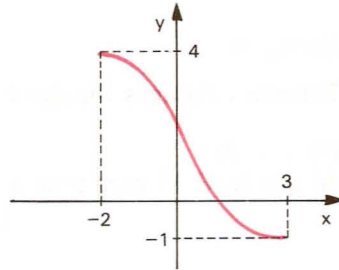
1º)



$$D = \{x \in \mathbb{R} \mid -2 \leq x \leq 1\}$$

$$Im = \{y \in \mathbb{R} \mid 0 \leq y \leq 4\}$$

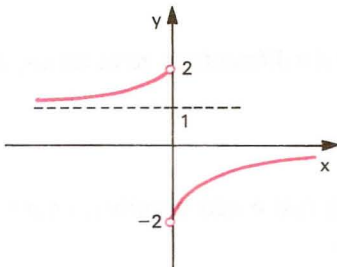
2º)



$$D = \{x \in \mathbb{R} \mid -2 \leq x \leq 3\}$$

$$Im = \{y \in \mathbb{R} \mid -1 \leq y \leq 4\}$$

3º)

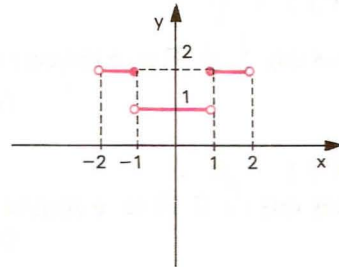


$$D = \{x \in \mathbb{R} \mid x \neq 0\}$$

$$Im = \{y \in \mathbb{R} \mid -2 < y < 0$$

$$\text{ou } 1 < y < 2\}$$

4º)



$$D = \{x \in \mathbb{R} \mid -2 < x < 2\}$$

$$Im = \{1, 2\}$$

## 78. Domínio das funções numéricas

As funções que apresentam maior interesse na Matemática são as funções numéricas, isto é, aquelas em que o domínio  $A$  e o contradomínio  $B$  são subconjuntos de  $\mathbb{R}$ . As *funções numéricas* são também chamadas funções reais de variável real.

Observemos que uma função  $f$  fica completamente definida quando são dados o seu domínio  $D$ , o seu contradomínio e a lei de correspondência  $y = f(x)$ .

Quando nos referimos à função  $f$  e damos apenas a sentença aberta  $y = f(x)$  que a define, subentendemos que  $D$  é o conjunto dos números reais  $x$  cujas imagens pela aplicação  $f$  são números reais, isto é,  $D$  é formado por todos os números reais  $x$  para os quais é possível calcular  $f(x)$ .

$$x \in D \iff f(x) \in \mathbb{R}.$$

### Exemplos

Tomemos algumas funções e determinemos o seu domínio.

$$1^\circ) y = 2x$$

notando que  $2x \in \mathbb{R}$  para todo  $x \in \mathbb{R}$ , temos:

$$D = \mathbb{R}.$$

$$2^\circ) y = x^2$$

notando que  $x^2 \in \mathbb{R}$  para todo  $x \in \mathbb{R}$ , temos:

$$D = \mathbb{R}.$$

$$3^\circ) y = \frac{1}{x}$$

notemos que  $\frac{1}{x} \in \mathbb{R}$  se, e somente se,  $x$  é real e diferente de zero; temos, então:

$$D = \mathbb{R}^*.$$

$$4^\circ) y = \sqrt{x}$$

notemos que  $\sqrt{x} \in \mathbb{R}$  se, e somente se,  $x$  é real e não negativo; então:

$$D = \mathbb{R}_+.$$

$$5^\circ) y = \sqrt[3]{x}$$

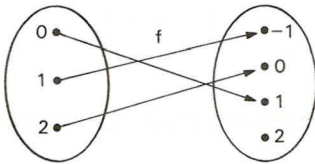
notando que  $\sqrt[3]{x} \in \mathbb{R}$  para todo  $x \in \mathbb{R}$ , temos:

$$D = \mathbb{R}.$$

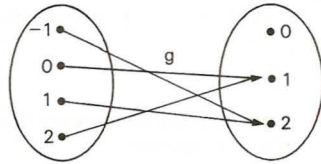
# EXERCÍCIOS

158. Estabeleça o domínio e a imagem das funções abaixo:

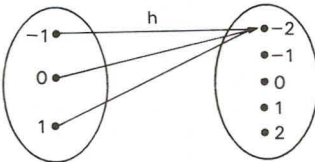
a)



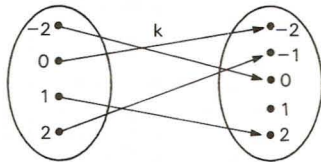
b)



c)

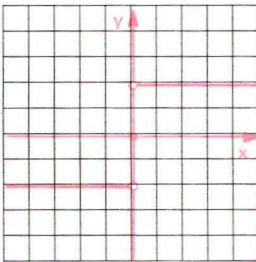


d)

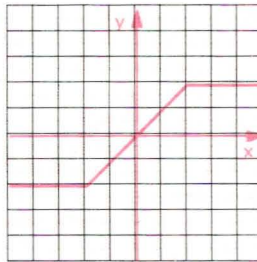


159. Nos gráficos cartesianos das funções abaixo representadas, determine o conjunto imagem.

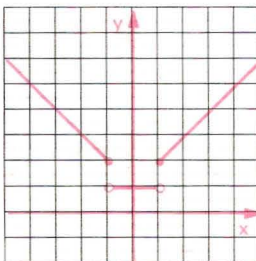
a)



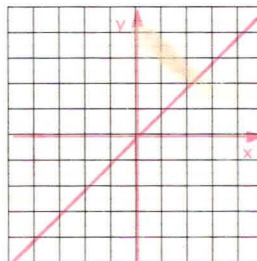
b)



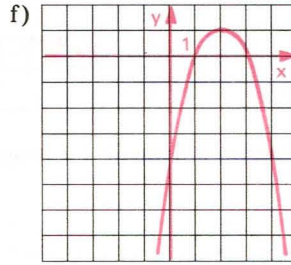
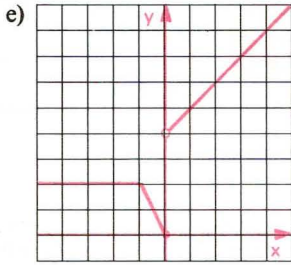
c)



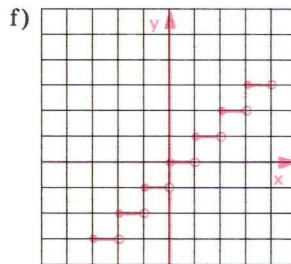
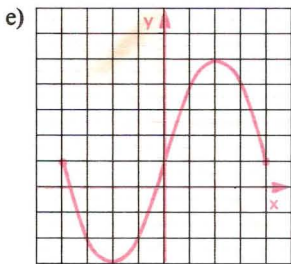
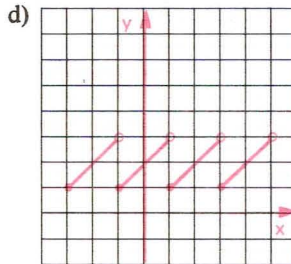
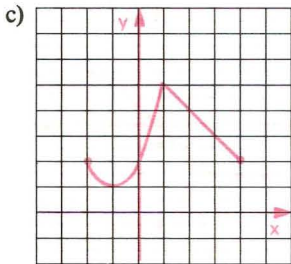
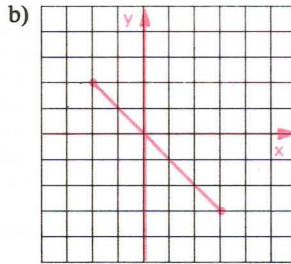
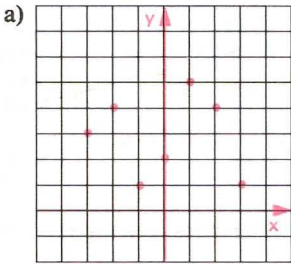
d)







**160.** Considerando que os gráficos abaixo são gráficos de funções, estabeleça o domínio e a imagem.



161. Dê o domínio das seguintes funções reais:

a)  $f(x) = 3x + 2$

d)  $p(x) = \sqrt{x - 1}$

g)  $s(x) = \sqrt[3]{2x - 1}$

b)  $g(x) = \frac{1}{x + 2}$

e)  $q(x) = \frac{1}{\sqrt{x + 1}}$

h)  $t(x) = \frac{1}{\sqrt[3]{2x + 3}}$

c)  $h(x) = \frac{x - 1}{x^2 - 4}$

f)  $r(x) = \frac{\sqrt{x + 2}}{x - 2}$

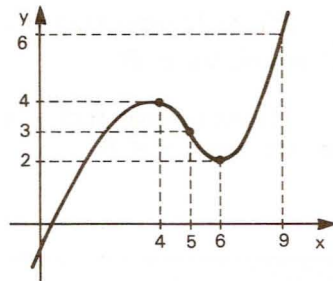
i)  $u(x) = \frac{\sqrt[3]{x + 2}}{x - 3}$

162. Sendo  $x \geq 4$ , determine o conjunto imagem da função  $y = \sqrt{x} + \sqrt{x - 4}$ .

163. Se  $f: A \rightarrow B$  é uma função e se  $D \subset A$ , chamamos de imagem de  $D$  pela função  $f$  ao conjunto anotado e definido por:

$$f < D > = \{y \in B \mid \text{existe } x \in D \text{ tal que } f(x) = y\}.$$

Se  $g$  é a função de  $\mathbb{R}$  em  $\mathbb{R}$  cujo gráfico está representado ao lado, determine a imagem  $g < [5; 9] >$  do intervalo fechado  $[5; 9]$ .



## V. Funções iguais

79. Duas funções  $f: A \rightarrow B$  e  $g: C \rightarrow D$  são iguais se, e somente se, apresentarem:

- domínios iguais ( $A = C$ )
- contradomínios iguais ( $B = D$ )
- $f(x) = g(x)$  para todo  $x$  do domínio.

Isso equivale a dizer que duas funções  $f$  e  $g$  são iguais se, e somente se, forem conjuntos iguais de pares ordenados.

### Exemplos

1º) Se  $A = \{1, 2, 3\}$  e  $B = \{-2, -1, 0, 1, 2\}$ , então as funções de  $A$  em  $B$  definidas por:

$$f(x) = x - 1 \quad \text{e} \quad g(x) = \frac{x^2 - 1}{x + 1}$$

são iguais, pois:

$$x = 1 \Rightarrow f(1) = 1 - 1 = 0 \text{ e } g(1) = \frac{1 - 1}{1 + 1} = 0$$

$$x = 2 \Rightarrow f(2) = 2 - 1 = 1 \text{ e } g(2) = \frac{4 - 1}{2 + 1} = 1$$

$$x = 3 \Rightarrow f(3) = 3 - 1 = 2 \text{ e } g(3) = \frac{9 - 1}{3 + 1} = 2$$

ou seja,  $f = g = \{(1, 0), (2, 1), (3, 2)\}$ .

2º) As funções  $f(x) = \sqrt{x^2}$  e  $g(x) = |x|$  de  $\mathbb{R}$  em  $\mathbb{R}$  são iguais, pois  $\sqrt{x^2} = |x|$ ,  $\forall x \in \mathbb{R}$ .

3º) As funções  $f(x) = x$  e  $g(x) = |x|$  de  $\mathbb{R}$  em  $\mathbb{R}$  não são iguais, pois  $x \neq |x|$  para  $x < 0$ .

## EXERCÍCIOS

**164.** Sejam as funções  $f$ ,  $g$  e  $h$  de  $\mathbb{R}$  em  $\mathbb{R}$  definidas por  $f(x) = x^3$ ,  $g(y) = y^3$  e  $h(z) = z^3$ . Quais delas são iguais entre si?

**165.** As funções:  $f$  de  $\mathbb{R}$  em  $\mathbb{R}$  definida por  $f(x) = \sqrt{x^2}$  e  $g$  de  $\mathbb{R}$  em  $\mathbb{R}$  definida por  $g(x) = x$  são iguais? Justifique.

**166.** As funções  $f$  e  $g$  cujas leis de correspondência são

$$f(x) = \sqrt{\frac{x-1}{x+1}} \text{ e } g(x) = \frac{\sqrt{x-1}}{\sqrt{x+1}} \text{ podem ser iguais? Justifique.}$$

**167.** As funções  $f$  e  $g$  de  $A = \{x \in \mathbb{R} \mid -1 \leq x \leq 0 \text{ ou } x > 1\}$  em  $\mathbb{R}$ , definidas por:

$$f(x) = \sqrt{\frac{x+1}{x^2-x}} \text{ e } g(x) = \frac{\sqrt{x+1}}{\sqrt{x^2-x}} \text{ são iguais? Justifique.}$$

**168.** As funções:

$$f: \mathbb{R} \rightarrow \mathbb{R} \quad \text{e} \quad g: \mathbb{R} - \{1\} \rightarrow \mathbb{R} \quad \text{são iguais? Justifique.}$$

$$x \mapsto x + 1 \quad \quad \quad x \mapsto \frac{x^2 - 1}{x - 1}$$

## LEITURA

## Stevin e as Frações Decimais

Hygino H. Domingues

Os números racionais não inteiros surgiram naturalmente na história da Matemática: na divisão de um inteiro por outro, quando o primeiro não é múltiplo do segundo. Os babilônios, por exemplo, uma vez que dividir por  $a$  equivale a multiplicar por  $1/a$ , tinham até tabelas de inversos no seu sistema sexagesimal. Essas tabelas mostravam, por exemplo, expressões como “igi 2 gál-bi 30” e “igi 3 gál-bi 20”, que significam, respectivamente,  $1/2 = 30/60$  e  $1/3 = 20/60$ . E sabiam que inversos  $1/a$ , em que  $a = 2^\alpha 3^\beta 5^\gamma$ , têm representação sexagesimal finita.

Quanto aos números irracionais, é possível que acreditassem, erradamente, como é bem sabido, que as representações aproximadas que obtinham (para  $\sqrt{2}$ , por exemplo) pudessem se transformar em exatas se mais casas sexagesimais fossem alcançadas.

O importante porém é que, mediante a notação posicional, os babilônios representavam (aproximadamente ou não) os números reais que lhes surgissem, sem o uso de denominadores. Vestígios disso ainda se encontram nas unidades de medida de ângulo e tempo. Por exemplo  $2^\circ 15' 32''$  significa  $2 + 15/60 + 32/3600$  graus.

Os egípcios, por sua vez, em geral expressavam um quociente não exato entre dois inteiros mediante uma soma de frações unitárias (de numerador 1) — o que sempre é possível, embora isso só fosse conhecido por eles empiricamente. Por exemplo, no papiro Rhind, importante documento egípcio de natureza matemática (c. 1800 a.C.), o escriba obteve:  $19/8 = 2 + 1/4 + 1/8$ . Quanto aos números irracionais, quando ocorriam em problemas algébricos, eram expressos aproximadamente através de números inteiros ou frações, sem nenhuma preocupação de ordem teórica.

Os gregos, embora tivessem criado uma matemática incomparavelmente superior à de babilônios e egípcios, sob o aspecto teórico, na questão em pauta acabaram buscando inspiração nos egípcios e babilônios. Assim é que de início usaram frações unitárias e, em séculos posteriores, frações comuns e sexagesimais. Estas, por exemplo, aparecem na obra trigonométrica de Ptolomeu (séc. II d.C.) e eram algo estranho ao sistema de numeração grego como os graus, minutos e segundos o são para o nosso.



E até o Renascimento, quando o uso de frações decimais começou a ser insistentemente recomendado, pouco mudara nesse panorama. E o maior responsável pela disseminação de tal uso foi o maior matemático dos Países Baixos na época: Simon Stevin.

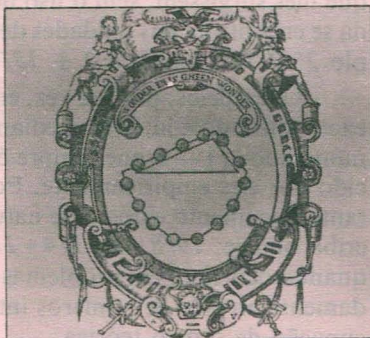
Stevin (1548-1620) ao que parece começou a vida como guarda-livros. Mas, por conciliar grande formação teórica nas ciências exatas e um espírito agudamente prático, chamou a atenção do príncipe Maurício de Orange. Esta foi a porta pela qual se tornou engenheiro militar e, posteriormente, comissário de obras de seu país. Seus trabalhos sobre Estática e Hidrostática o notabilizaram entre seus contemporâneos, dada a importância do assunto num país com as características físico-geográficas da Holanda.

Em 1585 publica em Leyden o opúsculo *De thiende (O décimo)* com o qual pretendia ensinar a todos “como efetuar, com facilidade nunca vista, todos os cálculos necessários entre os homens por meio de inteiros sem frações”. A representação ou forma decimal, provavelmente a principal vantagem da notação posicional, depois de oito séculos de uso dos numerais indo-arábicos, finalmente era apresentada de maneira a poder vingar. A notação de Stevin, contudo, não era feliz: num círculo acima ou à direita de cada dígito escrevia o expoente da potência de dez do denominador subentendido. Por exemplo, o número  $\pi$  podia aparecer como  $3 \textcircled{0} 1 \textcircled{1} 4 \textcircled{2} 1 \textcircled{3} 6 \textcircled{4}$ . O uso

da vírgula ou do ponto como separatriz decimal, sugestão de Napier, acabou prevalecendo com o tempo.

Na mesma obra, Stevin apresentou a idéia de criar um sistema unificado decimal de pesos e medidas para todo o mundo, adiantando-se em alguns séculos à sua adoção.

A invenção das frações decimais constitui uma das grandes etapas do desenvolvimento da matemática numérica. E é assim um dos fatores importantes a colocar Stevin entre os notáveis da Matemática em todos os tempos.



Frontispício dos *Principios de estática*, de Simon Stevin (1586), mostrando o *clootcrans* (colar de esferas) e ostentando a inscrição “O que parece ser uma maravilha não é uma maravilha”.

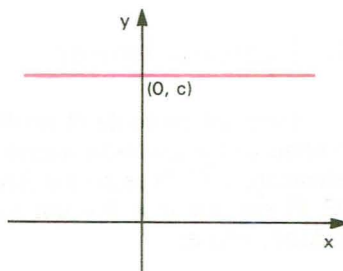
# Função Constante

# Função Afim

## I. Função constante

**80.** Uma aplicação  $f$  de  $\mathbb{R}$  em  $\mathbb{R}$  recebe o nome de *função constante* quando a cada elemento  $x \in \mathbb{R}$  associa sempre o mesmo elemento  $c \in \mathbb{R}$ .

$$f(x) = c$$



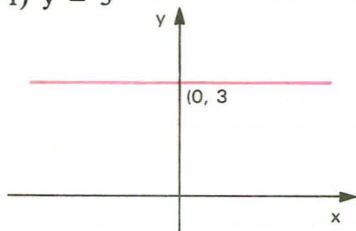
O gráfico da função constante é uma reta paralela ao eixo dos  $x$  passando pelo ponto  $(0, c)$ .

A imagem é o conjunto  $Im = \{c\}$ .

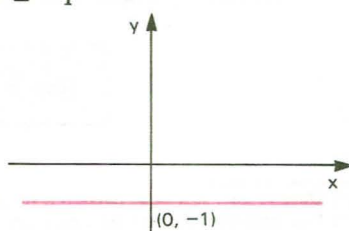
### Exemplos

Construir os gráficos das aplicações de  $\mathbb{R}$  em  $\mathbb{R}$  definida por:

1)  $y = 3$



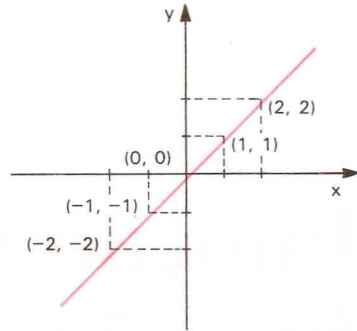
2)  $y = -1$



## II. Função identidade

**81.** Uma aplicação  $f$  de  $\mathbb{R}$  em  $\mathbb{R}$  recebe o nome de *função identidade* quando a cada elemento  $x \in \mathbb{R}$  associa o próprio  $x$ , isto é:

$$f(x) = x$$



O gráfico da função identidade é uma reta que contém as bissetrizes do 1º e 3º quadrantes.

A imagem é  $Im = \mathbb{R}$ .

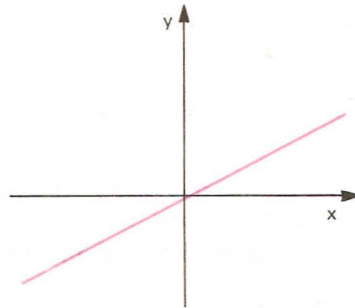
## III. Função linear

**82.** Uma aplicação de  $\mathbb{R}$  em  $\mathbb{R}$  recebe o nome de *função linear* quando a cada elemento  $x \in \mathbb{R}$  associa o elemento  $ax \in \mathbb{R}$  em que  $a \neq 0$  é um número real dado, isto é:

$$f(x) = ax \quad (a \neq 0)$$

Demonstra-se que o gráfico da função linear é uma reta que passa pela origem. (\*\*)

A imagem é  $Im = \mathbb{R}$ .



De fato, qualquer que seja o  $y \in \mathbb{R}$ , existe  $x = \frac{y}{a} \in \mathbb{R}$ ,  $a \neq 0$ , tal que:

$$f(x) = f\left(\frac{y}{a}\right) = a \cdot \frac{y}{a} = y$$

(\*) Observe que, se  $a = 0$ , teremos a função constante  $y = 0$ .

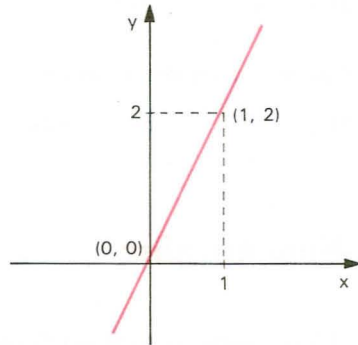
(\*\*) Essa demonstração será feita para um caso mais geral e se encontra na página 100.

*Exemplos*

1º) Construir o gráfico da função  $y = 2x$ . Considerando que dois pontos distintos determinam uma reta e no caso da função linear um dos pontos é a origem, basta atribuir a  $x$  um valor não nulo e calcular o correspondente  $y = 2x$ .

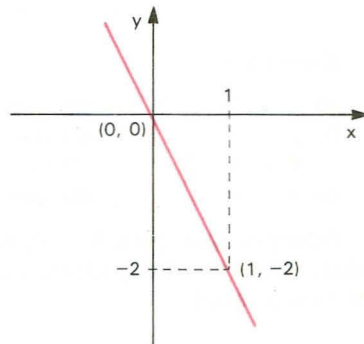
x	$y = 2x$
1	2

Pelos pontos  $P(0, 0)$  e  $Q(1, 2)$  traçamos a reta  $PQ$ , que é precisamente o gráfico da função dada.



2º) Construir o gráfico da função  $y = -2x$ . Analogamente, temos:

x	$y = -2x$
1	-2

**EXERCÍCIOS**

**169.** Construa o gráfico das funções de  $\mathbb{R}$  em  $\mathbb{R}$ :

a)  $y = 2$

c)  $y = -3$

b)  $y = \sqrt{2}$

d)  $y = 0$



**170.** Construa, num mesmo sistema cartesiano, os gráficos das funções de  $\mathbb{R}$  em  $\mathbb{R}$ :

a)  $y = x$                       b)  $y = 2x$                       c)  $y = 3x$                       d)  $y = \frac{x}{2}$

**171.** Construa, num mesmo sistema cartesiano, os gráficos das funções de  $\mathbb{R}$  em  $\mathbb{R}$ :

a)  $y = -x$                       b)  $y = -2x$                       c)  $y = -3x$                       d)  $y = -\frac{x}{2}$

## IV. Função afim

**83.** Uma aplicação de  $\mathbb{R}$  em  $\mathbb{R}$  recebe o nome de *função afim* quando a cada  $x \in \mathbb{R}$  associa o elemento  $(ax + b) \in \mathbb{R}$  em que  $a \neq 0$  e  $b$  são números reais dados.

$$f(x) = ax + b \quad (a \neq 0)$$

### Exemplos

a) $y = 3x + 2$	em que	$a = 3$	e	$b = 2$
b) $y = -2x + 1$	em que	$a = -2$	e	$b = 1$
c) $y = x - 3$	em que	$a = 1$	e	$b = -3$
d) $y = 4x$	em que	$a = 4$	e	$b = 0$

Notemos que, para  $b = 0$ , a função afim  $y = ax + b$  se transforma na função linear  $y = ax$ ; podemos, então, dizer que a função linear é uma particular função afim.

## V. Gráfico

### 84. Teorema

“O gráfico cartesiano da função  $f(x) = ax + b$  ( $a \neq 0$ ) é uma reta.”

#### Demonstração

Sejam  $A$ ,  $B$  e  $C$  três pontos quaisquer, distintos dois a dois, do gráfico cartesiano da função  $y = ax + b$  ( $a \neq 0$ ) e  $(x_1, y_1)$ ,  $(x_2, y_2)$  e  $(x_3, y_3)$ , respectivamente, as coordenadas cartesianas desses pontos.

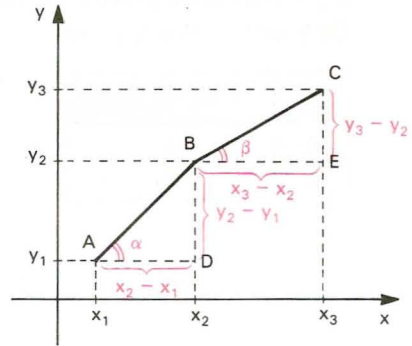
Para provarmos que os pontos  $A$ ,  $B$  e  $C$  pertencem à mesma reta, mostremos, inicialmente, que os triângulos retângulos  $ABD$  e  $BCE$  são semelhantes.

De fato:

$$(x_1, y_1) \in f \Rightarrow y_1 = ax_1 + b \quad \textcircled{1}$$

$$(x_2, y_2) \in f \Rightarrow y_2 = ax_2 + b \quad \textcircled{2}$$

$$(x_3, y_3) \in f \Rightarrow y_3 = ax_3 + b \quad \textcircled{3}$$



Subtraindo membro a membro, temos:

$$\left. \begin{array}{l} y_3 - y_2 = a(x_3 - x_2) \\ y_2 - y_1 = a(x_2 - x_1) \end{array} \right\} \Rightarrow \frac{y_3 - y_2}{x_3 - x_2} = \frac{y_2 - y_1}{x_2 - x_1} = a$$

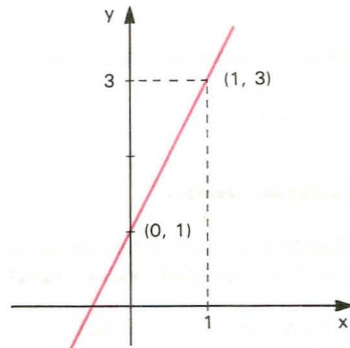
Os triângulos  $ABD$  e  $BCE$  são retângulos e têm lados proporcionais, então são semelhantes e, portanto,  $\alpha = \beta$ . Segue-se que os pontos  $A$ ,  $B$  e  $C$  estão alinhados.

## 85. Aplicações

1ª) Construir o gráfico da função  $y = 2x + 1$ .

Considerando que o gráfico da função afim é uma reta, vamos atribuir a  $x$  dois valores distintos e calcular os correspondentes valores de  $y$ .

x	$y = 2x + 1$
0	1
1	3

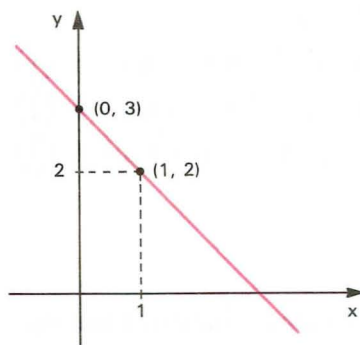


O gráfico procurado é a reta que passa pelos pontos  $(0, 1)$  e  $(1, 3)$ .

2ª) Construir o gráfico da função  $y = -x + 3$ .

De modo análogo, temos:

x	$y = -x + 3$
0	3
1	2



## EXERCÍCIOS

**172.** Construa o gráfico cartesiano das funções de  $\mathbb{R}$  em  $\mathbb{R}$ :

a)  $y = 2x - 1$

e)  $y = -3x - 4$

b)  $y = x + 2$

f)  $y = -x + 1$

c)  $y = 3x + 2$

g)  $y = -2x + 3$

d)  $y = \frac{2x - 3}{2}$

h)  $y = \frac{4 - 3x}{2}$

**173.** Resolva analítica e graficamente o sistema de equações:

$$\begin{cases} x - y = -3 \\ 2x + 3y = 4 \end{cases}$$

### Solução analítica

Existem diversos processos analíticos pelos quais podemos resolver um sistema de equações. Vamos apresentar dois deles.

**1º processo:** Substituição

Este processo consiste em substituir o valor de uma das incógnitas, obtido a partir de uma das equações, na outra.

Resolvendo, por exemplo, a primeira equação na incógnita  $x$ , temos:

$$x - y = -3 \Leftrightarrow x = y - 3$$

e substituímos  $x$  por esse valor na segunda equação:

$$2(y - 3) + 3y = 4 \Leftrightarrow 2y - 6 + 3y = 4 \Leftrightarrow y = 2$$

que levamos à primeira equação, encontrando:

$$x - 2 = -3 \Leftrightarrow x = -1.$$

A solução do sistema é o par ordenado  $(-1, 2)$ .

2º processo: Adição

Este processo baseia-se nas seguintes propriedades:

- I. “Num sistema de equações, se multiplicamos todos os coeficientes de uma equação por um número não nulo, o sistema que obtemos é equivalente ao anterior (\*)”.

$$\begin{cases} a_1x + b_1y = c_1 \\ a_2x + b_2y = c_2 \end{cases} \Leftrightarrow \begin{cases} ka_1x + kb_1y = kc_1 \\ a_2x + b_2y = c_2 \end{cases} \quad (k \neq 0)$$

- II. “Num sistema de equações, se substituímos uma das equações pela sua soma com uma outra equação do sistema, o novo sistema é equivalente ao anterior”.

$$\begin{cases} a_1x + b_1y = c_1 \\ a_2x + b_2y = c_2 \end{cases} \Leftrightarrow \begin{cases} (a_1 + a_2)x + (b_1 + b_2)y = c_1 + c_2 \\ a_2x + b_2y = c_2 \end{cases}$$

O fundamento do processo da adição consiste no seguinte: aplicando a primeira propriedade, multiplicamos cada equação por números convenientes, de modo que os coeficientes de determinada incógnita sejam opostos e, aplicando a segunda propriedade, substituímos uma das equações pela soma das duas equações.

Assim, no sistema  $\begin{cases} x - y = -3 \\ 2x + 3y = 4 \end{cases}$

multiplicamos a primeira equação por 3

$$\begin{cases} 3x - 3y = -9 \\ 2x + 3y = 4 \end{cases}$$

Substituindo a primeira equação pela soma das duas equações, temos:

$$\begin{cases} 5x = -5 \\ 2x + 3y = 4 \end{cases}$$

(\*) Sistemas de equações são equivalentes quando apresentam as mesmas soluções.



que é equivalente a:

$$\begin{cases} x = -1 \\ 2x + 3y = 4 \end{cases}$$

Substituindo  $x = -1$  em  $2x + 3y = 4$ , encontramos:

$$2 \cdot (-1) + 3y = 4 \Rightarrow y = 2.$$

A solução do sistema é o par ordenado  $(-1, 2)$ .

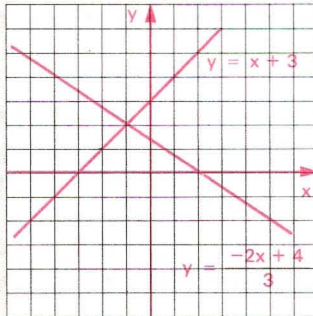
**Solução gráfica**

O sistema proposto

$$\begin{cases} x - y = -3 \\ 2x + 3y = 4 \end{cases}$$

é equivalente a

$$\begin{cases} y = x + 3 \\ y = \frac{-2x + 4}{3} \end{cases}$$



Construímos os gráficos de

$$y = x + 3 \text{ e } y = \frac{-2x + 4}{3}.$$

A solução do sistema são as coordenadas do ponto de interseção das retas, portanto  $(-1, 2)$ .

**174.** Resolva analítica e graficamente os sistemas de equações.

a)  $\begin{cases} x + y = 5 \\ x - y = 1 \end{cases}$

d)  $\begin{cases} 4x + 5y = 2 \\ 6x + 7y = 4 \end{cases}$

b)  $\begin{cases} 3x - 2y = -14 \\ 2x + 3y = 8 \end{cases}$

e)  $\begin{cases} x + 2y = 1 \\ 2x + 4y = 3 \end{cases}$

c)  $\begin{cases} 2x - 5y = 9 \\ 7x + 4y = 10 \end{cases}$

f)  $\begin{cases} 2x + 5y = 0 \\ 3x - 2y = 0 \end{cases}$

**175.** Resolva os sistemas de equações:

a)  $\begin{cases} \frac{1}{x-y} + \frac{1}{x+y} = \frac{3}{4} \\ \frac{1}{x-y} - \frac{1}{x+y} = -\frac{1}{4} \end{cases}$

b)  $\begin{cases} \frac{3}{x+y+1} - \frac{2}{2x-y+3} = \frac{5}{12} \\ \frac{2}{x+y+1} + \frac{3}{2x-y+3} = 1 \end{cases}$

**Sugestão:**

Faça  $\frac{1}{x-y} = a$  e  $\frac{1}{x+y} = b$ .

- 176.** Obtenha a equação da reta que passa pelos pontos  $(1, 2)$  e  $(3, -2)$ .

### Solução

Seja  $y = ax + b$  a equação procurada. O problema estará resolvido se determinarmos os valores de  $a$  e  $b$ .

Considerando que o ponto  $(1, 2)$  pertence à reta de equação  $y = ax + b$ , ao substituirmos  $x = 1$  e  $y = 2$  em  $y = ax + b$ , temos a sentença verdadeira

$$2 = a \cdot 1 + b \quad \text{isto é:} \quad a + b = 2.$$

Analogamente, para o ponto  $(3, -2)$ , obtemos:

$$-2 = a \cdot 3 + b \quad \text{isto é:} \quad 3a + b = -2.$$

Resolvendo o sistema

$$\begin{cases} a + b = 2 \\ 3a + b = -2 \end{cases}$$

encontramos  $a = -2$  e  $b = 4$ .

Assim, a equação da reta é  $y = -2x + 4$ .

- 177.** Obtenha a equação da reta que passa pelos pontos:

a)  $(2, 3)$  e  $(3, 5)$    b)  $(1, -1)$  e  $(-1, 2)$    c)  $(3, -2)$  e  $(2, -3)$    d)  $(1, 2)$  e  $(2, 2)$

- 178.** De uma caixa contendo bolas brancas e pretas, retiraram-se 15 brancas, ficando a relação de 1 branca para 2 pretas. Em seguida, retiraram-se 10 pretas, restando, na caixa, bolas na razão de 4 brancas para 3 pretas. Determine quantas bolas havia, inicialmente, na caixa.

- 179.** A função  $f$  é definida por  $f(x) = ax + b$ . Sabe-se que  $f(-1) = 3$  e  $f(1) = 1$ . Determine o valor de  $f(3)$ .

## VI. Imagem

### 86. Teorema

O conjunto imagem da função afim  $f: \mathbb{R} \rightarrow \mathbb{R}$  definida por  $f(x) = ax + b$ , com  $a \neq 0$ , é  $\mathbb{R}$ .

De fato, qualquer que seja  $y \in \mathbb{R}$  existe  $x = \frac{y - b}{a} \in \mathbb{R}$  tal que

$$f(x) = f\left(\frac{y - b}{a}\right) = a \cdot \frac{y - b}{a} + b = y.$$

## VII. Coeficientes da função afim

**87.** O coeficiente  $a$  da função  $f(x) = ax + b$  é denominado *coeficiente angular* ou *declividade* da reta representada no plano cartesiano.

O coeficiente  $b$  da função  $y = ax + b$  é denominado *coeficiente linear*.

### Exemplo

Na função  $y = 2x + 1$  o coeficiente angular é 2 e o coeficiente linear é 1. Observe que, se  $x = 0$ , temos  $y = 1$ . Portanto, o coeficiente linear é a ordenada do ponto em que a reta corta o eixo  $y$ .

## EXERCÍCIOS

**180.** Obtenha a equação da reta que passa pelo ponto  $(1, 3)$  e tem coeficiente angular igual a 2.

### Solução

A equação procurada é da forma  $y = ax + b$ .

Se o coeficiente angular é 2, então  $a = 2$ .

Substituindo  $x = 1$ ,  $y = 3$  e  $a = 2$  em  $y = ax + b$ , vem:

$$3 = 2 \cdot 1 + b \implies b = 1.$$

A equação procurada é  $y = 2x + 1$ .

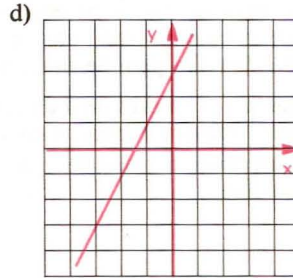
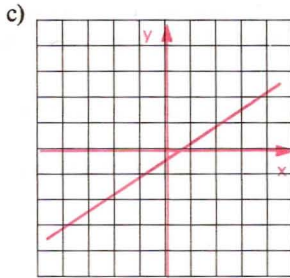
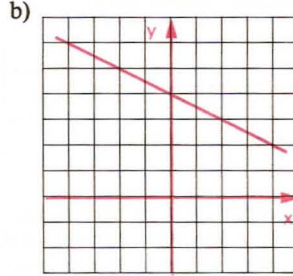
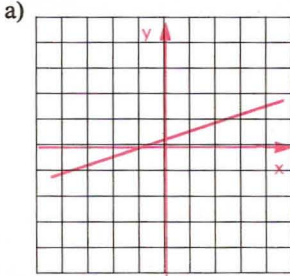
**181.** Obtenha a equação da reta que passa pelo ponto  $(-2, 4)$  e tem coeficiente angular igual a  $-3$ .

**182.** Obtenha a equação da reta com coeficiente angular igual a  $-\frac{1}{2}$  e passando pelo ponto  $(-3, 1)$ .

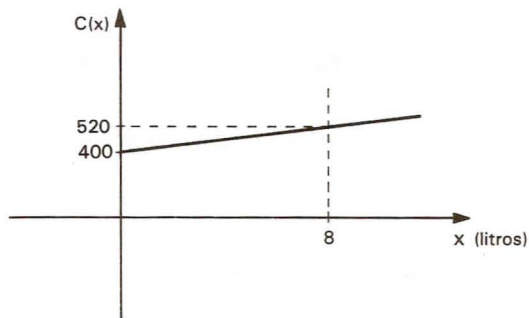
**183.** Obtenha a equação da reta que passa pelo ponto  $(-2, 1)$  e tem coeficiente linear igual a 4.

**184.** Obtenha a equação da reta com coeficiente linear igual a  $-3$  e passa pelo ponto  $(-3, -2)$ .

**185.** Dados os gráficos das funções de  $\mathbb{R}$  em  $\mathbb{R}$ , obtenha a lei de correspondência dessas funções.



**186.** O custo  $C$  de produção de  $x$  litros de uma certa substância é dado por uma função linear de  $x$ , com  $x \geq 0$ , cujo gráfico está representado abaixo.



Nessas condições, o custo de  $CR\$ 700,00$  corresponde à produção de quantos litros?



- 187.** Considere esta tabela para o cálculo do imposto de renda a ser pago pelos contribuintes em um certo mês de 1990.

$x$	$i$	$d$
Renda líquida (Cr\$)	Alíquota (%)	Parcela a deduzir (Cr\$)
até 25 068,00	isento	—
de 25 068,01 a 83 561,00	10	2 506,80
acima de 83 561,00	25	$n$

Considerando  $x$  como a renda líquida de um contribuinte, o imposto a pagar é função  $f$  de  $x$ . O contribuinte deve multiplicar a sua renda líquida pelo valor da alíquota e subtrair do resultado a parcela a deduzir. Além disso, tal função deve ser *contínua*, para não prejudicar nem beneficiar contribuintes cuja renda líquida se situe em faixas distintas da tabela. Note, por exemplo, que, ao passar da primeira faixa (isentos) para a segunda (alíquota de 10%), a parcela a deduzir (2 506,80) não permite saltos no gráfico.

1. Utilize os valores  $i$  e  $d$  da tabela e dê a expressão da função “imposto a pagar” relativa a uma renda  $x$ , em cada faixa da tabela.
2. *Determine* o valor de  $n$  da tabela para tornar a função obtida no item 1 contínua.

## VIII. Zero da função afim

- 88.** Zero de uma função é todo número  $x$  cuja imagem é nula, isto é,  $f(x) = 0$ .

$$x \text{ é zero de } y = f(x) \Leftrightarrow f(x) = 0$$

Assim, para determinarmos o zero da função afim, basta resolver a equação do 1º grau

$$ax + b = 0$$

que apresenta uma única solução  $x = -\frac{b}{a}$ .

De fato, resolvendo  $ax + b = 0$ ,  $a \neq 0$ , temos:

$$ax + b = 0 \Leftrightarrow ax = -b \Leftrightarrow x = -\frac{b}{a}.$$

*Exemplo*

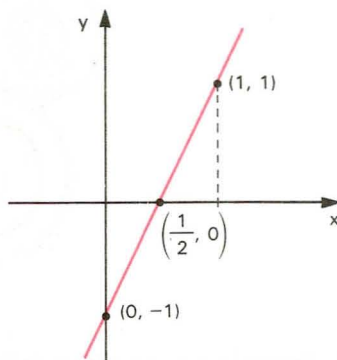
O zero da função  $f(x) = 2x - 1$  é  $x = \frac{1}{2}$  pois, fazendo  $2x - 1 = 0$ , vem  $x = \frac{1}{2}$ .

Podemos interpretar o zero da função afim como sendo a abscissa do ponto onde o gráfico corta o eixo dos  $x$ .

*Exemplo*

Fazendo o gráfico da função  $y = 2x - 1$ , podemos notar que a reta intercepta o eixo dos  $x$  em  $x = \frac{1}{2}$ , isto é, no ponto  $(\frac{1}{2}, 0)$ .

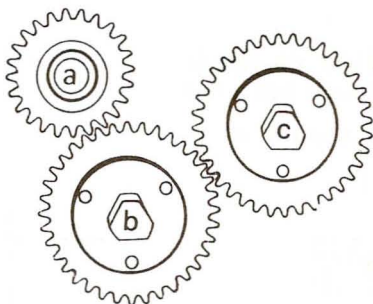
x	y
0	-1
1	1



## EXERCÍCIOS

- 188.** Na hora de fazer seu testamento, uma pessoa tomou a seguinte decisão: dividiria sua fortuna entre sua filha, que estava grávida, e a prole resultante dessa gravidez, dando a cada criança que fosse nascer o dobro daquilo que caberia à mãe, se fosse do sexo masculino, e o triplo daquilo que caberia à mãe, se fosse do sexo feminino. Nasceram trigêmeos, sendo dois meninos e uma menina. Como veio a ser repartida a herança legada?
- 189.** Um pequeno avião a jato gasta sete horas a menos do que um avião a hélice para ir de São Paulo até Boa Vista. O avião a jato voa a uma velocidade média de  $660 \text{ km/h}$ , enquanto o avião a hélice voa em média a  $275 \text{ km/h}$ . Qual é a distância entre São Paulo e Boa Vista?
- 190.** O salário médio, por hora de trabalho, numa fábrica de 110 trabalhadores é de  $\text{CR\$ } 250,00$ . Calculando-se, no entanto, apenas com os 100 trabalhadores homens, a média passa a ser  $\text{CR\$ } 265,00$ . Qual o salário médio das mulheres, por hora de trabalho, em cruzeiros reais?

191. Paulo e Joana recebem o mesmo salário por hora de trabalho. Após Paulo ter trabalhado 4 horas e Joana 3 horas e 20 minutos, Paulo tinha a receber CR\$ 150,00 a mais que Joana. Calcule em cruzeiros reais um décimo do que Paulo recebeu.
192. Qual o menor número inteiro de voltas que deve dar a roda  $c$  da engrenagem da figura, para que a roda  $a$  dê um número inteiro de voltas?



193. Supondo que dois pilotos de Fórmula 1 largam juntos num determinado circuito e completam, respectivamente, cada volta em 72 e 75 segundos, responda: depois de quantas voltas do mais rápido, contadas a partir da largada, ele estará uma volta na frente do outro?

## IX. Funções crescentes ou decrescentes

### 89. Função crescente

A função  $f: A \rightarrow B$  definida por  $y = f(x)$  é *crescente* no conjunto  $A_1 \subset A$  se, para dois valores quaisquer  $x_1$  e  $x_2$  pertencentes a  $A_1$ , com  $x_1 < x_2$ , tivermos  $f(x_1) < f(x_2)$ .

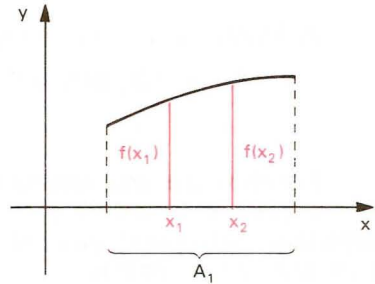
Em símbolos:  $f$  é crescente quando

$$(\forall x_1, x_2) (x_1 < x_2 \implies f(x_1) < f(x_2))$$

e isso também pode ser posto assim:

$$(\forall x_1, x_2) (x_1 \neq x_2 \implies \frac{f(x_1) - f(x_2)}{x_1 - x_2} > 0).$$

Na linguagem prática (não matemática), isso significa que a função é crescente no conjunto  $A_1$  se, ao aumentarmos o valor atribuído a  $x$ , o valor de  $y$  também aumenta.



### Exemplo

A função  $f(x) = 2x$  é crescente em  $\mathbb{R}$ , pois:

$$x_1 < x_2 \Rightarrow \underbrace{2x_1}_{f(x_1)} < \underbrace{2x_2}_{f(x_2)} \text{ para todo } x_1 \in \mathbb{R} \text{ e todo } x_2 \in \mathbb{R}.$$

## 90. Função decrescente

A função  $F: A \rightarrow B$  definida por  $y = f(x)$  é *decrescente* no conjunto  $A_1 \subset A$  se, para dois valores quaisquer  $x_1$  e  $x_2$  pertencentes a  $A_1$ , com  $x_1 < x_2$ , tem-se  $f(x_1) > f(x_2)$ .

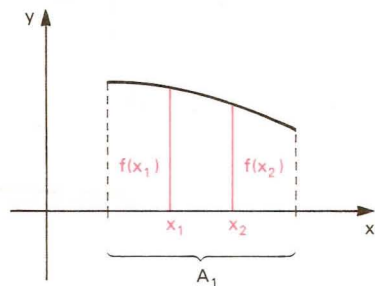
Em símbolos:  $f$  é decrescente quando

$$(\forall x_1, x_2) (x_1 < x_2 \Rightarrow f(x_1) > f(x_2))$$

e isso também pode ser posto assim:

$$(\forall x_1, x_2) (x_1 \neq x_2 \Rightarrow \frac{f(x_1) - f(x_2)}{x_1 - x_2} < 0)$$

Na linguagem prática (não matemática), isso significa que a função é decrescente no conjunto  $A_1$  se, ao aumentarmos o valor atribuído a  $x$ , o valor de  $y$  diminui.



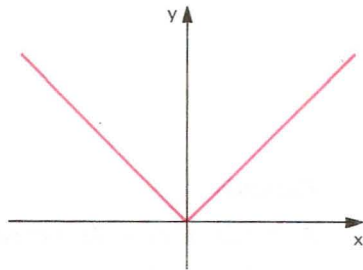


*Exemplo*

A função  $f(x) = -2x$  é decrescente em  $\mathbb{R}$ , pois  
 $x_1 < x_2 \Rightarrow \underbrace{-2x_1}_{f(x_1)} > \underbrace{-2x_2}_{f(x_2)}$  para todo  $x_1 \in \mathbb{R}$  e todo  $x_2 \in \mathbb{R}$ .

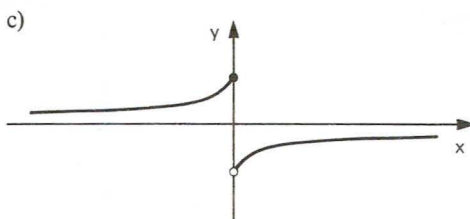
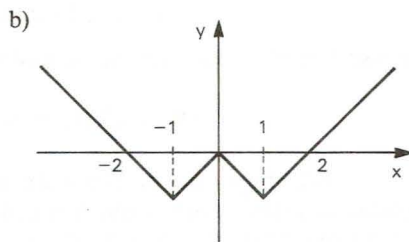
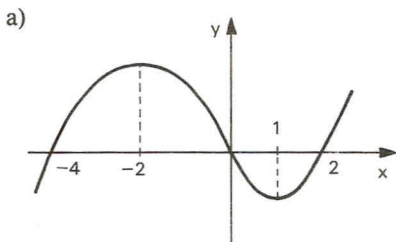
Notemos que uma mesma função  $y = f(x)$  pode não ter o mesmo comportamento (crescente ou decrescente) em todo o seu domínio.

É bastante comum que uma função seja crescente em certos subconjuntos de  $D$  e decrescente em outros. O gráfico ao lado representa uma função crescente em  $\mathbb{R}_+$  e decrescente em  $\mathbb{R}_-$ .



## EXERCÍCIO

**194.** Com base nos gráficos abaixo, de funções de  $\mathbb{R}$  em  $\mathbb{R}$ , especifique os intervalos em que a função é crescente ou decrescente.



## X. Crescimento/decréscimo da função afim

### 91. Teoremas

I) A função afim  $f(x) = ax + b$  é crescente se, e somente se, o coeficiente angular  $a$  for positivo.

*Demonstração*

$$\begin{aligned} f(x) = ax + b \text{ é crescente} &\Leftrightarrow \frac{f(x_1) - f(x_2)}{x_1 - x_2} > 0 \Leftrightarrow \\ \Leftrightarrow \frac{(ax_1 + b) - (ax_2 + b)}{x_1 - x_2} > 0 &\Leftrightarrow \frac{a(x_1 - x_2)}{x_1 - x_2} > 0 \Leftrightarrow a > 0 \end{aligned}$$

II) A função afim  $f(x) = ax + b$  é decrescente se, e somente se, o coeficiente angular  $a$  for negativo.

*Demonstração*

$$\begin{aligned} f(x) = ax + b \text{ é decrescente} &\Leftrightarrow \frac{f(x_1) - f(x_2)}{x_1 - x_2} < 0 \Leftrightarrow \\ \Leftrightarrow \frac{(ax_1 + b) - (ax_2 + b)}{x_1 - x_2} < 0 &\Leftrightarrow \frac{a(x_1 - x_2)}{x_1 - x_2} < 0 \Leftrightarrow a < 0 \end{aligned}$$

## EXERCÍCIOS

195. Especifique, para cada uma das funções abaixo, se é crescente ou decrescente em  $\mathbb{R}$ :

a)  $y = 3x - 2$

b)  $y = -4x + 3$

**Solução**

a) É crescente, pois o coeficiente angular é positivo ( $a = 3$ ).

b) É decrescente, pois o coeficiente angular é negativo ( $a = -4$ ).

196. Especifique, para cada uma das funções abaixo, se é crescente ou decrescente em  $\mathbb{R}$ .

a)  $y = 1 + 5x$

c)  $y = x + 2$

e)  $y = -2x$

b)  $y = -3 - 2x$

d)  $y = 3 - x$

f)  $y = 3x$

- 197.** Estude, segundo os valores do parâmetro  $m$ , a variação (crescente, decrescente ou constante) da função  $y = (m - 1)x + 2$ .

### Solução

Se  $m - 1 > 0$ , isto é,  $m > 1$ , então a função terá coeficiente angular positivo e, portanto, será crescente em  $\mathbb{R}$ .

Se  $m - 1 < 0$ , isto é,  $m < 1$ , então a função terá coeficiente angular negativo e, portanto, será decrescente em  $\mathbb{R}$ .

Se  $m - 1 = 0$ , isto é,  $m = 1$ , então a função é  $y = (1 - 1)x + 2$ , ou seja,  $y = 2$ , que é constante em  $\mathbb{R}$ .

- 198.** Estude, segundo os valores do parâmetro  $m$ , a variação (crescente, decrescente ou constante) das funções abaixo.

a)  $y = (m + 2)x - 3$

b)  $y = (4 - m)x + 2$

c)  $y = 4 - (m + 3)x$

d)  $y = m(x - 1) + 3 - x$

## XI. Sinal de uma função

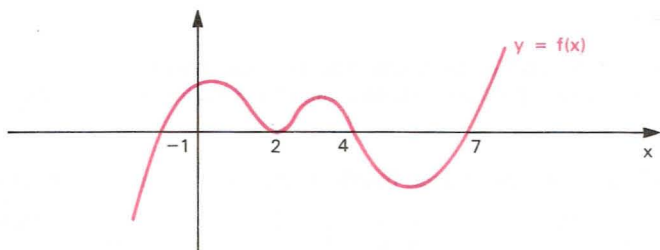
- 92.** Seja a função  $f: A \rightarrow B$  definida por  $y = f(x)$ . Vamos resolver o problema “para que valores de  $x$  temos  $f(x) > 0$ ,  $f(x) = 0$  ou  $f(x) < 0$ ?”.

Resolver este problema significa estudar o sinal da função  $y = f(x)$  para cada  $x$  pertencente ao seu domínio.

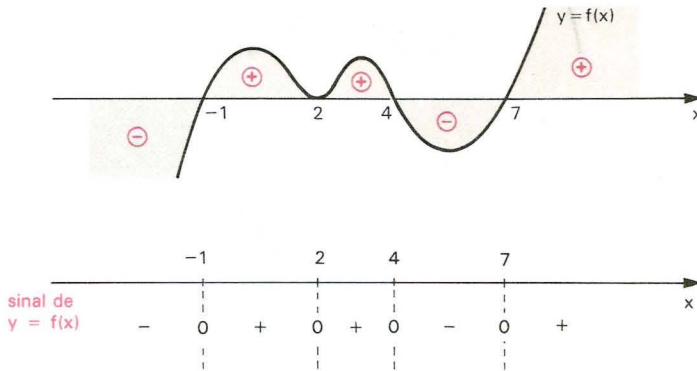
Para se estudar o sinal de uma função, quando a função está representada no plano cartesiano, basta examinar se é positiva, nula ou negativa a ordenada de cada ponto da curva.

### Exemplo

Estudar o sinal da função  $y = f(x)$  cujo gráfico está abaixo representado.



Observemos, inicialmente, que interessa o comportamento da curva  $y = f(x)$  em relação ao eixo dos  $x$ , não importando a posição do eixo dos  $y$ . Preparando o gráfico com aspecto prático, temos:



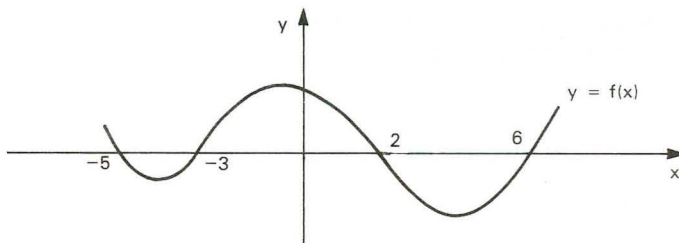
Conclusão:

$$\begin{aligned}
 f(x) = 0 &\Leftrightarrow x = -1 \quad \text{ou} \quad x = 2 \quad \text{ou} \quad x = 4 \quad \text{ou} \quad x = 7 \\
 f(x) > 0 &\Leftrightarrow -1 < x < 2 \quad \text{ou} \quad 2 < x < 4 \quad \text{ou} \quad x > 7 \\
 f(x) < 0 &\Leftrightarrow x < -1 \quad \text{ou} \quad 4 < x < 7.
 \end{aligned}$$

## EXERCÍCIO

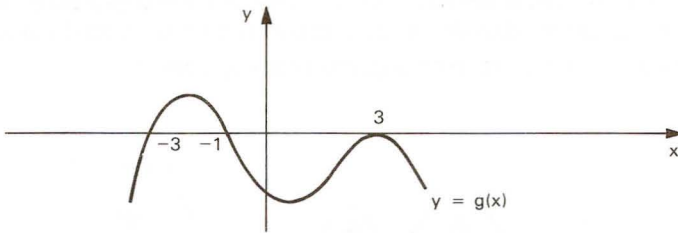
199. Estude o sinal das funções cujos gráficos estão representados abaixo.

a)

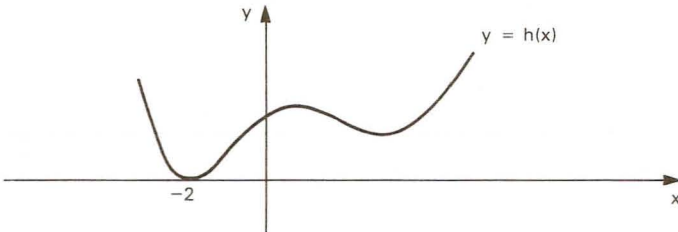




b)



c)



## XII. Sinal da função afim

**93.** Considerando que  $x = -\frac{b}{a}$ , zero da função afim  $f(x) = ax + b$ , é o valor de  $x$  para o qual  $f(x) = 0$ , examinemos, então, para que valores ocorre  $f(x) > 0$  ou  $f(x) < 0$ .

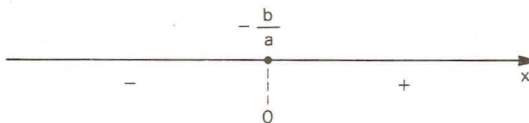
Devemos considerar dois casos.

*1.º caso:*  $a > 0$

$$f(x) = ax + b > 0 \Leftrightarrow ax > -b \Leftrightarrow x > -\frac{b}{a}$$

$$f(x) = ax + b < 0 \Leftrightarrow ax < -b \Leftrightarrow x < -\frac{b}{a}$$

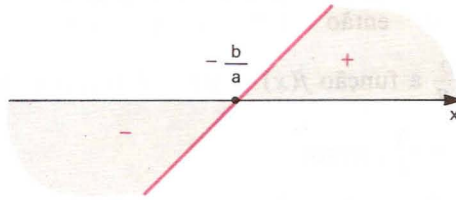
Colocando os valores de  $x$  sobre um eixo, o sinal da função  $f(x) = ax + b$ , com  $a > 0$ , é:



Um outro processo para analisarmos a variação do sinal da função afim é construir o gráfico cartesiano.

Lembremos que na função afim  $f(x) = ax + b$  o gráfico cartesiano é uma reta e, se o coeficiente angular  $a$  é positivo, a função é crescente.

Construindo o gráfico de  $f(x) = ax + b$  com  $a > 0$ , e lembrando que não importa a posição do eixo  $y$ , temos:

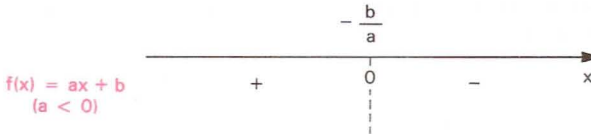


2º caso:  $a < 0$

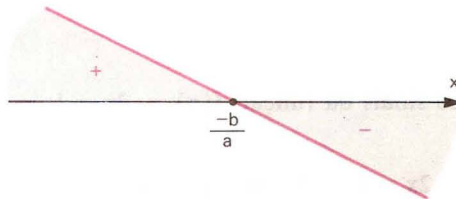
$$f(x) = ax + b > 0 \Leftrightarrow ax > -b \Leftrightarrow x < -\frac{b}{a}$$

$$f(x) = ax + b < 0 \Leftrightarrow ax < -b \Leftrightarrow x > -\frac{b}{a}$$

Colocando os valores de  $x$  sobre um eixo, o sinal da função  $f(x) = ax + b$ , com  $a < 0$ , é:



Podemos analisar o sinal da função  $f(x) = ax + b$  com  $a < 0$ , construindo o gráfico cartesiano. Lembremos que neste caso a função é decrescente.



**Resumo**

1) A função afim  $f(x) = ax + b$  anula-se para  $x = -\frac{b}{a}$ .

2) Para  $x > -\frac{b}{a}$ , temos:

$$\begin{cases} \text{se } a > 0 & \text{então } f(x) = ax + b > 0 \\ \text{se } a < 0 & \text{então } f(x) = ax + b < 0 \end{cases}$$

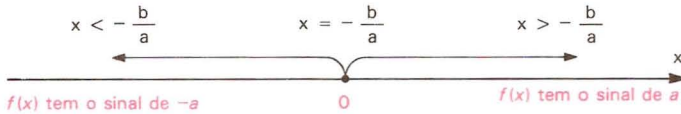
isto é, para  $x > -\frac{b}{a}$  a função  $f(x) = ax + b$  tem o sinal de  $a$ .

3) Para  $x < -\frac{b}{a}$ , temos:

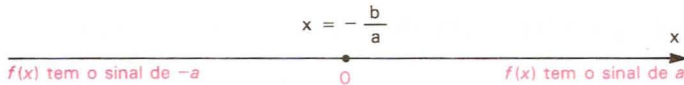
$$\begin{cases} \text{se } a > 0 & \text{então } f(x) = ax + b < 0 \\ \text{se } a < 0 & \text{então } f(x) = ax + b > 0 \end{cases}$$

isto é, para  $x < -\frac{b}{a}$  a função  $f(x) = ax + b$  tem o sinal de  $-a$  (sinal contrário ao de  $a$ ).

Se colocarmos os valores de  $x$  sobre um eixo, a regra dos sinais da função afim pode ser assim representada:



ou, simplesmente:



**Exemplos**

1º) Estudar os sinais da função  $f(x) = 2x - 1$ .

Temos:

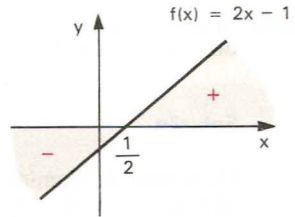
$$f(x) = 0 \implies 2x - 1 = 0 \implies x = \frac{1}{2}$$

$$a = 2 \implies a > 0 \quad \text{e} \quad -a < 0.$$

Logo:

para  $x > \frac{1}{2} \Rightarrow f(x) > 0$  (sinal de  $a$ )

para  $x < \frac{1}{2} \Rightarrow f(x) < 0$  (sinal de  $-a$ )



Fazendo o esquema gráfico, temos:



2º) Estudar os sinais de  $f(x) = -2x + 4$ .

Temos:

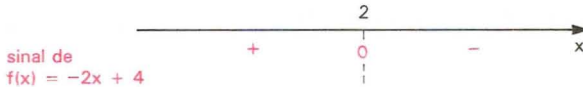
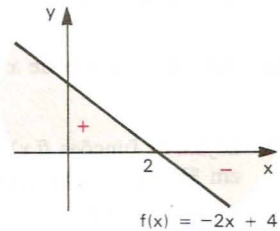
$$f(x) = 0 \Rightarrow -2x + 4 = 0 \Rightarrow x = 2$$

$$a = -2 \Rightarrow a < 0 \text{ e } -a > 0$$

para  $x > 2 \Rightarrow f(x) < 0$  (sinal de  $a$ )

para  $x < 2 \Rightarrow f(x) > 0$  (sinal de  $-a$ )

Fazendo o esquema gráfico:



## EXERCÍCIOS

**200.** Estude os sinais das funções definidas em  $\mathbb{R}$ :

a)  $y = 2x + 3$

e)  $y = 3 - \frac{x}{2}$

b)  $y = -3x + 2$

f)  $y = \frac{x}{3} + \frac{3}{2}$

c)  $y = 4 - x$

g)  $y = 2x - \frac{4}{3}$

d)  $y = 5 + x$

h)  $y = -x$



- 201.** Seja a função de  $\mathbb{R}$  em  $\mathbb{R}$  definida por  $f(x) = 4x - 5$ . Determine os valores do domínio da função que produzem imagens maiores que 2.

**Solução**

Os valores do domínio da função que produzem imagens maiores que 2 são os valores de  $x \in \mathbb{R}$  tais que

$$4x - 5 > 2$$

e, portanto,

$$x > \frac{7}{4}.$$

- 202.** Para que valores do domínio da função de  $\mathbb{R}$  em  $\mathbb{R}$  definida por  $f(x) = \frac{3x - 1}{2}$  a imagem é menor que 4?

- 203.** Para que valores de  $x \in \mathbb{R}$  a função  $f(x) = \frac{2}{3} - \frac{x}{2}$  é negativa?

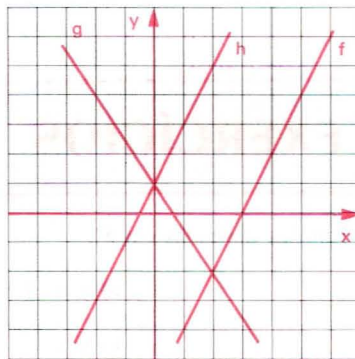
- 204.** Sejam as funções  $f(x) = 2x + 3$ ,  $g(x) = 2 - 3x$  e  $h(x) = \frac{4x - 1}{2}$  definidas em  $\mathbb{R}$ . Para que valores de  $x \in \mathbb{R}$ , tem-se:

a)  $f(x) \geq g(x)$ ?

b)  $g(x) < h(x)$ ?

c)  $f(x) \geq h(x)$ ?

- 205.** Dados os gráficos das funções  $f$ ,  $g$  e  $h$  definidas em  $\mathbb{R}$ , determine os valores de  $x \in \mathbb{R}$ , tais que:



- a)  $f(x) > g(x)$   
 b)  $g(x) \leq h(x)$   
 c)  $f(x) \geq h(x)$

- d)  $g(x) > 4$   
 e)  $f(x) \leq 0$

### XIII. Inequações

#### 94. Definição

Sejam as funções  $f(x)$  e  $g(x)$  cujos domínios são respectivamente  $D_1 \subset \mathbb{R}$  e  $D_2 \subset \mathbb{R}$ . Chamamos *inequação* na incógnita  $x$  a qualquer uma das sentenças abertas, abaixo:

$$\begin{aligned} f(x) &> g(x) \\ f(x) &< g(x) \\ f(x) &\geq g(x) \\ f(x) &\leq g(x) \end{aligned}$$

#### Exemplos

- 1º)  $2x - 4 > x$  é uma inequação em que  $f(x) = 2x - 4$  e  $g(x) = x$ .  
 2º)  $3x - 5 < 2$  é uma inequação em que  $f(x) = 3x - 5$  e  $g(x) = 2$ .  
 3º)  $x^2 - 3 \geq \frac{1}{x}$  é uma inequação em que  $f(x) = x^2 - 3$  e  $g(x) = \frac{1}{x}$ .  
 4º)  $\sqrt{x-2} \leq \frac{1}{x-3}$  é uma inequação em que  $f(x) = \sqrt{x-2}$  e  $g(x) = \frac{1}{x-3}$ .

#### 95. Domínio de validade

Chamamos de domínio de validade da inequação  $f(x) < g(x)$  o conjunto  $D = D_1 \cap D_2$ , em que  $D_1$  é o domínio da função  $f$  e  $D_2$  é o domínio da função  $g$ . É evidente que, para todo  $x_0 \in D$ , estão definidos  $f(x_0)$  e  $g(x_0)$ , isto é:

$$x_0 \in D \iff (x_0 \in D_1 \text{ e } x_0 \in D_2) \iff (f(x_0) \in \mathbb{R} \text{ e } g(x_0) \in \mathbb{R}).$$

Nos exemplos anteriores, temos:

- 1º)  $D = \mathbb{R} \cap \mathbb{R} = \mathbb{R}$   
 2º)  $D = \mathbb{R} \cap \mathbb{R} = \mathbb{R}$   
 3º)  $D = \mathbb{R} \cap \mathbb{R}^* = \mathbb{R}^*$   
 4º)  $D = \{x \in \mathbb{R} \mid x \geq 2\} \cap \{x \in \mathbb{R} \mid x \neq 3\} =$   
 $= \{x \in \mathbb{R} \mid x \geq 2 \text{ e } x \neq 3\}$

#### 96. Solução

O número real  $x_0$  é *solução* da inequação  $f(x) > g(x)$  se, e somente se, é verdadeira a sentença  $f(x_0) > g(x_0)$ .

*Exemplo*

O número real 3 é solução da inequação  $2x + 1 > x + 3$ , pois

$$\underbrace{2 \cdot 3 + 1}_{f(3)} > \underbrace{3 + 3}_{g(3)}$$

é uma sentença verdadeira.

**97.** *Conjunto solução*

Ao conjunto  $S$  de todos os números reais  $x$  tais que  $f(x) > g(x)$  é uma sentença verdadeira chamamos de *conjunto solução* da inequação.

*Exemplo*

A inequação  $2x + 1 > x + 3$  tem o conjunto solução  $S = \{x \in \mathbb{R} \mid x > 2\}$ , isto é, para qualquer  $x_0 \in S$  a sentença  $2x_0 + 1 > x_0 + 3$  é verdadeira.

Se não existir o número real  $x$  tal que a sentença  $f(x) > g(x)$  seja verdadeira, diremos que a inequação  $f(x) > g(x)$  é impossível e indicaremos o conjunto solução por  $S = \emptyset$ .

*Exemplo*

O conjunto solução da inequação  $x + 1 > x + 2$  é  $S = \emptyset$ , pois não existe  $x_0 \in \mathbb{R}$  tal que a sentença  $x_0 + 1 > x_0 + 2$  seja verdadeira.

Resolver uma inequação significa determinar o seu conjunto solução. Se  $x_0 \in \mathbb{R}$  é solução da inequação  $f(x) > g(x)$ , então  $x_0$  é tal que  $f(x_0) \in \mathbb{R}$  e  $g(x_0) \in \mathbb{R}$ , isto é,  $x_0 \in D$  (domínio de validade da inequação). Assim sendo, temos

$$x_0 \in S \implies x_0 \in D$$

ou seja, o conjunto solução é sempre subconjunto do domínio de validade da inequação.

**98.** *Inequação equivalente*

Dois inequações são *equivalentes em*  $D \subset \mathbb{R}$  se o conjunto solução da primeira é igual ao conjunto solução da segunda.

*Exemplos*

1º)  $3x + 6 > 0$  e  $x + 2 > 0$  são equivalentes em  $\mathbb{R}$ , pois o conjunto solução de ambas é  $S = \{x \in \mathbb{R} \mid x > -2\}$ .

2º)  $x < 1$  e  $x^2 < 1$  não são equivalentes em  $\mathbb{R}$ , pois  $x_0 = -2$  é solução da primeira mas não o é da segunda.

### 99. Princípios de equivalência

Na resolução de uma inequação procuramos sempre transformá-la em outra equivalente e mais “simples”, em que o conjunto solução possa ser obtido com maior facilidade. Surge, então, a pergunta: “Que transformações podem ser feitas em uma inequação para se obter uma inequação equivalente?”. A resposta a essa pergunta são os dois princípios seguintes:

**P-1)** Sejam as funções  $f(x)$  e  $g(x)$  definidas em  $D_1$  e  $D_2$ , respectivamente. Se a função  $h(x)$  é definida em  $D_1 \cap D_2$ , as inequações

$$f(x) < g(x) \quad \text{e} \quad f(x) + h(x) < g(x) + h(x)$$

são equivalentes em  $D_1 \cap D_2$ .

#### Exemplos

Seja a inequação

$$\underbrace{3x - 1}_{f(x)} > \underbrace{2x + 3}_{g(x)} \quad (1)$$

adicionemos  $h(x) = -2x + 1$  aos dois membros:

$$\underbrace{(3x - 1)}_{f(x)} + \underbrace{(-2x + 1)}_{h(x)} > \underbrace{(2x + 3)}_{g(x)} + \underbrace{(-2x + 1)}_{h(x)}$$

façamos as simplificações possíveis:

$$\underbrace{x}_{f(x) + h(x)} > \underbrace{4}_{g(x) + h(x)} \quad (2)$$

portanto, como (1) é equivalente a (2), temos:

$$S = \{x \in \mathbb{R} \mid x > 4\}.$$

Na prática, aplicamos a propriedade **P-1** com o seguinte enunciado: “Em uma inequação podemos transpor um termo de um membro para outro trocando o sinal do termo considerado”:

$$f(x) + h(x) < g(x) \implies f(x) < g(x) - h(x).$$

Assim, no exemplo anterior, teríamos:

$$3x - 1 > 2x + 3 \Rightarrow 3x - 1 - 2x > 3 \Rightarrow x > 3 + 1 \Rightarrow x > 4.$$

**P-2)** Sejam as funções  $f(x)$  e  $g(x)$  definidas em  $D_1$  e  $D_2$ , respectivamente. Se a função  $h(x)$  é definida em  $D_1 \cap D_2$  e tem sinal constante, então:

- a) se  $h(x) > 0$ , as inequações  $f(x) < g(x)$  e  $f(x) \cdot h(x) < g(x) \cdot h(x)$  são equivalentes em  $D_1 \cap D_2$ .  
 b) se  $h(x) < 0$ , as inequações  $f(x) < g(x)$  e  $f(x) \cdot h(x) > g(x) \cdot h(x)$  são equivalentes em  $D_1 \cap D_2$ .

### Exemplos

1º)  $\frac{x}{2} - \frac{3}{4} > \frac{1}{3}$  e  $6x - 9 > 4$  são equivalentes em  $\mathbb{R}$ , pois a segunda inequação foi obtida a partir da primeira por meio de uma multiplicação por 12.

2º)  $-2x^2 + 3x > 1$  e  $2x^2 - 3x < -1$  são equivalentes em  $\mathbb{R}$ , pois a segunda foi obtida da primeira por meio de uma multiplicação por  $-1$  e inversão do sentido da desigualdade.

3º)  $\frac{4x - 3}{x^2 + 1} > 0$  e  $4x - 3 > 0$  são equivalentes em  $\mathbb{R}$ . Notemos que a segunda foi obtida da primeira por meio da multiplicação por  $x^2 + 1 > 0$ ,  $\forall x \in \mathbb{R}$ .

Na prática, aplicamos a propriedade **P-2** com o seguinte enunciado: “*Em uma inequação podemos multiplicar os dois membros pela mesma expressão, mantendo ou invertendo o sentido da desigualdade, conforme essa expressão seja positiva ou negativa, respectivamente*”.

## EXERCÍCIOS

**206.** Resolva as inequações, em  $\mathbb{R}$ :

- a)  $4x + 5 > 2x - 3$   
 b)  $5(x + 3) - 2(x + 1) \leq 2x + 3$   
 c)  $3(x + 1) - 2 \geq 5(x - 1) - 3(2x - 1)$



**207.** Resolva, em  $\mathbb{R}$ , a inequação:

$$\frac{x + 2}{3} - \frac{x - 1}{2} \geq x.$$

### Solução

A inequação proposta é equivalente à inequação que se obtém multiplicando pelo mmc  $(3, 2) = 6$ :

$$2(x + 2) - 3(x - 1) \geq 6x.$$

Efetuando as operações, temos:

$$-x + 7 \geq 6x$$

ou ainda:

$$-7x \geq -7.$$

Dividindo ambos os membros por  $-7$  e lembrando que devemos inverter a desigualdade, temos

$$x \leq 1$$

e, portanto,

$$S = \{x \in \mathbb{R} \mid x \leq 1\}.$$

**208.** Resolva, em  $\mathbb{R}$ , as inequações:

a)  $\frac{x - 1}{2} - \frac{x - 3}{4} \geq 1$

b)  $\frac{2x - 3}{2} - \frac{5 - 3x}{3} < 3x - \frac{1}{6}$

c)  $(3x + 1)(2x + 1) \leq (2x - 1)(3x + 2) - (4 - 5x)$

d)  $(3x - 2)^2 - (3x - 1)^2 > (x + 2)^2 - (x - 1)^2$

e)  $4(x - 2) - (3x + 2) > 5x - 6 - 4(x - 1)$

f)  $6(x + 2) - 2(3x + 2) > 2(3x - 1) - 3(2x + 1)$

**209.** Numa escola é adotado o seguinte critério: a nota da primeira prova é multiplicada por 1, a nota da segunda prova é multiplicada por 2 e a da última prova é multiplicada por 3. Os resultados, após somados, são divididos por 6. Se a média obtida por este critério for maior ou igual a 6,5, o aluno é dispensado das atividades de recuperação. Suponha que um aluno tenha tirado 6,3 na primeira prova e 4,5 na segunda. Quanto precisará tirar na terceira para ser dispensado da recuperação?

**210.** Resolva, em  $\mathbb{R}$ , a inequação:

$$\frac{2x - 3}{x - 1} \leq 2$$

### Solução

A inequação proposta é equivalente a  $\frac{2x - 3}{x - 1} - 2 \leq 0$ ,

que, reduzindo ao mesmo denominador, fica  $\frac{-1}{x - 1} \leq 0$ .

Notemos que a fração  $\frac{-1}{x - 1}$  deverá ser não positiva; como o numerador  $-1$  é negativo, então o denominador  $x - 1$  deverá ser positivo.

$$x - 1 > 0 \Leftrightarrow x > 1$$

e, portanto,

$$S = \{x \in \mathbb{R} \mid x > 1\}.$$

**211.** Resolva, em  $\mathbb{R}$ , as inequações:

a)  $\frac{3x - 2}{1 - x} \leq -3$

b)  $\frac{4x - 5}{2x - 1} \geq 2$

c)  $\frac{-4 - 3x}{3x + 2} < -1$

## XIV. Inequações simultâneas

**100.** A dupla desigualdade  $f(x) < g(x) < h(x)$  se decompõe em duas inequações simultâneas, isto é, equivale a um sistema de duas equações em  $x$ , separadas pelo conectivo e:

$$f(x) < g(x) < h(x) \Leftrightarrow \begin{cases} f(x) < g(x) & \textcircled{\text{I}} \\ \text{e} \\ g(x) < h(x) & \textcircled{\text{II}} \end{cases}$$

Indicando com  $S_1$  o conjunto solução de  $\textcircled{\text{I}}$  e  $S_2$  o conjunto solução de  $\textcircled{\text{II}}$ , o conjunto solução da dupla desigualdade é  $S = S_1 \cap S_2$ .

Exemplo

$$\text{Resolver } \underbrace{3x + 2 < -x + 3}_{\text{I}} \underbrace{\leq x + 4}_{\text{II}}.$$

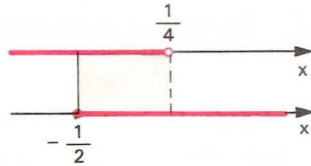
Temos que resolver duas inequações:

$$\text{I) } 3x + 2 < -x + 3 \Rightarrow 4x < 1 \Rightarrow x < \frac{1}{4}$$

$$\text{II) } -x + 3 \leq x + 4 \Rightarrow -2x \leq 1 \Rightarrow x \geq -\frac{1}{2}$$

A interseção desses dois conjuntos é:

$$S = \left\{ x \in \mathbb{R} \mid -\frac{1}{2} \leq x < \frac{1}{4} \right\}.$$



## EXERCÍCIOS

**212.** Resolva as inequações, em  $\mathbb{R}$ :

a)  $-2 < 3x - 1 < 4$

b)  $-4 < 4 - 2x \leq 3$

c)  $-3 < 3x - 2 < x$

d)  $x + 1 \leq 7 - 3x < \frac{x}{2} - 1$

e)  $3x + 4 < 5 < 6 - 2x$

f)  $2 - x < 3x + 2 < 4x + 1$

**213.** Resolva, em  $\mathbb{R}$ , os sistemas de inequações:

a)  $\begin{cases} 3 - 2x \leq 1 \\ 3x - 1 \leq 5 \end{cases}$

b)  $\begin{cases} 3x - 2 > 4x + 1 \\ 5x + 1 \leq 2x - 5 \end{cases}$

c)  $\begin{cases} 5 - 2x < 0 \\ 3x + 1 \geq 4x - 5 \\ x - 3 \geq 0 \end{cases}$

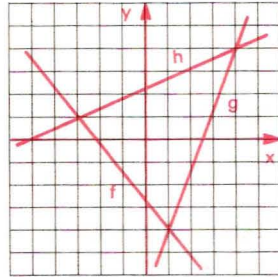
d)  $\begin{cases} 3x + 2 \geq 5x - 2 \\ 4x - 1 > 3x - 4 \\ 3 - 2x < x - 6 \end{cases}$

e)  $\begin{cases} 3x + 2 < 7 - 2x \\ 48x < 3x + 10 \\ 11 - 2(x - 3) > 1 - 3(x - 5) \end{cases}$

f)  $\begin{cases} \frac{2x - 5}{1 - x} \leq -2 \\ \frac{x^2 + x + 3}{x + 1} > x \end{cases}$

**214.** Com base nos gráficos das funções  $f$ ,  $g$  e  $h$  definidas em  $\mathbb{R}$ , determine os valores de  $x \in \mathbb{R}$ , tais que:

- a)  $f(x) < g(x) \leq h(x)$
- b)  $g(x) \leq f(x) < h(x)$
- c)  $h(x) \leq f(x) < g(x)$



## XV. Inequações-produto

Sendo  $f(x)$  e  $g(x)$  duas funções na variável  $x$ , as inequações  $f(x) \cdot g(x) > 0$ ,  $f(x) \cdot g(x) < 0$ ,  $f(x) \cdot g(x) \geq 0$  e  $f(x) \cdot g(x) \leq 0$  são denominadas *inequações-produto*.

**101.** Vejamos, por exemplo, como determinamos o conjunto solução  $S$  da inequação  $f(x) \cdot g(x) > 0$ .

De acordo com a regra de sinais do produto de números reais, um número  $x_0$  é solução da inequação  $f(x) \cdot g(x) > 0$  se, e somente se,  $f(x_0)$  e  $g(x_0)$ , não nulos, têm o mesmo sinal.

Assim, são possíveis dois casos:

1º)  $f(x) > 0$  e  $g(x) > 0$

Se  $S_1$  e  $S_2$  são, respectivamente, os conjuntos soluções dessas inequações, então  $S_1 \cap S_2$  é o conjunto solução do sistema.

2º)  $f(x) < 0$  e  $g(x) < 0$

Se  $S_3$  e  $S_4$  são, respectivamente, os conjuntos soluções dessas inequações, então  $S_3 \cap S_4$  é o conjunto solução do sistema.

Daí concluímos que o conjunto solução da inequação do produto  $f(x) \cdot g(x) > 0$  é:

$$S = (S_1 \cap S_2) \cup (S_3 \cap S_4).$$

Raciocínio análogo seria feito para a inequação

$$f(x) \cdot g(x) < 0.$$

**Exemplo**

Resolver em  $\mathbb{R}$  a inequação  $(x + 2)(2x - 1) > 0$ .

Analisemos os dois casos possíveis:

**1.º caso**

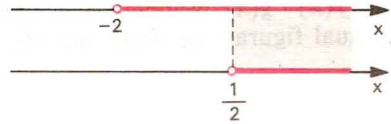
Cada um dos fatores é positivo, isto é:

$$x + 2 > 0 \Rightarrow x > -2$$

e

e

$$2x - 1 > 0 \Rightarrow x > \frac{1}{2}$$



A interseção das duas soluções é:

$$S_1 \cap S_2 = \left\{ x \in \mathbb{R} \mid x > \frac{1}{2} \right\}.$$

**2.º caso**

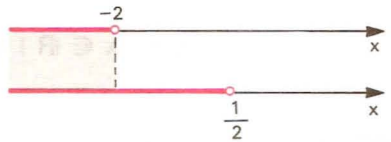
Cada um dos fatores é negativo, isto é:

$$x + 2 < 0 \Rightarrow x < -2$$

e

e

$$2x - 1 < 0 \Rightarrow x < \frac{1}{2}$$



A interseção das duas soluções é:

$$S_3 \cap S_4 = \{x \in \mathbb{R} \mid x < -2\}.$$

O conjunto solução da inequação

$(x + 2)(2x - 1) > 0$  é:

$$S = (S_1 \cap S_2) \cup (S_3 \cap S_4) = \left\{ x \in \mathbb{R} \mid x > \frac{1}{2} \right\} \cup \{x \in \mathbb{R} \mid x < -2\}$$

portanto:

$$S = \left\{ x \in \mathbb{R} \mid x < -2 \text{ ou } x > \frac{1}{2} \right\}.$$

**102. Quadro de sinais**

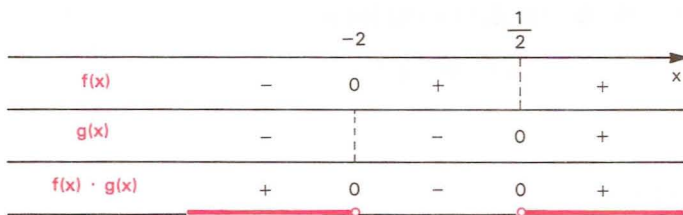
Vejamos um outro processo, mais prático, para resolvermos a inequação  $(x + 2) \cdot (2x - 1) > 0$  em  $\mathbb{R}$ .



Fazemos inicialmente o estudo dos sinais das funções  $f(x) = x + 2$  e  $g(x) = 2x - 1$ .



Com o objetivo de evitar cálculos algébricos no estudo dos sinais do produto  $f(x) \cdot g(x)$ , usaremos o quadro abaixo, que denominamos *quadro-produto*, no qual figuram os sinais dos fatores e o sinal do produto.



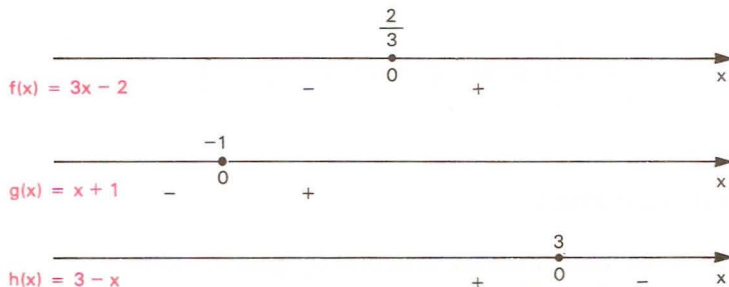
$$S = \left\{ x \in \mathbb{R} \mid x < -2 \text{ ou } x > \frac{1}{2} \right\}.$$

**103.** Podemos estender o raciocínio empregado no estudo dos sinais de um produto de dois fatores para um produto com mais de dois fatores.

*Exemplo*

Resolver a inequação  $(3x-2)(x+1)(3-x) < 0$  em  $\mathbb{R}$ .

Analisando os sinais dos fatores, temos:



Vamos, agora, construir o quadro-produto:

		-1		$\frac{2}{3}$		3		$\rightarrow$
$f(x)$	-		-	0	+		+	$x$
$g(x)$	-	0	+		+		+	
$h(x)$	+		+		+	0	-	
$f(x) \cdot g(x) \cdot h(x)$	+	0	-	0	+	0	-	

$$S = \left\{ x \in \mathbb{R} \mid -1 < x < \frac{2}{3} \text{ ou } x > 3 \right\}.$$

**104.** A inequação  $f(x) \cdot g(x) \geq 0$  tem por conjunto solução  $S$  a reunião do conjunto solução  $S_1$  da inequação  $f(x) \cdot g(x) > 0$  com o conjunto solução  $S_2$  da equação  $f(x) \cdot g(x) = 0$ , isto é:

$$f(x) \cdot g(x) \geq 0 \Leftrightarrow \begin{cases} f(x) \cdot g(x) > 0 \\ \text{ou} \\ f(x) \cdot g(x) = 0 \end{cases}$$

*Exemplo*

Resolver a inequação  $(3x + 1)(2x - 5) \geq 0$  em  $\mathbb{R}$ .

A inequação  $(3x + 1)(2x - 5) \geq 0$  é equivalente a:

$$\begin{cases} (3x + 1) \cdot (2x - 5) > 0 & \textcircled{\text{I}} \\ \text{ou} \\ (3x + 1) \cdot (2x - 5) = 0 & \textcircled{\text{II}} \end{cases}$$

Resolvendo  $\textcircled{\text{I}}$ , temos  $S_1 = \left\{ x \in \mathbb{R} \mid x < -\frac{1}{3} \text{ ou } x > \frac{5}{2} \right\}$ .

Resolvendo  $\textcircled{\text{II}}$ , temos  $S_2 = \left\{ -\frac{1}{3}, \frac{5}{2} \right\}$ .

O conjunto solução é:

$$S = S_1 \cup S_2 = \left\{ x \in \mathbb{R} \mid x < -\frac{1}{3} \text{ ou } x > \frac{5}{2} \right\} \cup \left\{ -\frac{1}{3}, \frac{5}{2} \right\}$$

ou seja:

$$S = \left\{ x \in \mathbb{R} \mid x \leq -\frac{1}{3} \text{ ou } x \geq \frac{5}{2} \right\}.$$

Se recorrêssemos ao quadro-produto, teríamos:

	$-\frac{1}{3}$	$\frac{5}{2}$	$x$
$f(x) = 3x + 1$	-	0	+
$g(x) = 2x - 5$	-	0	+
$f(x) \cdot g(x)$	+	0	+

$$S = \left\{ x \in \mathbb{R} \mid x \leq -\frac{1}{3} \text{ ou } x \geq \frac{5}{2} \right\}.$$

**105.** Dentre as inequações-produto, são importantes as inequações:  $[f(x)]^n > 0$ ,  $[f(x)]^n < 0$ ,  $[f(x)]^n \geq 0$  e  $[f(x)]^n \leq 0$ , em que  $n \in \mathbb{N}^*$ .

Para resolvermos essas inequações, vamos lembrar duas propriedades das potências de base real e expoente inteiro:

1º) “Toda potência de base real e expoente ímpar conserva o sinal da base”, isto é:

$$\begin{aligned} a^{2n+1} > 0 &\Leftrightarrow a > 0 \\ a^{2n+1} = 0 &\Leftrightarrow a = 0 \\ a^{2n+1} < 0 &\Leftrightarrow a < 0 \quad (n \in \mathbb{N}) \end{aligned}$$

2º) “Toda potência de base real e expoente par é um número não negativo”, isto é:

$$a^{2n} \geq 0, \forall a \in \mathbb{R}, \forall n \in \mathbb{N}$$

Assim sendo, temos as seguintes equivalências:

$$[f(x)]^n > 0 \Leftrightarrow \begin{cases} f(x) > 0 & \text{se } n \text{ é ímpar.} \\ f(x) \neq 0 & \text{se } n \text{ é par} \end{cases}$$

$$[f(x)]^n < 0 \Leftrightarrow \begin{cases} f(x) < 0 & \text{se } n \text{ é ímpar} \\ \nexists x \in \mathbb{R} & \text{se } n \text{ é par} \end{cases}$$

$$[f(x)]^n \geq 0 \Leftrightarrow \begin{cases} f(x) \geq 0 & \text{se } n \text{ é ímpar} \\ \forall x \in D(f) & \text{se } n \text{ é par} \end{cases}$$

$$[f(x)]^n \leq 0 \Leftrightarrow \begin{cases} f(x) \leq 0 & \text{se } n \text{ é ímpar} \\ f(x) = 0 & \text{se } n \text{ é par} \end{cases}$$

*Exemplos*

$$1^\circ) (3x - 2)^3 > 0 \Rightarrow 3x - 2 > 0 \Rightarrow S = \left\{ x \in \mathbb{R} \mid x > \frac{2}{3} \right\}$$

$$2^\circ) (4x - 3)^6 > 0 \Rightarrow 4x - 3 \neq 0 \Rightarrow S = \left\{ x \in \mathbb{R} \mid x \neq \frac{3}{4} \right\}$$

$$3^\circ) (2x + 1)^5 < 0 \Rightarrow 2x + 1 < 0 \Rightarrow S = \left\{ x \in \mathbb{R} \mid x < -\frac{1}{2} \right\}$$

$$4^\circ) (x - 2)^4 < 0 \Rightarrow S = \emptyset$$

$$5^\circ) (3 - 5x)^7 \geq 0 \Rightarrow 3 - 5x \geq 0 \Rightarrow S = \left\{ x \in \mathbb{R} \mid x \leq \frac{3}{5} \right\}$$

$$6^\circ) (4x - 5)^2 \geq 0 \Rightarrow S = \mathbb{R}$$

$$7^\circ) (8 - 2x)^4 \leq 0 \Rightarrow 8 - 2x = 0 \Rightarrow S = \{4\}$$

**EXERCÍCIOS**

**215.** Resolva, em  $\mathbb{R}$ , as inequações:

a)  $(3x + 3)(5x - 3) > 0$

b)  $(4 - 2x)(5 + 2x) < 0$

c)  $(5x + 2)(2 - x)(4x + 3) > 0$

d)  $(3x + 2)(-3x + 4)(x - 6) < 0$

e)  $(6x - 1)(2x + 7) \geq 0$

f)  $(5 - 2x)(-7x - 2) \leq 0$

g)  $(3 - 2x)(4x + 1)(5x + 3) \geq 0$

h)  $(5 - 3x)(7 - 2x)(1 - 4x) \leq 0$

**216.** Resolva, em  $\mathbb{R}$ , as inequações:

a)  $(x - 3)^4 > 0$

b)  $(3x + 8)^3 < 0$

c)  $(4 - 5x)^6 < 0$

d)  $(1 - 7x)^5 > 0$

e)  $(3x + 5)^2 \geq 0$

f)  $(5x + 1)^3 \leq 0$

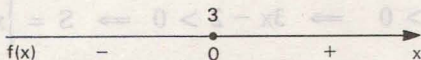
g)  $(4 + 3x)^4 \leq 0$

h)  $(3x - 8)^5 \geq 0$

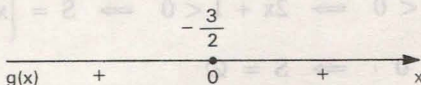
**217.** Resolva, em  $\mathbb{R}$ , a inequação  $(x - 3)^5 \cdot (2x + 3)^6 < 0$ .

**Solução**

Estudemos separadamente os sinais das funções  $f(x) = (x - 3)^5$  e  $g(x) = (2x + 3)^6$ . Lembrando que a potência de expoente ímpar e base real tem o sinal da base, então o *sinal* de  $(x - 3)^5$  é igual ao *sinal* de  $x - 3$ , isto é:



A potência de expoente par e base real não nula é sempre positiva, então  $(2x + 3)^6$  é *positivo* se  $x \neq -\frac{3}{2}$  e  $(2x + 3)^6$  é *nulo* se  $x = -\frac{3}{2}$ , isto é:



Fazendo o quadro-produto, temos:

		$-\frac{3}{2}$		$3$	
$f(x)$	-		-	0	+
$g(x)$	+	0	+		+
$f(x) \cdot g(x)$	-	0	-	0	+
		$-\frac{3}{2}$		$3$	

$$S = \left\{ x \in \mathbb{R} \mid x < 3 \text{ e } x \neq -\frac{3}{2} \right\}.$$

**218.** Resolva, em  $\mathbb{R}$ , as inequações:

- a)  $(5x + 4)^4 \cdot (7x - 2)^3 \geq 0$
- b)  $(3x + 1)^3 \cdot (2 - 5x)^5 \cdot (x + 4)^8 > 0$
- c)  $(x + 6)^7 \cdot (6x - 2)^4 \cdot (4x + 5)^{10} \leq 0$
- d)  $(5x - 1) \cdot (2x + 6)^8 \cdot (4 - 6x)^6 \geq 0$

**219.** Determine, em  $\mathbb{R}$ , a solução da inequação

$$(3x - 2)^3 (x - 5)^2 (2 - x)x > 0.$$



## XVI. Inequações-quociente

**106.** Sendo  $f(x)$  e  $g(x)$  duas funções na variável  $x$ , as inequações

$$\frac{f(x)}{g(x)} > 0, \frac{f(x)}{g(x)} < 0, \frac{f(x)}{g(x)} \geq 0 \text{ e } \frac{f(x)}{g(x)} \leq 0$$

são denominadas *inequações-quociente*.

Considerando que as regras de sinais do produto e do quociente de números reais são análogas, podemos, então, construir o quadro-quociente de modo análogo ao quadro-produto, observando o fato de que o denominador de uma fração não pode ser nulo.

*Exemplo*

Resolver em  $\mathbb{R}$  a inequação  $\frac{3x + 4}{1 - x} \leq 2$ . Temos:

$$\begin{aligned} \frac{3x + 4}{1 - x} \leq 2 &\Rightarrow \frac{3x + 4}{1 - x} - 2 \leq 0 \Rightarrow \frac{3x + 4 - 2(1 - x)}{1 - x} \leq 0 \Rightarrow \\ &\Rightarrow \frac{5x + 2}{1 - x} \leq 0 \end{aligned}$$

Fazendo o quadro-quociente, temos:

	$-\frac{2}{5}$		1		$x$
$f(x) = 5x + 2$	-	0	+		
$g(x) = 1 - x$	+	+	0		
$\frac{f(x)}{g(x)}$	-	0	+		

$$S = \left\{ x \in \mathbb{R} \mid x \leq -\frac{2}{5} \text{ ou } x > 1 \right\}.$$

Podemos resolver a inequação  $\frac{3x + 4}{1 - x} \leq 2$ , multiplicando por  $h(x) = 1 - x$  e examinando dois casos:

a)  $h(x) = 1 - x > 0$ , isto é,  $x < 1$

$$\frac{3x + 4}{1 - x} \leq 2 \Rightarrow 3x + 4 \leq 2(1 - x) \Rightarrow x \leq -\frac{2}{5}$$

$$S_1 = \{x \in \mathbb{R} \mid x < 1\} \cap \left\{x \in \mathbb{R} \mid x \leq -\frac{2}{5}\right\} = \left\{x \in \mathbb{R} \mid x \leq -\frac{2}{5}\right\}.$$

$$b) h(x) = 1 - x < 0, \text{ isto é, } x > 1$$

$$\frac{3x + 4}{1 - x} \leq 2 \implies 3x + 4 \geq 2(1 - x) \implies x \geq -\frac{2}{5}$$

$$S_2 = \{x \in \mathbb{R} \mid x > 1\} \cap \left\{x \in \mathbb{R} \mid x > -\frac{2}{5}\right\} = \{x \in \mathbb{R} \mid x > 1\}.$$

O conjunto solução é:

$$S = S_1 \cup S_2 = \left\{x \in \mathbb{R} \mid x \leq -\frac{2}{5} \text{ ou } x > 1\right\}.$$

Daremos sempre preferência ao método do quadro-quociente, por sua maior simplicidade.

## EXERCÍCIOS

**220.** Resolva as inequações, em  $\mathbb{R}$ :

$$a) \frac{2x + 1}{x + 2} > 0$$

$$c) \frac{3 - 4x}{5x + 1} \geq 0$$

$$b) \frac{3x - 2}{3 - 2x} < 0$$

$$d) \frac{-3 - 2x}{3x + 1} \leq 0$$

**221.** Resolva, em  $\mathbb{R}$ , as inequações:

$$a) \frac{5x - 3}{3x - 4} > -1$$

$$d) \frac{5x - 2}{3x + 4} < 2$$

$$b) \frac{x - 1}{x + 1} \geq 3$$

$$e) \frac{3x - 5}{2x - 4} \leq 1$$

$$c) \frac{6x}{x + 3} < 5$$

$$f) \frac{x + 1}{x - 2} \geq 4$$

**222.** Resolva as inequações, em  $\mathbb{R}$ :

$$a) \frac{(1 - 2x)(3 + 4x)}{(4 - x)} > 0$$

$$c) \frac{(5x + 4)(4x + 1)}{(5 - 4x)} \geq 0$$

$$b) \frac{(3x + 1)}{(2x + 5)(5x + 3)} < 0$$

$$d) \frac{(1 - 2x)}{(5 - x)(3 - x)} \leq 0$$

**223.** Resolva, em  $\mathbb{R}$ , as inequações:

a)  $\frac{1}{x-4} < \frac{2}{x+3}$

b)  $\frac{1}{x-1} < \frac{2}{x-2}$

c)  $\frac{x+1}{x+2} > \frac{x+3}{x+4}$

d)  $\frac{x+5}{3x+2} \leq \frac{x-2}{3x+5}$

e)  $\frac{5x+2}{4x-1} > \frac{5x-1}{4x+5}$

f)  $\frac{1}{x-1} + \frac{2}{x-2} - \frac{3}{x-3} < 0$

g)  $\frac{2}{3x-1} \geq \frac{1}{x-1} - \frac{1}{x+1}$

**224.** Ache os valores reais de  $x$  para os quais vale a desigualdade:

$$-\frac{4}{x} + \frac{3}{2} \geq -\frac{1}{x}.$$

# Funções Quadráticas

## I. Definição

**107.** Uma aplicação  $f$  de  $\mathbb{R}$  em  $\mathbb{R}$  recebe o nome de *função quadrática* ou *do 2.º grau* quando associa a cada  $x \in \mathbb{R}$  o elemento  $(ax^2 + bx + c) \in \mathbb{R}$ , em que  $a, b, c$  são números reais dados e  $a \neq 0$ .

$$f(x) = ax^2 + bx + c \quad (a \neq 0)$$

Exemplos de funções quadráticas:

- |                            |        |           |           |          |
|----------------------------|--------|-----------|-----------|----------|
| a) $f(x) = x^2 - 3x + 2$   | em que | $a = 1,$  | $b = -3,$ | $c = 2$  |
| b) $f(x) = 2x^2 + 4x - 3$  | em que | $a = 2,$  | $b = 4,$  | $c = -3$ |
| c) $f(x) = -3x^2 + 5x - 1$ | em que | $a = -3,$ | $b = 5,$  | $c = -1$ |
| d) $f(x) = x^2 - 4$        | em que | $a = 1,$  | $b = 0,$  | $c = -4$ |
| e) $f(x) = -2x^2 + 5x$     | em que | $a = -2,$ | $b = 5,$  | $c = 0$  |
| f) $f(x) = -3x^2$          | em que | $a = -3,$ | $b = 0,$  | $c = 0$  |

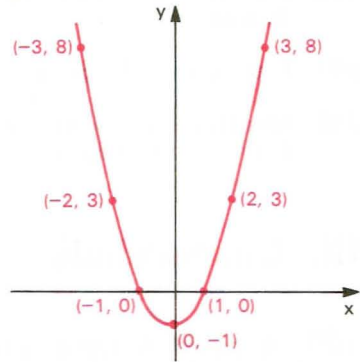
## II. Gráfico

**108.** O gráfico da função quadrática é uma parábola. (\*)

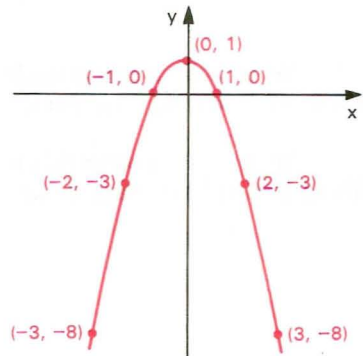
(\*) Isso é provado no volume de Geometria Analítica desta coleção.

*Exemplos*1º) Construir o gráfico de  $y = x^2 - 1$ .

x	$y = x^2 - 1$
-3	8
-2	3
-1	0
0	-1
1	0
2	3
3	8

2º) Construir o gráfico de  $y = -x^2 + 1$ .

x	$y = -x^2 + 1$
-3	-8
-2	-3
-1	0
0	1
1	0
2	-3
3	-8

**EXERCÍCIOS****225.** Construa os gráficos das funções definidas em  $\mathbb{R}$ :

a)  $y = x^2$

d)  $y = -2x^2$

g)  $y = -3x^2 - 3$

b)  $y = -x^2$

e)  $y = x^2 - 2x$

h)  $y = x^2 - 2x + 4$

c)  $y = 2x^2$

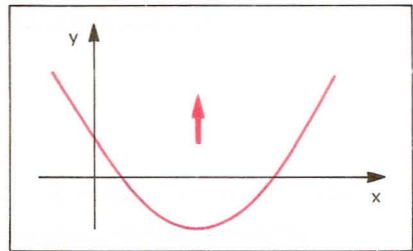
f)  $y = -2x^2 - 4x$



- 226.** Em que condições a função quadrática  $y = (m^2 - 4)x^2 - (m + 2)x - 1$  está definida?
- 227.** Determine uma função quadrática tal que  $f(-1) = -4$ ,  $f(1) = 2$  e  $f(2) = -1$ .
- 228.** Seja  $f(x) = ax^2 + bx + c$ . Sabendo que  $f(1) = 4$ ,  $f(2) = 0$  e  $f(3) = -2$ , determine o produto  $abc$ .

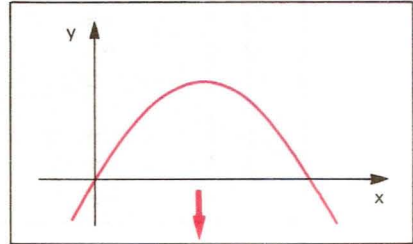
### III. Concavidade

**109.** A parábola representativa da função quadrática  $y = ax^2 + bx + c$  pode ter a concavidade voltada para “cima” ou voltada para “baixo”.



Se  $a > 0$ , a concavidade da parábola está voltada para cima.

Se  $a < 0$ , a concavidade da parábola está voltada para baixo.



### IV. Forma canônica

**110.** A construção do gráfico da função quadrática  $y = ax^2 + bx + c$  com o auxílio de uma tabela de valores  $x$  e  $y$ , como foi feito no item anterior, torna-se às vezes um trabalho impreciso, pois na tabela atribuímos a  $x$  alguns valores inteiros e pode acontecer que em determinada função quadrática os valores de abscissa (valores de  $x$ ), em que a parábola intercepta o eixo dos  $x$  ou a abscissa do ponto da parábola de maior ou menor ordenada, não são inteiros.

Para iniciarmos um estudo analítico mais detalhado da função quadrática, vamos primeiramente transformá-la em outra forma mais conveniente, chamada *forma canônica*.

$$f(x) = ax^2 + bx + c = a\left(x^2 + \frac{b}{a}x + \frac{c}{a}\right) = a\left[x^2 + \frac{b}{a}x + \frac{b^2}{4a^2} - \frac{b^2}{4a^2} + \frac{c}{a}\right] =$$

$$= a\left[\left(x^2 + \frac{b}{a}x + \frac{b^2}{4a^2}\right) - \left(\frac{b^2}{4a^2} - \frac{c}{a}\right)\right] = a\left[\left(x + \frac{b}{2a}\right)^2 - \left(\frac{b^2 - 4ac}{4a^2}\right)\right]$$

Representando  $b^2 - 4ac$  por  $\Delta$ , também chamado discriminante do trinômio do segundo grau, temos a forma canônica.

$$f(x) = a\left[\left(x + \frac{b}{2a}\right)^2 - \frac{\Delta}{4a^2}\right]$$

## V. Zeros

**111.** Os zeros ou raízes da função quadrática  $f(x) = ax^2 + bx + c$  são os valores de  $x$  reais tais que  $f(x) = 0$  e, portanto, as soluções da equação do segundo grau

$$ax^2 + bx + c = 0.$$

Utilizando a forma canônica, temos:

$$ax^2 + bx + c = 0 \Leftrightarrow a\left[\left(x + \frac{b}{2a}\right)^2 - \frac{\Delta}{4a^2}\right] = 0 \Leftrightarrow$$

$$\Leftrightarrow \left(x + \frac{b}{2a}\right)^2 - \frac{\Delta}{4a^2} = 0 \Leftrightarrow \left(x + \frac{b}{2a}\right)^2 = \frac{\Delta}{4a^2} \Leftrightarrow$$

$$\Leftrightarrow x + \frac{b}{2a} = \pm \frac{\sqrt{\Delta}}{2a} \Leftrightarrow x = \frac{-b \pm \sqrt{\Delta}}{2a}$$

### 112. Número de raízes

Observe que a existência de raízes reais para a equação do segundo grau  $ax^2 + bx + c = 0$  fica condicionada ao fato de  $\sqrt{\Delta}$  ser real. Assim, temos três casos a considerar:

1º)  $\Delta > 0$ , a equação apresentará duas raízes distintas, que são:

$$x_1 = \frac{-b + \sqrt{\Delta}}{2a} \quad \text{e} \quad x_2 = \frac{-b - \sqrt{\Delta}}{2a}.$$

2º)  $\Delta = 0$ , a equação apresentará duas raízes iguais, que são:

$$x_1 = x_2 = \frac{-b}{2a}.$$

3º)  $\Delta < 0$ , sabendo que nesse caso  $\sqrt{\Delta} \notin \mathbb{R}$ , diremos que a equação não apresenta raízes reais.

**Resumo**

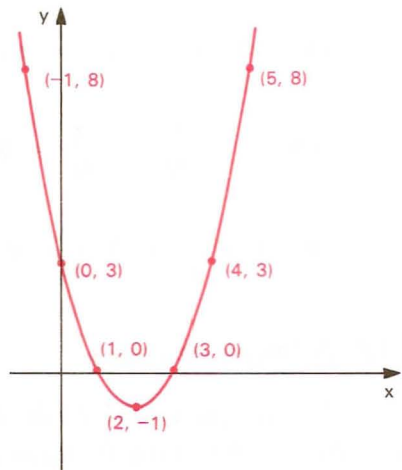
$$ax^2 + bx + c = 0 \Leftrightarrow \begin{cases} \Delta > 0 \Rightarrow x = \frac{-b + \sqrt{\Delta}}{2a} \quad \text{ou} \quad x = \frac{-b - \sqrt{\Delta}}{2a} \\ \Delta = 0 \Rightarrow x = \frac{-b}{2a} \\ \Delta < 0 \Rightarrow \text{n\~{o} existem ra\~{i}zes reais.} \end{cases}$$

**113. Significado geométrico das raízes**

Interpretando geometricamente, dizemos que os zeros da função quadrática são as abscissas dos pontos onde a parábola corta o eixo dos  $x$ .

*Exemplo*

Construindo o gráfico da função  $y = x^2 - 4x + 3$  podemos notar que a parábola corta o eixo dos  $x$  nos pontos de abscissas 1 e 3, que são as raízes da equação  $x^2 - 4x + 3 = 0$ .



## EXERCÍCIOS

**229.** Determine os zeros reais das funções:

a)  $f(x) = x^2 - 3x + 2$

b)  $f(x) = -x^2 + 7x - 12$

c)  $f(x) = 3x^2 - 7x + 2$

d)  $f(x) = x^2 - 2x + 2$

e)  $f(x) = x^2 + 4x + 4$

f)  $f(x) = -x^2 + \frac{3}{2}x + 1$

g)  $f(x) = x^2 - 2x - 1$

h)  $f(x) = -x^2 + 3x - 4$

i)  $f(x) = x^2 - \sqrt{2}x + \frac{1}{2}$

j)  $f(x) = x^2 + (1 - \sqrt{3})x - \sqrt{3}$

k)  $f(x) = 2x^2 - 4x$

l)  $f(x) = -3x^2 + 6$

m)  $f(x) = 4x^2 + 3$

n)  $f(x) = -5x^2$

**230.** Uma empresa produz e vende determinado tipo de produto. A quantidade que ela consegue vender varia conforme o preço, da seguinte forma: a um preço  $y$  ela consegue vender  $x$  unidades do produto, de acordo com a equação  $y = 50 - \frac{x}{2}$ .

Sabendo que a receita (quantidade vendida vezes o preço de venda) obtida foi de  $CR\$ 1\,250,00$ , qual foi a quantidade vendida?

**231.** Resolva o sistema

$$\begin{cases} \frac{1}{x} + \frac{1}{y} = \frac{7}{12} \\ x \cdot y = 12 \end{cases}$$

**232.** a) Resolva a equação  $x^2 - 3x - 4 = 0$ .

b) Resolva o sistema  $\begin{cases} 2x + y = 4 \\ 2x + xy = -8 \end{cases}$ .

**233.** Determine os zeros reais da função  $f(x) = x^4 - 3x^2 - 4$ .

### Solução

Queremos determinar  $x \in \mathbb{R}$  tal que  $x^4 - 3x^2 - 4 = 0$ .

Fazendo a substituição  $z = x^2$ , vem:

$$z^2 - 3z - 4 = 0$$

cujas soluções são  $z = 4$  ou  $z = -1$ , mas  $z = x^2$ ; então:

$$x^2 = 4 \implies x = \pm 2$$

e

$$x^2 = -1 \implies \nexists x \in \mathbb{R}.$$

Logo, os zeros reais da função  $f(x) = x^4 - 3x^2 - 4$  são  $x = 2$  e  $x = -2$ .

**234.** Determine os zeros reais das funções:

a)  $f(x) = x^4 - 5x^2 + 4$

e)  $f(x) = 2x^4 + 6x^2 + 4$

b)  $f(x) = -x^4 + 5x^2 + 36$

f)  $f(x) = -x^4 + 3x^2 - 3$

c)  $f(x) = x^4 - x^2 - 6$

g)  $f(x) = 3x^4 - 12x^2$

d)  $f(x) = x^4 - 4x^2 + 4$

h)  $f(x) = x^6 - 7x^3 - 8$

**235.** Determine os valores de  $m$  para que a função quadrática  $f(x) = mx^2 + (2m - 1)x + (m - 2)$  tenha dois zeros reais e distintos.

### Solução

Na função  $f(x) = mx^2 + (2m - 1)x + (m - 2)$ , temos:

$$a = m, b = 2m - 1, c = m - 2 \text{ e } \Delta = 4m + 1.$$

Considerando que a função é quadrática e os zeros são reais e distintos, então:

$$a = m \neq 0 \text{ e } \Delta = 4m + 1 > 0$$

ou seja:

$$m \neq 0 \text{ e } m > -\frac{1}{4}.$$

**236.** Determine os valores de  $m$  para que a função quadrática  $f(x) = (m - 1)x^2 + (2m + 3)x + m$  tenha dois zeros reais e distintos.

**237.** Determine os valores de  $m$  para que a equação do 2º grau  $(m + 2)x^2 + (3 - 2m)x + (m - 1) = 0$  tenha raízes reais.

**238.** Determine os valores de  $m$  para que a função  $f(x) = mx^2 + (m + 1)x + (m + 1)$  tenha um zero real duplo.

**239.** Determine os valores de  $m$  para que a equação  $x^2 + (3m + 2)x + (m^2 + m + 2) = 0$  tenha duas raízes reais iguais.

**240.** Determine os valores de  $m$  para que a função  $f(x) = (m + 1)x^2 + (2m + 3)x + (m - 1)$  não tenha zeros reais.

**241.** Determine os valores de  $m$  para que a equação  $mx^2 + (2m - 1)x + (m - 2) = 0$  não tenha raízes reais.

**242.** O trinômio  $ax^2 + bx + c$  tem duas raízes reais e distintas;  $\alpha$  e  $\beta$  são dois números reais não nulos. O que se pode afirmar sobre as raízes do trinômio  $\frac{a}{\alpha}x^2 + \beta bx + \alpha\beta^2c$ ?



- 243.** Mostre que na equação do 2º grau  $ax^2 + bx + c = 0$ , de raízes reais  $x_1$  e  $x_2$ , temos para a soma  $S$  das raízes  $S = x_1 + x_2 = \frac{-b}{a}$  e para produto  $P$  das raízes  $P = x_1 \cdot x_2 = \frac{c}{a}$ .
- 244.** Na equação do 2º grau  $2x^2 - 5x - 1 = 0$ , de raízes  $x_1$  e  $x_2$ , calcule:
- |                                    |  |
|------------------------------------|--|
| a) $x_1 + x_2$                     | d) $(x_1)^2 + (x_2)^2$                 |
| b) $x_1 \cdot x_2$                 | e) $\frac{x_1}{x_2} + \frac{x_2}{x_1}$ |
| c) $\frac{1}{x_1} + \frac{1}{x_2}$ | f) $(x_1)^3 + (x_2)^3$                 |
- 245.** As raízes da equação  $2x^2 - 2mx + 3 = 0$  são positivas e uma é o triplo da outra. Calcule o valor de  $m$ .
- 246.** As raízes da equação  $x^2 + bx + 47 = 0$  são inteiras. Calcule o módulo da diferença entre essas raízes.
- 247.** Se  $r$  e  $s$  são as raízes da equação  $ax^2 + bx + c = 0$  e  $a \neq 0$  e  $c \neq 0$ , qual é o valor de  $\frac{1}{r^2} + \frac{1}{s^2}$ ?
- 248.** Determine o parâmetro  $m$  na equação  $x^2 + mx + m^2 - m - 12 = 0$ , de modo que ele tenha uma raiz nula e a outra positiva.
- 249.** Dadas as equações  $x^2 - 5x + k = 0$  e  $x^2 - 7x + 2k = 0$ , sabe-se que uma das raízes da segunda equação é o dobro de uma das raízes da primeira equação. Sendo  $k \neq 0$ , determine  $k$ .
- 250.** Mostre que uma equação do 2º grau de raízes  $x_1$  e  $x_2$  é a equação  $x^2 - Sx + P = 0$  em que  $S = x_1 + x_2$  e  $P = x_1 \cdot x_2$ .
- 251.** Obtenha uma equação do segundo grau de raízes:
- |                                   |                                    |
|-----------------------------------|------------------------------------|
| a) 2 e -3                         | d) 1 e $-\sqrt{2}$                 |
| b) $\frac{1}{2}$ e $-\frac{3}{2}$ | e) $1 + \sqrt{3}$ e $1 - \sqrt{3}$ |
| c) 0,4 e 5                        |                                    |
- 252.** Se a equação  $ax^2 + bx + c = 0$ ,  $a \neq 0$ , admite as raízes reais não nulas  $x_1$  e  $x_2$ , obtenha a equação de raízes:
- |                                      |  |
|--------------------------------------|--|
| a) $(x_1)^2$ e $(x_2)^2$             | c) $\frac{x_1}{x_2}$ e $\frac{x_2}{x_1}$ |
| b) $\frac{1}{x_1}$ e $\frac{1}{x_2}$ | d) $(x_1)^3$ e $(x_2)^3$                 |

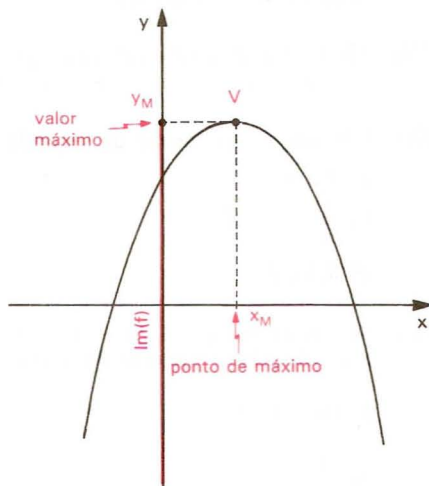
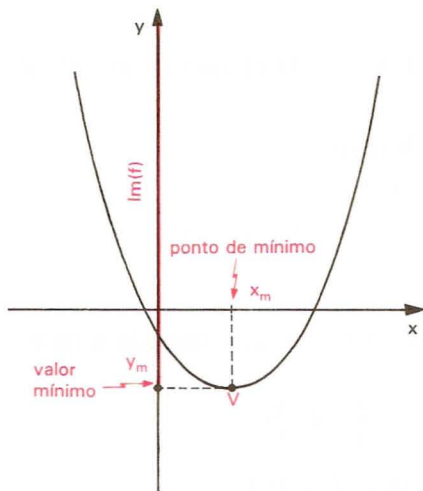
- 253.** Determine  $m$  na equação  $mx^2 - 2(m-1)x + m = 0$  para que se tenha  $\frac{x_1}{x_2} + \frac{x_2}{x_1} = 4$ , em que  $x_1$  e  $x_2$  são as raízes da equação.
- 254.** O trinômio  $f(x) = x^2 - px + q$  tem por raízes  $a$  e  $b$ ,  $a \neq 0$  e  $b \neq 0$ . Qual é o trinômio cujas raízes são  $\frac{1}{a}$  e  $\frac{1}{b}$ ?
- 255.** Sejam  $m, n$  dois números inteiros positivos tais que  $m, n$  são ímpares consecutivos e  $m \cdot n = 1599$ .  
Indique o valor de  $m + n$ .

## VI. Máximo e mínimo

### 114. Definições

Dizemos que o número  $y_M \in Im(f)$  é o *valor máximo* da função  $y = f(x)$  se, e somente se,  $y_M \geq y$  para qualquer  $y \in I_M(f)$ . O número  $x_M \in D(f)$  tal que  $y_M = f(x_M)$  é chamado *ponto de máximo* da função.

Dizemos que o número  $y_m \in Im(f)$  é o *valor mínimo* da função  $y = f(x)$  se, e somente se,  $y_m \leq y$  para qualquer  $y \in I_m(f)$ . O número  $x_m \in D(f)$  tal que  $y_m = f(x_m)$  é chamado *ponto de mínimo* da função.



**115. Teoremas**

I. Se  $a < 0$ , a função quadrática  $y = ax^2 + bx + c$  admite o valor máximo  $y_M = -\frac{\Delta}{4a}$  para  $x_M = -\frac{b}{2a}$ .

II. Se  $a > 0$ , a função quadrática  $y = ax^2 + bx + c$  admite o valor mínimo  $y_m = -\frac{\Delta}{4a}$  para  $x_m = -\frac{b}{2a}$ .

*Demonstração*

I. Consideremos a função quadrática na forma canônica:

$$y = a \left[ \left( x + \frac{b}{2a} \right)^2 - \frac{\Delta}{4a^2} \right] \quad (1)$$

Sendo  $a < 0$ , o valor de  $y$  será tanto maior quanto menor for o valor da diferença  $\left( x + \frac{b}{2a} \right)^2 - \frac{\Delta}{4a^2}$ .

Nessa diferença,  $-\frac{\Delta}{4a^2}$  é constante (porque não depende de  $x$ ; só depende de  $a, b, c$ ) e  $\left( x + \frac{b}{2a} \right)^2 \geq 0$  para todo  $x$  real. Então a diferença assume o menor valor possível quando  $\left( x + \frac{b}{2a} \right)^2 = 0$ , ou seja, quando  $x = -\frac{b}{2a}$ .

Para  $x = -\frac{b}{2a}$ , temos na expressão (1):

$$y = a \left[ \left( -\frac{b}{2a} + \frac{b}{2a} \right)^2 - \frac{\Delta}{4a^2} \right] = a \left[ 0^2 - \frac{\Delta}{4a^2} \right] = -\frac{\Delta}{4a}.$$

II. Prova-se de modo análogo.

**116. Aplicações**

1º) Na função real  $f(x) = 4x^2 - 4x - 8$ , temos:  $a = 4$ ,  $b = -4$ ,  $c = -8$  e  $\Delta = 144$ .

Como  $a = 4 > 0$ , a função admite um valor mínimo:

$$y_m = \frac{-\Delta}{4a} = \frac{-144}{4 \cdot 4}, \text{ isto é: } y_m = -9$$

em

$$x_m = \frac{-b}{2a} = \frac{4}{2 \cdot 4}, \text{ isto é: } x_m = \frac{1}{2}.$$

2º) Na função real  $f(x) = -x^2 + x + \frac{3}{4}$ , temos:  $a = -1$ ,  $b = 1$ ,  $c = \frac{3}{4}$  e  $\Delta = 4$ .

Como  $a = -1 < 0$ , a função admite um valor máximo:

$$y_M = \frac{-\Delta}{4a} = \frac{-4}{4(-1)}, \text{ isto é: } y_M = 1$$

em

$$x_M = \frac{-b}{2a} = \frac{-1}{2(-1)}, \text{ isto é: } x_M = \frac{1}{2}.$$

## VII. Vértice da parábola

**117.** O ponto  $V\left(\frac{-b}{2a}, \frac{-\Delta}{4a}\right)$  é chamado vértice da parábola representativa da função quadrática.

### EXERCÍCIOS

**256.** Determine os vértices das parábolas:

a)  $y = x^2 - 4$

d)  $y = -x^2 + \frac{1}{2}x + \frac{3}{2}$

b)  $y = -x^2 + 3x$

e)  $y = -x^2 + x - \frac{2}{9}$

c)  $y = 2x^2 - 5x + 2$

f)  $y = x^2 - \frac{7}{3}x - 2$

**257.** Determine o valor máximo ou o valor mínimo e o ponto de máximo ou o ponto de mínimo das funções abaixo, definidas em  $\mathbb{R}$ .

a)  $y = 2x^2 + 5x$

d)  $y = x^2 - \frac{7}{2}x + \frac{5}{2}$

b)  $y = -3x^2 + 12x$

e)  $y = -x^2 + 5x - 7$

c)  $y = 4x^2 - 8x + 4$

f)  $y = -\frac{x^2}{2} + \frac{4}{3}x - \frac{1}{2}$

**258.** Determine o valor de  $m$  na função real  $f(x) = 3x^2 - 2x + m$  para que o valor mínimo seja  $\frac{5}{3}$ .

- 259.** Determine o valor de  $m$  na função real  $f(x) = -3x^2 + 2(m-1)x + (m+1)$  para que o valor máximo seja 2.
- 260.** Determine o valor de  $m$  na função real  $f(x) = mx^2 + (m-1)x + (m+2)$  para que o valor máximo seja 2.
- 261.** Determine o valor de  $m$  na função real  $f(x) = (m-1)x^2 + (m+1)x - m$  para que o valor mínimo seja 1.
- 262.** Dentre todos os números reais de soma 8, determine aqueles cujo produto é máximo.

**Solução**

Indicando por  $x$  e  $z$  esses números e por  $y$  o seu produto, temos:

$$x + z = 8 \quad y = x \cdot z$$

Como precisamos ficar com uma só das variáveis,  $x$  ou  $z$ , fazemos

$$x + z = 8 \implies z = 8 - x$$

e portanto:

$$y = x \cdot z \implies y = x(8 - x) \implies y = -x^2 + 8x$$

Como  $a = -1 < 0$ ,  $y$  é máximo quando

$$x = \frac{-b}{2a} = \frac{-8}{2 \cdot (-1)} \implies x = 4.$$

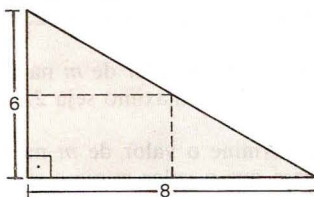
Substituindo em  $z = 8 - x$ , vem  $z = 4$ .

Logo, os números procurados são 4 e 4.

- 263.** Seja  $y = -x^2 + 5x - 1$ . Dado que  $x$  varia no intervalo fechado  $[0, 6]$ , determine o maior ( $y_M$ ) e o menor ( $y_m$ ) valor que  $y$  assume.
- 264.** Dada  $f(x) = 2x^2 + 7x - 15$ , para que valor de  $x$  a função atinge um máximo?
- 265.** A parábola de equação  $y = -2x^2 + bx + c$  passa pelo ponto  $(1, 0)$  e seu vértice é o ponto de coordenadas  $(3, v)$ . Determine  $v$ .
- 266.** Dentre todos os números reais  $x$  e  $z$  tais que  $2x + z = 8$ , determine aqueles cujo produto é máximo.
- 267.** Dentre todos os retângulos de perímetro 20 cm, determine o de área máxima.
- 268.** Dentre todos os números  $x$  e  $z$  de soma 6, determine aqueles cuja soma dos quadrados é mínima.
- 269.** Determine o retângulo de área máxima localizado no primeiro quadrante, com dois lados nos eixos cartesianos e um vértice na reta  $y = -4x + 5$ .



- 270.** É dada uma folha de cartolina como na figura ao lado. Cortando a folha na linha pontilhada resultará um retângulo. Determine esse retângulo, sabendo que a área é máxima.



- 271.** Determine o retângulo de maior área contido num triângulo equilátero de lado  $4\text{ cm}$ , estando a base do retângulo num lado do triângulo.
- 272.** Num triângulo isósceles de base  $6\text{ cm}$  e altura  $4\text{ cm}$  está inscrito um retângulo. Determine o retângulo de área máxima, sabendo que a base do retângulo está sobre a base do triângulo.
- 273.** Uma conta perfurada de um colar é enfiada em um arame fino com o formato da parábola  $y = x^2 - 6$ . Do ponto  $P$  de coordenadas  $(4, 10)$  deixa-se a conta deslizar no arame até chegar ao ponto  $Q$  de ordenada  $-6$ . Qual é a distância horizontal percorrida pela conta (diferença entre as abscissas de  $P$  e  $Q$ )?
- 274.** Uma parede de tijolos será usada como um dos lados de um curral retangular. Para os outros lados iremos usar  $400$  metros de tela de arame, de modo a produzir área máxima. Qual é o quociente de um lado pelo outro?

## VIII. Imagem

- 118.** Para determinarmos a imagem da função quadrática, tomemos inicialmente a função na forma canônica:

$$f(x) = a \left[ \left( x + \frac{b}{2a} \right)^2 - \frac{\Delta}{4a^2} \right]$$

ou seja,  $f(x) = a \left( x + \frac{b}{2a} \right)^2 - \frac{\Delta}{4a}$ . Observemos que  $\left( x + \frac{b}{2a} \right)^2 \geq 0$  para qualquer  $x \in \mathbb{R}$ ; então temos que considerar dois casos:

*1º caso:*

$$a > 0 \implies a \left( x + \frac{b}{2a} \right)^2 \geq 0, \text{ e, portanto:}$$

$$y = a \left( x + \frac{b}{2a} \right)^2 - \frac{\Delta}{4a} \geq \frac{-\Delta}{4a}.$$

2º caso:

$$a < 0 \Rightarrow a \left( x + \frac{b}{2a} \right)^2 \leq 0, \text{ e, portanto:}$$

$$y = a \left( x + \frac{b}{2a} \right)^2 - \frac{\Delta}{4a} \leq \frac{-\Delta}{4a}.$$

Resumindo:

$$a > 0 \Rightarrow y \geq \frac{-\Delta}{4a}, \forall x \in \mathbb{R}$$

$$a < 0 \Rightarrow y \leq \frac{-\Delta}{4a}, \forall x \in \mathbb{R}.$$

ou ainda:

$$a > 0 \Rightarrow \text{Im}(f) = \left\{ y \in \mathbb{R} \mid y \geq -\frac{\Delta}{4a} \right\}$$

$$a < 0 \Rightarrow \text{Im}(f) = \left\{ y \in \mathbb{R} \mid y \leq -\frac{\Delta}{4a} \right\}$$

### Exemplos

1º) Obter a imagem da função  $f$  de  $\mathbb{R}$  em  $\mathbb{R}$  definida por  $f(x) = 2x^2 - 8x + 6$ .

Na função  $f(x) = 2x^2 - 8x + 6$ , temos:

$$a = 2, b = -8 \text{ e } c = 6$$

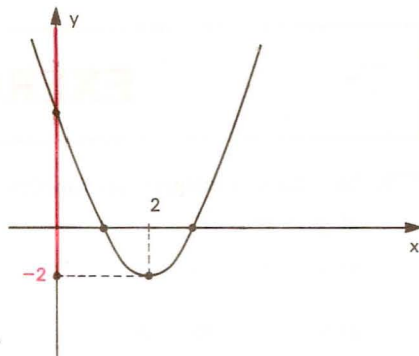
logo:

$$\Delta = b^2 - 4ac = (-8)^2 - 4 \cdot 2 \cdot 6 = 16$$

$$\text{e portanto: } \frac{-\Delta}{4a} = \frac{-16}{4 \cdot 2} = -2.$$

Como  $a = 2 > 0$ , temos:

$$\text{Im}(f) = \{ y \in \mathbb{R} \mid y \geq -2 \}.$$



2º) Obter a imagem da função  $f$  de  $\mathbb{R}$  em  $\mathbb{R}$  definida por

$$f(x) = -\frac{x^2}{3} + 2x - \frac{5}{3}.$$

Na função  $f(x) = -\frac{x^2}{3} + 2x - \frac{5}{3}$ , temos:

$$a = -\frac{1}{3}, \quad b = 2 \quad \text{e} \quad c = -\frac{5}{3}$$

logo:

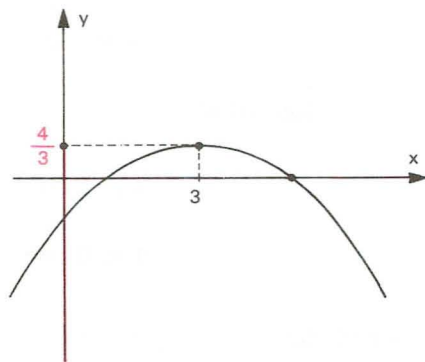
$$\Delta = b^2 - 4ac = 2^2 - 4 \cdot \left(-\frac{1}{3}\right) \cdot \left(-\frac{5}{3}\right) = \frac{16}{9}$$

e portanto:

$$\frac{-\Delta}{4a} = \frac{-\frac{16}{9}}{4\left(-\frac{1}{3}\right)} = \frac{4}{3}.$$

Como  $a = -\frac{1}{3} < 0$ , temos:

$$Im(f) = \left\{ y \in \mathbb{R} \mid y \leq \frac{4}{3} \right\}.$$



## EXERCÍCIOS

**275.** Determine a imagem das funções definidas em  $\mathbb{R}$ :

a)  $y = x^2 - 3x$

d)  $y = -4x^2 + 8x + 12$

b)  $y = -x^2 + 4$

e)  $y = -x^2 + \frac{3}{2}x + 1$

c)  $y = 3x^2 - 9x + 6$

f)  $y = \frac{1}{2}x^2 + x + 1$

**276.** Determine  $m$  na função  $f(x) = 3x^2 - 4x + m$  definida em  $\mathbb{R}$  para que a imagem seja  $Im = \{y \in \mathbb{R} \mid y \geq 2\}$ .

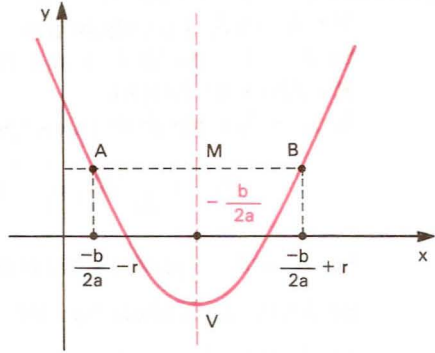
**277.** Determine  $m$  na função  $f(x) = -\frac{x^2}{3} + mx - \frac{1}{2}$  definida em  $\mathbb{R}$  para que a imagem seja  $Im = \{y \in \mathbb{R} \mid y \leq 7\}$ .

## IX. Eixo de simetria

### 119. Teorema

“O gráfico da função quadrática admite um eixo de simetria perpendicular ao eixo dos  $x$  e que passa pelo vértice.”

Os pontos da reta perpendicular ao eixo dos  $x$  e que passa pelo vértice da parábola obedecem à equação  $x = \frac{-b}{2a}$ , pois todos os pontos dessa reta têm abscissa  $\frac{-b}{2a}$ .



Para provarmos que a parábola tem eixo de simetria na reta  $x = \frac{-b}{2a}$ , devemos mostrar que dado um ponto  $A\left(\frac{-b}{2a} - r, y\right)$ , com  $r \in \mathbb{R}$ , pertencente ao gráfico da função, existe  $B\left(\frac{-b}{2a} + r, y\right)$  também pertencente ao gráfico da função.

Tomando a função quadrática na forma canônica

$$f(x) = a \left[ \left( x + \frac{b}{2a} \right)^2 - \frac{\Delta}{4a^2} \right]$$

e considerando que  $A\left(\frac{-b}{2a} - r, y\right)$  pertence ao gráfico da função, temos:

$$\begin{aligned} y &= f\left(\frac{-b}{2a} - r\right) = a \left[ \left( \frac{-b}{2a} - r + \frac{b}{2a} \right)^2 - \frac{\Delta}{4a^2} \right] = a \left[ (-r)^2 - \frac{\Delta}{4a^2} \right] = \\ &= a \left[ (r)^2 - \frac{\Delta}{4a^2} \right] = a \left[ \left( \frac{-b}{2a} + r + \frac{b}{2a} \right)^2 - \frac{\Delta}{4a^2} \right] = f\left(\frac{-b}{2a} + r\right) \end{aligned}$$

provando que  $B\left(\frac{-b}{2a} + r, y\right)$  também pertence ao gráfico da função.

## X. Informações que auxiliam a construção do gráfico

**120.** Para fazermos o esboço do gráfico da função quadrática  $f(x) = ax^2 + bx + c$ , buscaremos, daqui para a frente, informações preliminares, que são:

1º) O gráfico é uma parábola, cujo eixo de simetria é a reta  $x = \frac{-b}{2a}$  perpendicular ao eixo dos  $x$ .

2º) Se  $a > 0$ , a parábola tem a concavidade voltada para cima.

Se  $a < 0$ , a parábola tem a concavidade voltada para baixo.

3º) Zeros da função.

Se  $\Delta > 0$ , a parábola intercepta o eixo dos  $x$  em dois pontos distintos

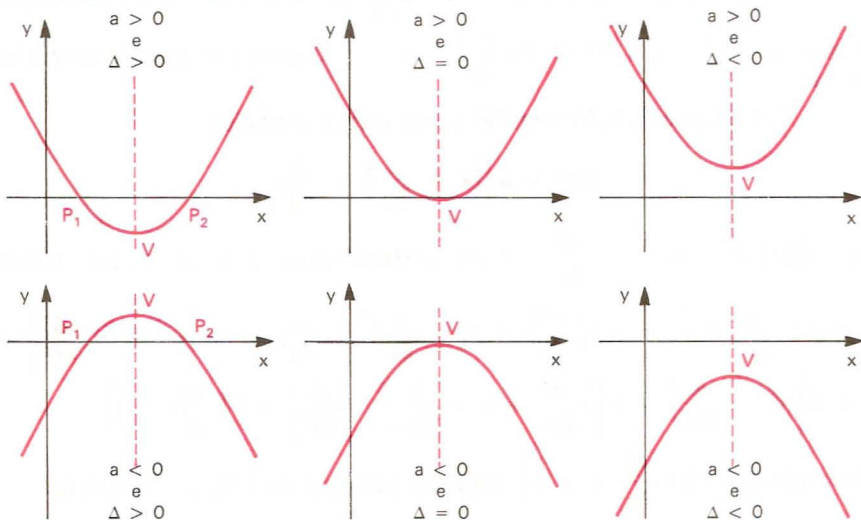
$$P_1\left(\frac{-b - \sqrt{\Delta}}{2a}, 0\right) \quad \text{e} \quad P_2\left(\frac{-b + \sqrt{\Delta}}{2a}, 0\right).$$

Se  $\Delta = 0$ , a parábola tangencia o eixo dos  $x$  no ponto  $P\left(\frac{-b}{2a}, 0\right)$ .

Se  $\Delta < 0$ , a parábola não tem pontos no eixo dos  $x$ .

4º) Vértice da parábola é o ponto  $V\left(\frac{-b}{2a}, \frac{-\Delta}{4a}\right)$ , que é máximo se  $a < 0$  ou é mínimo se  $a > 0$ .

Seguem os tipos de gráficos que podemos obter:





# EXERCÍCIOS

**278.** Faça o esboço do gráfico da função  $y = x^2 - 4x + 3$ .

## Solução

### Concavidade

Como  $a = 1 > 0$ , a parábola tem a concavidade voltada para cima.

### Zeros da função

$$x^2 - 4x + 3 = 0 \implies x = 1 \quad \text{ou} \quad x = 3$$

Os pontos no eixo  $x$  são  $P_1(1, 0)$  e  $P_2(3, 0)$ .

### Vértice

Em  $y = x^2 - 4x + 3$ , temos

$$a = 1, b = -4, c = 3 \text{ e } \Delta = 4.$$

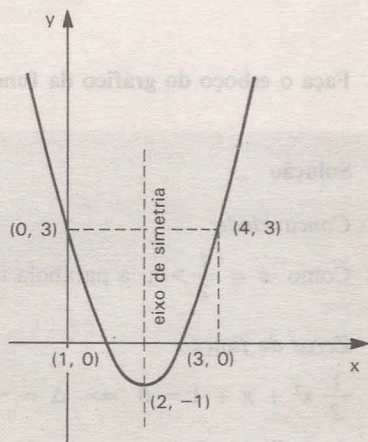
$$\text{Como } \frac{-b}{2a} = \frac{4}{2 \cdot 1} = 2 \text{ e } \frac{-\Delta}{4a} = \frac{-4}{4 \cdot 1} = -1,$$

o vértice é  $V(2, -1)$ .

### Gráfico

Observe que a parábola sempre intercepta o eixo  $y$ . Para determinarmos onde o faz, basta lembrar que o ponto situado no eixo  $y$  tem abscissa nula, logo  $y(0) = 0^2 - 4 \cdot 0 + 3 = 3$ , isto é, o ponto no eixo  $y$  é  $(0, 3)$ .

Determinado o ponto onde a parábola corta o eixo  $y$ , podemos determinar um outro ponto  $(4, 3)$  da parábola, simétrico a  $(0, 3)$  em relação à reta  $x = 2$  (eixo de simetria da parábola).



**279.** Faça o esboço do gráfico da função  $y = -x^2 + 4x - 4$ .

### Solução

#### Concavidade

Como  $a = -1 < 0$ , a parábola tem a concavidade voltada para baixo.

#### Zeros da função

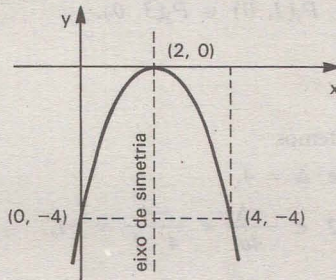
$$-x^2 + 4x - 4 = 0 \implies x = 2$$

A parábola admite um único ponto no eixo  $x$ , que é  $P = (2, 0)$ .

#### Vértice

Considerando que a parábola admite um único ponto no eixo  $x$ , então esse ponto é o vértice da parábola.

#### Gráfico



**280.** Faça o esboço do gráfico da função  $y = \frac{1}{2}x^2 + x + 1$ .

### Solução

#### Concavidade

Como  $a = \frac{1}{2} > 0$ , a parábola tem a concavidade voltada para cima.

#### Zeros da função

$$\frac{1}{2}x^2 + x + 1 = 0 \implies \Delta = -1 < 0 \implies \nexists \text{ raízes reais.}$$

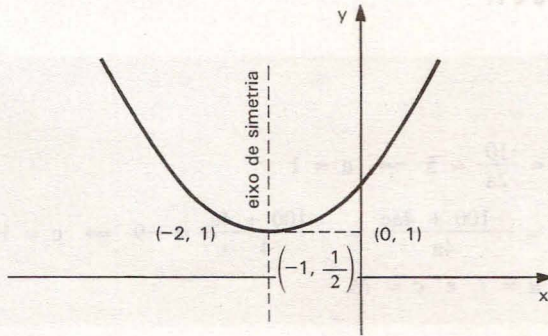
A parábola não tem pontos no eixo dos  $x$ .

**Vértice**

Em  $y = \frac{1}{2}x^2 + x + 1$ , temos:

$$a = \frac{1}{2}, b = 1, c = 1 \quad \text{e} \quad \Delta = -1.$$

Como  $\frac{-b}{2a} = \frac{-1}{2 \cdot \frac{1}{2}} = -1$  e  $\frac{-\Delta}{4a} = \frac{1}{4 \cdot \frac{1}{2}} = \frac{1}{2}$ , o vértice é  $V\left(-1, \frac{1}{2}\right)$ .

**Gráfico**

**281.** Construa o gráfico cartesiano das funções definidas em  $\mathbb{R}$ :

a)  $y = x^2 - 2x - 3$

e)  $y = x^2 - 3x + \frac{9}{4}$

b)  $y = 4x^2 - 10x + 4$

f)  $y = 3x^2 - 4x + 2$

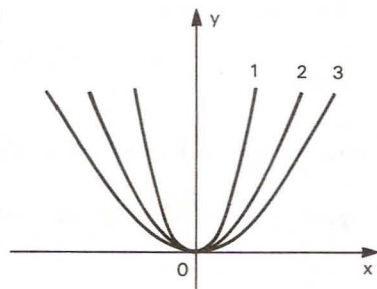
c)  $y = -x^2 + \frac{1}{2}x + \frac{1}{2}$

g)  $y = -x^2 + x - 1$

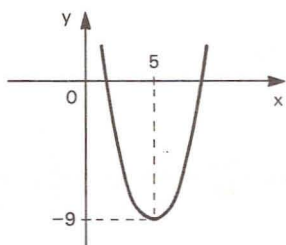
d)  $y = -3x^2 + 6x - 3$

h)  $y = -\frac{1}{2}x^2 - x - \frac{3}{2}$

**282.** No gráfico ao lado estão representadas três parábolas, 1, 2, 3, de equações, respectivamente,  $y = ax^2$ ,  $y = bx^2$  e  $y = cx^2$ . Qual é a relação entre  $a$ ,  $b$  e  $c$ ?



**283.** O gráfico do trinômio do 2º grau  $ax^2 - 10x + c$  é o da figura:



Determine  $a$  e  $c$ .

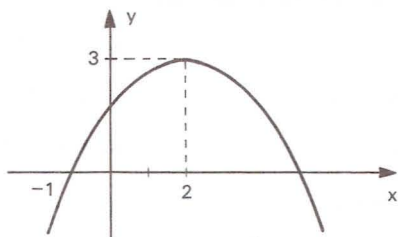
**Solução**

$$x_v = \frac{-b}{2a} = \frac{10}{2a} = 5 \Rightarrow a = 1$$

$$y_v = \frac{-\Delta}{4a} = \frac{-100 + 4ac}{4a} = \frac{-100 + 4c}{4} = -9 \Rightarrow c = 16$$

Resposta:  $a = 1$  e  $c = 16$ .

**284.** A figura abaixo é o gráfico de um trinômio do segundo grau.



Determine o trinômio.

**Solução**

$$x_v = \frac{-b}{2a} = 2 \Rightarrow -b = 4a \Rightarrow b^2 = 16a^2 \quad \text{I}$$

$$y_v = \frac{-(b^2 - 4ac)}{4a} = 3 \Rightarrow -(16a^2 - 4ac) = 12a$$

$$16a - 4c = -12 \Rightarrow 4a - c = -3 \quad \text{II}$$



Como  $x_1 + x_2 = \frac{-b}{a} = 4$  (já utilizado em (I))

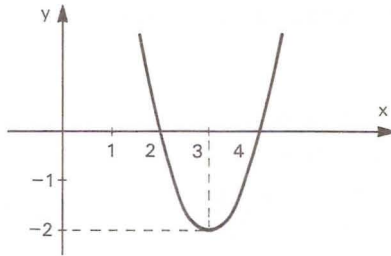
Temos, ainda:  $x_1 \cdot x_2 = \frac{c}{a} = -5 \Rightarrow c = -5a$  (III)

Substituindo (III) em (II), vem:  $4a + 5a = -3 \Rightarrow a = -\frac{1}{3}$ .

Portanto:  $b = \frac{4}{3}$  e  $c = \frac{5}{3}$ .

Então, o trinômio é:  $y = \frac{-1}{3}x^2 + \frac{4}{3}x + \frac{5}{3}$ .

- 285.** Seja  $f: \mathbb{R} \rightarrow \mathbb{R}$  a função definida por  $f(x) = ax^2 + bx + c$ , cujo gráfico é dado abaixo, sendo  $a, b, c \in \mathbb{R}$ . Determine o valor de  $a$ .



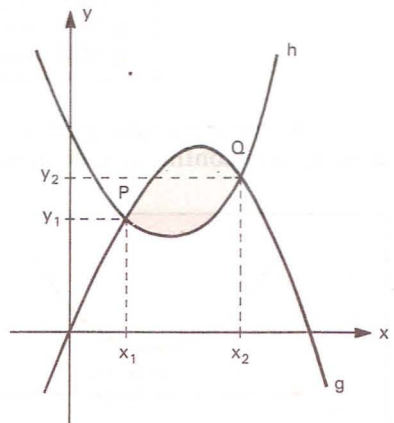
- 286.** Determine a função  $g(x)$  cujo gráfico é o simétrico do gráfico da função  $f(x) = 2x - x^2$  em relação à reta  $y = 3$ . Esboce o gráfico.

- 287.** Os gráficos de duas funções quadráticas  $g$  e  $h$  interceptam-se nos pontos  $P(x_1; y_1)$  e  $Q(x_2; y_2)$ , com  $x_2 > x_1$ , como mostra a figura.

Se  $g(x) = ax^2 + bx + c$  e  $h(x) = dx^2 + ex + f$ , a área da região sombreada, na figura, é dada por  $F(x_2) - F(x_1)$ , em que

$$F(x) = \frac{d-a}{3} \cdot x^3 + \frac{e-b}{2} \cdot x^2 + (f-c)x.$$

Nessas condições, quanto vale a área da região sombreada, no caso em que  $g(x) = x^2 + x$  e  $h(x) = -x^2 - x + 4$ ?





## XI. Sinal da função quadrática

**121.** Consideremos a função quadrática

$$f(x) = ax^2 + bx + c \quad (a \neq 0)$$

e vamos resolver o problema: “para que valores de  $x \in \mathbb{R}$  temos:

- a)  $f(x) > 0$ ;                      b)  $f(x) < 0$ ;                      c)  $f(x) = 0$ ?”

Resolver esse problema significa estudar o sinal da função quadrática para cada  $x \in \mathbb{R}$ .

Na determinação do sinal da função quadrática, devemos começar pelo cálculo do discriminante  $\Delta$ , quando três casos distintos podem aparecer:

- a)  $\Delta < 0$                                       b)  $\Delta = 0$                                       c)  $\Delta > 0$

Vejam como prosseguir em cada caso.

*1º caso:*  $\Delta < 0$

Se  $\Delta < 0$ , então  $-\Delta > 0$ .

Da forma canônica, temos:

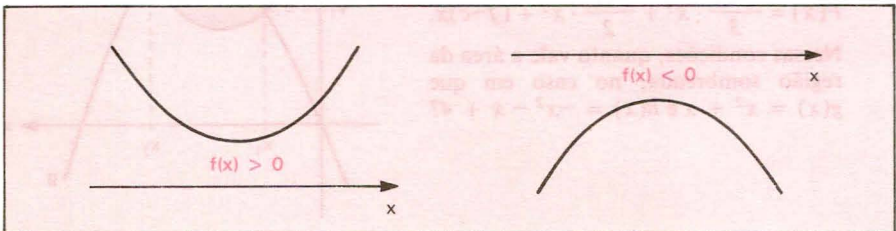
$$a \cdot f(x) = a^2 \left[ \underbrace{\left(x + \frac{b}{2a}\right)^2}_{\text{não negativo}} + \underbrace{\left(\frac{-\Delta}{4a^2}\right)}_{\text{positivo}} \right] \Rightarrow a \cdot f(x) > 0, \forall x \in \mathbb{R}$$

positivo
(não negativo)
positivo

Isso significa que a função  $f(x) = ax^2 + bx + c$ , quando  $\Delta < 0$ , tem o sinal de  $a$  para todo  $x \in \mathbb{R}$ , ou melhor:

$$\begin{aligned} a > 0 &\Rightarrow f(x) > 0, \forall x \in \mathbb{R} \\ a < 0 &\Rightarrow f(x) < 0, \forall x \in \mathbb{R} \end{aligned}$$

A representação gráfica da função  $f(x) = ax^2 + bx + c$ , quando  $\Delta < 0$ , vem confirmar a dedução algébrica.



*Exemplos*

1º)  $f(x) = x^2 - 2x + 2$  apresenta  $\Delta = (-2)^2 - 4 \cdot 1 \cdot 2 = -4 < 0$  e, como  $a = 1 > 0$ , concluímos que:

$$f(x) > 0, \forall x \in \mathbb{R}.$$

2º)  $f(x) = -x^2 + x - 1$  apresenta  $\Delta = 1^2 - 4 \cdot (-1) \cdot (-1) = -3 < 0$  e, como  $a = -1 < 0$ , concluímos que:

$$f(x) < 0, \forall x \in \mathbb{R}.$$

2º caso:  $\Delta = 0$

Da forma canônica, temos:

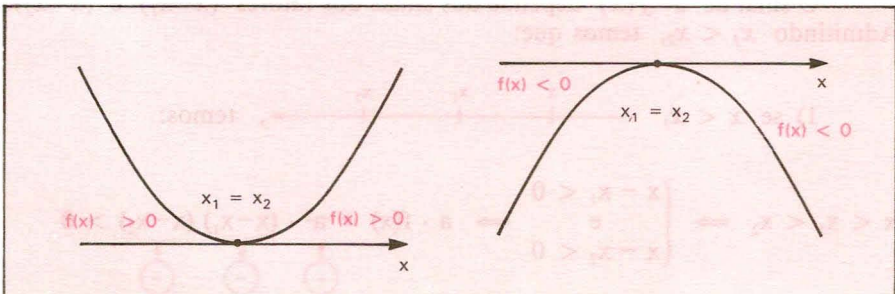
$$a \cdot f(x) = \underbrace{a^2}_{\text{positivo}} \left[ \underbrace{\left(x + \frac{b}{2a}\right)^2}_{\text{(não negativo)}} - \underbrace{\left(\frac{0}{4a^2}\right)}_{\text{zero}} \right] = a^2 \left(x + \frac{b}{2a}\right)^2$$

então  $a \cdot f(x) \geq 0, \forall x \in \mathbb{R}$ .

Isso significa que a função  $f(x) = ax^2 + bx + c$ , quando  $\Delta = 0$ , tem o sinal de  $a$  para todo  $x \in \mathbb{R} - \{x_1\}$ , sendo  $x_1 = \frac{-b}{2a}$  zero duplo de  $f(x)$ , ou melhor:

$a > 0 \implies f(x) \geq 0, \forall x \in \mathbb{R}$
$a < 0 \implies f(x) \leq 0, \forall x \in \mathbb{R}$

A representação gráfica da função  $f(x) = ax^2 + bx + c$ , quando  $\Delta = 0$ , vem confirmar a dedução algébrica.



*Exemplos*

1º)  $f(x) = x^2 - 2x + 1$  apresenta  $\Delta = (-2)^2 - 4 \cdot 1 \cdot 1 = 0$ ; então  $f(x)$  tem um zero duplo  $x_1 = \frac{-b}{2a} = 1$  e, como  $a = 1 > 0$ , concluímos:

$$\begin{cases} f(x) > 0, \forall x \in \mathbb{R} - \{1\} \\ f(x) = 0 \text{ se } x = 1 \end{cases}$$

2º)  $f(x) = -2x^2 + 8x - 8$  apresenta  $\Delta = 8^2 - 4(-2) \cdot (-8) = 0$ , então  $f(x)$  tem um zero duplo para  $x_1 = \frac{-b}{2a} = 2$  e, como  $a = -2 < 0$ , concluímos:

$$\begin{cases} f(x) < 0, \forall x \in \mathbb{R} - \{2\} \\ f(x) = 0 \text{ se } x = 2 \end{cases}$$

3º caso:  $\Delta > 0$

Da forma canônica, temos:

$$a \cdot f(x) = a^2 \left[ \left( x + \frac{b}{2a} \right)^2 - \left( \frac{\sqrt{\Delta}}{2a} \right)^2 \right] = a^2 \left[ \left( x + \frac{b}{2a} + \frac{\sqrt{\Delta}}{2a} \right) \left( x + \frac{b}{2a} - \frac{\sqrt{\Delta}}{2a} \right) \right]$$

Lembramos que a fórmula que dá as raízes de uma equação do segundo grau é:

$$x = \frac{-b \pm \sqrt{\Delta}}{2a} \text{ isto é } \begin{cases} x_1 = \frac{-b - \sqrt{\Delta}}{2a} \\ x_2 = \frac{-b + \sqrt{\Delta}}{2a} \end{cases}$$

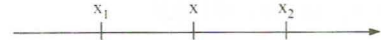
fica evidente que a forma canônica se transforma em:

$$af(x) = a^2 \left[ \left( x - \frac{-b - \sqrt{\Delta}}{2a} \right) \left( x - \frac{-b + \sqrt{\Delta}}{2a} \right) \right] = a^2(x - x_1)(x - x_2).$$

O sinal de  $a \cdot f(x)$  depende dos sinais dos fatores  $(x - x_1)$  e  $(x - x_2)$ . Admitindo  $x_1 < x_2$ , temos que:

1) se  $x < x_1$   , temos:

$$x < x_1 < x_2 \implies \begin{cases} x - x_1 < 0 \\ \text{e} \\ x - x_2 < 0 \end{cases} \implies a \cdot f(x) = a^2 \cdot \underbrace{(x - x_1)}_{\oplus} \underbrace{(x - x_1)}_{\ominus} \underbrace{(x - x_2)}_{\ominus} > 0$$

2) se  $x_1 < x < x_2$  , temos:

$$x_1 < x < x_2 \Rightarrow \begin{cases} x - x_1 > 0 \\ \text{e} \\ x - x_2 < 0 \end{cases} \Rightarrow a \cdot f(x) = a^2 \cdot \underbrace{(x-x_1)}_{+} \underbrace{(x-x_2)}_{-} < 0$$

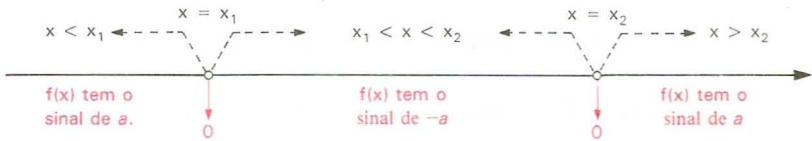
3) se  $x > x_2$  , temos:

$$x > x_2 > x_1 \Rightarrow \begin{cases} x - x_1 > 0 \\ \text{e} \\ x - x_2 > 0 \end{cases} \Rightarrow a \cdot f(x) = a^2 \cdot \underbrace{(x-x_1)}_{+} \underbrace{(x-x_2)}_{+} > 0$$

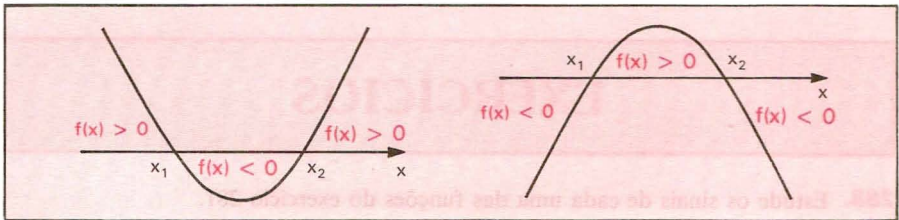
Isso significa que:

- 1) O sinal de  $f(x)$  é o sinal de  $a$  para todo  $x$ , tal que  $x < x_1$  ou  $x > x_2$ ;
- 2) O sinal de  $f(x)$  é o sinal de  $-a$  para todo  $x$ , tal que  $x_1 < x < x_2$ .

Em resumo:



O gráfico da função  $f(x) = ax^2 + bx + c$ , quando  $\Delta > 0$ , vem confirmar a dedução algébrica.



### Exemplos

1º)  $f(x) = x^2 - x - 6$  apresenta  $\Delta = (-1)^2 - 4 \cdot 1 \cdot (-6) = 25 > 0$ ; então  $f(x)$  tem dois zeros reais e distintos:

$$x_1 = \frac{-b - \sqrt{\Delta}}{2a} = \frac{1 - 5}{2} = -2 \quad \text{e} \quad x_2 = \frac{-b + \sqrt{\Delta}}{2a} = \frac{1 + 5}{2} = 3$$

e, como  $a = 1 > 0$ , concluímos que:

$$\begin{cases} f(x) > 0 & \text{para } x < -2 \quad \text{ou} \quad x > 3 \\ f(x) = 0 & \text{para } x = -2 \quad \text{ou} \quad x = 3 \\ f(x) < 0 & \text{para } -2 < x < 3. \end{cases}$$

2º)  $f(x) = -2x^2 + 3x + 2$  apresenta  $\Delta = 3^2 - 4 \cdot (-2) \cdot 2 = 25$ ; logo  $f(x)$  tem dois zeros reais e distintos:

$$x_1 = \frac{-b + \sqrt{\Delta}}{2a} = \frac{-3 + 5}{-4} = -\frac{1}{2} \quad \text{e} \quad x_2 = \frac{-b - \sqrt{\Delta}}{2a} = \frac{-3 - 5}{-4} = 2$$

e, como  $a = -2 < 0$ , concluímos que:

$$\begin{cases} f(x) < 0 & \text{para } x < -\frac{1}{2} \quad \text{ou} \quad x > 2 \\ f(x) = 0 & \text{para } x = -\frac{1}{2} \quad \text{ou} \quad x = 2 \\ f(x) > 0 & \text{para } -\frac{1}{2} < x < 2 \end{cases}$$

## EXERCÍCIOS

- 288.** Estude os sinais de cada uma das funções do exercício 281.
- 289.** Quais as condições de  $x$  para que a expressão  $ax^2 + bx + c$ , em que  $b^2 - 4ac > 0$  e  $a < 0$ , seja estritamente positiva?
- 290.** Qual é a condição necessária e suficiente para que o trinômio do 2º grau  $f(x) = ax^2 + bx + c$  tenha sinal constante em  $\mathbb{R}$ ?



## XII. Inequação do 2º grau

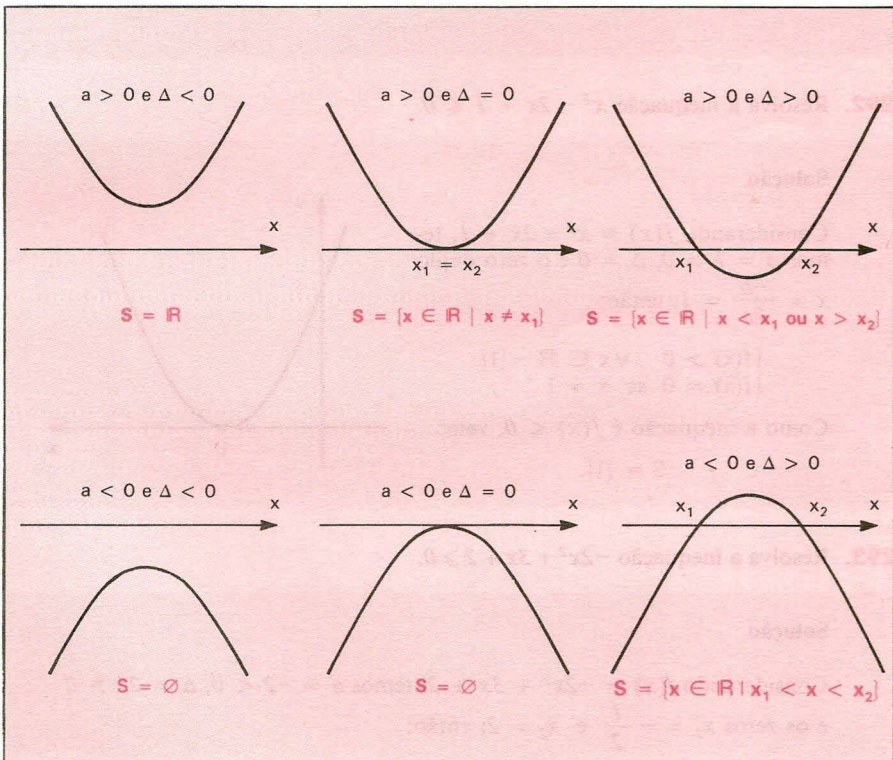
**122.** Se  $a \neq 0$ , as inequações  $ax^2 + bx + c > 0$ ,  $ax^2 + bx + c < 0$ ,  $ax^2 + bx + c \geq 0$  e  $ax^2 + bx + c \leq 0$  são denominadas *inequações do 2º grau*.

Resolver, por exemplo, a inequação

$$ax^2 + bx + c > 0$$

é responder à pergunta: “existe  $x$  real tal que  $f(x) = ax^2 + bx + c$  seja positiva?”

A resposta a essa pergunta se encontra no estudo do sinal de  $f(x)$ , que pode, inclusive, ser feito através do gráfico da função. Assim, no nosso exemplo, dependendo de  $a$  e de  $\Delta$ , podemos ter uma das seis respostas seguintes:



# EXERCÍCIOS

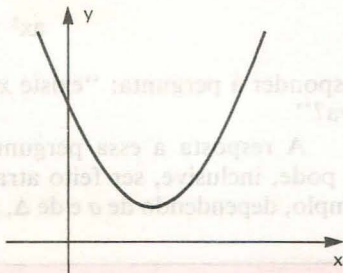
**291.** Resolva a inequação  $x^2 - 2x + 2 > 0$ .

### Solução

Considerando  $f(x) = x^2 - 2x + 2$ , temos  $a = 1 > 0$  e  $\Delta = -4 < 0$ ; então,  $f(x) > 0, \forall x \in \mathbb{R}$ .

Como a inequação é  $f(x) > 0$ , vem:

$$S = \mathbb{R}.$$



**292.** Resolva a inequação  $x^2 - 2x + 1 \leq 0$ .

### Solução

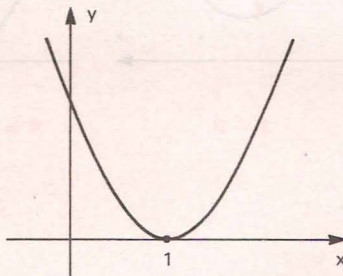
Considerando  $f(x) = x^2 - 2x + 1$ , temos  $a = 1 > 0$ ,  $\Delta = 0$  e o zero duplo

$$x = \frac{-b}{2a} = 1; \text{ então:}$$

$$\begin{cases} f(x) > 0 & \forall x \in \mathbb{R} - \{1\} \\ f(x) = 0 & \text{se } x = 1 \end{cases}$$

Como a inequação é  $f(x) \leq 0$ , vem:

$$S = \{1\}.$$



**293.** Resolva a inequação  $-2x^2 + 3x + 2 \geq 0$ .

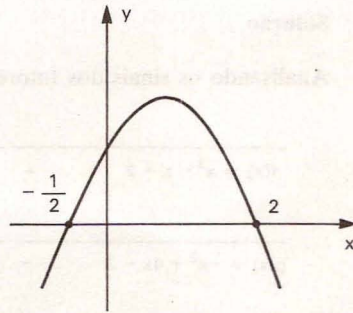
### Solução

Considerando  $f(x) = -2x^2 + 3x + 2$ , temos  $a = -2 < 0$ ,  $\Delta = 25 > 0$  e os zeros  $x_1 = -\frac{1}{2}$  e  $x_2 = 2$ ; então:

$$\begin{cases} f(x) < 0 & \text{para } x < -\frac{1}{2} \text{ ou } x > 2 \\ f(x) = 0 & \text{para } x = -\frac{1}{2} \text{ ou } x = 2 \\ f(x) > 0 & \text{para } -\frac{1}{2} < x < 2 \end{cases}$$

Como a inequação é  $f(x) \geq 0$ , vem:

$$S = \left\{ x \in \mathbb{R} \mid -\frac{1}{2} \leq x \leq 2 \right\}.$$



**294.** Resolva as inequações em  $\mathbb{R}$ :

a)  $x^2 - 3x + 2 > 0$

b)  $-x^2 + x + 6 > 0$

c)  $-3x^2 - 8x + 3 \leq 0$

d)  $-x^2 + \frac{3}{2}x + 10 \geq 0$

e)  $8x^2 - 14x + 3 \leq 0$

f)  $4x^2 - 4x + 1 > 0$

g)  $x^2 - 6x + 9 \geq 0$

h)  $-4x^2 + 12x - 9 \geq 0$

i)  $x^2 + 3x + 7 > 0$

j)  $-3x^2 + 3x - 3 < 0$

k)  $2x^2 - 4x + 5 < 0$

l)  $-\frac{1}{3}x^2 + \frac{1}{2}x - \frac{1}{4} > 0$

**295.** Para que valores de  $x$  o trinômio  $-x^2 + 3x - 4$  é negativo?

**296.** Se  $A = \{x \in \mathbb{R} \mid x^2 - 3x + 2 \leq 0\}$  e  $B = \{x \in \mathbb{R} \mid x^2 - 4x + 3 > 0\}$ , determine  $A \cap B$ .

**297.** Se  $A = \{x \in \mathbb{R} \mid 3x - 2x^2 \geq 0\}$ ,  $B = \{x \in \mathbb{R} \mid 1 \leq x \leq 3\}$  e  $C = \{x \in \mathbb{R} \mid x^2 - x - 2 \leq 0\}$ , determine  $(A \cup B) \cap C$ .

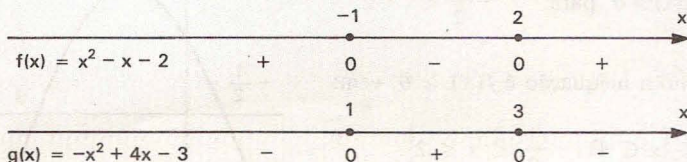
**298.** Sejam  $p(x) = x^2 - 5x + 6$  e  $q(x) = x^2 + 5x + 6$ . Se  $a$  é um número real e  $p(a) < 0$ , qual é a condição que deve satisfazer  $q(a)$ ?

**299.** Qual é uma condição suficiente para que a expressão  $Y = +\sqrt{x^2 - 4}$  represente uma função?

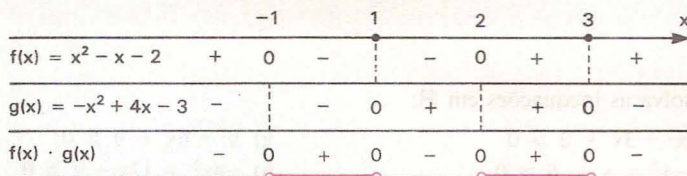
**300.** Resolva a inequação  $(x^2 - x - 2)(-x^2 + 4x - 3) > 0$  em  $\mathbb{R}$ .

**Solução**

Analisando os sinais dos fatores, temos:



Fazendo o quadro-produto, vem:



$$S = \{x \in \mathbb{R} \mid -1 < x < 1 \text{ ou } 2 < x < 3\}.$$

**301.** Resolva, em  $\mathbb{R}$ , as inequações:

- a)  $(1 - 4x^2) \cdot (2x^2 + 3x) > 0$
- b)  $(2x^2 - 7x + 6) \cdot (2x^2 - 7x + 5) \leq 0$
- c)  $(x^2 - x - 6) \cdot (-x^2 + 2x - 1) > 0$
- d)  $(x^2 + x - 6) \cdot (-x^2 - 2x + 3) \geq 0$
- e)  $x^3 - 2x^2 - x + 2 > 0$
- f)  $2x^3 - 6x^2 + x - 3 \leq 0$

**302.** É dada a função  $y = (2x^2 - 9x - 5)(x^2 - 2x + 2)$ .  
Determine:

- a) os pontos de interseção do gráfico da função com o eixo das abscissas;
- b) o conjunto dos valores de  $x$  para os quais  $y \leq 0$ .

**303.** Dentre os números inteiros que são soluções da inequação  $(x^2 - 21x + 20) \cdot (3 - x) > 0$ , qual é o maior?

**304.** Determine os valores de  $x \in \mathbb{R}$  que satisfazem a inequação  $(x^2 - 2x + 8)(x^2 - 5x + 6)(x^2 - 16) < 0$ .

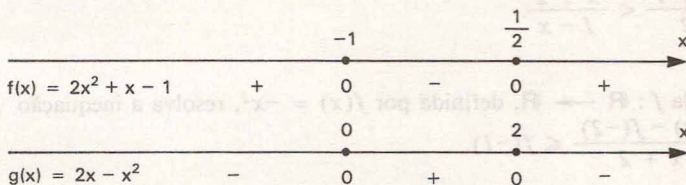


305. Seja  $A$  o conjunto solução, em  $\mathbb{R}$ , da inequação  $(x^2 - 5x)(x^2 - 8x + 12) < 0$ . Determine  $A$ .

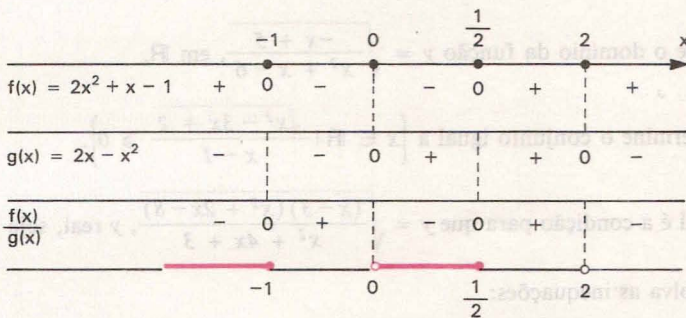
306. Resolva a inequação  $\frac{2x^2 + x - 1}{2x - x^2} \leq 0$  em  $\mathbb{R}$ .

### Solução

Analisando os sinais do numerador e do denominador, temos:



Fazendo o quadro-quociente, vem:



$$S = \left\{ x \in \mathbb{R} \mid x \leq -1 \text{ ou } 0 < x \leq \frac{1}{2} \text{ ou } x > 2 \right\}$$

307. Resolva, em  $\mathbb{R}$ , as inequações:

a)  $\frac{4x^2 + x - 5}{2x^2 - 3x - 2} > 0$

b)  $\frac{-9x^2 + 9x - 2}{3x^2 + 7x + 2} \leq 0$

c)  $\frac{x^2 + 2x}{x^2 + 5x + 6} \geq 0$

d)  $\frac{2 - 3x}{2x^2 + 3x - 2} < 0$

e)  $\frac{x^2 + 3x - 16}{-x^2 + 7x - 10} \geq 1$

f)  $\frac{2x^2 + 4x + 5}{3x^2 + 7x + 2} < -2$

g)  $\frac{6x^2 + 12x + 17}{-2x^2 + 7x - 5} \geq -1$

h)  $\frac{(x + 1)^3 - 1}{(x - 1)^3 + 1} > 1$



**308.** Determine, em  $\mathbb{R}$ , o conjunto solução das inequações:

a)  $\frac{x + 1}{x^2 - 3x + 2} \geq 0$

d)  $\frac{x}{x + 1} - \frac{x}{x - 1} \geq 0$

b)  $\frac{x}{x^3 - x^2 + x - 1} \geq 0$

e)  $t + \frac{1}{t} \leq -2$

c)  $\frac{x - 3}{x - 2} \leq x - 1$

f)  $\frac{x^2 + 2x - 1}{x^2 - 1} \geq \frac{1}{x + 1}$

**309.** Tomando como conjunto universo o conjunto  $U = \mathbb{R} - \{1\}$ , resolva a inequação

$$\frac{x + 1}{2} < \frac{x + 2}{1 - x}.$$

**310.** Dada  $f: \mathbb{R} \rightarrow \mathbb{R}$ , definida por  $f(x) = -x^2$ , resolva a inequação

$$\frac{f(x) - f(-2)}{x + 2} \leq f(-1).$$

**311.** a) O que se pretende dizer quando se pede para achar o domínio de uma  $f(x)$  igualada a uma expressão em  $x$ ?

b) Determine, em  $\mathbb{R}$ , o domínio da função  $f(x) = \sqrt{\frac{-x^2 + 1}{x^2 - 2x - 15}}$ .

**312.** Ache o domínio da função  $y = \sqrt{\frac{-x + 5}{x^2 + x - 6}}$ , em  $\mathbb{R}$ .

**313.** Determine o conjunto igual a  $\left\{x \in \mathbb{R} \mid \frac{\sqrt{x^2 - 3x + 2}}{x - 1} \geq 0\right\}$ .

**314.** Qual é a condição para que  $y = \sqrt{\frac{(x - 3)(x^2 + 2x - 8)}{x^2 + 4x + 3}}$ ,  $y$  real, seja definida?

**315.** Resolva as inequações:

a)  $4 < x^2 - 12 \leq 4x$

b)  $x^2 + 1 < 2x^2 - 3 \leq -5x$

c)  $0 \leq x^2 - 3x + 2 \leq 6$

d)  $7x + 1 < x^2 + 3x - 4 \leq 2x + 2$

e)  $0 < x^2 + x + 1 < 1$

f)  $4x^2 - 5x + 4 < 3x^2 - 6x + 6 < x^2 + 3x - 4$

**316.** Resolva os sistemas de inequações:

a)  $\begin{cases} x^2 + x - 2 > 0 \\ 3x - x^2 < 0 \end{cases}$

c)  $\begin{cases} 1 + 2x \geq 0 \\ -4x^2 + 8x - 3 < 0 \end{cases}$

b)  $\begin{cases} x^2 + x - 20 \leq 0 \\ x^2 - 4x - 21 > 0 \end{cases}$

d)  $\begin{cases} -2x^2 - x + 1 \geq 0 \\ 4x^2 - 8x + 3 \leq 0 \end{cases}$

**317.** Considere as desigualdades:

$$4y + 3x \leq 12, \quad 0 \leq x, \quad 0 \leq y.$$

Classifique as proposições abaixo em verdadeiras ou falsas:

- O conjunto de soluções das desigualdades é limitado no plano  $(x, y)$ .
- O valor máximo da variável  $x$  satisfazendo as desigualdades é 4.
- O conjunto de soluções das desigualdades não é limitado no plano  $(x, y)$ .
- O valor mínimo da variável  $y$  satisfazendo as desigualdades é 3.
- O valor máximo da variável  $y$  satisfazendo as desigualdades é 3.

**318.** Assinale as proposições verdadeiras e as proposições falsas nos itens abaixo.  
O conjunto solução do sistema

$$\begin{cases} x^2 - 1 > 0 \\ x^2 - 2x < 0 \end{cases} \quad \text{é:}$$

- $\{x \in \mathbb{R} \mid -1 < x < 1\}$
- $\{x \in \mathbb{R} \mid -1 < x \leq 0\} \cup \{0 < x < 1\}$
- $\{x \in \mathbb{R} \mid x < -1\} \cup \{x \in \mathbb{R} \mid x > 2\}$
- $\left\{x \in \mathbb{R} \mid 1 < x \leq \frac{3}{2}\right\} \cup \left\{x \in \mathbb{R} \mid \frac{3}{2} < x < 2\right\}$
- $\{x \in \mathbb{R} \mid 1 < x < 2\}$

**319.** Resolva a inequação  $x^4 - 5x^2 + 4 \geq 0$ , em  $\mathbb{R}$ .

**Solução**

Fazendo  $z = x^2$ , temos

$$z^2 - 5z + 4 \geq 0 \implies z \leq 1 \quad \text{ou} \quad z \geq 4$$

mas  $z = x^2$ ; portanto:

$$(x^2 \leq 1 \quad \text{ou} \quad x^2 \geq 4) \implies (x^2 - 1 \leq 0 \quad \text{ou} \quad x^2 - 4 \geq 0) \implies$$

$$\implies (-1 \leq x \leq 1 \quad \text{ou} \quad x \leq -2 \quad \text{ou} \quad x \geq 2)$$

$$\text{logo } S = \{x \in \mathbb{R} \mid x \leq -2 \quad \text{ou} \quad -1 \leq x \leq 1 \quad \text{ou} \quad x \geq 2\}.$$

**320.** Resolva, em  $\mathbb{R}$ , as inequações:

- $x^4 - 10x^2 + 9 \leq 0$
- $x^4 - 3x^2 - 4 > 0$
- $x^4 + 8x^2 - 9 < 0$
- $2x^4 - 3x^2 + 4 < 0$
- $x^6 - 7x^3 - 8 \geq 0$
- $3x^4 - 5x^2 + 4 > 0$

- 321.** Determine  $m$  de modo que a função quadrática  $f(x) = mx^2 + (2m - 1)x + (m + 1)$  seja positiva para todo  $x$  real.

**Solução**

Devemos ter simultaneamente  $\Delta < 0$  e  $a > 0$ ; portanto:

$$1^\circ) \Delta = b^2 - 4ac = (2m - 1)^2 - 4 \cdot m \cdot (m + 1) = 4m^2 - 4m + 1 - 4m^2 - 4m = -8m + 1 < 0 \Rightarrow m > \frac{1}{8}$$

$$2^\circ) a = m > 0 \Rightarrow m > 0$$

Como as condições são simultâneas, concluímos que:

$$(f(x) > 0, \forall x \in \mathbb{R}) \Leftrightarrow m > \frac{1}{8}.$$

- 322.** Determine  $m$  para que se tenha para  $\forall x \in \mathbb{R}$ :

a)  $x^2 + (2m - 1)x + (m^2 - 2) > 0$

f)  $(m - 1)x^2 + 4(m - 1)x + m > 0$

b)  $x^2 + (2m + 3)x + (m^2 + 3) \geq 0$

g)  $mx^2 + (m - 2)x + m \leq 0$

c)  $x^2 - mx + m > 0$

h)  $mx^2 + (m + 3)x + m \geq 0$

d)  $x^2 + (m + 1)x + m > 0$

i)  $(m + 1)x^2 - 2(m - 1)x + 3(m - 1) < 0$

e)  $-x^2 + (m + 2)x - (m + 3) \geq 0$

j)  $(m^2 - 1)x^2 + 2(m - 1)x + 1 > 0$

- 323.** Determine  $m$  para que se tenha  $\frac{x^2 + (m + 1)x + 1}{x^2 + x + 1} < 2$  para  $\forall x \in \mathbb{R}$ .

**Solução**

Considerando que  $x^2 + x + 1$  é positivo para qualquer  $x$  real, multiplicamos ambos os membros de  $\frac{x^2 + (m + 1)x + 1}{x^2 + x + 1} < 2$  por  $(x^2 + x + 1)$ , mantendo a desigualdade.

Então:

$$\frac{x^2 + (m + 1)x + 1}{x^2 + x + 1} < 2, \forall x \in \mathbb{R} \Leftrightarrow$$

$$\Leftrightarrow x^2 + (m + 1)x + 1 < 2(x^2 + x + 1), \forall x \in \mathbb{R} \Leftrightarrow$$

$$\Leftrightarrow -x^2 + (m - 1)x - 1 < 0, \forall x \in \mathbb{R}.$$

Devemos ter  $\Delta < 0$ , portanto:

$$\Delta = (m - 1)^2 - 4 \cdot (-1) \cdot (-1) = m^2 - 2m - 3 < 0 \Leftrightarrow -1 < m < 3.$$

Resposta:  $-1 < m < 3$ .

**324.** Determine  $m$  para que se tenha para  $\forall x \in \mathbb{R}$ :

a)  $\frac{x^2 + mx + 1}{x^2 + 1} < 2$

b)  $\frac{x^2 - mx + 2}{x^2 - x + 2} > m$

c)  $\frac{x}{x^2 + 4} > \frac{x + m}{x^2 + 1}$

d)  $-3 < \frac{x^2 + mx - 2}{x^2 - x + 1} < 2$

**325.** Qual é o conjunto de valores de  $p$  para os quais a inequação  $x^2 + 2x + p > 10$  é verdadeira para qualquer  $x$  pertencente a  $\mathbb{R}$ ?

**326.** Qual é a condição para que a desigualdade  $x^2 - 2(m + 2)x + m + 2 > 0$  seja verificada para todo número real  $x$ ?

**327.** Se  $\frac{x - a}{x^2 + 1} < \frac{x + a}{x^2}$ , para todo  $x \neq 0$ , qual é a condição que  $a$  satisfaz?

**328.** Determine os valores de  $m \in \mathbb{R}$  para os quais o domínio da função

$$f(x) = \frac{1}{\sqrt{2x^2 - mx + m}}$$

é o conjunto dos reais.

**329.** Para que a função real  $f(x) = \sqrt{x^2 - 6x + k}$ , em que  $x$  e  $k$  são reais, seja definida para qualquer valor de  $x$ , qual deve ser o valor de  $k$ ?

### XIII. Comparação de um número real com as raízes da equação do 2º grau

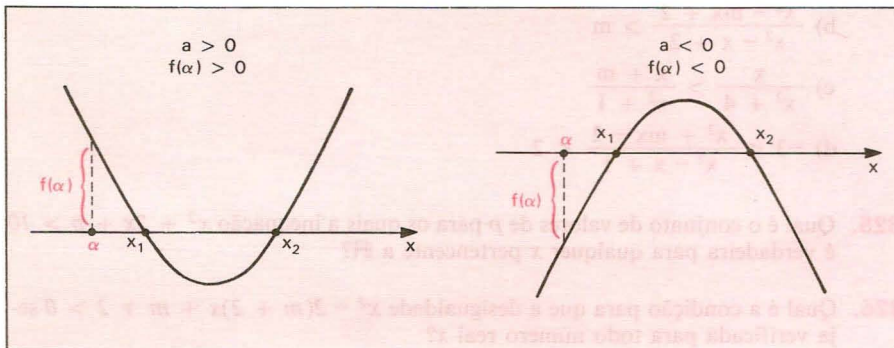
**123.** Comparar o número real  $\alpha$  às raízes reais  $x_1 \leq x_2$  da equação do 2º grau  $ax^2 + bx + c = 0$  é verificar se:

- 1)  $\alpha$  está à esquerda de  $x_1$  ( $\alpha < x_1 \leq x_2$ )
- 2)  $\alpha$  está entre as raízes ( $x_1 < \alpha < x_2$ )
- 3)  $\alpha$  está à direita de  $x_2$  ( $x_1 \leq x_2 < \alpha$ )
- 4)  $\alpha$  é uma das raízes ( $\alpha = x_1$  ou  $\alpha = x_2$ )

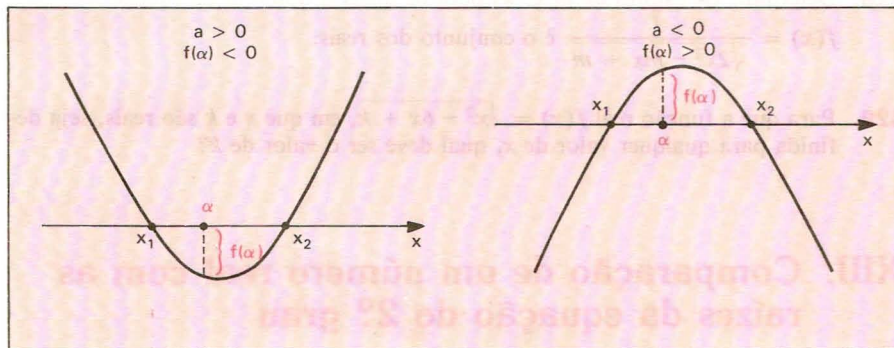
sem calcular as raízes.

Sendo  $f(x) = ax^2 + bx + c$  uma função quadrática, cuja regra de sinal já discutimos neste capítulo, temos que:

a) se  $\alpha$  estiver à esquerda de  $x_1$  ou à direita de  $x_2$ , o produto  $a \cdot f(\alpha)$  é positivo, isto é:  $a$  (coeficiente de  $x^2$ ) e  $f(\alpha) = a\alpha^2 + b\alpha + c$  têm o mesmo sinal.



b) se  $\alpha$  estiver entre as raízes  $x_1$  e  $x_2$  ( $x_1 \neq x_2$ ), o produto  $a \cdot f(\alpha)$  é negativo, isto é:  $a$  e  $f(\alpha)$  têm sinais contrários.



c) se  $\alpha$  é zero de  $f(x)$ , então  $a \cdot f(\alpha) = 0$ , pois  $f(\alpha) = 0$ .

### Resumo

Conhecendo a posição de  $\alpha$  em relação às raízes reais  $x_1$  e  $x_2$  de  $f(x) = 0$ , temos que:

- 1)  $\alpha < x_1 \leq x_2 \implies a \cdot f(\alpha) > 0$
- 2)  $x_1 < \alpha < x_2 \implies a \cdot f(\alpha) < 0$
- 3)  $x_1 \leq x_2 < \alpha \implies a \cdot f(\alpha) > 0$
- 4)  $\alpha = x_1$  ou  $\alpha = x_2 \implies a \cdot f(\alpha) = 0$



Observemos que nos casos 1, 3 e 4 o discriminante é  $\Delta \geq 0$  enquanto no caso 2 temos  $\Delta > 0$ .

Inversamente, conhecendo o sinal do produto  $a \cdot f(\alpha)$ , que conclusão podemos tirar da *existência de raízes reais* da equação  $f(x) = 0$  e qual a *posição de  $\alpha$*  em relação às mesmas raízes?

É o que veremos em seguida.

### 124. Teorema 1

Se  $a \cdot f(\alpha) < 0$ , o trinômio  $f(x) = ax^2 + bx + c$  tem zeros reais e distintos e  $\alpha$  está compreendido entre eles.

$$H \{ a \cdot f(\alpha) < 0 \quad T \{ \Delta > 0 \text{ e } x_1 < \alpha < x_2$$

#### *Demonstração*

1º) Se fosse  $\Delta \leq 0$ , teríamos:  $a \cdot f(\alpha) \geq 0, \forall \alpha, \alpha \in \mathbb{R}$ , o que é absurdo, pois contrariaria a hipótese  $a \cdot f(\alpha) < 0$ .

Concluimos, então, que  $\Delta > 0$ , isto é,  $f(x)$  tem dois zeros  $x_1$  e  $x_2$ , reais e distintos.

2º) Se o real  $\alpha$  estiver à esquerda de  $x_1$  ou à direita de  $x_2$  ou for um zero de  $f(x)$ , teremos  $a \cdot f(\alpha) \geq 0$ , o que contraria a hipótese  $a \cdot f(\alpha) < 0$ .

Concluimos, então, que  $\alpha$  está compreendido entre  $x_1$  e  $x_2$ .

#### *Exemplo*

Comparar o número 1 às raízes da equação  $3x^2 - 5x + 1 = 0$ .

Temos  $a = 3, \alpha = 1$  e  $f(x) = 3x^2 - 5x + 1$ ; então:

$$a \cdot f(\alpha) = 3 \cdot f(1) = 3 \cdot (3 \cdot 1^2 - 5 \cdot 1 + 1) = -3 < 0.$$

Conclusão:  $\Delta > 0$  e  $x_1 < 1 < x_2$ .

### 125. Teorema 2

Se  $a \cdot f(\alpha) > 0$  e  $\Delta \geq 0$ , então  $\alpha$  está à esquerda de  $x_1$  ou à direita de  $x_2$ .

$$H \begin{cases} a \cdot f(\alpha) > 0 \\ e \\ \Delta \geq 0 \end{cases} \quad T \begin{cases} \alpha < x_1 \leq x_2 \\ \text{ou} \\ x_1 \leq x_2 < \alpha \end{cases}$$

*Demonstração*

Se  $\Delta > 0$  e  $x_1 \leq \alpha \leq x_2$ , então  $a \cdot f(\alpha) \leq 0$ , o que contradiz a hipótese  $a \cdot f(\alpha) > 0$ .

Se  $\Delta = 0$  e  $\alpha = x_1 = x_2$ , então  $a \cdot f(\alpha) = 0$ , o que também contradiz a hipótese  $a \cdot f(\alpha) > 0$ .

Concluimos que  $\alpha < x_1 \leq x_2$  ou  $x_1 \leq x_2 < \alpha$ .

**Observação**

Notemos que, se  $a \cdot f(\alpha) > 0$  e  $\Delta \geq 0$ , o teorema 2 garante que  $\alpha \notin [x_1, x_2]$ , mas não indica se  $\alpha$  está à esquerda desse intervalo ( $\alpha < x_1 \leq x_2$ ) ou à direita dele ( $x_1 \leq x_2 < \alpha$ ). Para verificarmos qual dessas duas situações está ocorrendo, devemos comparar  $\alpha$  com um número qualquer que esteja entre as raízes. Para facilitar os cálculos vamos utilizar o número  $\frac{S}{2} = \frac{x_1 + x_2}{2} = \frac{-b}{2a}$ , que é a média aritmética das raízes  $x_1$  e  $x_2$ , pois:

$$x_1 \leq x_2 \implies x_1 \leq \frac{x_1 + x_2}{2} \leq x_2 \implies x_1 \leq \frac{S}{2} \leq x_2.$$

Calculando  $\frac{S}{2} = \frac{-b}{2a}$ , temos duas possibilidades a examinar:

1ª) se  $\alpha < \frac{S}{2}$ , então  $\alpha$  está à esquerda de  $\frac{S}{2}$  e, conseqüentemente, à esquerda de  $x_1$ :



2ª) se  $\alpha > \frac{S}{2}$ , então  $\alpha$  está à direita de  $\frac{S}{2}$  e, conseqüentemente, à direita de  $x_2$ :



*Exemplos*

1º) Comparar o número 1 às raízes da equação  $3x^2 + 4x - 3 = 0$ .

$$\left. \begin{aligned} \Delta &= 4^2 - 4 \cdot 3 \cdot (-3) = 52 > 0 \\ a \cdot f(\alpha) &= 3 \cdot f(1) = 3 \cdot (3 + 4 - 3) = 12 > 0 \\ \frac{S}{2} &= \frac{-b}{2a} = \frac{-2}{3} < 1 = \alpha \end{aligned} \right\} \implies x_1 < x_2 < 1$$

2º) Comparar o número 0 às raízes da equação  $4x^2 - 6x + 1 = 0$ .

$$\left. \begin{array}{l} \Delta = (-6)^2 - 4 \cdot 4 \cdot 1 = 20 > 0 \\ a \cdot f(\alpha) = 4 \cdot f(0) = 4 \cdot 1 = 4 > 0 \\ \frac{S}{2} = \frac{-b}{2a} = \frac{3}{4} > 0 \end{array} \right\} \Rightarrow 0 < x_1 < x_2$$

## 126. Resumo

Se  $f(x) = ax^2 + bx + c$  apresenta zeros reais  $x_1 \leq x_2$  e  $\alpha$  é um número real que vai ser comparado a  $x_1$  e  $x_2$ , temos:

a)  $a \cdot f(\alpha) < 0 \xrightarrow{T^{-1}} x_1 < \alpha < x_2$

b)  $a \cdot f(\alpha) = 0 \implies \alpha$  é uma das raízes

c)  $a \cdot f(\alpha) > 0$  e  $\Delta \geq 0 \implies \begin{cases} \alpha < x_1 \leq x_2 & \text{se } \alpha < \frac{S}{2} \\ x_1 \leq x_2 < \alpha & \text{se } \alpha > \frac{S}{2} \end{cases}$

# EXERCÍCIOS

**330.** Determine  $m$  de modo que o número 1 esteja compreendido entre as raízes da equação:  $mx^2 + (m-1)x - m = 0$ .

### Solução

Consideremos  $f(x) = mx^2 + (m-1)x - m$ .

Para que aconteça  $x_1 < 1 < x_2$ , em que  $x_1$  e  $x_2$  são as raízes de  $mx^2 + (m-1)x - m = 0$ , devemos ter:

$$af(1) < 0 \implies \underbrace{m}_{a} \underbrace{[m \cdot 1^2 + (m-1) \cdot 1 - m]}_{f(1)} < 0$$

$$\implies m \cdot (m-1) < 0 \implies 0 < m < 1$$

Resposta:  $0 < m < 1$ .

- 331.** Determine  $m$  de modo que o número  $\alpha$  esteja compreendido entre as raízes da equação:
- a)  $mx^2 + (2m - 3)x + m - 1 = 0$  e  $\alpha = 2$   
 b)  $(m - 1)x^2 + (2m + 1)x + m = 0$  e  $\alpha = -1$   
 c)  $mx^2 + (m - 1)x + (m + 2) = 0$  e  $\alpha = 0$   
 d)  $(m^2 - 1)x^2 + (m - 3)x + m + 1 = 0$  e  $\alpha = 1$
- 332.** Determine os valores de  $m$  na equação  $x^2 + (m - 2)x + 1 - m = 0$  de modo que o número real  $2$  esteja compreendido entre as raízes.
- 333.** Determine  $m$  para que a equação:  $(m - 2)x^2 - 3mx + (m + 2) = 0$  tenha uma raiz positiva e outra negativa.
- 334.** Determine o menor valor inteiro de  $k$  para que a equação  $2x^2 + kx + k - 5 = 0$  tenha duas raízes de sinais contrários, sendo a negativa a de maior valor absoluto.
- 335.** Determine  $m$  de modo que a equação  $mx^2 - (2m + 1)x + 2 + m = 0$  tenha raízes reais tais que  $-1 < x_1 < x_2$ .

### Solução

Consideremos  $f(x) = mx^2 - (2m + 1)x + 2 + m$ .

Para que aconteça  $-1 < x_1 < x_2$ , em que  $x_1$  e  $x_2$  são as raízes reais de  $mx^2 - (2m + 1)x + 2 + m = 0$ , devemos ter:

$$a \cdot f(-1) > 0, \quad \Delta > 0 \quad \text{e} \quad \frac{S}{2} > -1.$$

Analisando separadamente cada condição:

$$1^a) \quad a \cdot f(-1) > 0 \Rightarrow \underbrace{m}_{a} \cdot \underbrace{[m(-1)^2 - (2m + 1) \cdot (-1) + 2 + m]}_{f(-1)} > 0 \Rightarrow$$

$$\Rightarrow m \cdot (4m + 3) > 0 \Rightarrow m < -\frac{3}{4} \quad \text{ou} \quad m > 0.$$

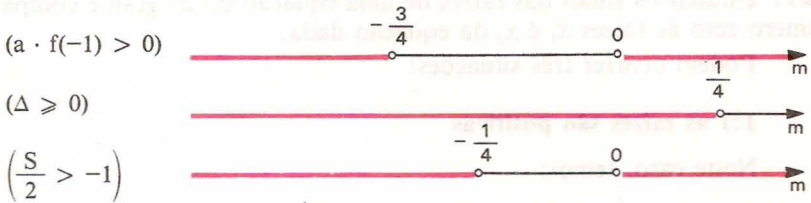
$$2^a) \quad \Delta \geq 0 \Rightarrow (2m + 1)^2 - 4 \cdot m(2 + m) \geq 0 \Rightarrow -4m + 1 > 0 \Rightarrow m \leq \frac{1}{4}.$$

$$3^a) \quad \frac{S}{2} > -1 \Rightarrow \frac{2m + 1}{2m} > -1 \Rightarrow \frac{2m + 1}{2m} + 1 > 0 \Rightarrow \frac{4m + 1}{2m} > 0 \Rightarrow$$

$$\Rightarrow m < -\frac{1}{4} \quad \text{ou} \quad m > 0.$$



Representando os valores encontrados sobre um eixo:



Como as três condições são simultâneas, fazendo a interseção dos intervalos acima vamos encontrar:

$$m < -\frac{3}{4} \quad \text{ou} \quad 0 < m \leq \frac{1}{4}, \quad \text{que é a resposta.}$$

- 336.** Determine  $m$  de modo que a equação  $(m-3)x^2 + 2(m-2)x + m + 1 = 0$  tenha raízes reais tais que  $x_1 < x_2 < 1$ .
- 337.** Determine  $m$  de modo que a equação  $(m-1)x^2 - mx - 2m - 2 = 0$  tenha raízes reais tais que  $-1 < x_1 < x_2$ .
- 338.** Determine  $m$  de modo que a equação do 2º grau  $mx^2 - 2(m+1)x + m + 5 = 0$  tenha raízes reais tais que  $0 < x_1 < x_2 < 2$ .
- 339.** Determine  $m$  para que a equação do 2º grau  $mx^2 - 2(m+1)x + m + 5 = 0$  tenha raízes reais tais que  $x_1 < 0 < x_2 < 2$ .
- 340.** Determine  $m$  para que a equação do 2º grau  $3x^2 - 2(m+2)x + m^2 - 6m + 8 = 0$  tenha raízes reais tais que  $x_1 < 1 < x_2 < 4$ .
- 341.** Determine  $m$  para que a equação do 2º grau  $(2m+1)x^2 + 2x + m + 1 = 0$  tenha raízes reais tais que  $0 < x_1 < x_2 < 4$ .
- 342.** Determine  $m$  na equação do 2º grau  $(3m-2)x^2 + 2mx + 3m = 0$  para que tenha uma única raiz entre  $-1$  e  $0$ .
- 343.** Determine  $m$  na equação do 2º grau  $mx^2 - 2(m-1)x - m - 1 = 0$  para que se tenha uma única raiz entre  $-1$  e  $2$ .



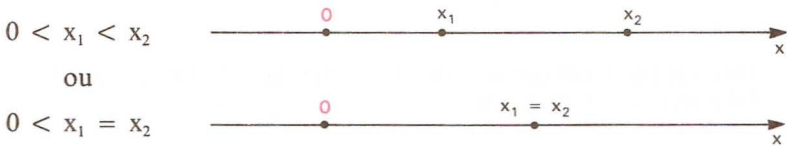
## XIV. Sinais das raízes da equação do 2º grau

**127.** Estudar os sinais das raízes de uma equação do 2º grau é comparar o número zero às raízes  $x_1$  e  $x_2$  da equação dada.

Podem ocorrer três situações:

### 1ª) as raízes são positivas

Neste caso, temos:



De acordo com a teoria anterior, temos:

$$\Delta \geq 0 \quad \text{e} \quad a \cdot f(0) > 0 \quad \text{e} \quad \frac{S}{2} > 0.$$

Notemos que, sendo  $f(x) = ax^2 + bx + c$ , temos:

$$a) \quad a \cdot f(0) = a \cdot c > 0 \implies \frac{c}{a} > 0 \implies P > 0$$

em que  $P = \frac{c}{a}$  é o produto das raízes da equação do 2º grau.

$$b) \quad \frac{S}{2} > 0 \implies S > 0$$

em que  $S = -\frac{b}{a}$  é a soma das raízes da equação do 2º grau.

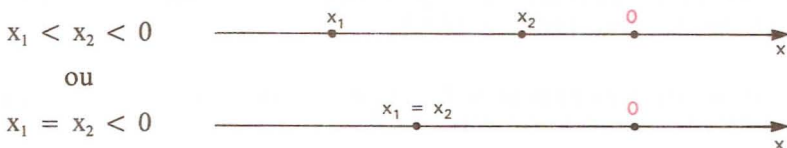
Assim sendo, uma equação do 2º grau tem raízes positivas somente se:

$$\Delta \geq 0 \quad \text{e} \quad P > 0 \quad \text{e} \quad S > 0$$

isto é, se as raízes forem reais, com produto positivo e soma positiva.

### 2ª) as raízes são negativas

Neste caso, temos:



De acordo com a teoria anterior, temos:

$$\Delta \geq 0 \quad \text{e} \quad a \cdot f(0) > 0 \quad \text{e} \quad \frac{S}{2} < 0.$$

Isso também pode ser escrito assim:

$$\Delta \geq 0 \quad \text{e} \quad P > 0 \quad \text{e} \quad S < 0.$$

### 3ª) as raízes têm sinais contrários

Neste caso, temos:

$$x_1 < 0 < x_2.$$

De acordo com a teoria anterior, temos:

$$a \cdot f(0) < 0 \quad \text{ou} \quad P < 0.$$

## 128. Aplicação

Determinar os valores de  $m$  na equação do 2º grau

$$(m - 1)x^2 + (2m + 1)x + m = 0$$

para que as raízes reais sejam distintas e positivas.

Como a equação é do 2º grau, devemos ter, inicialmente,


$$m - 1 \neq 0 \Rightarrow m \neq 1$$

e, se as raízes são distintas e positivas ( $0 < x_1 < x_2$ ), então:

$\Delta > 0$  (pelo fato de as raízes serem reais e distintas) e  $S > 0$  e  $P > 0$  (pelo fato de as raízes serem positivas).


Analisando cada condição:

$$\Delta = (2m + 1)^2 - 4(m - 1) \cdot m =$$

$$= 8m + 1 > 0 \Rightarrow m > -\frac{1}{8}$$


A number line for  $m$  with an open circle at  $-\frac{1}{8}$  and a red shaded region extending to the right, representing  $\Delta > 0$ .

$$S = \frac{-b}{a} = \frac{-(2m + 1)}{m - 1} > 0 \Rightarrow$$

$$\Rightarrow -\frac{1}{2} < m < 1$$


A number line for  $m$  with open circles at  $-\frac{1}{2}$  and  $1$ , and a red shaded region between them, representing  $S > 0$ .

$$P = \frac{c}{a} = \frac{m}{m - 1} > 0 \Rightarrow$$

$$\Rightarrow 0 < m < 1$$


A number line for  $m$  with open circles at  $0$  and  $1$ , and a red shaded region between them, representing  $P > 0$ .

Fazendo a interseção das três condições, vem  $0 < m < 1$ , que é a resposta.

## EXERCÍCIOS

- 344.** Determine  $m$  de modo que a equação do 2º grau  $(m+1)x^2 + 2(m+1)x + m-1 = 0$  tenha raízes negativas.
- 345.** Determine  $m$  de modo que a equação do 2º grau  $(m+1)x^2 + 2x + m-1 = 0$  tenha raízes positivas.
- 346.** Determine  $m$  de modo que a equação do 2º grau  $(m-2)x^2 + (3m-1)x + (m+1) = 0$  tenha raízes de sinais contrários.
- 347.** Determine  $m$  de modo que a equação do 2º grau  $(m-1)x^2 + (2m+3)x + m = 0$  admita raízes negativas.
- 348.** Determine  $m$  de modo que a equação do 2º grau  $(m^2-4)x^2 + mx + m-3 = 0$  admita raízes de sinais contrários.
- 349.** Determine  $m$  de modo que a equação do 2º grau  $mx^2 - (2m-1)x + (m-2) = 0$  admita raízes positivas.
- 350.** Determine o menor valor inteiro de  $k$  para que a equação  $2x^2 + kx + k-5 = 0$  tenha duas raízes de sinais contrários, sendo a negativa a de maior valor absoluto.
- 351.** Considere o conjunto  $A = \{y \in \mathbb{Z} \text{ tal que } |y| < 4\}$ . Responda:
- Qual o número de equações do tipo  $x^2 + 2mx + n = 0$ , com  $m \in A$  e  $n \in A$ ?
  - Dentre as equações obtidas no item *a*, quantas têm raízes reais e distintas?
  - Dentre as equações com raízes reais e distintas, quantas têm raízes positivas?
- 352.** A equação  $(m^2 + 1)x - 2m + 5 = 0$  admite raiz negativa para qual condição sobre  $m$ ?
- 353.** Sejam  $p$  e  $q$  reais; se a equação do segundo grau em  $x$ :
- $$x^2 + p^2x + q^2 + 1 = 0$$
- tem duas raízes reais,  $x_1$  e  $x_2$ , qual é o sinal dessas raízes?

## LEITURA

## Dedekind e os Números Reais


Hygino H. Domingues

A escola pitagórica provou que  $\sqrt{2}$  não é um número racional. Mas nem por isso descobriu os números irracionais. E como os gregos de então, ao contrário de babilônios e egípcios, não eram de se contentar com aproximações, desprovidas de significado teórico, enveredaram pela geometria para superar esse impasse (ver pág. 62). Assim, os gregos do período clássico, ao resolverem a equação  $x^2 = 2$ , por exemplo, faziam-no geometricamente, fornecendo a raiz positiva como um segmento de reta. E se hoje dizemos “ $x$  ao quadrado” para indicar  $x^2$ , isso se deve a que os gregos associavam um produto de fatores iguais à figura de um quadrado. Coisa análoga vale para  $x^3$ .

Mas a ciência aplicada não pode prescindir da matemática numérica. De modo que já no período alexandrino, quando a matemática grega se abriu para as aplicações, não lhe restou senão imitar a atitude de egípcios e babilônios com relação aos números irracionais — pois ainda demoraria muito até que a natureza destes fosse decifrada.

Assim é que até a primeira metade do século XIX o conceito de número irracional não havia ainda sido elucidado e o conjunto dos números reais carecia de fundamentação lógica. A substituição da intuição geométrica pelos números, como base da análise matemática, foi a grande motivação, no século XIX, para as tentativas de pôr em pratos limpos a questão dos números reais. E entre os matemáticos com papel decisivo nessa empreitada figura Richard Dedekind (1831-1916).

Dedekind nasceu na Alemanha, em Brunswick, também cidade natal de Gauss. Mas, ao contrário deste, seu extraordinário gênio matemático não aflorou precocemente. Na Universidade de Göttingen,



Richard Dedekind (1831-1916).



em que ingressou aos 19 anos de idade, Dedekind iria ter a oportunidade de ser aluno de seu conterrâneo. E o mesmo Gauss, em 1852, teve ocasião de dar parecer favorável à tese de doutoramento de Dedekind.

Depois de trabalhar quatro anos em Göttingen como instrutor e seis anos como professor na Escola Politécnica de Zurique, Dedekind foi contratado pela Escola Técnica Superior de sua cidade natal, onde permaneceu até a morte.

São inúmeras as contribuições de Dedekind à Matemática. Mas seu nome provavelmente é mais lembrado por dois importantes conceitos: o de *ideal*, um dos mais fecundos hoje em dia em todos os campos da matemática; e o de *corte*, através do qual caracterizou, num livro de 1872, os números reais.

Como professor de cálculo, já a partir de 1858, sentiu mais diretamente a falta de um embasamento teórico para o sistema dos números reais. Exemplificava dizendo não haver uma demonstração sequer para coisas corriqueiras como  $\sqrt{2} \cdot \sqrt{3} = \sqrt{6}$ . E a questão central era como esclarecer a idéia de *continuidade*.

Depois de meditar muito, não sem buscar inspiração em Eudóxio, Dedekind abraçou a idéia de que se poderia chegar ao conceito de continuidade através de convenientes partições em  $\mathbb{Q}$ . E definiu um corte em  $\mathbb{Q}$  como uma partição deste conjunto num par  $(A, B)$  de subconjuntos não vazios tais que todo elemento do primeiro é menor que todo elemento do segundo. Por exemplo, para cada  $a \in \mathbb{Q}$  está associado o *corte racional*  $(A, B)$  definido por  $a$ , em que  $A = \{x \in \mathbb{Q} \mid x \leq a\}$  e  $B = \{x \in \mathbb{Q} \mid x > a\}$ . Mas não vale a recíproca: há cortes não racionais.

Dedekind mostrou como operar com esses cortes e como compará-los. Desse modo cada corte passa a representar formalmente um número real e o conjunto desses cortes pode ser visto como o conjunto dos números reais. Por exemplo, o corte  $(A, B)$  do exemplo representa o número racional  $a$ ; os cortes não racionais são os números irracionais da teoria de Dedekind.

Os mais de 2 000 anos decorridos desde o início até o fim desta história dão bem uma idéia da magnitude do passo dado por Dedekind.



# Função Modular

## I. Função definida por várias sentenças abertas

Uma função  $f$  pode ser definida por várias sentenças abertas, cada uma das quais está ligada a um domínio  $D_i$  contido no domínio da  $f$ .

### 129. Exemplos preliminares

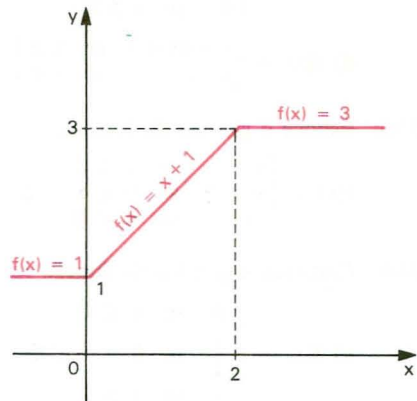
1º) Seja a função  $f: \mathbb{R} \rightarrow \mathbb{R}$  definida por

$$\begin{cases} f(x) = 1 & \text{para } x < 0 \\ f(x) = x + 1 & \text{para } 0 \leq x < 2 \\ f(x) = 3 & \text{para } x \geq 2 \end{cases}$$

que também pode ser indicada por

$$f(x) = \begin{cases} 1 & \text{se } x < 0 \\ x + 1 & \text{se } 0 \leq x < 2 \\ 3 & \text{se } x \geq 2 \end{cases}$$

O seu gráfico está representado ao lado.



2º) Seja a função  $f: \mathbb{R} \rightarrow \mathbb{R}$  definida por

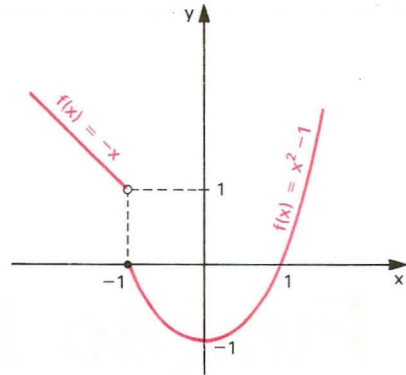
$$f(x) = -x \text{ para } x < -1$$

$$f(x) = x^2 - 1 \text{ para } x \geq -1$$

que também pode ser indicada por

$$f(x) = \begin{cases} -x & \text{se } x < -1 \\ x^2 - 1 & \text{se } x \geq -1 \end{cases}$$

O seu gráfico está representado ao lado.



## EXERCÍCIOS

**354.** Construa o gráfico das funções definidas em  $\mathbb{R}$ :

a)  $f(x) = \begin{cases} x + 1 & \text{se } x \geq 0 \\ -x & \text{se } x < 0 \end{cases}$

e)  $f(x) = \begin{cases} x^2 - 2x & \text{se } x \geq 0 \\ 1 - x & \text{se } x < 0 \end{cases}$

b)  $f(x) = \begin{cases} -2x + 3 & \text{se } x \geq 1 \\ 1 & \text{se } -1 < x < 1 \\ 2 + x & \text{se } x \leq -1 \end{cases}$

f)  $f(x) = \begin{cases} -x^2 + 1 & \text{se } x > -2 \\ 1 & \text{se } x \leq -2 \end{cases}$

c)  $f(x) = \begin{cases} -2 & \text{se } x \leq -2 \\ x & \text{se } -2 < x < 2 \\ 2 & \text{se } x \geq 2 \end{cases}$

g)  $f(x) = \begin{cases} x^2 - 4x & \text{se } x \geq 0 \\ -x^2 - 4x & \text{se } x < 0 \end{cases}$

d)  $f(x) = \begin{cases} x^2 - 4x + 3 & \text{se } x \geq 1 \\ x - 1 & \text{se } x < 1 \end{cases}$

h)  $f(x) = \begin{cases} x^2 - 4x + 3 & \text{se } x \geq 0 \\ x^2 + 4x + 3 & \text{se } x < 0 \end{cases}$

**355.** Esboce o gráfico da função:

$$f(x) = \begin{cases} x^{-1} & \text{se } x \geq 2 \\ x^2 - 1 & \text{se } 0 \leq x < 2 \\ |x| & \text{se } x < 0 \end{cases}$$

**356.** Construa o gráfico da função real dada por:

a)  $f(x) = \begin{cases} 0 & \text{se } x \leq 0 \\ \frac{x}{2} & \text{se } 0 < x \leq 2 \\ 1 & \text{se } x > 2 \end{cases}$

b)  $f(x) = \begin{cases} -x & \text{se } x \leq 0 \\ x^2 & \text{se } x > 0 \end{cases}$

- 357.** Na função real  $f(x) = \begin{cases} x^2 + x - 2 & \text{se } x > -2 \\ -\frac{x}{2} + 1 & \text{se } x \leq -2 \end{cases}$ , determine os valores do domínio que têm imagem 4.

**Solução**

Para determinarmos o valor de  $x \in \mathbb{R}$  tal que  $f(x) = 4$ , resolvemos as equações

$$x^2 + x - 2 = 4 \implies x^2 + x - 6 = 0 \implies \begin{cases} x = -3 & \text{(não convém)} \\ x = 2 \end{cases}$$

e

$$-\frac{x}{2} + 1 = 4 \implies x = -6$$

logo, os valores do domínio são  $x = 2$  ou  $x = -6$ .

- 358.** Na função real  $f(x) = \begin{cases} x^2 - \frac{5}{2}x + 1 & \text{se } x \geq 0 \\ x + 2 & \text{se } x < 0 \end{cases}$ , determine os valores do domínio que têm imagem 7.

- 359.** Considere a função  $y = f(x)$  definida por:

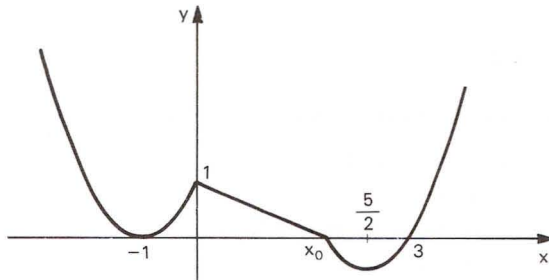
$$\begin{cases} y = 4x & \text{se } 0 \leq x \leq 2 \\ y = -x^2 + 6x & \text{se } 2 < x \leq 6 \end{cases}$$

- a) Esboce o gráfico de  $y = f(x)$  no intervalo  $0 \leq x \leq 6$ .  
b) Para que valores de  $x$  temos  $f(x) = 5$ ?

- 360.** Considerando a função real definida pela sentença

$$f(x) = \begin{cases} x^2 + bx + c & \text{se } x \leq 0 \\ mx + n & \text{se } 0 < x < x_0 \\ x^2 + b_1x + c_1 & \text{se } x \geq x_0 \end{cases}$$

cujo gráfico é:



pode-se afirmar:

a) A equação  $f(x) = \frac{3}{2}$  tem 4 soluções.

b)  $f(-2) = 1$ .

c) Se  $0 < x < 1$ , então  $f(x) = -\frac{x}{2} + 1$ .

d) Se  $x \geq 1$ , então  $f(x) = x^2 - 5x + 6$ .

e) O conjunto imagem da função é o intervalo  $\left[-\frac{1}{4}, +\infty\right]$ .

## II. Módulo

### 130. Definição

Sendo  $x \in \mathbb{R}$ , define-se *módulo* ou *valor absoluto* de  $x$ , que se indica por  $|x|$ , por meio da relação

$$\begin{cases} |x| = x & \text{se } x \geq 0 \\ \text{ou} \\ |x| = -x & \text{se } x < 0 \end{cases}$$

Isso significa que:

1º) o módulo de um número real não negativo é igual ao próprio número;

2º) o módulo de um número real negativo é igual ao oposto desse número.

Assim, por exemplo, temos:

$$|+2| = +2, |-7| = +7, |0| = 0, \left|-\frac{3}{5}\right| = +\frac{3}{5}, |-\sqrt{2}| = +\sqrt{2}, |+\sqrt{3}| = +\sqrt{3}$$

### 131. Propriedades

Decorrem da definição as seguintes propriedades:

- I.  $|x| \geq 0, \forall x \in \mathbb{R}$
- II.  $|x| = 0 \Leftrightarrow x = 0$
- III.  $|x| \cdot |y| = |xy|, \forall x, y \in \mathbb{R}$
- IV.  $|x|^2 = x^2, \forall x \in \mathbb{R}$

- V.  $x \leq |x|, \forall x \in \mathbb{R}$   
 VI.  $|x + y| \leq |x| + |y|, \forall x, y \in \mathbb{R}$   
 VII.  $|x - y| \geq |x| - |y|, \forall x, y \in \mathbb{R}$   
 VIII.  $|x| \leq a$  e  $a > 0 \iff -a \leq x \leq a$   
 IX.  $|x| \geq a$  e  $a > 0 \iff x \leq -a$  ou  $x \geq a$

### Demonstrações

- I. Se  $x \geq 0$ , então  $|x| = x \geq 0$ .  
 Se  $x < 0$ , então  $|x| = -x > 0$ .
- II. Se  $x = 0$ , então  $|x| = x = 0$ .  
 Se  $|x| = 0$ , então  $x = 0$ , pois, caso  $x \neq 0$ , resultaria  $|x| > 0$ .
- III. Se  $x \geq 0$  e  $y \geq 0$ , então  $|x| \cdot |y| = x \cdot y = |x \cdot y|$ , pois  $x \cdot y \geq 0$ .  
 Se  $x < 0$  e  $y < 0$ , então  $|x| \cdot |y| = (-x) \cdot (-y) = xy = |x \cdot y|$ , pois  $x \cdot y > 0$ .  
 Se  $x \geq 0$  e  $y < 0$ , então  $|x| \cdot |y| = x \cdot (-y) = -x \cdot y = |x \cdot y|$ , pois  $x \cdot y \leq 0$ .  
 Se  $x < 0$  e  $y \geq 0$ , analogamente.
- IV. Se  $x \geq 0$ , então  $x = |x|$  e daí  $x^2 = |x|^2$ .  
 Se  $x < 0$ , então  $-x = |x|$  e daí  $(-x)(-x) = |x| \cdot |x|$ , isto é,  $x^2 = |x|^2$ .
- V. Se  $x \geq 0$ , então  $x = |x|$  e, se  $x < 0$ , então  $x < 0 < |x|$ ; portanto,  $x \leq |x|$  para todo  $x$  real.
- VI.  $|x + y|^2 = (x + y)^2 = x^2 + y^2 + 2xy \leq \underset{(IV)}{|x|^2} + \underset{(V)}{|y|^2} + 2 \cdot |x| \cdot |y| = (|x| + |y|)^2$  e daí  $|x + y| \leq |x| + |y|$ .
- VII.  $|x - y|^2 = (x - y)^2 = x^2 + y^2 - 2xy \geq x^2 + y^2 - 2|x| \cdot |y| = |x|^2 + |y|^2 - 2|x| \cdot |y| = (|x| - |y|)^2$  e daí  $|x - y| \geq |x| - |y|$ .
- VIII.  $|x| \leq a \iff \overset{a > 0}{x^2 \leq a^2} \iff x^2 - a^2 \leq 0 \iff \iff (x + a)(x - a) \leq 0 \iff -a \leq x \leq a$
- IX.  $|x| \geq a \iff \overset{a > 0}{x^2 \leq a^2} \iff x^2 - a^2 \geq 0 \iff \iff (x + a)(x - a) \geq 0 \iff x \leq -a$  ou  $x \geq a$

## III. Função modular

**132.** Uma aplicação de  $\mathbb{R}$  em  $\mathbb{R}$  recebe o nome de *função módulo* ou *modular* quando a cada  $x \in \mathbb{R}$  associa o elemento  $|x| \in \mathbb{R}$ .

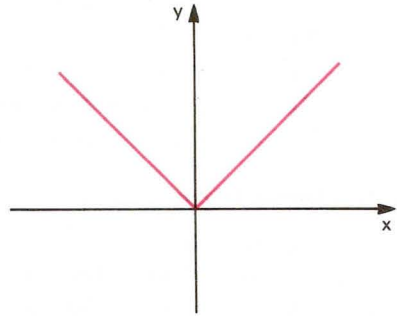
$$f(x) = |x|$$



Utilizando o conceito de módulo de um número real, a função modular pode ser definida também da seguinte forma:

$$f(x) = \begin{cases} x & \text{se } x \geq 0 \\ -x & \text{se } x < 0. \end{cases}$$

O gráfico da função modular é a reunião de duas semi-retas de origem  $O$ , que são as bissetrizes do 1º e 2º quadrantes.



A imagem desta função é  $Im = \mathbb{R}_+$ , isto é, a função modular somente assume valores reais não negativos.

## EXERCÍCIOS

**361.** Construa os gráficos das funções definidas em  $\mathbb{R}$ :

a)  $f(x) = |2x|$

b)  $f(x) = |3x|$

**362.** Construa o gráfico da função real definida por  $f(x) = |x + 1|$ .

### Solução

Podemos construir o gráfico de  $f(x) = |x + 1|$  por dois processos:

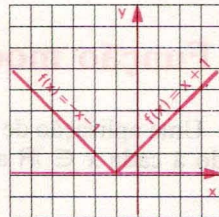
#### Primeiro processo

Notemos que  $|x + 1| = \begin{cases} x + 1 & \text{se } x \geq -1 \\ -x - 1 & \text{se } x < -1. \end{cases}$

Então a função pode ser definida como uma função a duas sentenças, ou seja,

$$f(x) = \begin{cases} x + 1 & \text{se } x \geq -1 \\ -x - 1 & \text{se } x < -1 \end{cases}$$

cujos gráficos está representado ao lado.

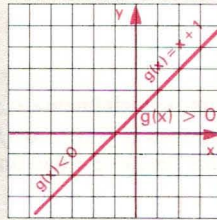


**Segundo processo**

Para construirmos o gráfico de

$$f(x) = |x + 1|,$$

fazemos inicialmente o gráfico da função  $g(x) = x + 1$ , que está representado ao lado.



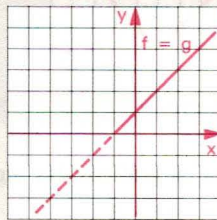
Para obtermos o gráfico de

$$f(x) = |g(x)| = |x + 1|$$

fazemos em duas etapas:

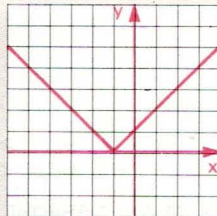
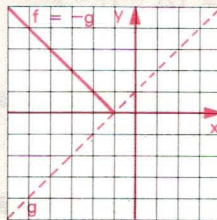
**Primeira etapa**

Se  $g(x) \geq 0$ , vamos ter  $f(x) = |g(x)| = g(x)$ , isto é, o gráfico da função  $f$  coincidirá com o gráfico da função  $g$ .

**Segunda etapa:**

Se  $g(x) < 0$ , vamos ter  $f(x) = |g(x)| = -g(x)$ , isto é, o gráfico da função  $f$  será simétrico do gráfico da função  $g$ , relativamente ao eixo das abscissas.

Construindo os gráficos obtidos, nas duas etapas, no mesmo plano cartesiano temos o gráfico da função  $f(x) = |x + 1|$ .



**363.** Construa os gráficos das seguintes funções reais:

a)  $f(x) = |x - 1|$

b)  $f(x) = |2x - 1|$

c)  $f(x) = |2x + 3|$

d)  $f(x) = |2 - 3x|$

e)  $f(x) = |x^2 + 4x|$

f)  $f(x) = |x^2 - 3x + 2|$

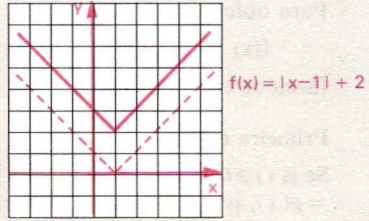
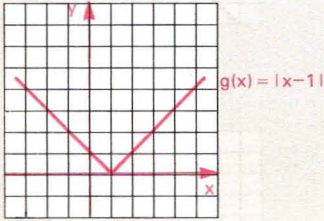
g)  $f(x) = |4 - x^2|$

**364.** Construa o gráfico da função definida em  $\mathbb{R}$  por  $f(x) = |x - 1| + 2$ .

**Solução**

Construímos inicialmente o gráfico da função  $g(x) = |x - 1|$ .

Para obtermos o gráfico de  $f(x) = g(x) + 2$ , deslocamos cada ponto do gráfico da função  $g$  duas unidades “para cima”.



**365.** Construa os gráficos das seguintes funções reais:

a)  $f(x) = |x| - 3$

d)  $f(x) = |x^2 - 1| - 2$

b)  $f(x) = |2x - 1| - 2$

e)  $f(x) = |x^2 - 4| + 3$

c)  $f(x) = |3x - 4| + 1$

f)  $f(x) = |x^2 + 4x + 3| - 1$

**366.** Construa o gráfico da função real:

a)  $y = |x| - 1$

b)  $y = -|x - a| + a$

**367.** Construa o gráfico da função definida em  $\mathbb{R}$   $f(x) = |x + 2| + x - 1$ .

**Solução**

Notemos que

$$|x + 2| = \begin{cases} x + 2 & \text{se } x \geq -2 \\ -x - 2 & \text{se } x < -2 \end{cases}$$

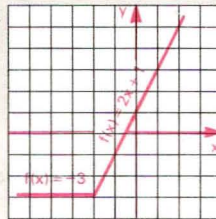
Devemos, então, considerar dois casos:

1º) quando  $x \geq -2$ , temos:

$$\begin{aligned} f(x) &= |x + 2| + x - 1 = \\ &= x + 2 + x - 1 = 2x + 1 \end{aligned}$$

2º) quando  $x < -2$ , temos:

$$\begin{aligned} f(x) &= |x + 2| + x - 1 = \\ &= -x - 2 + x - 1 = -3. \end{aligned}$$





Anotando a função  $f$  como uma função definida a duas sentenças, vem:

$$f(x) = \begin{cases} 2x + 1 & \text{se } x \geq -2 \\ -3 & \text{se } x < -2 \end{cases}$$

cujo gráfico está na página anterior.

**368.** Construa os gráficos das funções reais abaixo.

a)  $f(x) = |x| + x$

f)  $f(x) = |3x + 2| - 2x + 3$

b)  $f(x) = |x| - x$

g)  $f(x) = x^2 - 4|x| + 3$

c)  $f(x) = |x - 3| + x + 2$

h)  $f(x) = |x^2 - 2|x| - 3|$

d)  $f(x) = |x + 1| - x + 3$

i)  $f(x) = |x^2 - 2x| + x + 2$

e)  $f(x) = |2x - 1| + x - 2$

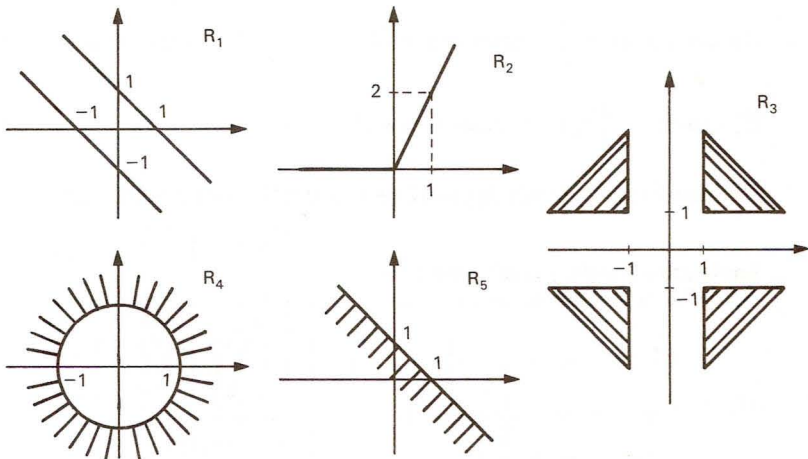
**369.** Trace o gráfico da função  $f$  de  $\mathbb{R}$  em  $\mathbb{R}$ , definida por

$$f(x) = (x^2 - 1) + |x^2 - 1| + 1.$$

**370.** Determine o conjunto imagem da função  $f$  de  $\mathbb{R}$  em  $\mathbb{R}$ , definida por

$$f(x) = 2|x - 3| + x - 1.$$

**371.** Os diagramas cartesianos abaixo representam relações em  $R$ .



Analise os diagramas e indique as afirmativas verdadeiras.

a)  $R_1 = R_1^{-1}$

b)  $R_2 = \{(x, y) \in \mathbb{R}^2; y = |x| + x\}$

c)  $R_3 = \{(x, y) \in \mathbb{R}^2; |x| > 1 \text{ e } |y| \geq 1\}$

d)  $D(R_4) = ]-\infty, -1] \cup [1, +\infty[$

e)  $I(R_5) = ]-\infty, 1]$

**372.** Construa o gráfico da função  $f(x) = \frac{|x|}{x}$  definida em  $\mathbb{R}^*$ .

**373.** Construa o gráfico da função  $f(x) = \frac{|x - 1|}{1 - x}$  definida em  $\mathbb{R} - \{1\}$ .

**374.** Construa o gráfico da função definida em  $\mathbb{R}$  por:

$$f(x) = |2x + 1| + |x - 1|.$$

**Solução**

Notemos que  $|2x + 1| = \begin{cases} 2x + 1 & \text{se } x \geq -\frac{1}{2} \\ -2x - 1 & \text{se } x < -\frac{1}{2} \end{cases}$

e  $|x - 1| = \begin{cases} x - 1 & \text{se } x \geq 1 \\ -x + 1 & \text{se } x < 1 \end{cases}$

Devemos, então, considerar três casos:

1º) quando  $x < -\frac{1}{2}$ , temos  $f(x) = |2x + 1| + |x - 1| = -2x - 1 - x + 1 = -3x$

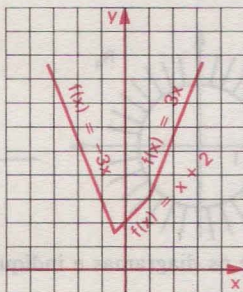
2º) quando  $-\frac{1}{2} \leq x < 1$ , temos  $f(x) = |2x + 1| + |x - 1| = 2x + 1 - x + 1 = x + 2$

3º) quando  $x \geq 1$ , temos  $f(x) = |2x + 1| + |x - 1| = 2x + 1 + x - 1 = 3x$ .

Anotando a função  $f$  como uma função definida a várias sentenças, vem:

$$f(x) = \begin{cases} -3x & \text{se } x < -\frac{1}{2} \\ x + 2 & \text{se } -\frac{1}{2} \leq x < 1 \\ 3x & \text{se } x \geq 1 \end{cases}$$

cujo gráfico está ao lado.



**375.** Construa o gráfico da função real definida por:

a)  $f(x) = |x - 1| - |x|$

b)  $y = -x|x|$



**376.** Construa os gráficos das seguintes funções reais:

a)  $f(x) = |x + 1| + |x - 1|$

d)  $f(x) = |3x + 3| - |2x - 3|$

b)  $f(x) = |x + 1| - |x - 1|$

e)  $f(x) = |x^2 - 4| - |x - 2|$

c)  $f(x) = |2x - 2| + |x + 3|$

f)  $f(x) = \frac{|x^2 - 2x| - |x^2 - 4|}{2}$

**377.** Construa o gráfico da função definida em  $\mathbb{R}$ :

$$f(x) = ||2x - 2| - 4|.$$

### Solução

Construímos inicialmente o gráfico de  $g(x) = |2x - 2| - 4$ .

Analisemos as duas possibilidades:

1º) Se  $g(x) \geq 0$ , temos:

$$f(x) = |g(x)| = g(x)$$

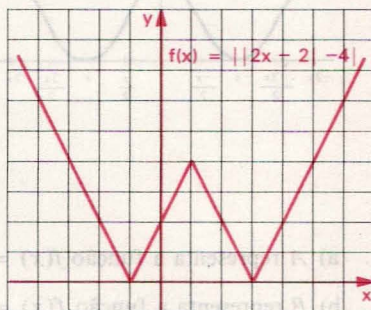
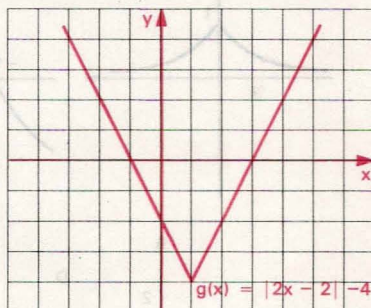
isto é, o gráfico da função  $f$  coincide com o gráfico da função  $g$ .

2º) Se  $g(x) < 0$ , temos:

$$f(x) = |g(x)| = -g(x)$$

isto é, o gráfico da função  $f$  é o oposto do gráfico da função  $g$ .

Considerando as duas possibilidades e representando num mesmo plano cartesiano, temos:



**378.** Construa os gráficos das funções reais:

a)  $f(x) = ||x| - 2|$

b)  $f(x) = ||2x + 3| - 2|$

c)  $f(x) = ||x^2 - 1| - 3|$

d)  $f(x) = ||x - 1| + x - 3|$

e)  $f(x) = |x^2 - 4|x| + 3|$

f)  $f(x) = ||x + 2| - |x - 2||$

g)  $f(x) = ||3x - 3| - |2x + 1||$

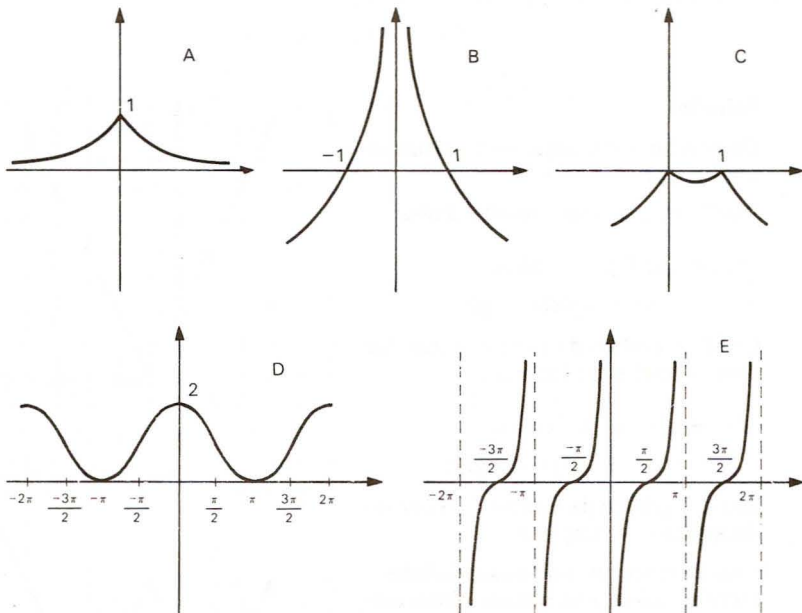
**379.** Construa o gráfico da função real definida por:

a)  $f(x) = |x^2 - 5|x| + 6|$

c)  $g(x) = \frac{|x|}{x} + \frac{|x-1|}{x-1}$

b)  $y = 2x + |x - 2|x||$

**380.** Considerando os gráficos abaixo, indique as afirmativas verdadeiras.



a)  $A$  representa a função  $f(x) = \frac{1}{2^{|x|}}$ .

b)  $B$  representa a função  $f(x) = \log_{\frac{1}{2}} |x|$ .

c)  $C$  representa a função  $f(x) = -|x^2 - x|$ .

d)  $D$  representa a função  $f(x) = 1 + \text{sen} \left( \frac{\pi}{2} - x \right)$ .

e)  $E$  representa a função  $f(x) = \text{cotg } x$ .

## IV. Equações modulares

**133.** Lembremos da propriedade do módulo dos números reais, para  $k > 0$ :

$$|x| = k \Leftrightarrow x = k \quad \text{ou} \quad x = -k$$

e, utilizando essa propriedade, vamos resolver algumas equações modulares.

1º) Resolver  $|2x - 1| = 3$ .

Então:

$$|2x - 1| = 3 \Rightarrow \begin{cases} 2x - 1 = 3 & \Rightarrow x = 2 \\ \text{ou} \\ 2x - 1 = -3 & \Rightarrow x = -1 \end{cases}$$

$$S = \{2, -1\}.$$

2º) Resolver  $|3x - 1| = |2x + 3|$ .

Lembrando da propriedade

$$|a| = |b| \Leftrightarrow a = b \quad \text{ou} \quad a = -b$$

temos:

$$|3x - 1| = |2x + 3| \Leftrightarrow \begin{cases} 3x - 1 = 2x + 3 & \Rightarrow x = 4 \\ \text{ou} \\ 3x - 1 = -2x - 3 & \Rightarrow x = -\frac{2}{5} \end{cases}$$

$$S = \left\{4, -\frac{2}{5}\right\}.$$

3º) Resolver  $|x + 1| = 3x + 2$ .

Devemos ter inicialmente:

$$3x + 2 \geq 0 \Rightarrow x \geq -\frac{2}{3}$$

para que seja possível a igualdade.

Supondo  $x \geq -\frac{2}{3}$ , temos:

$$|x + 1| = 3x + 2 \Rightarrow \begin{cases} x + 1 = 3x + 2 & \Rightarrow x = -\frac{1}{2} \\ \text{ou} \\ x + 1 = -3x - 2 & \Rightarrow x = -\frac{3}{4} \text{ (não convém)} \end{cases}$$

$$S = \left\{-\frac{1}{2}\right\}.$$

# EXERCÍCIOS

**381.** Resolva as seguintes equações, em  $\mathbb{R}$ :

a)  $|x + 2| = 3$

e)  $|x^2 - 3x - 1| = 3$

b)  $|3x - 1| = 2$

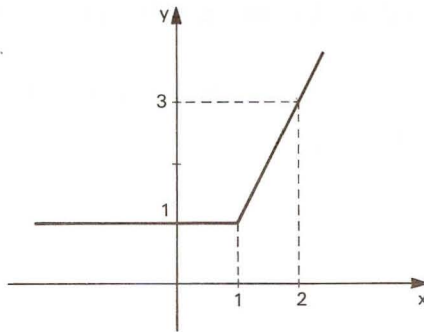
f)  $|x^2 - \frac{5}{2}x - \frac{1}{4}| = \frac{5}{4}$

c)  $|4x - 5| = 0$

g)  $|x^2 - 4x + 5| = 2$

d)  $|2x - 3| = -1$

**382.** Considere o gráfico abaixo:



a) Mostre que este gráfico representa a função de  $\mathbb{R}$  em  $\mathbb{R}$  definida por  $f(x) = x + |x - 1|$ .

b) Dada a função constante  $g: \mathbb{R} \rightarrow \mathbb{R}$  definida por  $g(x) = k$ , para que valores de  $k$  a equação  $f(x) = g(x)$  tem uma única solução?

**383.** Resolva, em  $\mathbb{R}$ , as seguintes equações:

a)  $|3x + 2| = |x - 1|$

c)  $|x^2 + x - 5| = |4x - 1|$

b)  $|4x - 1| - |2x + 3| = 0$

d)  $|x^2 + 2x - 2| = |x^2 - x - 1|$

**384.** Resolva as seguintes equações, em  $\mathbb{R}$ :

a)  $|x - 2| = 2x + 1$

d)  $|2x^2 + 15x - 3| = x^2 + 2x - 3$

b)  $|3x + 2| = 2x - 3$

e)  $|3x - 2| = 3x - 2$

c)  $|2x - 5| = x - 1$

f)  $|4 - 3x| = 3x - 4$

**385.** Resolva, em  $\mathbb{R}$ , a equação  $|x|^2 + |x| - 6 = 0$ .

**Sugestão:** Faça  $|x| = y$ .

**386.** Resolva, em  $\mathbb{R}$ , a equação  $|2x - 3| + |x + 2| = 4$ .

**Solução**

$$|2x - 3| = \begin{cases} 2x - 3, & x \geq \frac{3}{2} \\ -2x + 3, & x < \frac{3}{2} \end{cases}$$

$$|x + 2| = \begin{cases} x + 2, & x \geq -2 \\ -x - 2, & x < -2 \end{cases}$$

$ 2x - 3 $	$-2x + 3$	$-2x + 3$	$2x - 3$
$ x + 2 $	$-x - 2$	$x + 2$	$\frac{3}{2}x + 2$
$ 2x - 3  +  x + 2 $	$-3x + 1$	$-2$	$3x - 1$
	$-2$		$\frac{3}{2}$

Temos, então:

$$|2x - 3| + |x + 2| = \begin{cases} -3x + 1, & x < -2 \\ -x + 5, & -2 \leq x < \frac{3}{2} \\ 3x - 1, & x \geq \frac{3}{2} \end{cases}$$

Resolvendo cada parte, vem:

$$-3x + 1 = 4 \Rightarrow x = -1 \text{ (rejeitado, porque } x \text{ deve ser menor que } -2)$$

$$-x + 5 = 4 \Rightarrow x = 1$$

$$3x - 1 = 4 \Rightarrow x = \frac{5}{3}$$

Resposta:  $S = \left\{1, \frac{5}{3}\right\}$ .

**387.** Qual é o conjunto solução, em  $\mathbb{R}$ , da equação:

a)  $|x + 1| - |x| = 2x + 1$

b)  $\frac{|x|}{x} = \frac{|x - 1|}{x - 1}$



## V. Inequações modulares

**134.** Lembrando das propriedades de módulo dos números reais, para  $k > 0$ :

$$1) |x| < k \Leftrightarrow -k < x < k$$

$$2) |x| > k \Leftrightarrow x < -k \text{ ou } x > k$$

e, utilizando essas propriedades, podemos resolver algumas inequações modulares.

1º) Resolver em  $\mathbb{R}$ :  $|2x + 1| < 3$ .

Então:

$$|2x + 1| < 3 \Rightarrow -3 < 2x + 1 < 3 \Rightarrow -2 < x < 1$$

$$S = \{x \in \mathbb{R} \mid -2 < x < 1\}.$$

2º) Resolver em  $\mathbb{R}$ :  $|4x - 3| > 5$ .

Então:

$$\begin{aligned} |4x - 3| > 5 &\Rightarrow (4x - 3 < -5 \text{ ou } 4x - 3 > 5) \Rightarrow \\ &\Rightarrow \left(x < -\frac{1}{2} \text{ ou } x > 2\right) \end{aligned}$$

$$S = \left\{x \in \mathbb{R} \mid x < -\frac{1}{2} \text{ ou } x > 2\right\}.$$

## EXERCÍCIOS

**388.** Resolva, em  $\mathbb{R}$ , as inequações abaixo.

a)  $|3x - 2| < 4$

b)  $|2x - 3| \leq 1$

c)  $|4 - 3x| \leq 5$

d)  $|3x + 4| \leq 0$

e)  $|2x + 4| < -3$

f)  $|2x - 1| > 3$

g)  $|5x + 4| \geq 4$

h)  $|2 - 3x| \geq 1$

i)  $|3x - 5| > 0$

j)  $|4x - 7| \geq -1$

k)  $1 < |x - 1| \leq 3$

**389.** Resolva as inequações seguintes, em  $\mathbb{R}$ .

a)  $|x^2 - 5x + 5| < 1$

f)  $\left| \frac{x+1}{2x-1} \right| \leq 2$

b)  $|x^2 - x - 4| > 2$

g)  $||x| - 2| > 1$

c)  $|x^2 - 5x| \geq 6$

h)  $||2x + 1| - 3| \geq 2$

d)  $|x^2 - 3x - 4| \leq 6$

i)  $||2x - 1| - 4| \leq 3$

e)  $\left| \frac{2x-3}{3x-1} \right| > 2$

**390.** Seja a inequação  $\left| 2 - \frac{1}{x} \right| \leq 5$ . Quantas de suas soluções são números inteiros positivos e menores que 30?

**391.** Julgue os itens abaixo.

a) A equação  $|2x - 1| = 3$  possui duas raízes reais.

b) Os valores reais de  $x$  para os quais

$$(3x - 2)(1 - x)(1 + x^2) \geq 0 \text{ são } \left\{ x \in \text{reais} \mid \frac{2}{3} \leq x \leq 1 \right\}.$$

c) Os valores reais de  $x$  tais que  $\frac{x+2}{3} - \frac{x-1}{2} \geq x$  são  $\{x \in \text{reais} \mid x \leq 1\}$ .

d) Não existe número real  $x$  que satisfaça a inequação  $|\cos x| \geq 1$ .

e) O polinômio  $5x^6 - 6x^5 + x$  é divisível por  $(x - 1)^2$ .

**392.** Qual é o comprimento do intervalo que representa a interseção dos conjuntos  $A = \{x \in \mathbb{R} \mid |x - 2| < 4\}$  e  $\{x \in \mathbb{R} \mid |x - 7| < 2\}$ ?

**393.** Determine o conjunto solução, em  $\mathbb{R}$ , da inequação  $1 < |x - 3| < 4$ .

**394.** Para que valores de  $x$ , reais, a função  $P(x) = |x^2 + x - 1|$  é menor do que 1?

**395.** Se  $|x^2 - 4| < N$  para todo  $x$  real, tal que  $|x - 2| < 1$ , qual é o menor valor possível para  $N$ ?

**396.** Julgue os itens abaixo.

a) As inequações  $(x - 5)^2(x + 10) < 0$  e  $x^2(x + 10) < 0$  têm o mesmo conjunto solução.

b)  $|x| - |y| \leq |x - y|$ ,  $\forall x, y$  números reais.

c) Se  $f(z) = \frac{z-1}{z+1}$ ,  $z \neq \pm 1$ , então

$$\frac{f(z) - f(-z)}{1 + f(z) \cdot f(-z)} = \frac{4z}{1 - z^2}.$$

d) O domínio máximo de definição da função

$$f(x) = (15 - 2|x - 7|)^{1/2} \text{ é } -1 \leq x \leq 6.$$

e) A função  $f(x) = \frac{1}{x+3} - \frac{1}{(x-2)^2}$  está definida para todo número real  $x \neq 2$ .

f) A imagem da função  $f(x) = \sqrt{1-x^2} + \sqrt{x^2-1}$  é só o zero.

**397.** Quais os números inteiros que satisfazem a sentença  $3 \leq |2x - 3| < 6$ ?

**398.** Resolva, em  $\mathbb{R}$ , a inequação  $2x - 7 + |x + 1| \geq 0$ .

**Solução**

Notando que  $|x + 1| = \begin{cases} x + 1 & \text{se } x \geq -1 \\ -x - 1 & \text{se } x < -1 \end{cases}$

devemos, então, considerar dois casos:

1º) Se  $x \geq -1$ , temos:

$$2x - 7 + |x + 1| \geq 0 \implies 2x - 7 + x + 1 \geq 0 \iff x \geq 2.$$

A solução  $S_1$  é:

$$S_1 = \{x \in \mathbb{R} \mid x \geq -1\} \cap \{x \in \mathbb{R} \mid x \geq 2\} = \{x \in \mathbb{R} \mid x \geq 2\}.$$

2º) Se  $x < -1$ , temos:

$$2x - 7 + |x + 1| \geq 0 \implies 2x - 7 - x - 1 \geq 0 \implies x \geq 8.$$

A solução  $S_2$  é:

$$S_2 = \{x \in \mathbb{R} \mid x < -1\} \cap \{x \in \mathbb{R} \mid x \geq 8\} = \emptyset.$$

A solução da inequação proposta é

$$S = S_1 \cup S_2$$

e portanto

$$S = \{x \in \mathbb{R} \mid x \geq 2\}.$$

**399.** Resolva, em  $\mathbb{R}$ , as seguintes inequações:

- a)  $|x - 1| - 3x + 7 \leq 0$
- b)  $|2x + 1| + 4 - 3x > 0$
- c)  $|3x - 2| + 2x - 3 \leq 0$
- d)  $|x + 1| - x + 2 \geq 0$
- e)  $|3x - 4| + 2x + 1 < 0$
- f)  $|x^2 - 4x| - 3x + 6 \leq 0$
- g)  $|x^2 - 6x + 5| + 1 < x$

**400.** Resolva a inequação  $|x^2 - 4| < 3x$ .

401. Indique as afirmativas verdadeiras.

- a)  $\forall x \in [-1, 0], |x| = -x$ .  
 b) O complementar do conjunto solução da inequação  $|x - 1| \geq 2$  é o intervalo  $] -1, 3[$ .  
 c) A equação  $|x - 1| = 2x$  tem duas soluções.  
 d) Todas as raízes da equação  $2^{|x^2-3|} = 8$  são números irracionais.  
 e) O conjunto solução da inequação  $\log_{\frac{1}{4}}(x^2 - 4) < 2$  está contido no conjunto  $] -\infty, -2[ \cup ] 2, +\infty[$ .

402. Qual é o conjunto solução, em  $\mathbb{R}$ , de  $|x - 3| < x + 3$ ?

403. Resolva a inequação em  $\mathbb{R}$   $|2x - 6| - |x| \leq 4 - x$ .

### Solução

Notando que:

$$|2x - 6| = \begin{cases} 2x - 6 & \text{se } x \geq 3 \\ -2x + 6 & \text{se } x < 3 \end{cases} \quad \text{e} \quad |x| = \begin{cases} x & \text{se } x \geq 0 \\ -x & \text{se } x < 0 \end{cases}$$

construímos a tabela:

	0	3	x
$ 2x - 6  =$	$-2x + 6$	$-2x + 6$	$2x - 6$
$ x  =$	$-x$	$x$	$x$
$ 2x - 6  -  x  =$	$-x + 6$	$-3x + 6$	$x - 6$

Temos:

$$|2x - 6| - |x| = \begin{cases} x - 6 & \text{se } x \geq 3 \\ -3x + 6 & \text{se } 0 \leq x < 3 \\ -x + 6 & \text{se } x < 0 \end{cases}$$

Devemos considerar três casos:

1º) Se  $x \geq 3$ , a inequação proposta é equivalente a:

$$x - 6 \leq 4 - x \Rightarrow 2x \leq 10 \Rightarrow x \leq 5.$$

A solução  $S_1$  é:

$$S_1 = \{x \in \mathbb{R} \mid x \geq 3\} \cap \{x \in \mathbb{R} \mid x \leq 5\} = \{x \in \mathbb{R} \mid 3 \leq x \leq 5\}.$$

2º) Se  $0 \leq x < 3$ , a inequação proposta é equivalente a:

$$-3x + 6 \leq 4 - x \Rightarrow -2x \leq -2 \Rightarrow x \geq 1.$$

## FUNÇÃO MODULAR

A solução  $S_2$  é:

$$S_2 = \{x \in \mathbb{R} \mid 0 \leq x < 3\} \cap \{x \in \mathbb{R} \mid x \geq 1\} = \{x \in \mathbb{R} \mid 1 \leq x < 3\}.$$

3º) Se  $x < 0$ , a inequação proposta é equivalente a:

$$-x + 6 \leq 4 - x \implies 6 \leq 4, \text{ que é absurdo. Logo a solução } S_3 \text{ é:}$$

$$S_3 = \emptyset.$$

A solução da inequação  $|2x - 6| - |x| \leq 4 - x$  é:

$$S = S_1 \cup S_2 \cup S_3$$

$$S = \{x \in \mathbb{R} \mid 3 \leq x \leq 5\} \cup \{x \in \mathbb{R} \mid 1 \leq x < 3\} \cup \emptyset$$

e portanto:

$$S = \{x \in \mathbb{R} \mid 1 \leq x \leq 5\}.$$

**404.** Resolva as seguintes inequações, em  $\mathbb{R}$ :

a)  $|x + 2| - |x - 3| > x$

e)  $|x + 2| + |2x - 2| > x + 8$

b)  $|3x + 2| - |2x - 1| > x + 1$

f)  $3\{|x + 1| - |x - 1|\} \leq 2x^2 - 4x$

c)  $|x - 2| - |x + 4| \leq 1 - x$

g)  $|x - 2| - |x + 3| > x^2 - 4x + 3$

d)  $|x + 2| + |2x - 3| < 10$

**405.** Resolva a desigualdade  $|x - 2| + |x - 4| \geq 6$ .

**406.** Qual é, em  $\mathbb{R}$ , o conjunto solução da desigualdade  $|x + 1| - |x| \leq x + 2$ ?



## LEITURA

## Boole e a Álgebra do Pensamento


Hygino H. Domingues

A lógica como ciência remonta a Aristóteles (384-322 a.C.), seu criador. No século XVII Descartes (1596-1650) e Leibniz (1646-1716) tencionaram dotá-la de padrões matemáticos, o que pressupõe uma simbologia e um cálculo formal próprios. O alcance dessa lógica seria universal, aplicável a todos os campos do conhecimento. Mas nenhum dos dois deixou sobre o assunto senão alguns escritos fragmentados. Inclusive a contribuição de Leibniz, embora específica, somente em 1901 se tornou conhecida.

Assim é que o marco inicial da lógica simbólica, embora Leibniz seja considerado seu fundador, está fincado no ano de 1847 com a publicação das obras *Mathematical analysis of Logic* de George Boole (1815-1864) e *Formal Logic* de Augustus De Morgan (1806-1871).

De família modesta, Boole nasceu em Lincoln, na Inglaterra. Sua instrução formal não passou dos graus básicos mas, dotado de grande inteligência, e vendo no conhecimento o caminho de seu gosto para ascender socialmente, enveredou pelo autodidatismo. De início aprendeu por si só latim e grego. Depois, como professor de uma escola elementar, resolveu ampliar seus conhecimentos de matemática, pondo-se a estudar, entre outras, as obras clássicas de Laplace e Lagrange. O interesse pela lógica certamente derivou de seu relacionamento com De Morgan, de quem ficara amigo. Sua obra citada, embora não lhe trouxesse grande fama, propiciou-lhe, dois anos depois de publicada, uma nomeação de professor no recém-criado Queens College, em Cork, Irlanda.

Em 1854 Boole lança sua obra-prima, *Investigation of the laws of thought* (*As leis do pensamento* — como usualmente é conhecida), na qual elucida e amplia as idéias de 1847. A finalidade era ainda expressar simbolicamente as leis do pensamento, visando poder usar de maneira mais direta e precisa a dedução lógica.



George Boole (1815-1864).

Boole procurava transformar certos processos elementares do raciocínio em axiomas da lógica. A chamada álgebra dos conjuntos ou álgebra de Boole, introduzida por ele em *As leis do pensamento*, dá bem uma idéia disso. Boole usava letras  $x, y, z, \dots$  para indicar partes (subconjuntos) de um conjunto tomado como universo. Se  $x$  e  $y$  denotavam duas dessas partes, o que hoje chamamos de *interseção* e *união*, Boole indicava por  $xy$  e  $x + y$ , respectivamente. (Os símbolos atuais  $\cap$  e  $\cup$  são devidos a Giuseppe Peano (1858-1932).) Na verdade, as uniões consideradas por Boole pressupunham partes disjuntas; a generalização, para o conceito atual, é devida a W.S. Jevons (1835-1882).

Assim, sendo óbvio para o espírito que  $xy = yx$  e  $x + y = y + x$ ,  $(xy)z = x(yz)$  e  $x + (y + z) = (x + y) + z$  e  $x(y + z) = xy + xz$ , essas leis foram tomadas como axiomas de sua álgebra. Até aí não há diferença entre as álgebras usuais e a de Boole, sob o aspecto estrutural. Mas nesta última há leis particulares como  $x^2 = xx = x$  e  $x + x = x$ . Ou ainda, simbolizando por  $I$  o conjunto universo (notação de Boole):  $I + I = I$ .

Um exemplo menos imediato envolve a lei do terceiro excluído. Por exemplo, se  $I$  indica o conjunto de todos os seres vivos e  $x$  o conjunto dos gatos, como  $I - x$  era para Boole o complemento de  $x$ , então  $x + (I - x) = I$  traduz a lei referida: todo ser vivo ou é gato ou não é gato.

Não passou despercebida a Boole a semelhança entre a álgebra dos conjuntos e a das proposições. Assim é que para duas proposições  $p$  e  $q$  indicava por  $pq$  a conjunção “ $p$  e  $q$ ” e por  $p + q$  a disjunção “ $p$  ou  $q$ ”. A afirmação  $x = I$  significa, nesse contexto, que  $x$  é verdadeira e  $x = 0$  que  $x$  é falsa. Mas Boole não foi longe com esse assunto.

Porém já tinha feito o bastante para ser considerado pelo grande matemático e filósofo galês deste século, Bertrand Russel (ver pag. 249), como o descobridor da matemática pura.



# Outras Funções Elementares

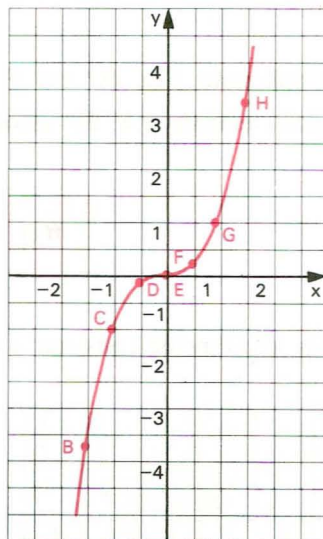
## I. Função $f(x) = x^3$

**135.** Fazemos um estudo da função  $f$ , de  $\mathbb{R}$  em  $\mathbb{R}$ , que associa a cada  $x \in \mathbb{R}$  o elemento  $x^3 \in \mathbb{R}$ .

$$f(x) = x^3$$

Vamos inicialmente construir a tabela:

x	$x^3$	ponto
-2	-8	A
$-\frac{3}{2}$	$-\frac{27}{8}$	B
-1	-1	C
$-\frac{1}{2}$	$-\frac{1}{8}$	D
0	0	E
$\frac{1}{2}$	$\frac{1}{8}$	F
1	1	G
$\frac{3}{2}$	$\frac{27}{8}$	H
2	8	I
$\frac{5}{2}$	$\frac{125}{8}$	J
3	27	K



Observemos que a função  $f(x) = x^3$ :

a) é uma função crescente em  $\mathbb{R}$ , isto é:

$$(\forall x_1 \in \mathbb{R}, \forall x_2 \in \mathbb{R}) (x_1 < x_2 \implies x_1^3 < x_2^3)$$

b) tem imagem  $Im = \mathbb{R}$  pois, qualquer que seja o  $y \in \mathbb{R}$ , existe  $x \in \mathbb{R}$  tal que  $y = x^3$ , isto é,  $x = \sqrt[3]{y}$ .

## EXERCÍCIO

**407.** Faça o esboço dos gráficos das seguintes funções definidas em  $\mathbb{R}$ .

a)  $f(x) = x^3 + 1$

e)  $f(x) = (2 - x)^3$

b)  $f(x) = -x^3$

f)  $f(x) = (x - 1)^3 - 1$

c)  $f(x) = 2 - x^3$

g)  $f(x) = 2 + (1 - x)^3$

d)  $f(x) = (x + 1)^3$

h)  $f(x) = |x^3|$

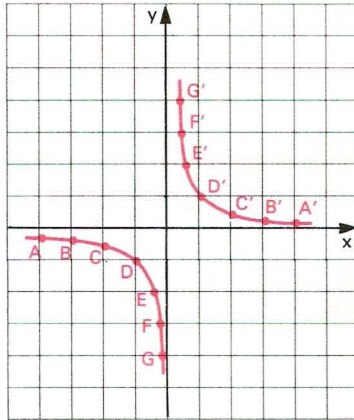
## II. Função recíproca

**136.** Uma aplicação  $f$  de  $\mathbb{R}^*$  em  $\mathbb{R}$  recebe o nome de *função recíproca* quando a cada elemento  $x \in \mathbb{R}^*$  associa o elemento  $\frac{1}{x}$ .

$$f(x) = \frac{1}{x}$$

Vamos inicialmente construir a tabela:

x	-4	-3	-2	-1	$-\frac{1}{2}$	$-\frac{1}{3}$	$-\frac{1}{4}$	$\frac{1}{4}$	$\frac{1}{3}$	$\frac{1}{2}$	1	2	3	4
$y = \frac{1}{x}$	$-\frac{1}{4}$	$-\frac{1}{3}$	$-\frac{1}{2}$	-1	-2	-3	-4	4	3	2	1	$\frac{1}{2}$	$\frac{1}{3}$	$\frac{1}{4}$
ponto	A	B	C	D	E	F	G	G'	F'	E'	D'	C'	B'	A'



Observemos que a função recíproca  $y = \frac{1}{x}$ :

- não é definida para  $x = 0$ ;
- tem imagem  $Im = \mathbb{R}^*$  pois, dado um número real  $y \neq 0$ , sempre existe um  $x$  também real tal que  $y = \frac{1}{x}$ ;
- tem por gráfico uma hipérbole equilátera\*).

## EXERCÍCIOS

**408.** Faça o esboço do gráfico das funções:

- $f(x) = -\frac{1}{x}$
- $f(x) = \frac{1}{2x}$
- $f(x) = -\frac{1}{2x}$
- $f(x) = \frac{1}{|x|}$

(\*) Isso está provado em nosso livro de Geometria Analítica desta coleção.

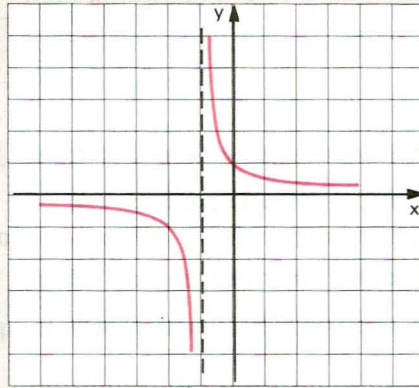


**409.** Faça o esboço do gráfico  $f(x) = \frac{1}{x+1}$ .

**Solução**

Vamos construir uma tabela da seguinte maneira: atribuímos valores a  $x+1$ , calculamos  $\frac{1}{x+1}$  e finalmente calculamos  $x$ :

$x$	$x+1$	$y = \frac{1}{x+1}$
-4	-3	$-\frac{1}{3}$
-3	-2	$-\frac{1}{2}$
-2	-1	-1
$-\frac{3}{2}$	$-\frac{1}{2}$	-2
$-\frac{4}{3}$	$-\frac{1}{3}$	-3
$-\frac{2}{3}$	$\frac{1}{3}$	3
$-\frac{1}{2}$	$\frac{1}{2}$	2
0	1	1
1	2	$\frac{1}{2}$
2	3	$\frac{1}{3}$



**410.** Faça o esboço gráfico das seguintes funções:

a)  $f(x) = \frac{1}{x-1}$

b)  $f(x) = \frac{1}{2-x}$

c)  $f(x) = \frac{1}{|x+2|}$

**411.** Faça o esboço gráfico das seguintes funções:

a)  $f(x) = \frac{x+3}{x+2}$

c)  $f(x) = \frac{x-1}{2-x}$

b)  $f(x) = \frac{x+1}{x-1}$

d)  $f(x) = \left| \frac{x-1}{x} \right|$

**412.** Faça o esboço gráfico da função  $f(x) = \frac{x}{x-1}$ .

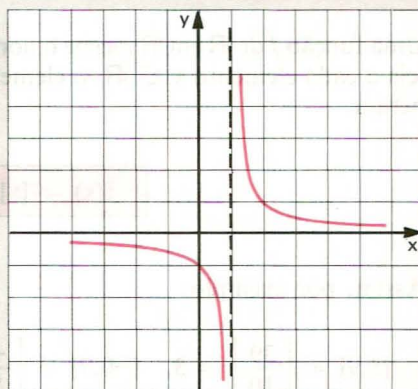
**Solução**

Observemos que:

$$\frac{x}{x-1} = \frac{x-1+1}{x-1} = \frac{x-1}{x-1} + \frac{1}{x-1} = 1 + \frac{1}{x-1}.$$

Vamos construir a tabela da seguinte maneira: atribuímos valores a  $x-1$ , calculamos  $1 + \frac{1}{x-1}$  e finalmente  $x$ .

$x$	$x-1$	$y = 1 + \frac{1}{x-1}$
-2	-3	$\frac{2}{3}$
-1	-2	$\frac{1}{2}$
0	-1	0
$\frac{1}{2}$	$-\frac{1}{2}$	-1
$\frac{2}{3}$	$-\frac{1}{3}$	-2
$\frac{4}{3}$	$\frac{1}{3}$	4
$\frac{3}{2}$	$\frac{1}{2}$	3
2	1	2
3	2	$\frac{3}{2}$
4	3	$\frac{4}{3}$



**413.** Calcule o valor aproximado da área limitada pela curva  $y = \frac{2}{x}$ , pelo eixo  $0x$  e pelas retas  $x = 1$  e  $x = 4$ . Use no cálculo três trapézios de bases contidas nas retas  $x = 1$ ,  $x = 2$ ,  $x = 3$  e  $x = 4$ .

**414.** Represente, graficamente, a função definida por:

a)  $f(x) = \frac{1}{4x - x^2 - 4}$

c)  $g(x) = \frac{1}{(x-2)^2}$

b)  $y = \frac{8}{x^2 + 4}$

- 415.** Determine os pontos de interseção das curvas  $y = \frac{1}{x^2}$  e  $y = x^2$  algébrica e graficamente.
- 416.** Chama-se *ponto fixo* de uma função  $f$  um número real  $x$  tal que  $f(x) = x$ . Calcule os pontos fixos da função  $f(x) = 1 + \frac{1}{x}$ .
- 417.** Esboce um gráfico e indique por meio de hachuras o conjunto dos pontos  $P(x, y) \in \mathbb{R}^2$  que satisfazem o seguinte sistema de desigualdades:
- $$\begin{cases} 0 \leq xy \leq 1 \\ x^2 + y^2 \leq 2 \end{cases}$$

### III. Função máximo inteiro

**137.** Uma função  $f$  de  $\mathbb{R}$  em  $\mathbb{R}$  recebe o nome de *função máximo inteiro* quando associa a cada elemento  $x \in \mathbb{R}$  o elemento  $[x]$ , que é o maior inteiro que não supera  $x$ .

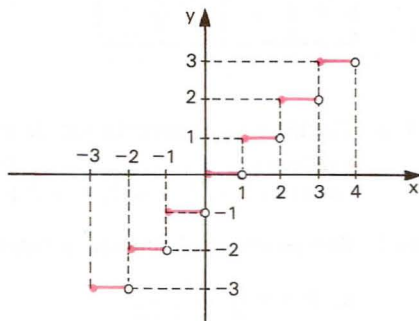
$$f(x) = [x]$$

Assim, por exemplo:

$$[3,9] = \left[ \frac{39}{10} \right] = 3, \quad [-0,7] = \left[ \frac{-7}{10} \right] = -1 \quad \text{e} \quad [4] = 4.$$

Para construirmos o gráfico, notemos que:

- $$\begin{aligned} -3 \leq x < -2 &\implies y = [x] = -3 \\ -2 \leq x < -1 &\implies y = [x] = -2 \\ -1 \leq x < 0 &\implies y = [x] = -1 \\ 0 \leq x < 1 &\implies y = [x] = 0 \\ 1 \leq x < 2 &\implies y = [x] = 1 \\ 2 \leq x < 3 &\implies y = [x] = 2 \\ 3 \leq x < 4 &\implies y = [x] = 3 \\ \text{etc.} \end{aligned}$$



A imagem da função máximo inteiro é o conjunto  $Im = \mathbb{Z}$ .

## EXERCÍCIOS

**418.** Construa o gráfico das seguintes funções definidas em  $\mathbb{R}$ .

a)  $f(x) = 2[x]$

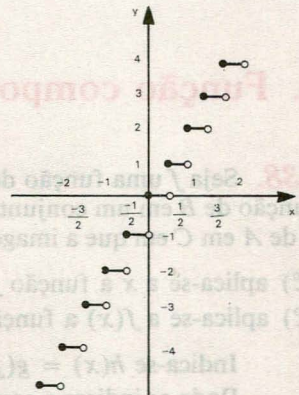
b)  $f(x) = -[x]$

**419.** Construa o gráfico da função real definida por  $f(x) = [2x]$ .

### Solução

Vamos construir uma tabela da seguinte maneira: atribuímos valores a  $2x$ , calculamos  $[2x]$  e finalmente  $x$ .

$x$	$2x$	$y = [2x]$
$-2 \leq x < -1,5$	$-4 \leq 2x < -3$	-4
$-1,5 \leq x < -1$	$-3 \leq 2x < -2$	-3
$-1 \leq x < -0,5$	$-2 \leq 2x < -1$	-2
$-0,5 \leq x < 0$	$-1 \leq 2x < 0$	-1
$0 \leq x < 0,5$	$0 \leq 2x < 1$	0
$0,5 \leq x < 1$	$1 \leq 2x < 2$	1
$1 \leq x < 1,5$	$2 \leq 2x < 3$	2
$1,5 \leq x < 2$	$3 \leq 2x < 4$	3
$2 \leq x < 2,5$	$4 \leq 2x < 5$	4



**420.** Construa os gráficos das seguintes funções definidas em  $\mathbb{R}$ :

a)  $f(x) = \left\lfloor \frac{x}{2} \right\rfloor$

e)  $f(x) = |[x]|$

b)  $f(x) = [-x]$

f)  $f(x) = [x]^2$

c)  $f(x) = [x - 1]$

g)  $f(x) = x - [x]$

d)  $f(x) = [|x|]$

h)  $f(x) = x + [x]$

# Função Composta Função Inversa

## I. Função composta

**138.** Seja  $f$  uma função de um conjunto  $A$  em um conjunto  $B$  e seja  $g$  uma função de  $B$  em um conjunto  $C$ . Chama-se *função composta* de  $g$  e  $f$  à função  $h$  de  $A$  em  $C$  em que a imagem de cada  $x$  é obtida pelo seguinte procedimento:

- 1º) aplica-se a  $x$  a função  $f$ , obtendo-se  $f(x)$
- 2º) aplica-se a  $f(x)$  a função  $g$ , obtendo-se  $g(f(x))$ .

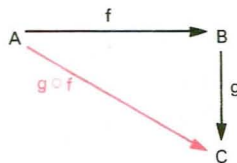
Indica-se  $h(x) = g(f(x))$  para todo  $x \in A$ .

Pode-se indicar a composta por  $g \circ f$  (lê-se: “ $g$  composta com  $f$ ” ou “ $g$  círculo  $f$ ”); portanto:

$$(g \circ f)(x) = g(f(x))$$

para todo  $x \in A$ .

Podemos representar também a composta  $g \circ f$  pelo diagrama.



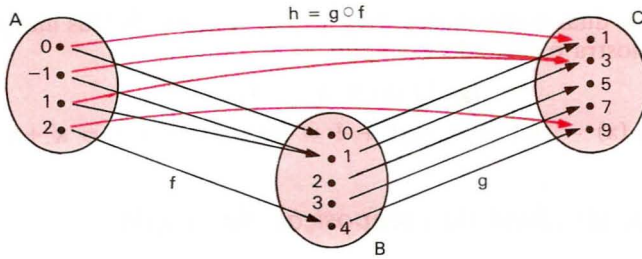
### Exemplos

1º) Sejam os conjuntos  $A = \{-1, 0, 1, 2\}$ ,  $B = \{0, 1, 2, 3, 4\}$  e  $C = \{1, 3, 5, 7, 9\}$  e as funções:

$f$ , de  $A$  em  $B$ , definida por  $f(x) = x^2$

$g$ , de  $B$  em  $C$ , definida por  $g(x) = 2x + 1$ .





Observemos por exemplo que:  $f(2) = 4, g(4) = 9$  e  $h(2) = 9$ , isto é,  $h(2) = (g \circ f)(2) = g(f(2)) = g(4) = 9$ .

Para obtermos a lei de correspondência da função composta  $h = g \circ f$ , fazemos assim:  $g(f(x))$  é obtida a partir de  $g(x)$  trocando-se  $x$  por  $f(x)$ .

No exemplo dado, temos:

$$h(x) = (g \circ f)(x) = g(f(x)) = 2 \cdot f(x) + 1 = 2x^2 + 1.$$

Se vamos calcular  $h(2)$ , fazemos deste modo:

$$h(2) = 2 \cdot 2^2 + 1 = 9.$$

2º) Sejam as funções reais  $f$  e  $g$  definidas por  $f(x) = x + 1$  e  $g(x) = x^2 + x + 1$ .

Notemos que a função composta  $h = g \circ f$  é definida por:

$$h(x) = (g \circ f)(x) = g(f(x)) = [f(x)]^2 + f(x) + 1 = (x + 1)^2 + (x + 1) + 1 = x^2 + 3x + 3.$$

### Observações

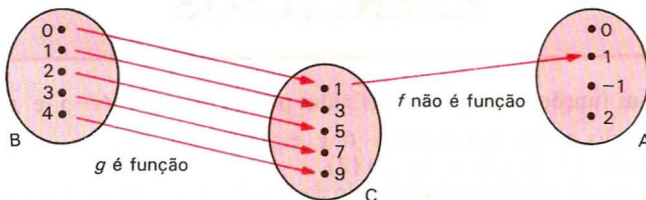
1ª) A composta  $g \circ f$  só está definida quando o contradomínio da  $f$  é igual ao domínio da  $g$ . Em particular, se as funções  $f$  e  $g$  são de  $A$  em  $A$ , então as compostas  $f \circ g$  e  $g \circ f$  estão definidas e são funções de  $A$  em  $A$ .

2ª) Notemos que, em geral,  $f \circ g \neq g \circ f$ , isto é, a composição de funções não é comutativa.

Podem acontecer que somente uma das funções  $f \circ g$  ou  $g \circ f$  esteja definida.

Assim, no primeiro exemplo, se tentarmos obter  $f \circ g$ , verificaremos que é impossível, pois:

$g$  é função de  $B$  em  $C$  mas  $f$  não é função de  $C$  em  $A$ .



3ª) As duas composições  $f \circ g$  e  $g \circ f$  estão definidas mas  $f \circ g \neq g \circ f$ , como nos mostra o segundo exemplo:

$$(g \circ f)(x) = x^2 + 3x + 3$$

$$(f \circ g)(x) = f(g(x)) = g(x) + 1 = (x^2 + x + 1) + 1 = x^2 + x + 2.$$

### 139. Associatividade da composição de funções

#### Teorema

Quaisquer que sejam as funções

$$A \xrightarrow{f} B \xrightarrow{g} C \xrightarrow{h} D$$

tem-se:

$$(h \circ g) \circ f = h \circ (g \circ f).$$

#### Demonstração

Consideremos um elemento qualquer  $x$  de  $A$  e coloquemos  $f(x) = y$ ,  $g(y) = w$  e  $h(w) = z$ ; temos:

$$((h \circ g) \circ f)(x) = (h \circ g)(f(x)) = (h \circ g)(y) = h(g(y)) = h(w) = z$$

e notemos que

$$(g \circ f)(x) = g(f(x)) = g(y) = w$$

portanto,

$$(h \circ (g \circ f))(x) = h((g \circ f)(x)) = h(w) = z$$

então, temos:

$$((h \circ g) \circ f)(x) = (h \circ (g \circ f))(x),$$

para todo  $x$  de  $A$ .

## EXERCÍCIOS

- 421.** Sejam as funções reais  $f$  e  $g$ , definidas por  $f(x) = x^2 + 4x - 5$  e  $g(x) = 2x - 3$ .
- Obtenha as leis que definem  $f \circ g$  e  $g \circ f$ .
  - Calcule  $(f \circ g)(2)$  e  $(g \circ f)(2)$ .
  - Determine os valores do domínio da função  $f \circ g$  que produzem imagem 16.

**Solução**

a) A lei que define  $f \circ g$  é obtida a partir da lei de  $f$ , trocando-se  $x$  por  $g(x)$ :

$$(f \circ g)(x) = f(g(x)) = [g(x)]^2 + 4[g(x)] - 5 = (2x - 3)^2 + 4(2x - 3) - 5$$

$$(f \circ g)(x) = 4x^2 - 4x - 8.$$

A lei que define  $g \circ f$  é obtida a partir da lei de  $g$ , trocando-se  $x$  por  $f(x)$ :

$$(g \circ f)(x) = g(f(x)) = 2 \cdot f(x) - 3 = 2(x^2 + 4x - 5) - 3$$

$$(g \circ f)(x) = 2x^2 + 8x - 13.$$

b) Calculemos  $f \circ g$  para  $x = 2$

$$(f \circ g)(2) = 4 \cdot 2^2 - 4 \cdot 2 - 8 = 0,$$

calculemos  $g \circ f$  para  $x = 2$

$$(g \circ f)(2) = 2 \cdot 2^2 + 8 \cdot 2 - 13 = 11.$$

c) O problema em questão, resume-se em resolver a equação

$$(f \circ g)(x) = 16$$

ou seja:

$$4x^2 - 4x - 8 = 16 \implies 4(x^2 - x - 6) = 0 \implies x = 3 \text{ ou } x = -2.$$

**422.** Sejam as funções reais  $f$  e  $g$ , definidas por  $f(x) = x^2 - x - 2$  e  $g(x) = 1 - 2x$ .

a) Obtenha as leis que definem  $f \circ g$  e  $g \circ f$ .

b) Calcule  $(f \circ g)(-2)$  e  $(g \circ f)(-2)$ .

c) Determine os valores do domínio da função  $f \circ g$  que produzem imagem 10.

**423.** Sejam as funções reais  $f$  e  $g$  definidas por  $f(x) = x^2 - 4x + 1$  e  $g(x) = x^2 - 1$ . Obtenha as leis que definem  $f \circ g$  e  $g \circ f$ .

**424.** Sejam as funções reais  $f$  e  $g$ , definidas por  $f(x) = 2$  e  $g(x) = 3x - 1$ . Obtenha as leis que definem  $f \circ g$  e  $g \circ f$ .

**425.** Nas funções reais  $f$  e  $g$ , definidas por  $f(x) = x^2 + 2$  e  $g(x) = x - 3$ , obtenha as leis que definem:

a)  $f \circ g$

b)  $g \circ f$

c)  $f \circ f$

d)  $g \circ g$

**426.** Considere a função em  $\mathbb{R}$  definida por  $f(x) = x^3 - 3x^2 + 2x - 1$ . Qual é a lei que define  $f(-x)$ ? E  $f\left(\frac{1}{x}\right)$ ? E  $f(x - 1)$ ?

**427.** Dadas as funções reais definidas por  $f(x) = 3x + 2$  e  $g(x) = 2x + a$ , determine o valor de  $a$  de modo que se tenha  $f \circ g = g \circ f$ .

**428.** Se  $f(x) = x^3$  e  $g(x) = x^4$ , mostre que  $f \circ g = g \circ f$ .

- 429.** Sejam as funções  $f(x) = x^2 + 2x + 3$  e  $g(x) = x^2 + ax + b$ . Mostre que, se  $f \circ g = g \circ f$ , então  $f = g$ .
- 430.** Sejam as funções definidas por  $f(x) = \sqrt{x}$  e  $g(x) = x^2 - 3x - 4$ . Determine os domínios das funções  $f \circ g$  e  $g \circ f$ .

**Solução**

- a)  $(f \circ g)(x) = f(g(x)) = \sqrt{g(x)} = \sqrt{x^2 - 3x - 4}$ .  
 Para que exista  $(f \circ g)(x) \in \mathbb{R}$ , devemos ter  $x^2 - 3x - 4 \geq 0$ , isto é:  
 $x \leq -1$  ou  $x \geq 4$ . Então:  
 $D(f \circ g) = \{x \in \mathbb{R} \mid x \leq -1 \text{ ou } x \geq 4\}$ .
- b)  $(g \circ f)(x) = g(f(x)) = [g(x)]^2 - 3 \cdot g(x) - 4 = |x| - 3\sqrt{x} - 4$ .  
 Para que exista  $(g \circ f)(x) \in \mathbb{R}$ , devemos ter  $x \geq 0$ . Então:  
 $D(g \circ f) = \{x \in \mathbb{R} \mid x \geq 0\}$ .

- 431.** Sejam  $f(x) = \sqrt{x-1}$  e  $g(x) = 2x^2 - 5x + 3$ . Determine os domínios das funções  $f \circ g$  e  $g \circ f$ .
- 432.** Sejam as funções  $f(x) = \frac{x+1}{x-2}$  definida para todo  $x$  real e  $x \neq 2$  e  $g(x) = 2x + 3$  definida para todo  $x$  real. Forneça:  
 a) o domínio e a lei que define  $f \circ g$ ;  
 b) o domínio e a lei que define  $g \circ f$ .
- 433.** Sejam as funções reais  $f(x) = 2x + 1$ ,  $g(x) = x^2 - 1$  e  $h(x) = 3x + 2$ . Obtenha a lei que define  $(h \circ g) \circ f$ .
- 434.** Sejam as funções reais  $f(x) = 1 - x$ ,  $g(x) = x^2 - x + 2$  e  $h(x) = 2x + 3$ . Obtenha a lei que define  $h \circ (g \circ f)$ .
- 435.** Sendo  $f(x) = \sqrt{1 - 4x^2}$  e  $g(\theta) = \text{sen } 2\theta$ , encontre os valores de  $\theta$  para os quais  $f \circ g$  se anula.  
**Observação:**  $f \circ g$  significa  $f$  composta com  $g$ .
- 436.** Considere as funções

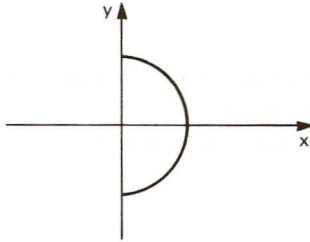
$$\begin{aligned} f(x) &= 2x + 3 \\ g(x) &= ax + b. \end{aligned}$$

Determine o conjunto  $C$ , dos pontos  $(a, b) \in \mathbb{R}^2$  tais que  $f \circ g = g \circ f$ .

- 437.** Dadas as funções  $f(x) = 2x + m$  e  $g(x) = ax + 2$ , qual é a relação que  $a$  e  $m$  devem satisfazer para que se tenha  $(f \circ g)(x) = (g \circ f)(x)$ ?

**438.** Julgue os itens abaixo.

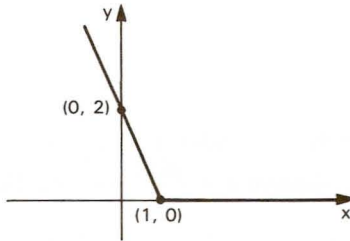
a) A figura abaixo é gráfico de uma função definida para  $y = f(x)$ .



b) Se  $f(x) = x^2 - 2x + 1$ , então  $f(a + 1) = f(1 - a)$ .

c) Se  $A = \{1, 2, 3\}$  e  $B = \{1, 4, 7\}$ , pode-se afirmar que o número de funções de  $A$  para  $B$  é igual a 3.

d) A representação gráfica de  $f: \mathbb{R} \rightarrow \mathbb{R}$  definida por  $f(x) = |x-1| - (x-1)$  é o gráfico abaixo.



e) Para todo  $x > 0$  temos que, se  $f(x) = \frac{1}{x}$ , então  $f(x) < 1$ .

f) Se  $f$  é uma função definida para todo inteiro tal que  $f(0) = 1$ ,  $f(n + 1) = f(n) + 3$ , então  $f(300) = 901$ .

**439.** Dadas  $f(x) = 3$  e  $g(x) = x^2$ , determine  $f(g(x))$ .

**440.** Se  $f(x) = \frac{1}{1-x}$ , determine  $(f \circ [f \circ f])(x)$ .

**441.** Dadas as funções  $f$ ,  $g$  e  $h$ , de  $\mathbb{R}$  em  $\mathbb{R}$ , definidas por  $f(x) = 3x$ ,  $g(x) = x^2 - 2x + 1$  e  $h(x) = x + 2$ , obtenha  $((h \circ f) \circ g)(2)$ .

**442.** Dada a aplicação  $f: \mathbb{Q} \rightarrow \mathbb{Q}$  definida por  $f(x) = x^2 - 2$ , qual é o valor de  $x$  tal que  $f(x) = f(x + 1)$ ?

**443.** Sejam  $f$  e  $g$  funções de  $\mathbb{R}$  em  $\mathbb{R}$  tais que  $f(x) = ax + b$  e  $g(x) = cx + d$ . Determine a relação entre  $a$ ,  $b$ ,  $c$  e  $d$ , de modo que  $f \circ g = g \circ f$ .



- 444.** Sejam as funções reais  $f(x) = 3x - 5$  e  $(f \circ g)(x) = x^2 - 3$ . Determine a lei da função  $g$ .

**Solução**

Se  $f(x) = 3x - 5$ , então trocando-se  $x$  por  $g(x)$  temos:

$$(f \circ g)(x) = f(g(x)) = 3 \cdot g(x) - 5$$

mas é dado que:  $(f \circ g)(x) = x^2 - 3$ , então

$$3 \cdot g(x) - 5 = x^2 - 3$$

ou seja:

$$g(x) = \frac{x^2 + 2}{3}.$$

- 445.** Sejam as funções reais  $f(x) = 2x + 7$  e  $(f \circ g)(x) = x^2 - 2x + 3$ . Determine a lei da função  $g$ .

- 446.** Sejam as funções reais  $g(x) = 3x - 2$  e  $(f \circ g)(x) = 9x^2 - 3x + 1$ . Determine a lei da função  $f$ .

**Solução**

Se  $(f \circ g)(x) = 9x^2 - 3x + 1$ , então  $f(g(x)) = 9x^2 - 3x + 1$ .

Como  $g(x) = 3x - 2$ , decorre  $x = \frac{g(x) + 2}{3}$  e então:

$$\begin{aligned} f(g(x)) &= 9 \left[ \frac{g(x) + 2}{3} \right]^2 - 3 \cdot \left[ \frac{g(x) + 2}{3} \right] + 1 = [g(x)]^2 + 4g(x) + 4 - g(x) - 2 + 1 = \\ &= [g(x)]^2 + 3 \cdot g(x) + 3; \text{ logo, } f(x) = x^2 + 3x + 3. \end{aligned}$$

- 447.** Sejam as funções reais  $g(x) = 2x - 3$  e  $(f \circ g)(x) = 2x^2 - 4x + 1$ . Determine a lei da função  $f$ .

- 448.** Sejam as funções reais  $g(x) = 2x + 3$  definida para todo  $x$  real e  $(f \circ g)(x) = \frac{2x + 5}{x + 1}$  definida para todo  $x$  real. Determine a lei da função  $f$ .

- 449.** Se  $f: \mathbb{R} \rightarrow \mathbb{R}$  é da forma  $f(x) = ax + b$  e verifica  $f(f(x)) = x + 1$  para todo  $x$  real, calcule os valores de  $a$  e  $b$ .

- 450.** Considere as funções

$$f: \mathbb{R} \rightarrow \mathbb{R} \\ x \mapsto 2x + b$$

e

$$g: \mathbb{R} \rightarrow \mathbb{R} \\ x \mapsto x^2$$

em que  $b$  é uma constante. Conhecendo a composta

$$\begin{aligned} g \circ f : \mathbb{R} &\rightarrow \mathbb{R} \\ x &\mapsto g(f(x)) = 4x^2 - 12x + 9 \end{aligned}$$

calcule o valor de  $b$ .

- 451.** Se  $f(x + 1) = \frac{3x + 5}{2x + 1}$  ( $x \neq \frac{-1}{2}$ ), qual é o domínio da função  $f(x)$  no conjunto dos números reais?
- 452.** Sejam as funções reais,  $g(x) = 2x + 3$  definida para todo  $x$  real e  $g(f(x)) = \frac{2x + 5}{x + 1}$  definida para todo  $x$  real e  $x \neq -1$ . Calcule  $f\left(\frac{-12}{15}\right)$ .
- 453.** Se  $g(f(x)) = x^2 + 13x + 42$  e  $g(x) = x^2 - x$ , determine o termo independente de “ $x$ ” na expressão de  $f(x)$ , sabendo que  $f(x)$  é um polinômio com coeficientes positivos.
- 454.** Sejam  $f$  e  $g$  funções de  $\mathbb{R}$  em  $\mathbb{R}$ , definidas por  $f(x) = 2x + k$  e  $g(x) = -x + t$ . Sabendo que  $f(f(x)) = 4x - 3$  e  $f(g(x)) = g(f(x))$ , determine:
- os valores de  $k$  e  $t$ ;
  - os números reais  $x$ , tais que  $\frac{f(x)}{g(x)} \leq 0$ .
- 455.** Sejam  $f$  e  $g$  funções reais definidas por

$$f(x) = \begin{cases} x^2 + 2x + 4 & \text{se } x \geq 1 \\ 3x + 4 & \text{se } x < 1 \end{cases} \quad \text{e} \quad g(x) = x - 3.$$

Obtenha a lei que define  $f \circ g$ .

### Solução

Fazendo  $g(x) = y$ , temos  $(f \circ g)(x) = f(g(x)) = f(y)$ .

Temos de examinar dois casos:

1º)  $y \geq 1$

$$y \geq 1 \Leftrightarrow g(x) \geq 1 \Leftrightarrow x - 3 \geq 1 \Leftrightarrow x \geq 4$$

$$y \geq 1 \Rightarrow f(y) = y^2 + 2y + 4 \Rightarrow f(g(x)) = (g(x))^2 + 2 \cdot g(x) + 4 \Rightarrow$$

$$\Rightarrow (f \circ g)(x) = (x - 3)^2 + 2(x - 3) + 4 = x^2 - 4x + 7.$$

2º)  $y < 1$

$$y < 1 \Leftrightarrow g(x) < 1 \Leftrightarrow x - 3 < 1 \Leftrightarrow x < 4$$

$$y < 1 \Rightarrow f(y) = 3y + 4 \Rightarrow f(g(x)) = 3 \cdot g(x) + 4 \Rightarrow$$

$$\Rightarrow (f \circ g)(x) = 3(x - 3) + 4 = 3x - 5$$

Conclusão:  $(f \circ g)(x) = \begin{cases} x^2 - 4x + 7, & \text{se } x \geq 4 \\ 3x - 5, & \text{se } x < 4. \end{cases}$

**456.** Sejam  $f$  e  $g$  as funções reais definidas por

$$f(x) = \begin{cases} x^2 - 4x + 3 & \text{se } x \geq 2 \\ 2x - 3 & \text{se } x < 2 \end{cases} \quad \text{e} \quad g(x) = 2x + 3.$$

Obtenha as leis que definem  $f \circ g$  e  $g \circ f$ .

**457.** Sejam as funções reais  $f$  e  $g$  definidas por

$$f(x) = \begin{cases} x^2 + 2 & \text{se } x \leq -1 \\ \frac{1}{x-2} & \text{se } -1 < x < 1 \\ 4 - x^2 & \text{se } x \geq 1 \end{cases}$$

e  $g(x) = 2 - 3x$ .

Obtenha as leis que definem  $f \circ g$  e  $g \circ f$ .

**458.** Sejam as funções reais  $f$  e  $g$  definidas por

$$f(x) = \begin{cases} 4x - 3 & \text{se } x \geq 0 \\ x^2 - 3x + 2 & \text{se } x < 0 \end{cases} \quad \text{e} \quad g(x) = \begin{cases} x + 1 & \text{se } x > 2 \\ 1 - x^2 & \text{se } x \leq 2 \end{cases}$$

Obtenha as leis que definem  $f \circ g$  e  $g \circ f$ .

**459.** Sejam as funções reais  $g$  e  $f \circ g$  definidas por  $g(x) = 2x - 3$  e

$$(f \circ g)(x) = \begin{cases} 4x^2 - 6x - 1 & \text{se } x \geq 1 \\ 4x + 3 & \text{se } x < 1 \end{cases}$$

Obtenha a lei que define  $f$ .

## II. Função sobrejetora

**140.** Uma função  $f$  de  $A$  em  $B$  é sobrejetora se, e somente se, para todo  $y$  pertencente a  $B$  existe um elemento  $x$  pertencente a  $A$  tal que

$$f(x) = y.$$

Em símbolos:

$$\begin{array}{l} f: A \rightarrow B \\ f \text{ é sobrejetora} \iff \forall y, y \in B, \exists x, x \in A \mid f(x) = y \end{array}$$

Notemos que  $f: A \rightarrow B$  é sobrejetora se, e somente se,  $Im(f) = B$ .

$$\begin{array}{l} f: A \rightarrow B \\ f \text{ é sobrejetora} \iff Im(f) = B \end{array}$$

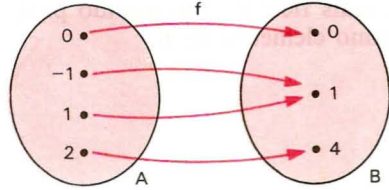
Em lugar de dizermos “ $f$  é uma função sobrejetora de  $A$  em  $B$ ”, poderemos dizer “ $f$  é uma *sobrejeção* de  $A$  em  $B$ ”.

*Exemplos*

1º) A função  $f$  de

$A = \{-1, 0, 1, 2\}$  em  $B = \{0, 1, 4\}$  definida pela lei  $f(x) = x^2$  é sobrejetora, pois, para todo elemento  $y \in B$ , existe o elemento  $x \in A$  tal que  $y = x^2$ .

Observemos que para todo elemento de  $B$  converge pelo menos uma flecha.



2º) A função  $f$  de  $A = \mathbb{R}$  em  $B = \{y \in \mathbb{R} \mid y \geq 1\}$  definida por  $f(x) = x^2 + 1$  é sobrejetora, pois, para todo  $y \in B$ , existe  $x \in A$  tal que  $y = x^2 + 1$ , bastando para isso tomar  $x = \sqrt{y - 1}$  ou  $x = -\sqrt{y - 1}$ .

### III. Função injetora

**141.** Uma função  $f$  de  $A$  em  $B$  é injetora se, e somente se, quaisquer que sejam  $x_1$  e  $x_2$  de  $A$ , se  $x_1 \neq x_2$ , então  $f(x_1) \neq f(x_2)$ .

Em símbolos:

$$f: A \rightarrow B$$

$$f \text{ é injetora} \Rightarrow (\forall x_1, x_1 \in A, \forall x_2, x_2 \in A)(x_1 \neq x_2 \Rightarrow f(x_1) \neq f(x_2))$$

Notemos que a definição proposta é equivalente a: uma função  $f$  de  $A$  em  $B$  é injetora se, e somente se, quaisquer que sejam  $x_1$  e  $x_2$  de  $A$ , se  $f(x_1) = f(x_2)$ , então  $x_1 = x_2$ .

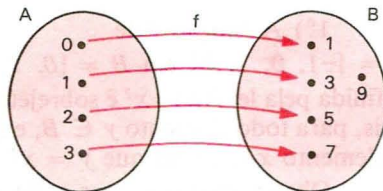
$$f: A \rightarrow B$$

$$f \text{ é injetora} \Leftrightarrow (\forall x_1, x_1 \in A, \forall x_2, x_2 \in A)(f(x_1) = f(x_2) \Rightarrow x_1 = x_2)$$

Em lugar de dizermos “ $f$  é uma função injetora de  $A$  em  $B$ ”, poderemos dizer “ $f$  é uma *injeção* de  $A$  em  $B$ ”.

*Exemplos*

1º) A função  $f$  de  $A = \{0, 1, 2, 3\}$  em  $B = \{1, 3, 5, 7, 9\}$  definida pela lei  $f(x) = 2x + 1$  é injetora, pois dois elementos distintos de  $A$  têm como imagem dois elementos distintos de  $B$ . Observemos que não existem duas ou mais flechas convergindo para um mesmo elemento de  $B$ .



2º) A função de  $A = \mathbb{N}$  em  $B = \mathbb{N}$  definida por  $f(x) = 2x$  é injetora, pois, quaisquer que sejam  $x_1$  e  $x_2$  de  $\mathbb{N}$ , se  $x_1 \neq x_2$ , então  $2x_1 \neq 2x_2$ .

3º) A função de  $A = \mathbb{R}^*$  em  $B = \mathbb{R}$  definida por  $f(x) = \frac{1}{x}$  é injetora, pois, quaisquer que sejam  $x_1$  e  $x_2$  de  $\mathbb{R}^*$ , se  $x_1 \neq x_2$ , então  $\frac{1}{x_1} \neq \frac{1}{x_2}$ .

## IV. Função bijetora

**142.** Uma função  $f$  de  $A$  em  $B$  é bijetora se, e somente se,  $f$  é sobrejetora e injetora.

Em símbolos:

$$f: A \rightarrow B$$

$$f \text{ é bijetora} \implies f \text{ é sobrejetora e injetora}$$

A definição acima é equivalente a: uma função  $f$  de  $A$  em  $B$  é bijetora se, e somente se, para qualquer elemento  $y$  pertencente a  $B$ , existe um único elemento  $x$  pertencente a  $A$  tal que  $f(x) = y$ .

$$f: A \rightarrow B$$

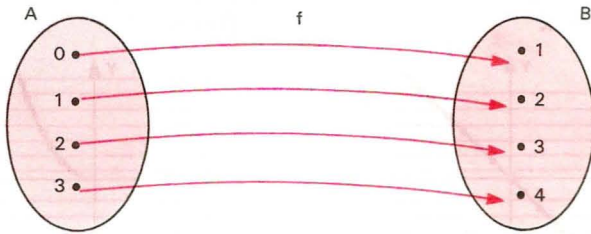
$$f \text{ é bijetora} \iff \forall y, y \in B, \exists! x, x \in A \mid f(x) = y$$

Em lugar de dizermos “ $f$  é uma função bijetora de  $A$  em  $B$ ”, poderemos dizer “ $f$  é uma *bijeção* de  $A$  em  $B$ ”.



**Exemplos**

1º) A função  $f$  de  $A = \{0, 1, 2, 3\}$  em  $B = \{1, 2, 3, 4\}$  definida por  $f(x) = x + 1$  é bijetora



pois  $f$  é sobrejetora e injetora, isto é, para todo elemento  $y \in B$ , existe um único elemento  $x \in A$ , tal que  $y = x + 1$ . Observemos que para cada elemento de  $B$  converge uma só flecha.

2º) A função  $f$  de  $A = \mathbb{R}$  em  $B = \mathbb{R}$  definida por  $f(x) = 3x + 2$  é bijetora, pois:

- I) qualquer que seja  $y \in \mathbb{R}$ , existe  $x \in \mathbb{R}$  tal que  $y = 3x + 2$ , basta tomarmos  $x = \frac{y - 2}{3}$ . Logo,  $f$  é sobrejetora;
- II) quaisquer que sejam  $x_1$  e  $x_2$  de  $\mathbb{R}$ , se  $x_1 \neq x_2$ , então  $3x_1 + 2 \neq 3x_2 + 2$ , isto é,  $f$  é injetora.

**Observação**

Observemos que existem funções que não são sobrejetoras nem injetoras. Assim, por exemplo, a função de  $\mathbb{R}$  em  $\mathbb{R}$  definida por  $f(x) = |x|$ :

- I) dado  $y \in \mathbb{R}^*$ , não existe  $x \in \mathbb{R}$  tal que  $y = |x|$ , portanto  $f$  não é sobrejetora;
- II) Existem  $x_1$  e  $x_2$  em  $\mathbb{R}$ ,  $x_1$  e  $x_2$  opostos (e portanto  $x_1 \neq x_2$ ) tais que  $|x_1| = |x_2|$ , isto é,  $f$  não é injetora.

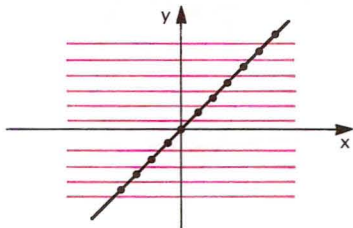
**143. Reconhecimento através do gráfico**

Pela representação cartesiana de uma função  $f$  podemos verificar se  $f$  é injetora ou sobrejetora ou bijetora. Para isso, basta analisarmos o número de pontos de interseção das retas paralelas ao eixo dos  $x$ , conduzidas por cada ponto  $(0, y)$  em que  $y \in B$  (contradomínio de  $f$ ).

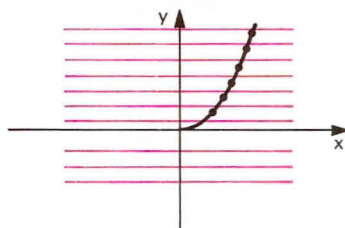
1º) Se cada uma dessas retas cortar o gráfico em um só ponto ou não cortar o gráfico, então a função é *injetora*.

*Exemplos*

a)  $f: \mathbb{R} \rightarrow \mathbb{R}$   
 $f(x) = x$



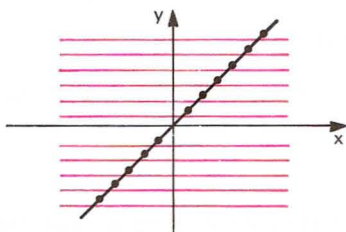
b)  $f: \mathbb{R}_+ \rightarrow \mathbb{R}$   
 $f(x) = x^2$



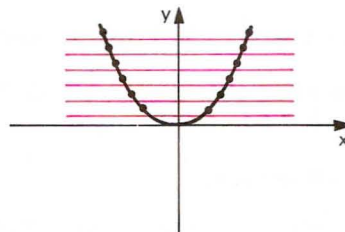
2º) Se cada uma das retas cortar o gráfico em um ou mais pontos, então a função é *sobrejetora*.

*Exemplos*

a)  $f: \mathbb{R} \rightarrow \mathbb{R}$   
 $f(x) = x - 1$



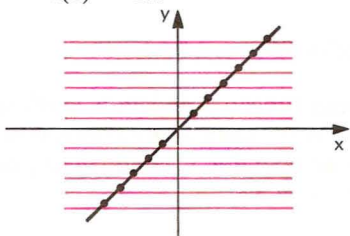
b)  $f: \mathbb{R} \rightarrow \mathbb{R}_+$   
 $f(x) = x^2$



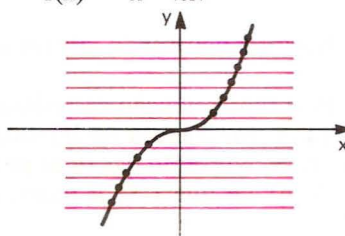
3º) Se cada uma dessas retas cortar o gráfico em um só ponto, então a função é *bijetora*.

*Exemplos*

a)  $f: \mathbb{R} \rightarrow \mathbb{R}$   
 $f(x) = 2x$



b)  $f: \mathbb{R} \rightarrow \mathbb{R}$   
 $f(x) = x \cdot |x|$



**Resumo**

Dada a função  $f$  de  $A$  em  $B$ , consideram-se as retas horizontais por  $(0, y)$  com  $y \in B$ :

- 1º) se nenhuma reta corta o gráfico mais de uma vez, então  $f$  é *injetora*.
- 2º) se toda reta corta o gráfico, então  $f$  é *sobrejetora*.
- 3º) se toda reta corta o gráfico em um só ponto, então  $f$  é *bijetora*.

**144. Composta de sobrejetoras***Teorema*

Se duas funções  $f$  de  $A$  em  $B$  e  $g$  de  $B$  em  $C$  são sobrejetoras, então a função composta  $g \circ f$  de  $A$  em  $C$  é também sobrejetora.

*Demonstração*

A função  $g$  é sobrejetora; então, para todo  $z$  de  $C$ , existe  $y$  em  $B$  tal que  $g(y) = z$  e a função  $f$  é sobrejetora, isto é, dado  $y$  em  $B$ , existe  $x$  em  $A$  tal que  $f(x) = y$ .

Logo, para todo  $z$  em  $C$ , existe  $x$  em  $A$  tal que

$$z = g(y) = g(f(x)) = (g \circ f)(x)$$

o que prova que  $g \circ f$  é sobrejetora.

**145. Composta de injetoras***Teorema*

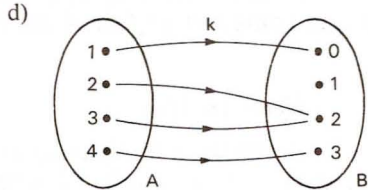
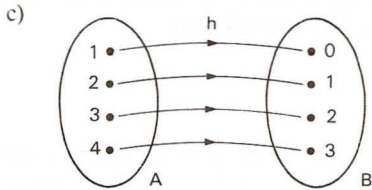
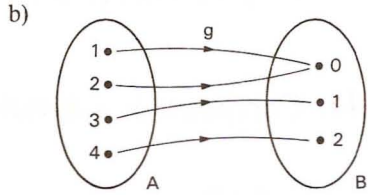
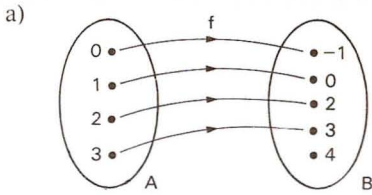
Se duas funções  $f$  de  $A$  em  $B$  e  $g$  de  $B$  em  $C$  são injetoras, então a função composta  $g \circ f$  de  $A$  em  $C$  é também injetora.

*Demonstração*

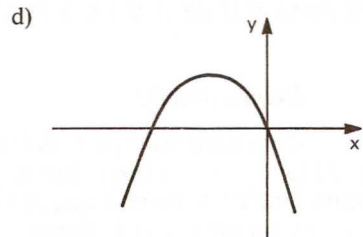
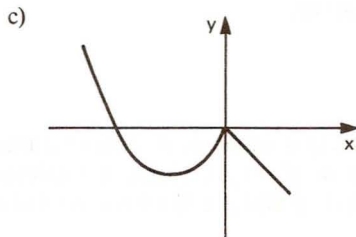
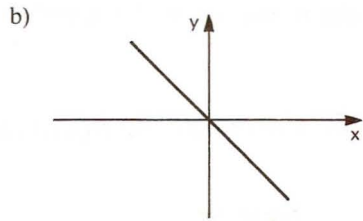
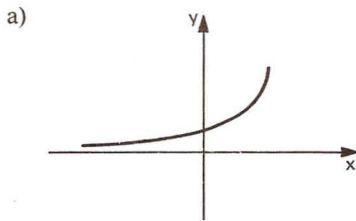
Consideremos  $x_1$  e  $x_2$  dois elementos quaisquer de  $A$  e suponhamos que  $(g \circ f)(x_1) = (g \circ f)(x_2)$ , isto é,  $g(f(x_1)) = g(f(x_2))$ . Como  $g$  é injetora, da última igualdade resulta que  $f(x_1) = f(x_2)$ ; como  $f$  é também injetora, vem  $x_1 = x_2$ ; portanto,  $g \circ f$  é injetora.

# EXERCÍCIOS

**460.** Indique qual das funções abaixo é injetora, sobrejetora ou bijetora?



**461.** Para as funções em  $\mathbb{R}$  abaixo representadas, qual é injetora? E sobrejetora? E bijetora?



**462.** Nas funções seguintes classifique em:

- |                 |                                    |
|-----------------|------------------------------------|
| I) injetora     | III) bijetora                      |
| II) sobrejetora | IV) não é sobrejetora nem injetora |
- a)  $f: \mathbb{R} \rightarrow \mathbb{R}$  tal que  $f(x) = 2x + 1$   
 b)  $g: \mathbb{R} \rightarrow \mathbb{R}_+$  tal que  $g(x) = 1 - x^2$   
 c)  $h: \mathbb{R} \rightarrow \mathbb{R}_+$  tal que  $h(x) = |x - 1|$   
 d)  $m: \mathbb{N} \rightarrow \mathbb{N}$  tal que  $m(x) = 3x + 2$   
 e)  $n: \mathbb{R} \rightarrow \mathbb{Z}$  tal que  $n(x) = [x]$   
 f)  $p: \mathbb{R}^* \rightarrow \mathbb{R}^*$  tal que  $p(x) = \frac{1}{x}$   
 g)  $q: \mathbb{R} \rightarrow \mathbb{R}$  tal que  $q(x) = x^3$   
 h)  $r: \mathbb{R} \rightarrow \mathbb{R}$  tal que  $r(x) = |x| \cdot (x - 1)$

**463.** Determine o valor de  $b$  em  $B = \{y \in \mathbb{R} \mid y \geq b\}$  de modo que a função  $f$  de  $\mathbb{R}$  em  $B$ , definida por  $f(x) = x^2 - 4x + 6$ , seja sobrejetora.

**464.** Determine o maior valor de  $a$  em  $A = \{x \in \mathbb{R} \mid x \leq a\}$  de modo que a função  $f$  de  $A$  em  $\mathbb{R}$ , definida por  $f(x) = 2x^2 - 3x + 4$ , seja injetora.

**465.** Seja a função de  $A = \{x \in \mathbb{R} \mid -5 \leq x < 2\}$  em  $B \subset \mathbb{R}$ , definida por  $f(x) = |x + 3| - 2$ . Se  $f$  é sobrejetora, determine  $B$ .

**466.** Determine o conjunto  $B$  de modo que a função  $f: [-1, 2] \rightarrow B$ , definida por  $f(x) = |2x - 3|$ , seja sobrejetiva. Esta função é injetiva? Justifique.

**467.** Nas funções seguintes, classifique em:

- |                 |                                    |
|-----------------|------------------------------------|
| I) injetora     | III) bijetora                      |
| II) sobrejetora | IV) não é injetora nem sobrejetora |

- a)  $f: \mathbb{R} \rightarrow \mathbb{R}$   

$$f(x) = \begin{cases} x^2 & \text{se } x \geq 0 \\ x & \text{se } x < 0 \end{cases}$$
- b)  $g: \mathbb{R} \rightarrow \mathbb{R}$   

$$g(x) = \begin{cases} x - 1 & \text{se } x \geq 1 \\ 0 & \text{se } -1 < x < 1 \\ x + 1 & \text{se } x \leq -1 \end{cases}$$
- c)  $h: \mathbb{R} \rightarrow \mathbb{R}$   

$$h(x) = \begin{cases} 3x - 2 & \text{se } x \geq 2 \\ x - 2 & \text{se } x < 2 \end{cases}$$
- d)  $m: \mathbb{R} \rightarrow \mathbb{R}$   

$$m(x) = \begin{cases} 4 - x^2 & \text{se } x \leq 1 \\ x^2 - 6x + 8 & \text{se } x > 1 \end{cases}$$
- e)  $n: \mathbb{N} \rightarrow \mathbb{N}$   

$$n(x) = \begin{cases} x & \text{se } x \text{ é par} \\ \frac{x + 1}{2} & \text{se } x \text{ é ímpar} \end{cases}$$
- f)  $p: \mathbb{R} \rightarrow \mathbb{Q}$   

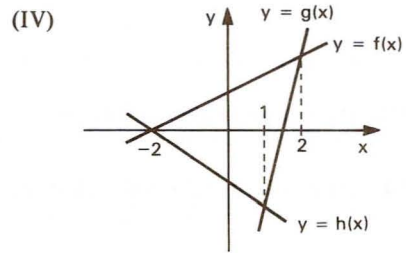
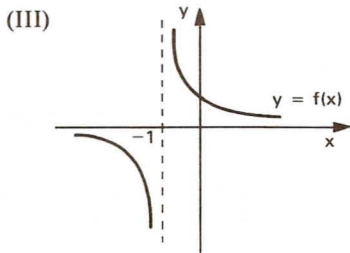
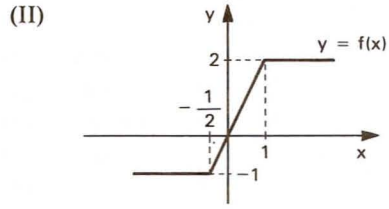
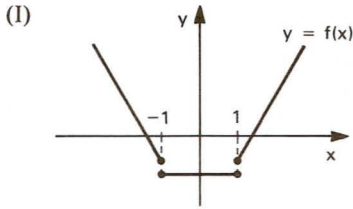
$$p(x) = \begin{cases} 2x & \text{se } x \in \mathbb{Q} \\ [x] & \text{se } x \in (\mathbb{R} - \mathbb{Q}) \end{cases}$$

**468.** Classifique em injetora, sobrejetora ou bijetora a aplicação  $f: \mathbb{N} \rightarrow \mathbb{N}$  definida por

$$f(n) = \begin{cases} \frac{n}{2} & \text{se } n \text{ é par} \\ \frac{n + 1}{2} & \text{se } n \text{ é ímpar} \end{cases}$$

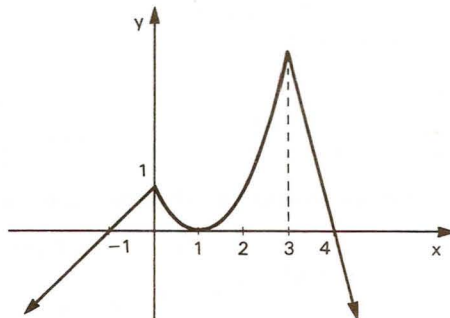


**469.** Observando os gráficos, julgue os itens seguintes.



- O domínio da função em (I) é  $\{x \in \text{reais} \mid x \neq -1 \text{ ou } x \neq 1\}$ .
- A imagem da função em (II) é  $\{y \in \text{reais} \mid -1 < y < 2\}$ .
- A função em (III) é decrescente no intervalo  $(-1, +\infty)$ .
- Com relação a (IV), podemos dizer que  $h(x) < g(x) \leq f(x)$  para  $1 < x \leq 2$ .
- A função em (I) é injetora.
- Em (II)  $f(0) = 0$  e  $f(-1) = \frac{-1}{2}$ .
- Em (III) a função é negativa para  $x < -1$  e positiva para  $x > -1$ .

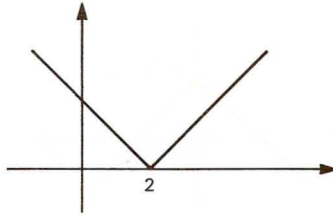
**470.** Com relação ao gráfico de uma função  $y = f(x)$ , representado abaixo, pode-se afirmar que:



- a) o domínio da função é o conjunto dos números reais.
- b) a imagem da função é o conjunto dos números reais.
- c) a função é crescente no intervalo  $(-\infty, 1]$ .
- d) a função é injetora em todo o seu domínio.
- e)  $f(1) = 0$  e  $f(5) < 0$ .
- f)  $\left(\frac{1}{2}\right) < 1$  e  $f\left(-\frac{1}{2}\right) < 1$ .
- g) sabendo que no intervalo  $[0, 3]$  a curva representa um arco de parábola, podemos concluir que a equação dessa parábola é  $y = x^2 - 2x + 1$ .
- h) a semi-reta correspondente a  $x \leq 0$  tem inclinação  $-1$ .

**471.** Sendo a função real  $f(x) = |x - 2| + |x|$ , pode-se afirmar:

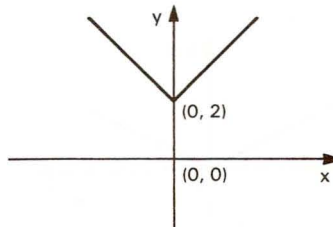
- a) O gráfico da função é:



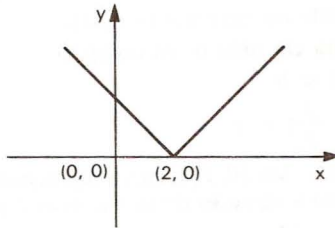
- b) A função cresce no intervalo  $[2, +\infty[$ .
- c)  $f(x) = 2x - 2, \forall x \in \mathbb{R}$ .
- d) O conjunto imagem da função é  $\{y \in \mathbb{R}, y \geq 2\}$ .
- e) A função *não* é injetora.
- f) O conjunto domínio da função é  $\mathbb{R}$ .

**472.** Considere a função definida por  $y = f(x) = 2 - |x|, x \in \mathbb{R}$ . Assinale as proposições verdadeiras e as proposições falsas nos itens abaixo.

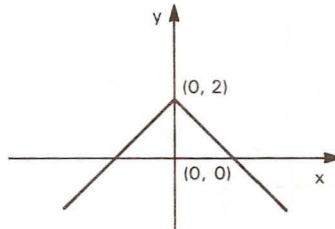
- a)  $f$  é sobrejetiva.
- b)  $f$  não é injetiva.
- c) A função pode ser representada pelo gráfico:



d) A função pode ser representada pelo gráfico:



e) A função pode ser representada pelo gráfico:

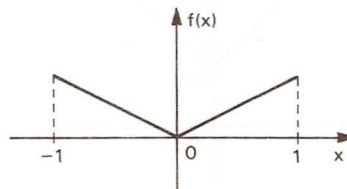


**473.** A função  $f: A \rightarrow B$  é dada por  $f(x) = \sqrt{1 - x^2}$ .

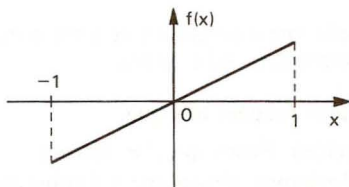
- Determine o domínio de  $f$ , isto é,  $A = \{x \in \mathbb{R} \text{ tal que existe } f(x)\}$ .
- Determine a imagem de  $f$ , isto é,  $B = f(A)$ .
- A função  $f$  é injetora? Por quê?
- Trace o gráfico da função  $f$ .

**474.** Existem funções  $f: \mathbb{R} \rightarrow \mathbb{R}$  que satisfazem a propriedade (I)  $f(x) = f(-x)$ , para todo  $x \in \mathbb{R}$ . Assinale as proposições verdadeiras e as proposições falsas:

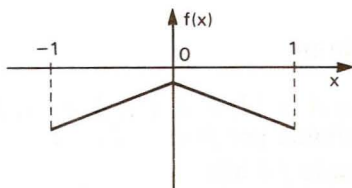
- Se uma função  $f$  verifica (I), então  $f$  é injetora.
- condição (I) é válida para a função  $f(x) = 3x^5$ ,  $x \in \mathbb{R}$ .
- O gráfico abaixo representa, no intervalo  $[-1, 1]$ , uma função que verifica (I).



- d) O gráfico abaixo representa, no intervalo  $[-1, 1]$ , uma função para a qual vale (I).



- e) O gráfico abaixo representa uma função que satisfaz a propriedade (I).



475. a) Defina função bijetora.  
b) Demonstre que  $f$ , definida no intervalo  $0 < x < s$  ( $s > 0$ ) do seguinte modo:

$$f(x) = \frac{2x - s}{x(s - x)}$$

é uma função bijetora desse intervalo nos reais.

476. Sejam  $\mathbb{N}$  o conjunto dos números naturais e  $f: \mathbb{N} \rightarrow \mathbb{N}$  uma função que satisfaz as propriedades:

- a) dado qualquer  $m \in \mathbb{N}$  existe  $n \in \mathbb{N}$  tal que  $f(n) \geq m$ .  
b)  $A_r = \{s \in \mathbb{N}; s \leq f(r)\}$  está contido no conjunto imagem de  $f$ , para todo  $r \in \mathbb{N}$ .

Mostre que  $f$  é sobrejetora.

477. Sejam as funções:  $f$  de  $A$  em  $B$ , definida por  $y = f(x)$ ; identidade em  $A$ , anotada por  $I_A$ , de  $A$  em  $A$  e definida por  $I_A(x) = x$ ; identidade em  $B$ , anotada por  $I_B$ , de  $B$  em  $B$  e definida por  $I_B(x) = x$ . Prove:

$$f \circ I_A = f \quad \text{e} \quad I_B \circ f = f.$$

478. As funções  $I_A$  e  $I_B$  do exercício anterior são iguais? Justifique.

479. Os conjuntos  $A$  e  $B$  têm, respectivamente,  $m$  e  $n$  elementos. Considera-se uma função  $f: A \rightarrow B$ . Qual a condição sobre  $m$  e  $n$  para que  $f$  possa ser injetora? E para  $f$  ser sobrejetora? E bijetora?

- 480.** Quantas são as injeções de  $A = \{a, b\}$  em  $B = \{c, d, e, f\}$ ?
- 481.** Quantas são as sobrejeções de  $A = \{a, b, c\}$  em  $B = \{d, e\}$ ?
- 482.** Mostre com um exemplo que a composta de uma injeção com uma sobrejeção pode não ser nem injetora nem sobrejetora.
- 483.** Sejam  $f, g : \mathbb{R} \rightarrow \mathbb{R}$  duas funções tais que:
- $g \circ f : \mathbb{R} \rightarrow \mathbb{R}$  é injetora. Prove que  $f$  é injetora.
  - $g \circ f : \mathbb{R} \rightarrow \mathbb{R}$  é sobrejetora. Prove que  $g$  é sobrejetora.

## V. Função inversa

### 146. Exemplo preliminar

Dados os conjuntos  $A = \{1, 2, 3, 4\}$  e  $B = \{1, 3, 5, 7\}$ , consideremos a função  $f$  de  $A$  em  $B$  definida por  $f(x) = 2x - 1$ .

Notemos que a função  $f$  é bijetora formada pelos pares ordenados

$$f = \{(1, 1), (2, 3), (3, 5), (4, 7)\}$$

em que  $D(f) = A$  e  $Im(f) = B$ .

A relação

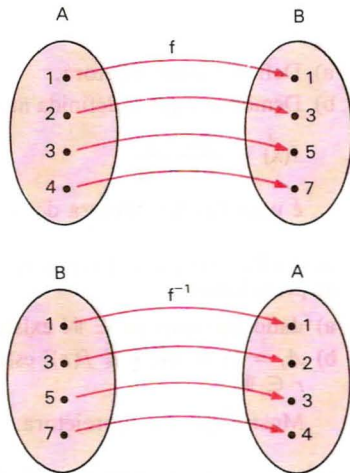
$f^{-1} = \{(y, x) \mid (x, y) \in f\}$ , inversa de  $f$ , é também uma função, pois  $f$  é uma bijeção de  $A$  em  $B$ , isto é, para todo  $y \in B$  existe um único  $x \in A$  tal que  $(y, x) \in f^{-1}$ .

A função  $f^{-1}$  é formada pelos pares ordenados

$$f^{-1} = \{(1, 1), (3, 2), (5, 3), (7, 4)\}$$

em que

$$D(f^{-1}) = B \text{ e } Im(f^{-1}) = A.$$



Observemos que a função  $f$  é definida pela sentença  $y = 2x - 1$ , e  $f^{-1}$  é definida pela sentença  $x = \frac{y + 1}{2}$ , isto é:

1º)  $f$  leva cada elemento  $x \in A$  até o  $y \in B$  tal que  $y = 2x - 1$

2º)  $f^{-1}$  leva cada elemento  $y \in B$  até o  $x \in A$  tal que  $x = \frac{y + 1}{2}$ .



**147. Teorema**

Seja  $f: A \rightarrow B$ . A relação  $f^{-1}$  é uma função de  $B$  em  $A$  se, e somente se,  $f$  é bijetora.

*Demonstração*

1ª parte: Se  $f^{-1}$  é uma função de  $B$  em  $A$ , então  $f$  é bijetora.

a) Para todo  $y \in B$  existe um  $x \in A$  tal que  $f^{-1}(y) = x$ , isto é,  $(y, x) \in f^{-1}$ , ou ainda,  $(x, y) \in f$ . Assim  $f$  é sobrejetora.

b) Dados  $x_1 \in A$  e  $x_2 \in A$ , com  $x_1 \neq x_2$ , se tivermos  $f(x_1) = f(x_2) = y$  resultará  $f^{-1}(y) = x_1$  e  $f^{-1}(y) = x_2$ , o que é absurdo pois  $y$  só tem uma imagem em  $f^{-1}$ . Assim  $f(x_1) \neq f(x_2)$  e  $f$  é injetora.

2ª parte: Se  $f$  é bijetora, então  $f^{-1}$  é uma função de  $B$  em  $A$ .

a) Como  $f$  é sobrejetora, para todo  $y \in B$  existe um  $x \in A$  tal que  $(x, y) \in f$ ; portanto,  $(y, x) \in f^{-1}$ .

b) Se  $y \in B$ , para duas imagens  $x_1$  e  $x_2$  em  $f^{-1}$ , vem:

$$(y, x_1) \in f^{-1} \text{ e } (y, x_2) \in f^{-1}$$

portanto:

$$(x_1, y) \in f \text{ e } (x_2, y) \in f.$$

Como  $f$  é injetora, resulta  $x_1 = x_2$ .

**148. Definição**

Se  $f$  é uma função bijetora de  $A$  em  $B$ , a relação inversa de  $f$  é uma função de  $B$  em  $A$  que denominamos *função inversa de  $f$*  e indicamos por  $f^{-1}$ .

**Observações**

1ª) Os pares ordenados que formam  $f^{-1}$  podem ser obtidos dos pares ordenados de  $f$ , permutando-se os elementos de cada par, isto é:

$$(x, y) \in f \iff (y, x) \in f^{-1}.$$

2ª) Pela observação anterior, temos:

$$(x, y) \in f \iff (y, x) \in f^{-1}.$$

Agora, se considerarmos a função inversa de  $f^{-1}$ , teremos:

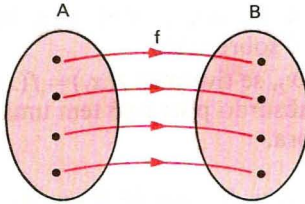
$$(y, x) \in f^{-1} \iff (x, y) \in (f^{-1})^{-1}$$

isto é, a inversa de  $f^{-1}$  é a própria função  $f$ :

$$(f^{-1})^{-1} = f.$$

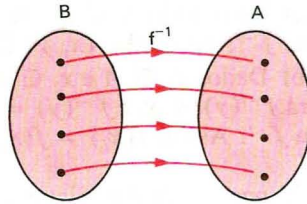
Podemos assim afirmar que  $f$  e  $f^{-1}$  são inversas entre si, ou melhor, *uma é inversa da outra*.

- 3ª) O domínio da função  $f^{-1}$  é  $B$ , que é a imagem da função  $f$ .  
 A imagem da função  $f^{-1}$  é  $A$ , que é o domínio da função  $f$ .



$$D(f^{-1}) = B = \text{Im}(f)$$

e



$$\text{Im}(f^{-1}) = A = D(f).$$

### 149. Determinação da função inversa

Vimos no exemplo preliminar que, se a função  $f$  é definida pela sentença aberta  $y = 2x - 1$ , então a função inversa  $f^{-1}$  é definida pela sentença  $x = \frac{y + 1}{2}$ .

Observemos, por exemplo, que  $x = 2$  e  $y = 3$  satisfazem a condição  $y = 2x - 1$  e também  $x = \frac{y + 1}{2}$ . Isso não quer dizer que o par ordenado  $(2, 3)$  pertença a  $f$  e a  $f^{-1}$ . De fato:

$$(2, 3) \in f \quad \text{e} \quad (3, 2) \in f^{-1}.$$

As sentenças abertas  $y = 2x - 1$  e  $x = \frac{y + 1}{2}$  não especificam qual ( $x?$  ou  $y?$ ) é o primeiro termo do par ordenado.

Ao construirmos o gráfico cartesiano da função  $f$ , colocamos  $x$  em abscissas e  $y$  em ordenadas, isto é:

$$f = \{(x, y) \in A \times B \mid y = 2x - 1\}$$

e ao representarmos no mesmo plano cartesiano o gráfico de  $f^{-1}$ , como o conjunto

$$f^{-1} = \left\{ (y, x) \in B \times A \mid x = \frac{y + 1}{2} \right\},$$

devemos ter  $y$  em abscissa e  $x$  em ordenada.

A fim de que possamos convencionar que:

1º) dada uma sentença aberta que define uma função,  $x$  representa sempre o primeiro termo dos pares ordenados e

2º) dois gráficos de funções distintas podem ser construídos no mesmo plano cartesiano com  $x$  em abscissas e  $y$  em ordenadas

justifica-se a seguinte regra prática.

### Regra prática

Dada a função bijetora  $f$  de  $A$  em  $B$ , definida pela sentença  $y = f(x)$ , para obtermos a sentença aberta que define  $f^{-1}$ , procedemos do seguinte modo:

1º) na sentença  $y = f(x)$  fazemos uma mudança de variável, isto é, trocamos  $x$  por  $y$  e  $y$  por  $x$ , obtendo  $x = f(y)$ ;

2º) transformamos algebricamente a expressão  $x = f(y)$ , expressando  $y$  em função de  $x$  para obtermos  $y = f^{-1}(x)$ .

### Exemplos

1º) Qual é a função inversa da função  $f$  bijetora em  $\mathbb{R}$  definida por  $f(x) = 3x + 2$ ?

A função dada é:  $f(x) = y = 3x + 2$ .

Aplicando a regra prática:

I) permutando as variáveis:  $x = 3y + 2$

II) expressando  $y$  em função de  $x$ :

$$x = 3y + 2 \implies 3y = x - 2 \implies y = \frac{x - 2}{3}.$$

Resposta: É a função  $f^{-1}$  em  $\mathbb{R}$  definida por  $f^{-1}(x) = \frac{x - 2}{3}$ .

2º) Qual é a função inversa da função  $f$  bijetora em  $\mathbb{R}$  definida por  $f(x) = x^3$ ?

A função dada é  $f(x) = y = x^3$ .

Aplicando a regra prática, temos:  $x = y^3 \implies y = \sqrt[3]{x}$ .

Resposta: É a função  $f^{-1}$  em  $\mathbb{R}$  definida por  $f^{-1}(x) = \sqrt[3]{x}$ .

**150.** Propriedade dos gráficos de  $f$  e  $f^{-1}$

Os gráficos cartesianos de  $f$  e  $f^{-1}$  são simétricos em relação à bissetriz dos quadrantes  $I$  e  $III$  do plano cartesiano.

Observemos inicialmente que, se  $(a, b) \in f$ , então  $(b, a) \in f^{-1}$ .

Para provarmos que os pontos  $P(a, b)$  e  $Q(b, a)$  são simétricos em relação à reta  $r$  de equação  $y = x$  (bissetriz dos quadrantes  $I$  e  $III$ ), devemos provar que a reta que passa pelos pontos  $P$  e  $Q$  é perpendicular à reta  $r$  e que as distâncias dos pontos  $P$  e  $Q$  à reta  $r$  são iguais.

O ponto  $M$ , médio do segmento  $PQ$ , tem coordenadas  $\left(\frac{a+b}{2}, \frac{a+b}{2}\right)$  e portanto  $M$  pertence à reta  $r$ . Como  $M$  é médio do segmento  $PQ$ , isto é,  $\overline{MP} = \overline{MQ}$ ,  $M \in r$ , está então provado que os pontos  $P$  e  $Q$  equidistam da reta  $r$ .

Para provarmos que a reta  $\overleftrightarrow{PQ}$  é perpendicular à reta  $r$ , consideremos o ponto  $R(c, c)$  da reta  $r$ , distinto de  $M$ , e provemos que o triângulo  $PMR$  é retângulo em  $M$ .

Calculando a medida dos lados do triângulo  $PMR$ , encontramos:

$$\overline{PM}^2 = \left(a - \frac{a+b}{2}\right)^2 + \left(b - \frac{a+b}{2}\right)^2 = \left(\frac{a-b}{2}\right)^2 + \left(\frac{b-a}{2}\right)^2 = 2\left(\frac{a-b}{2}\right)^2$$

$$\overline{MR}^2 = \left(\frac{a+b}{2} - c\right)^2 + \left(\frac{a+b}{2} - c\right)^2 = 2\left(\frac{a+b}{2} - c\right)^2$$

$$\overline{PR}^2 = (a - c)^2 + (b - c)^2$$

e observemos que

$$\begin{aligned} \overline{PM}^2 + \overline{MR}^2 &= 2\left(\frac{a-b}{2}\right)^2 + 2\left(\frac{a+b}{2} - c\right)^2 = \frac{a^2 - 2ab + b^2}{2} + \frac{a^2 + 2ab + b^2}{2} - \\ &- 2(a+b) \cdot c + 2c^2 = a^2 + b^2 - 2ac - 2bc + 2c^2 = (a^2 - 2ac + c^2) + (b^2 - 2bc + c^2) = \\ &= (a-c)^2 + (b-c)^2 = \overline{PR}^2. \end{aligned}$$

*Exemplos*

Vamos construir no mesmo diagrama os gráficos de duas funções inversas entre si:

$$1^\circ) f(x) = 2x - 4 \quad \text{e} \quad f^{-1}(x) = \frac{x + 4}{2}$$

$$2^\circ) f(x) = x^2 \quad \text{e} \quad f^{-1}(x) = \sqrt{x}$$

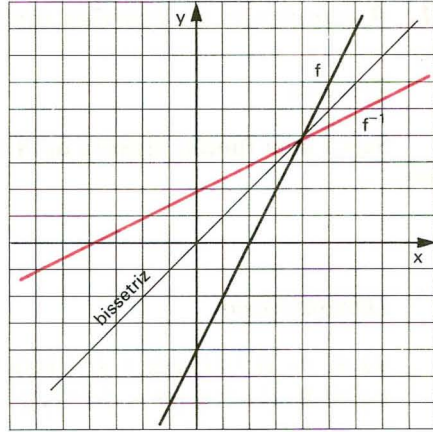
$$3^\circ) f(x) = x^3 \quad \text{e} \quad f^{-1}(x) = \sqrt[3]{x}$$

1º)  $y = 2x - 4$

$y = \frac{x + 4}{2}$

x	y
-4	-12
-3	-10
-2	-8
-1	-6
0	-4
1	-2
2	0
3	2
4	4

x	y
-12	-4
-10	-3
-8	-2
-6	-1
-4	0
-2	-2
0	2
2	3
4	4

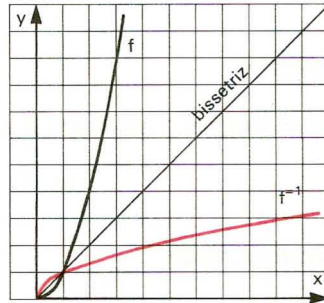


2º)  $y = x^2$

$y = \sqrt{x}$

x	y
0	0
1	1
2	4
3	9
4	16
5	25
6	36

x	y
0	0
1	1
4	2
9	3
16	4
25	5
36	6

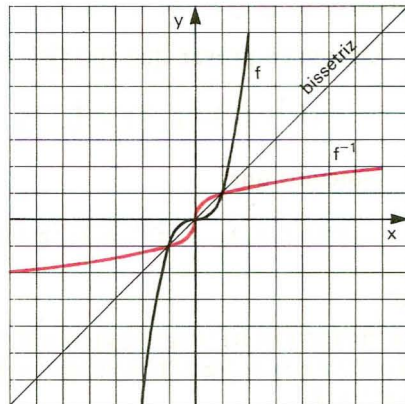


3º)  $y = x^3$

$y = \sqrt[3]{x}$

x	y
-3	-27
-2	-8
-1	-1
0	0
1	1
2	8
3	27

x	y
-27	-3
-8	-2
-1	-1
0	0
1	1
8	2
27	3





**151.** A composta de funções inversas entre si*Teorema*

Seja  $f$  uma função bijetora de  $A$  em  $B$ . Se  $f^{-1}$  é a função inversa de  $f$ , então:

$$f^{-1} \circ f = I_A \quad \text{e} \quad f \circ f^{-1} = I_B.$$

*Demonstração*

$$\forall x \in A, (f^{-1} \circ f)(x) = f^{-1}(f(x)) = f^{-1}(y) = x$$

$$\forall y \in B, (f \circ f^{-1})(y) = f(f^{-1}(y)) = f(x) = y.$$

**152.** A inversa da composta*Teorema*

Se as funções  $f$  de  $A$  em  $B$  e  $g$  de  $B$  em  $C$  são bijetoras, então:

$$(g \circ f)^{-1} = f^{-1} \circ g^{-1}$$

*Demonstração*

Observemos inicialmente: se as funções  $f$  de  $A$  em  $B$  e  $g$  de  $B$  em  $C$  são bijetoras, então a função composta  $g \circ f$  de  $A$  em  $C$  é bijetora; logo, existe a função inversa  $(g \circ f)^{-1}$  de  $C$  em  $A$ .

Queremos provar que  $(g \circ f)^{-1} = f^{-1} \circ g^{-1}$ ; então basta provar que

$$(f^{-1} \circ g^{-1}) \circ (g \circ f) = I_A \quad \text{e} \quad (g \circ f) \circ (f^{-1} \circ g^{-1}) = I_C.$$

Notemos que

$$f^{-1} \circ f = I_A, \quad f \circ f^{-1} = I_B, \quad g^{-1} \circ g = I_B \quad \text{e} \quad g \circ g^{-1} = I_C.$$

Então:

$$\begin{aligned} (f^{-1} \circ g^{-1}) \circ (g \circ f) &= [(f^{-1} \circ g^{-1}) \circ g] \circ f = [f^{-1} \circ (g^{-1} \circ g)] \circ f = [f^{-1} \circ I_B] \circ f = f^{-1} \circ f = I_A. \\ (g \circ f) \circ (f^{-1} \circ g^{-1}) &= [(g \circ f) \circ f^{-1}] \circ g^{-1} = [g \circ (f \circ f^{-1})] \circ g^{-1} = [g \circ I_B] \circ g^{-1} = \\ &= g \circ g^{-1} = I_C. \end{aligned}$$

## EXERCÍCIOS

**484.** Para cada função abaixo, prove que é bijetora e determine sua inversa:

a)  $f: \mathbb{R} \rightarrow \mathbb{R}$  tal que  $f(x) = 2x - 5$

b)  $g: \mathbb{R} - \{4\} \rightarrow \mathbb{R} - \{1\}$  tal que  $g(x) = \frac{x + 1}{x - 4}$

c)  $h: \mathbb{R} \rightarrow \mathbb{R}$  tal que  $h(x) = x^5$

**485.** Considere a função  $f: \mathbb{R} \rightarrow \mathbb{R}$  tal que  $f(x) = |x - 1|$ .

Assinale, entre as alternativas abaixo, a soma dos números associados às afirmações corretas.

01) A função  $f$  não é sobrejetiva.

02) A função  $f$  é injetiva.

04) A função  $f$  possui uma inversa.

08)  $f(x) \leq 1$  se, e só se,  $0 \leq x \leq 2$ .

16)  $f$  é uma função par, isto é,  $f(-x) = f(x)$ .

32)  $f$  é uma função ímpar, isto é,  $f(-x) = -f(-x)$ .

64)  $f$  é uma função periódica de período 1.

**486.** Nas funções bijetoras abaixo, de  $\mathbb{R}$  em  $\mathbb{R}$ , obtenha a lei de correspondência que define a função inversa.

a)  $f(x) = 2x + 3$

e)  $q(x) = \sqrt[3]{x + 2}$

b)  $g(x) = \frac{4x - 1}{3}$

f)  $r(x) = \sqrt[3]{x - 1}$

c)  $h(x) = x^3 + 2$

g)  $s(x) = \sqrt[3]{1 - x^3}$

d)  $p(x) = (x - 1)^3 + 2$

**487.** O gráfico de uma função  $f$  é o segmento de reta que une os pontos  $(-3, 4)$  e  $(3, 0)$ . Se  $f^{-1}$  é a função de  $f$ , determine  $f^{-1}(2)$ .

**488.** Dada a função  $f: \mathbb{R} \rightarrow \mathbb{R}$ , bijetora, definida por  $f(x) = x^3 + 1$ , determine sua inversa  $f^{-1}: \mathbb{R} \rightarrow \mathbb{R}$ .

**489.** A função  $f$  em  $\mathbb{R}$ , definida por  $f(x) = x^2$ , admite função inversa? Justifique.

**490.** Julgue os itens abaixo.

a) Sendo  $y = f(x)$  uma função real, se  $f(x) = x$  para algum  $x$ , dizemos que  $x$  é um ponto fixo de  $f$ .

Com base nessa definição pode-se concluir que a função  $f(x) = 2 + \frac{1}{x}$  possui um único ponto fixo.

- b) Os zeros da função  $f(x) = 5^{x^2} - 5^{3x}$  são  $x = 0$  e  $x = 3$ .
- c) O domínio da função real  $h(x) = \frac{\sqrt{x^2 + 1}}{\log x}$  é o conjunto dos números reais com exceção do zero.
- d) Se  $f: A \rightarrow B$  e  $g: B \rightarrow C$  são funções injetoras, então a composta  $g \circ f: A \rightarrow C$  também é uma função injetora.
- e) Toda função real é inversível.

**491.** Seja a função  $f$  de  $\mathbb{R}_-$  em  $\mathbb{R}_+$ , definida por  $f(x) = x^2$ . Qual é a função inversa de  $f$ ?

**Solução**

A função dada é  $f(x) = y = x^2$  com  $x \leq 0$  e  $y \geq 0$ .

Aplicando a regra prática, temos:

I) permutando as variáveis:

$$x = y^2 \quad \text{com} \quad y \leq 0 \quad \text{e} \quad x \geq 0$$

II) expressando  $y$  em função de  $x$

$$x = y^2 \implies y = \sqrt{x} \quad \text{ou} \quad y = -\sqrt{x}$$

Considerando que na função inversa  $f^{-1}$  devemos ter  $y \leq 0$  e  $x \geq 0$ , a lei de correspondência da função inversa será  $f^{-1}(x) = -\sqrt{x}$ .

Resposta: É a função  $f^{-1}$  de  $\mathbb{R}_+$  em  $\mathbb{R}_-$  definida por  $f^{-1}(x) = -\sqrt{x}$ .

**492.** Obtenha a função inversa nas seguintes funções abaixo.

- a)  $f: \mathbb{R}_+ \rightarrow \mathbb{R}_+$   
 $f(x) = x^2$
- b)  $f: A \rightarrow \mathbb{R}_+$ , em que  $A = \{x \in \mathbb{R} \mid x \leq 1\}$   
 $f(x) = (x - 1)^2$
- c)  $f: A \rightarrow \mathbb{R}_-$ , em que  $A = \{x \in \mathbb{R} \mid x \leq 2\}$   
 $f(x) = -(x - 2)^2$
- d)  $f: A \rightarrow \mathbb{R}_-$ , em que  $A = \{x \in \mathbb{R} \mid x \leq -1\}$   
 $f(x) = -(x + 1)^2$
- e)  $f: \mathbb{R}_- \rightarrow \mathbb{B}$ , em que  $B = \{y \in \mathbb{R} \mid y \geq 1\}$   
 $f(x) = x^2 + 1$
- f)  $\mathbb{R}_+ \rightarrow \mathbb{B}$ , em que  $B = \{y \in \mathbb{R} \mid y \leq 4\}$   
 $f(x) = 4 - x^2$
- g)  $f: \mathbb{R}_- \rightarrow \mathbb{B}$ , em que  $B = \{y \in \mathbb{R} \mid y \geq -1\}$   
 $f(x) = x^2 - 1$

**493.** Considere a função

$$f : \left[ \frac{\pi}{2}, \frac{3\pi}{2} \right] \rightarrow [-1, 1] \text{ tal que } f(x) = 2 - \frac{2}{\pi} x.$$

Esboce o gráfico correspondente e decida quais das afirmações abaixo são verdadeiras e quais são falsas.

- $f$  é crescente.
- $f$  é sobrejetora.
- $f$  possui inversa e  $f^{-1}(0) = \pi$ .
- $f$  possui inversa e  $f^{-1}(0) = 0$ .
- $f$  não possui inversa.

**494.** Considerando a função real  $f(x) = 3 + 2^{x-1}$  e sendo  $g : A \rightarrow R$  a sua inversa, pode-se afirmar:

- A imagem de  $f$  é  $A$ .
- O gráfico de  $f$  está acima da reta  $y = 4$ .
- $g\left(\frac{11}{2}\right) = \log_2 5$ .
- Se  $f(h(x)) = 3 + 2x$ , então  $h\left(\frac{1}{4}\right) = 0$ .
- O conjunto solução da inequação  $f(2x + 1) < 1 + 3 \cdot 2^x$  é o intervalo  $]0, 1[$ .
- O gráfico da função  $g$  intercepta o eixo  $Ox$  no ponto  $(1, 0)$ .

**495.** Seja a função bijetora  $f$ , de  $\mathbb{R} - \{2\}$  em  $\mathbb{R} - \{1\}$  definida por  $f(x) = \frac{x+1}{x-2}$ . Qual é a função inversa de  $f$ ?

### Solução

A função dada é  $f(x) = y = \frac{x+1}{x-2}$  com  $x \neq 2$  e  $y \neq 1$ .

Aplicando a regra prática, temos:

$$\begin{aligned} x &= \frac{y+1}{y-2} \implies xy - 2x = y + 1 \implies xy - y = 2x + 1 \implies \\ &\implies y(x-1) = 2x + 1 \implies y = \frac{2x+1}{x-1}. \end{aligned}$$

Resposta: É a função  $f^{-1}$ , de  $\mathbb{R} - \{1\}$  em  $\mathbb{R} - \{2\}$ , definida por

$$f^{-1}(x) = \frac{2x+1}{x-1}.$$



**496.** Obtenha a função inversa das seguintes funções:

a)  $f: \mathbb{R} - \{3\} \rightarrow \mathbb{R} - \{1\}$

$$f(x) = \frac{x + 3}{x - 3}$$

b)  $f: \mathbb{R} - \{-1\} \rightarrow \mathbb{R} - \{2\}$

$$f(x) = \frac{2x + 3}{x + 1}$$

c)  $f: \mathbb{R} - \{3\} \rightarrow \mathbb{R} - \{-1\}$

$$f(x) = \frac{4 - x}{x - 3}$$

d)  $f: \mathbb{R} - \left\{\frac{1}{3}\right\} \rightarrow \mathbb{R} - \left\{\frac{5}{3}\right\}$

$$f(x) = \frac{5x + 2}{3x - 1}$$

e)  $f: \mathbb{R}^* \rightarrow \mathbb{R} - \{4\}$

$$f(x) = \frac{4x + 2}{x}$$

f)  $f: \mathbb{R} - \{3\} \rightarrow \mathbb{R} - \{3\}$

$$f(x) = \frac{3x + 2}{x - 3}$$

**497.** Sendo  $f$  e  $g$  funções reais definidas pelas sentenças  $f(x) = 3^x - 1$  e  $g(x) = \log_3(x - 1)$ , determine  $(f \circ g^{-1})(0)$ .

**498.** A função  $f$  definida em  $\mathbb{R} - \{2\}$  por  $f(x) = \frac{2 + x}{2 - x}$  é inversível. O seu contradomínio é  $\mathbb{R} - \{a\}$ . Calcule  $a$ .

**499.** Seja a função  $f$  de  $\mathbb{R} - \{-2\}$  em  $\mathbb{R} - \{4\}$  definida por  $f(x) = \frac{4x - 3}{x + 2}$ . Qual é o valor do domínio de  $f^{-1}$  com imagem 5?

**Solução**

Queremos determinar  $a \in \mathbb{R} - \{4\}$  tal que  $f^{-1}(a) = 5$ ; para isso, basta determinar  $a$  tal que  $f(5) = a$ :

$$a = f(5) = \frac{4 \cdot 5 - 3}{5 + 2} = \frac{17}{7} \implies a = \frac{17}{7}.$$

**500.** Seja a função  $f$  de  $A = \{x \in \mathbb{R} \mid x \leq -1\}$  em  $B = \{y \in \mathbb{R} \mid y \geq 1\}$  definida por  $f(x) = \sqrt{x^2 + 2x + 2}$ . Qual é o valor do domínio de  $f^{-1}$  com imagem 3?

**501.** Sejam os conjuntos  $A = \{x \in \mathbb{R} \mid x \geq 1\}$  e  $B = \{y \in \mathbb{R} \mid y \geq 2\}$  e a função  $f$  de  $A$  em  $B$  definida por  $f(x) = x^2 - 2x + 3$ . Obtenha a função inversa de  $f$ .

**Solução**

A função dada é  $f(x) = y = x^2 - 2x + 3$  com  $x \geq 1$  e  $y \geq 2$ .

Aplicando a regra prática, temos:

I) permutando as variáveis:

$$x = y^2 - 2y + 3 \quad \text{com} \quad y \geq 1 \quad \text{e} \quad x \geq 2$$



II) expressando  $y$  em função de  $x$

$$\begin{aligned} x &= y^2 - 2y + 3 \implies x = y^2 - 2y + 1 + 3 - 1 \implies x = (y-1)^2 + 2 \implies \\ \implies (y-1)^2 &= \sqrt{x-2} \implies y-1 = \sqrt{x-2} \text{ ou } y-1 = -\sqrt{x-2} \implies \\ \implies y &= 1 + \sqrt{x-2} \text{ ou } y = 1 - \sqrt{x-2}. \end{aligned}$$

Considerando que na função inversa  $f^{-1}$  devemos ter  $y \geq 1$  e  $x \geq 2$ , a sentença que define a função inversa é  $f^{-1}(x) = 1 + \sqrt{x-2}$ .

Resposta:  $f^{-1}: B \rightarrow A$

$$f^{-1}(x) = 1 + \sqrt{x-2}$$

**502.** Obtenha a função inversa das seguintes funções:

a)  $A = \{x \in \mathbb{R} \mid x \geq 1\}$  e  $B = \{y \in \mathbb{R} \mid y \geq -1\}$   
 $f: A \rightarrow B$   
 $f(x) = x^2 - 2x$

b)  $A = \{x \in \mathbb{R} \mid x \geq -1\}$  e  $B = \{y \in \mathbb{R} \mid y \geq 1\}$   
 $f: A \rightarrow B$   
 $f(x) = x^2 + 2x + 2$

c)  $A = \{x \in \mathbb{R} \mid x \leq 2\}$  e  $B = \{y \in \mathbb{R} \mid y \geq -1\}$   
 $f: A \rightarrow B$   
 $f(x) = x^2 - 4x + 3$

d)  $A = \left\{x \in \mathbb{R} \mid x \geq \frac{3}{2}\right\}$  e  $B = \left\{y \in \mathbb{R} \mid y \geq -\frac{1}{4}\right\}$   
 $f: A \rightarrow B$   
 $f(x) = x^2 - 3x + 2$

e)  $A = \{x \in \mathbb{R} \mid x \geq 2\}$  e  $B = \{y \in \mathbb{R} \mid y \leq 9\}$   
 $f: A \rightarrow B$   
 $f(x) = -x^2 + 4x + 5$

f)  $A = \{x \in \mathbb{R} \mid x \leq -1\}$  e  $B = \{y \in \mathbb{R} \mid y \leq 5\}$   
 $f: A \rightarrow B$   
 $f(x) = -x^2 - 2x + 4$

g)  $A = \left\{x \in \mathbb{R} \mid x \geq \frac{5}{4}\right\}$  e  $B = \left\{y \in \mathbb{R} \mid y \geq -\frac{9}{8}\right\}$   
 $f: A \rightarrow B$   
 $f(x) = 2x^2 - 5x + 2$

**503.** Seja a função bijetora de  $\mathbb{R}$  em  $\mathbb{R}$  definida por  $f(x) = \begin{cases} x^2 - 1 & \text{se } x \geq 0 \\ x - 1 & \text{se } x < 0 \end{cases}$ .  
 Determine  $f^{-1}$ .

**Solução**

Notemos que:

1º) se  $x \geq 0$ , então  $f(x) = y = x^2 - 1$ ; logo,  $y \geq -1$ .

2º) se  $x < 0$ , então  $f(x) = y = x - 1$ ; logo,  $y < -1$ .

A função proposta é:

$y = x^2 - 1$  com  $x \geq 0$  e  $y \geq -1$  ou  $y = x - 1$  com  $x < 0$  e  $y < -1$ .

Aplicando a regra prática:

I) permutando as variáveis, temos:

$x = y^2 - 1$  com  $y \geq 0$  e  $x \geq -1$  ou  $x = y - 1$  com  $y < 0$  e  $x < -1$

II) expressando  $y$  em função de  $x$ , temos:

$y = \sqrt{x + 1}$  com  $y \geq 0$  e  $x \geq -1$  ou  $y = x + 1$  com  $y < 0$  e  $x < -1$ .

Logo, a função inversa  $f^{-1}$  é de  $\mathbb{R}$  em  $\mathbb{R}$  e definida por:

$$f^{-1}(x) = \begin{cases} \sqrt{x + 1} & \text{se } x \geq -1 \\ x + 1 & \text{se } x < -1 \end{cases}$$

**504.** Nas seguintes funções em  $\mathbb{R}$ , determine a função inversa.

a)  $f(x) = \begin{cases} 2x + 3 & \text{se } x \geq 2 \\ 3x + 1 & \text{se } x < 2 \end{cases}$

b)  $f(x) = \begin{cases} 5 - 3x & \text{se } x \geq -1 \\ 4 - 4x & \text{se } x < -1 \end{cases}$

c)  $f(x) = \begin{cases} x^2 & \text{se } x \geq 0 \\ 2x & \text{se } x < 0 \end{cases}$

d)  $f(x) = \begin{cases} x^3 - 2 & \text{se } x < -1 \\ 4x + 1 & \text{se } x \geq -1 \end{cases}$

e)  $f(x) = \begin{cases} \sqrt{x - 3} & \text{se } x \geq 3 \\ (3 - x)^3 & \text{se } x < 3 \end{cases}$

f)  $f(x) = \begin{cases} x^2 - 4x + 7 & \text{se } x \geq 2 \\ 2x - 1 & \text{se } -1 < x < 2 \\ -x^2 - 2x - 4 & \text{se } x \leq -1 \end{cases}$

**505.** A função  $f$  em  $\mathbb{R}$ , definida por  $f(x) = |x + 2| + |x - 1|$ , admite função inversa?

**506.** Seja a função  $f$  em  $\mathbb{R}$  definida por  $f(x) = 2x + |x + 1| - |2x - 4|$ . Determine a função inversa de  $f$ . Calcule  $f^{-1}(42)$ .

**507.** Seja a função  $f$  em  $\mathbb{R}$  definida por  $f(x) = 2x - 3$ . Construa num mesmo plano cartesiano os gráficos de  $f$  e  $f^{-1}$ .

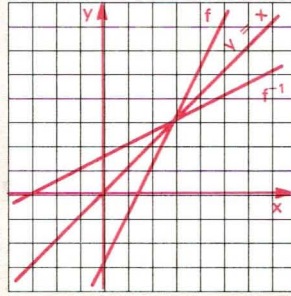
**Solução**

$$f(x) = 2x - 3$$

$$f^{-1}(x) = \frac{x + 3}{2}$$

x	y
-1	-5
0	-3
1	-1
2	1
3	3
4	5

x	y
-5	-1
-3	0
-1	1
1	2
3	3
5	4



**508.** Nas funções que seguem, construa num mesmo plano cartesiano os gráficos de  $f$  e  $f^{-1}$ .

a)  $f: \mathbb{R} \rightarrow \mathbb{R}$

$$f(x) = 2x + 1$$

f)  $f: \mathbb{R}^* \rightarrow \mathbb{R}^*$

$$f(x) = \frac{1}{x}$$

b)  $f: \mathbb{R} \rightarrow \mathbb{R}$

$$f(x) = \frac{2x + 4}{3}$$

g)  $f: \mathbb{R}^* \rightarrow \mathbb{R} - \{1\}$

$$f(x) = \frac{x - 1}{x}$$

c)  $f: \mathbb{R} \rightarrow \mathbb{R}$

$$f(x) = 1 - x^3$$

h)  $f: \mathbb{R} \rightarrow \mathbb{R}_+$

$$f(x) = 2^x$$

d)  $f: \mathbb{R}_- \rightarrow B = \{y \in \mathbb{R} \mid y \leq 1\}$

$$f(x) = 1 - x^2$$

i)  $f: \mathbb{R} \rightarrow \mathbb{R}_+$

$$f(x) = \left(\frac{1}{2}\right)^x$$

e)  $f: A \rightarrow A = \{x \in \mathbb{R} \mid x \geq -1\}$

$$f(x) = x^2 + 2x$$

**509.** Dadas as funções  $f$  e  $g$  em  $\mathbb{R}$ , definidas por  $f(x) = 3x - 2$  e  $g(x) = 2x + 5$ , determine a função inversa de  $g \circ f$ .

**Solução**

1º processo

Determinamos inicialmente  $g \circ f$  e em seguida  $(g \circ f)^{-1}$ :

$$(g \circ f)(x) = g(f(x)) = 2f(x) + 5 = 2(3x - 2) + 5 = 6x + 1.$$

Aplicando a regra prática, temos:  $x = 6x + 1 \Rightarrow y = \frac{x - 1}{6}$ ;

portanto,  $(g \circ f)^{-1}(x) = \frac{x - 1}{6}$ .

2º processo

Determinamos inicialmente  $f^{-1}$  e  $g^{-1}$  e em seguida  $f^{-1} \circ g^{-1}$ , pois  $(g \circ f)^{-1} = f^{-1} \circ g^{-1}$ .

Aplicando a regra prática em  $f(x) = 3x - 2$  e  $g(x) = 2x + 5$ , temos:

$$f^{-1}(x) = \frac{x + 2}{3} \quad \text{e} \quad g^{-1}(x) = \frac{x - 5}{2}$$

$$(f^{-1} \circ g^{-1})(x) = f^{-1}(g^{-1}(x)) = \frac{g^{-1}(x) + 2}{3} = \frac{\frac{x - 5}{2} + 2}{3} = \frac{x - 1}{6}$$

portanto,  $(g \circ f)^{-1}(x) = \frac{x - 1}{6}$ .

Resposta:  $(g \circ f): \mathbb{R} \rightarrow \mathbb{R}$

$$(g \circ f)^{-1}(x) = \frac{x - 1}{6}$$

510. Dadas as funções  $f$  e  $g$ , determine a função inversa de  $g \circ f$ :

a)  $f: \mathbb{R} \rightarrow \mathbb{R}$  e  $g: \mathbb{R} \rightarrow \mathbb{R}$   
 $f(x) = 4x + 1$  e  $g(x) = 3x - 5$

b)  $f: \mathbb{R} \rightarrow \mathbb{R}$  e  $g: \mathbb{R} \rightarrow \mathbb{R}$   
 $f(x) = x^3$  e  $g(x) = 2x + 3$

c)  $f: \mathbb{R}_+ \rightarrow \mathbb{R}_+$  e  $g: \mathbb{R}_+ \rightarrow C = \{x \in \mathbb{R} \mid x \leq 4\}$   
 $f(x) = x^2$  e  $g(x) = 4 - x$

d)  $A = \left\{x \in \mathbb{R} \mid x \geq \frac{3}{2}\right\}$ ,  $B = \left\{x \in \mathbb{R} \mid x \geq -\frac{9}{4}\right\}$   
 $f: A \rightarrow B$  e  $g: B \rightarrow \mathbb{R}_+$   
 $f(x) = x^2 - 3x$  e  $g(x) = 4x + 9$

e)  $A = \{x \in \mathbb{R} \mid x \geq 1\}$ ,  $C = \{x \in \mathbb{R} \mid x \geq 2\}$   
 $f: A \rightarrow \mathbb{R}_+$  e  $g: \mathbb{R}_+ \rightarrow C$   
 $f(x) = x^2 - 1$  e  $g(x) = \sqrt{x + 4}$

511. Sejam os conjuntos  $A = \{x \in \mathbb{R} \mid x \geq -2\}$ ,  $B = \{x \in \mathbb{R} \mid x \geq -4\}$  e  $C = \{x \in \mathbb{R} \mid x \geq -1\}$  e as funções  $f$  de  $A$  em  $B$  definida por  $f(x) = x^2 + 4x$  e  $g$  de  $B$  em  $C$  definida por  $g(x) = x^2 - 1$ . Responda: existe  $(g \circ f)^{-1}$ ? Justifique a resposta.

512. Sejam os conjuntos  $A = \left\{x \in \mathbb{R} \mid x \leq \frac{1}{2}\right\}$  e  $B = \{x \in \mathbb{R} \mid x \geq -1\}$  e as funções:  $f$  de  $A$  em  $\mathbb{R}_-$  definida por  $f(x) = 2x - 1$ ,  $g$  de  $\mathbb{R}_-$  em  $\mathbb{R}_+$  definida por  $g(x) = x^2$  e  $h$  de  $\mathbb{R}_+$  em  $B$  definida por  $h(x) = 4x - 1$ . Determine a função inversa de  $h \circ (g \circ f)$ .



## LEITURA

## Bertrand Russell e o Logicismo

Hygino H. Domingues

A filosofia iniciou-se com Tales de Mileto (c. 585 a.C.), o primeiro matemático a ter seu nome gravado na história. A filosofia moderna tem como seu marco inicial *O discurso do método* (1636), do grande matemático francês René Descartes. Ainda no século XVII brilhariam simultaneamente na filosofia e na matemática Pascal e Leibniz. No nosso século talvez ninguém encarne melhor essa dualidade científica do que Bertrand Russell (1872-1970).


Russell nasceu em Trelleck, País de Gales, numa família em que a tradição liberal constituía uma vertente destacada. O avô, Lorde John Russell, que chegou a primeiro-ministro no reinado da rainha Vitória, notabilizou-se na política por suas idéias reformistas (por exemplo, em favor da instrução popular). Era tão admirado que em suas viagens pelo interior o povo enfileirava-se à beira das estradas por onde passava para aclamá-lo. Uma frase sua era citada repetidamente: “Quando me perguntam se uma nação está amadurecida para a liberdade, respondo: acaso existe algum homem amadurecido para ser déspota?”. A mãe de Bertrand era uma conhecida líder feminista; o pai, Visconde de Amberley, pretendia educá-lo no agnosticismo. Mas ambos morreram antes de ele completar 4 anos de idade. Assim, B. Russell acabou sendo educado por preceptores e governantas, segundo as idéias do ramo conservador da família. Mas não adiantou. Segundo suas próprias palavras: “Quanto à religião, passei a não acreditar primeiro no livre-arbítrio, depois na imortalidade e finalmente em Deus”. E em matéria de moral, a vigente em seu tempo lhe parecia demasiado estreita e preconceituosa...

Aos 18 anos de idade B. Russell matriculou-se no Trinity College da Universidade de Cambridge, a fim de estudar matemática e filosofia. Nessa época a fundamentação rigorosa da matemática ainda não chegara a Cambridge, o que um espírito agudo e crítico como ele não deixaria passar em branco. Em *Meu pensamento filosófico* escreveu: “Aqueles que me ensinaram o cálculo infinitesimal não conheciam provas convincentes de seus teoremas fundamentais e tentaram fazer-me aceitar os sofismas oficiais como um ato de fé”.

Certamente foi essa preocupação com a fundamentação rigorosa da matemática que o impeliu, desde logo, para o campo da lógica. Esta, desde Boole (1815-1864), vinha se utilizando de métodos matemáticos, como o emprego de um simbolismo e de demonstrações de princípios lógicos a partir de axiomas. Gottlob Frege (1848-1925), o expoente máximo da lógica em seu tempo, defendia a tese de que a matemática é um ramo da lógica, tese à qual Russell aderiu decididamente. Isso mesmo tendo encontrado falhas na obra de Frege. De fato,



em carta de 1902 Russell expunha a Frege uma antinomia que, segundo este, numa demonstração talvez exagerada de honestidade científica, derrubava os fundamentos de suas *Leis fundamentais*, uma obra cujo segundo volume estava para ser lançado. É que essa obra usava o conceito de conjunto de todos os conjuntos que leva a contradições. Era preciso eliminar da teoria dos conjuntos conceitos como esse...



Bertrand Russell (1872-1970).

A meta de Russell, de reduzir a matemática à lógica; traduziu-se num programa ou filosofia matemática conhecida como *logicismo*. Esse programa foi grandemente desenvolvido na obra *Principia Mathematica*, em três volumes, publicados respectivamente em 1910, 1912 e 1913, de autoria de Russell e A.N. Whitehead (1861-1947). Mas essa tentativa, como outras, de impor certos limites à matemática, apesar de produzir frutos muito positivos, ficou aquém da expectativa dos que a empreenderam e mostra vários pontos passíveis de críticas. Nas primeiras linhas de *Meu pensamento filosófico* Russell registrou: “Quanto aos fundamentos da matemática, não cheguei a parte alguma”.

A dedicação de Russell à matemática e à filosofia não o impediu de, até o fim de seus dias, engajar-se firmemente nas grandes questões sociais de seu tempo. Assim é que, em 1916, foi destituído de sua cátedra em Cambridge, considerado traidor da pátria e preso, por sua atitude pacifista em face da Primeira Guerra Mundial. Alguns anos antes do fim de sua vida não raro aparecia à frente de passeatas pela proscrição de armas nucleares e contra a Guerra do Vietnã.

Em 1940, quando era professor da Universidade da Califórnia, o Conselho do City College de Nova Iorque aprovou por unanimidade a indicação do nome de Russell para uma cadeira de seu Departamento de Filosofia. Mas houve uma reação tão forte de alguns setores da Igreja que sua nomeação acabou sendo obstada na Justiça. A propósito declarou John Dewey: “Como americanos não nos resta senão enrubescer diante dessa mancha em nossa reputação de agir com lisura”. Isso não impediu, contudo, que continuasse a ensinar nos Estados Unidos: a Universidade de Harvard acolheu-o prazerosamente.

Em 1944 voltou à Inglaterra, onde o rei George VI conferiu-lhe a Ordem do Mérito. Em 1950 foi agraciado com o Prêmio Nobel de Literatura. (Talvez não seja demais lembrar que essa láurea não é conferida às áreas de matemática e filosofia.)

# Equações Irracionais

Equação irracional é uma equação em que há incógnita sob um ou mais radicais.

## Exemplos

$$\sqrt{x-2} = 3, \quad \sqrt[3]{2x+1} = 2, \quad \sqrt{3x+2} = x+2, \quad \sqrt{2x+1} + \sqrt{2x-4} = 5.$$

Para resolvermos uma equação irracional, devemos transformá-la, eliminando os radicais, bastando para tanto elevá-la a potências convenientes. Não devemos esquecer que este procedimento pode introduzir raízes estranhas à equação proposta inicialmente.

### 153. Equação $\sqrt{f(x)} = g(x)$

Façamos o estudo da equação irracional do tipo  $\sqrt{f(x)} = g(x)$ .

Elevando ambos os membros ao quadrado, obtemos:

$$f(x) = [g(x)]^2.$$

As duas equações podem ser escritas

$$\sqrt{f(x)} - g(x) = 0 \quad \text{e} \quad f(x) - [g(x)]^2 = 0$$

ou

$$\sqrt{f(x)} - g(x) = 0 \quad (1) \quad \text{e} \quad (\sqrt{f(x)} - g(x)) \cdot (\sqrt{f(x)} + g(x)) = 0 \quad (2).$$

É claro que toda raiz da equação (1) é raiz da equação (2) porque, anulando-se  $\sqrt{f(x)} - g(x)$ , anular-se-á o produto  $(\sqrt{f(x)} - g(x))(\sqrt{f(x)} + g(x))$ .

Entretanto, a recíproca não é verdadeira, isto é, uma raiz da equação (2) pode não ser raiz da equação (1). De fato, uma raiz de (2) anula um dos fatores, podendo anular  $\sqrt{f(x)} + g(x)$  sem anular  $\sqrt{f(x)} - g(x)$ .

Para verificarmos se  $\alpha$ , raiz da equação (2), também é raiz da equação (1), podemos proceder de dois modos:

1º) verificando na equação proposta, isto é, substituindo  $x$  por  $\alpha$  em (1) e notando se aparece uma igualdade verdadeira;

2º) verificando se  $g(\alpha) \geq 0$ .

Mostremos que  $g(\alpha) \geq 0 \implies \alpha$  é raiz de (1):

$$f(\alpha) = (g(\alpha))^2 \implies [\sqrt{f(\alpha)} - g(\alpha)] [\sqrt{f(\alpha)} + g(\alpha)] = 0 \implies$$

$$\implies \begin{cases} g(\alpha) = \sqrt{f(\alpha)} \\ \text{ou} \\ g(\alpha) = -\sqrt{f(\alpha)} \end{cases}$$

Como  $g(\alpha) \geq 0$ , resulta que só  $g(\alpha) = \sqrt{f(\alpha)}$  é verdadeira, isto é,  $\alpha$  é raiz da equação  $g(x) = \sqrt{f(x)}$ .

Esquemáticamente, temos:

$$\sqrt{f(x)} = g(x) \iff f(x) = [g(x)]^2 \text{ e } g(x) \geq 0$$

## EXERCÍCIOS

**513.** Resolva as equações, no conjunto dos números reais:

a)  $\sqrt{2x - 3} = 5$

b)  $\sqrt{x^2 + 5x + 1} + 1 = 2x$

### Solução

a) Não há possibilidade de introduzir raízes estranhas ao quadrarmos esta equação, pois:

$$g(x) = 5 > 0, \forall x \in \mathbb{R}$$

$$\sqrt{2x - 3} = 5 \implies 2x - 3 = 5^2 \implies x = 14$$

$$S = \{14\}.$$



- b) Antes de quadrarmos esta equação é conveniente isolarmos a raiz em um dos membros. Assim, temos:

$$\begin{aligned}\sqrt{x^2 + 5x + 1} + 1 &= 2x \implies \sqrt{x^2 + 5x + 1} = 2x - 1 \implies \\ \implies x^2 + 5x + 1 &= (2x - 1)^2 \implies x^2 + 5x + 1 = 4x^2 - 4x + 1 \implies \\ \implies 3x^2 - 9x &= 0 \implies x = 0 \text{ ou } x = 3\end{aligned}$$

$x = 0$  não é solução, pois  $\sqrt{0^2 + 5 \cdot 0 + 1} + 1 \neq 2 \cdot 0$

$x = 3$  é solução, pois  $\sqrt{3^2 + 5 \cdot 3 + 1} + 1 = 2 \cdot 3$ .

Para verificar se  $x = 0$  ou  $x = 3$  são ou não soluções da equação proposta, podemos utilizar o segundo processo, como segue:

$$g(x) = 2x - 1$$

$$g(0) = -1 < 0 \implies x = 0 \text{ não é solução}$$

$$g(3) = 5 > 0 \implies x = 3 \text{ é solução.}$$

- 514.** Resolva, em  $\mathbb{R}$ , as equações irracionais:

a)  $\sqrt{3x - 2} = 4$

b)  $\sqrt{1 - 2x} = 3$

c)  $\sqrt{x^2 - 5x + 13} = 3$

d)  $\sqrt{2x^2 - 7x + 6} = 2$

e)  $\sqrt{3x^2 - 7x + 4} = 2$

f)  $\sqrt{16 + \sqrt{x + 4}} = 5$

g)  $\sqrt{5 + \sqrt{3 + x}} = 3$

h)  $\sqrt{5x + 10} = 17 - 4x$

i)  $x + \sqrt{25 - x^2} = 7$

j)  $x - \sqrt{25 - x^2} = 1$

k)  $2 - x - 2\sqrt{x + 1} = 0$

l)  $\sqrt{x^2 + x - 1} = 2 - x$

m)  $\sqrt{9x^2 + 2x - 3} + 2 = 3x$

n)  $\sqrt{x^4 + 2x^2 - x + 1} = 1 - x^2$

o)  $\sqrt{1 - \sqrt{x^4 - x^2}} = x - 1$

p)  $\sqrt{2x + \sqrt{6x^2 + 1}} = x + 1$

- 515.** Resolva a equação  $\sqrt{4x + 5} - x = 0$ , em  $\mathbb{R}$ .

- 516.** Calcule  $x$ , sabendo que ele é dado pela expressão  $x = |\sqrt{2 + x}|$ .

- 517.** Julgue os seguintes itens.

a)  $27 + 9a + a^2 + (3^{-1}a)^3 = \left(\frac{9 + a}{3}\right)^3$ .

b)  $2,333\dots = 2 + 0,3 + 0,03 + \dots = 2\frac{1}{3}$ .

c) A equação  $x + \sqrt{x} - 2 = 0$  possui duas raízes reais.

d) Se  $a$  é um número real, então  $|a| - |a + 1| < 0$ .

e) Se  $a, b, \frac{5}{12}, c, d$  estão em progressão aritmética, então

$$a + b + c + d = \frac{5}{3}.$$

- f)  $|x - 1| (x + 1) (x - 2) < 0$  para todo  $x \in \mathbb{R}$  tal que  $-1 < x < 2$ .  
 g) Se  $a$  e  $b$  são números reais positivos, então

$$\frac{b^4 - a^2}{(b - \sqrt{a})} = b^3 + a^{\frac{1}{2}} b + ab + a^{\frac{3}{2}}.$$

- 518.** Verifique se existem números reais  $x$  tais que  $2 - x = \sqrt{x^2 - 12}$ .  
 Justifique a resposta.

- 519.** Resolva as equações, no conjunto dos reais:

a)  $x^3 - 3\sqrt{x^3} + 2 = 0$  b)  $\sqrt[4]{x} + 2\sqrt{x} - 1 = 0$

### Soluções

- a) Fazendo  $\sqrt{x^3} = y$  e  $x^3 = y^2$ , temos:

$$y^2 - 3y + 2 = 0 \implies y = 1 \text{ ou } y = 2$$

mas  $y = \sqrt{x^3}$ ; logo:

$$\sqrt{x^3} = 1 \implies x^3 = 1 \implies x = 1$$

$$\sqrt{x^3} = 2 \implies x^3 = 4 \implies x = \sqrt[3]{4}$$

$$S = \{1, \sqrt[3]{4}\}.$$

- b) Fazendo  $\sqrt[4]{x} = y$  e  $\sqrt{x} = y^2$ , temos:

$$2y^2 + y - 1 = 0 \implies y = \frac{1}{2} \text{ ou } y = -1$$

Agora calculemos  $x$ :

$$y = -1 \implies \sqrt[4]{x} = -1 \implies x \notin \mathbb{R}$$

$$y = \frac{1}{2} \implies \sqrt[4]{x} = \frac{1}{2} \implies x = \frac{1}{16}$$

$$S = \left\{ \frac{1}{16} \right\}.$$

- 520.** Resolva as equações, em  $\mathbb{R}$ :

a)  $x - 5\sqrt{x} + 6 = 0$

b)  $9x + 12\sqrt{x} - 5 = 0$

c)  $6x + 7\sqrt{x} + 2 = 0$

d)  $x - 2\sqrt{x} - 2 = 0$

e)  $x^3 - 6\sqrt{x^3} + 5 = 0$

f)  $x^3 + 7\sqrt{x^3} - 8 = 0$

g)  $\sqrt[4]{x} - \sqrt{x} + 2 = 0$

h)  $\sqrt{x} - \sqrt[4]{x} - 6 = 0$

i)  $3\sqrt[4]{x} - 2\sqrt{x} - 1 = 0$

j)  $9\sqrt[4]{x^3} - 8\sqrt{x^3} - 1 = 0$



**521.** Resolva, em  $\mathbb{R}$ , a equação:

$$\sqrt{x^2 + 3x + 6} - 3x = x^2 + 4$$

**Solução**

A equação proposta é equivalente a

$$x^2 + 3x + 4 - \sqrt{x^2 + 3x + 6} = 0 \implies x^2 + 3x + 6 - \sqrt{x^2 + 3x + 6} - 2 = 0.$$

Fazendo  $\sqrt{x^2 + 3x + 6} = y$ , temos:

$$y^2 - y - 2 = 0 \implies y = 2 \text{ ou } y = -1$$

$y = -1$  não convém, pois  $y = \sqrt{x^2 + 3x + 6} \geq 0$ .

Para  $y = 2$ , temos:

$$\sqrt{x^2 + 3x + 6} = 2 \implies x^2 + 3x + 6 = 2^2 \implies x^2 + 3x + 2 = 0 \implies$$

$$\implies x = -2 \text{ ou } x = -1$$

$$S = \{-2, -1\}.$$

**522.** Resolva as equações, em  $\mathbb{R}$ :

a)  $3x^2 + 5x + 4 = 2\sqrt{3x^2 + 5x + 7}$

d)  $x^2 + 4\sqrt{x^2 - 2x - 6} = 2x + 3$

b)  $x^2 + \sqrt{x^2 - 4x - 1} = 4x + 7$

e)  $3x^2 - 4x + \sqrt{3x^2 - 4x - 6} = 18$

c)  $x^2 - x + 3 = 5\sqrt{x^2 - x - 3}$

**523.** Resolva, em  $\mathbb{R}_+$ , a equação:

$$x^{\sqrt{x}} = \sqrt{x^x}$$

**524.** Resolva, em  $\mathbb{R}$ , a equação:

$$\sqrt{2x + 1} + \sqrt{2x - 4} = 5$$

**Solução**

Antes de elevarmos ao quadrado, devemos transpor uma das raízes para o outro membro. Assim, temos:

$$\sqrt{2x + 1} + \sqrt{2x - 4} = 5 \implies \sqrt{2x + 1} = 5 - \sqrt{2x - 4}$$

$$\implies (\sqrt{2x + 1})^2 = (5 - \sqrt{2x - 4})^2 \implies 2x + 1 = 25 - 10\sqrt{2x - 4} + 2x - 4 \implies$$

$$\implies 10\sqrt{2x - 4} = 20 \implies \sqrt{2x - 4} = 2 \implies 2x - 4 = 2^2 \implies x = 4$$

$x = 4$  é solução, pois:

$$\sqrt{2 \cdot 4 + 1} + \sqrt{2 \cdot 4 - 4} = 5$$

$$S = \{4\}.$$

**525.** Resolva, em  $\mathbb{R}$ , as equações:

a)  $\sqrt{36 + x} = 2 + \sqrt{x}$

b)  $\sqrt{x + 1} + \sqrt{x - 1} = 1$

c)  $\sqrt{x + 1} - \sqrt{x - 1} = 1$

d)  $\sqrt{x - 9} - \sqrt{x - 18} = 1$

e)  $\sqrt{x - 2} - \sqrt{x - 14} = 1$

f)  $\sqrt{x - 4} + \sqrt{x + 24} = 14$

**526.** Resolva, em  $\mathbb{R}$ , as equações:

a)  $\sqrt{x + 1} = \sqrt{2x + 1}$

b)  $\sqrt{2x - 3} + \sqrt{4x + 1} = 4$

c)  $\sqrt{4x + 1} - \sqrt{x - 2} = 3$

d)  $\sqrt{2x + 2} - \sqrt{x - 1} = 2$

e)  $\sqrt{x + 1} - 1 = \sqrt{x - \sqrt{x + 8}}$

f)  $\sqrt{x} - \sqrt{x - \sqrt{1 - x}} = 1$

g)  $\sqrt{1 + x + x^2} + \sqrt{1 - x + x^2} = 4$

**527.** Resolva, em  $\mathbb{R}$ , as equações:

a)  $\sqrt{x + 10} - \sqrt{x + 3} = \sqrt{4x - 23}$

b)  $\sqrt{x + 4} + 2\sqrt{x + 1} = \sqrt{x + 20}$

c)  $\sqrt{x + 5} = \sqrt{4x + 9} - \sqrt{x}$

d)  $\sqrt{x + 6} + \sqrt{x + 1} = \sqrt{7x + 4}$

e)  $\sqrt{4x - 3a} - \sqrt{x + 6a} = \sqrt{x - 3a}$

**528.** Resolva, em  $\mathbb{R}$ , a equação:

$$\sqrt{x - 2} + \sqrt{x - 7} = \sqrt{x + 5} + \sqrt{x - 10}.$$

### Solução

$$\sqrt{x - 2} + \sqrt{x - 7} = \sqrt{x + 5} + \sqrt{x - 10} \Rightarrow$$

$$\Rightarrow (\sqrt{x - 2} + \sqrt{x - 7})^2 = (\sqrt{x + 5} + \sqrt{x - 10})^2 \Rightarrow$$

$$\Rightarrow x - 2 + x - 7 + 2\sqrt{x^2 - 9x + 14} = x + 5 + x - 10 + 2\sqrt{x^2 - 5x - 50} \Rightarrow$$

$$\Rightarrow 2\sqrt{x^2 - 9x + 14} = 4 + 2\sqrt{x^2 - 5x - 50} \Rightarrow$$

$$\Rightarrow \sqrt{x^2 - 9x + 14} = 2 + \sqrt{x^2 - 5x - 50} \Rightarrow$$

$$\Rightarrow 60 - 4x = 4\sqrt{x^2 - 5x - 50} \Rightarrow 15 - x = \sqrt{x^2 - 5x - 50} \Rightarrow$$

$$\Rightarrow 225 - 30x + x^2 = x^2 - 5x - 50 \Rightarrow -25x = -275 \Rightarrow x = 11$$

$x = 11$  é solução, pois

$$\sqrt{11 - 2} + \sqrt{11 - 7} = \sqrt{11 + 5} + \sqrt{11 - 10}$$

$$S = \{11\}.$$

**529.** Resolva, em  $\mathbb{R}$ , as equações:

a)  $\sqrt{2x + 3} + \sqrt{3x + 2} - \sqrt{2x + 5} = \sqrt{3x}$

b)  $\sqrt{x + 6} + \sqrt{x - 10} = \sqrt{x + 17} + \sqrt{x - 15}$

c)  $\sqrt{x - 1} + \sqrt{x + 2} = \sqrt{x + 34} - \sqrt{x + 7}$

d)  $\sqrt{8x + 1} - \sqrt{2x - 2} = \sqrt{7x + 4} - \sqrt{3x - 5}$

530. Resolva, em  $\mathbb{R}$ , as equações:

$$a) x + \sqrt{x^2 + 16} = \frac{40}{\sqrt{x^2 + 16}}$$

$$b) \sqrt{x} + \sqrt{x+2} = \frac{4}{\sqrt{x+2}}$$

$$c) \sqrt{5+x} + \sqrt{5-x} = \frac{12}{\sqrt{5+x}}$$

$$d) \frac{\sqrt{4x+20}}{4+\sqrt{x}} = \frac{4-\sqrt{x}}{\sqrt{x}}$$

$$e) \sqrt{x-1} + \sqrt{2x-2} = 2$$

531. Resolva, em  $\mathbb{R}$ , a equação:

$$\frac{2}{x + \sqrt{2-x^2}} + \frac{2}{x - \sqrt{2-x^2}} = x$$

### Solução

Multiplicando os termos da primeira fração por  $x - \sqrt{2-x^2}$  e os da segunda por  $x + \sqrt{2-x^2}$ , temos:

$$\frac{2(x - \sqrt{2-x^2})}{2x^2 - 2} + \frac{2(x + \sqrt{2-x^2})}{2x^2 - 2} = x \Rightarrow$$

$$\Rightarrow \frac{x - \sqrt{2-x^2}}{x^2 - 1} + \frac{x + \sqrt{2-x^2}}{x^2 - 1} = x \Rightarrow 2x = x(x^2 - 1) \Rightarrow$$

$$\Rightarrow x^3 - 3x = 0 \Rightarrow x(x^2 - 3) = 0 \Rightarrow x = 0 \text{ ou } x = \sqrt{3} \text{ ou } x = -\sqrt{3}$$

$x = \sqrt{3}$  ou  $x = -\sqrt{3}$  não são soluções, pois devemos ter  $2 - x^2 \geq 0$  para que seja real a expressão  $\sqrt{2-x^2}$ . Somente  $x = 0$  é solução e isso pode ser verificado facilmente, substituindo  $x$  por zero na equação proposta.

$$S = \{0\}.$$

532. Resolva, em  $\mathbb{R}$ , as equações:

$$a) \frac{1}{\sqrt{x} + \sqrt{x^2 - 1}} + \frac{1}{\sqrt{x} - \sqrt{x^2 - 1}} = \sqrt{2(x^2 + 1)}$$

$$b) \frac{1}{1 - \sqrt{1-x}} - \frac{1}{1 + \sqrt{1-x}} = \frac{\sqrt{3}}{x}$$

$$c) \frac{x + \sqrt{3}}{\sqrt{x} + \sqrt{x + \sqrt{3}}} + \frac{x - \sqrt{3}}{\sqrt{x} - \sqrt{x - \sqrt{3}}} = \sqrt{x}$$

**533.** Resolva as equações abaixo, em  $\mathbb{R}$ :

$$a) \frac{1}{\sqrt{3+x} + \sqrt{3-x}} + \frac{1}{\sqrt{3+x} - \sqrt{3-x}} = 2$$

$$b) \sqrt{x + \sqrt{x}} - \sqrt{x - \sqrt{x}} = \frac{4}{3} \sqrt{\frac{x}{x + \sqrt{x}}}$$

$$c) \frac{1+x - \sqrt{2x+x^2}}{1+x + \sqrt{2x+x^2}} = \frac{\sqrt{2+x} + \sqrt{x}}{\sqrt{2+x} - \sqrt{x}}$$

**534.** Sendo  $a$  e  $b$  números reais, resolva a equação:

$$\sqrt{a-x} + \sqrt{b-x} = \sqrt{a+b-2x}$$

**535.** Sendo  $a \in \mathbb{R}_+^*$ , resolva a equação:

$$2x + 2\sqrt{a^2 + x^2} = \frac{5a^2}{\sqrt{a^2 + x^2}}$$

**536.** Sendo  $a$  e  $b$  números reais não negativos, resolva e discuta a equação:

$$\sqrt{x+a} = \sqrt{x} + \sqrt{b}$$

**537.** Sabendo que  $a$  e  $b$  são números reais e positivos, resolva as equações:

$$a) \frac{\sqrt{a+x} + \sqrt{a-x}}{\sqrt{a+x} - \sqrt{a-x}} = \sqrt{b}$$

$$c) \frac{\sqrt{a+x} + \sqrt{a-x}}{\sqrt{a+x} - \sqrt{a-x}} = \frac{b}{a}$$

$$b) \frac{\sqrt{a} + \sqrt{x-b}}{\sqrt{b} + \sqrt{x-a}} = \sqrt{\frac{a}{b}}$$

**538.** Sendo  $a$  e  $b$  números reais não nulos, resolva a equação:

$$\sqrt{a^2 + x\sqrt{b^2 + x^2 - a^2}} = x - a$$

**539.** Trabalhando no conjunto dos números reais, resolva a equação  $\sqrt{x-1} = a-x$ , determinando ao mesmo tempo os valores de  $a$  para que a equação tenha efetivamente solução. Encontre a fórmula que dá a solução em termos do parâmetro  $a$  e explique por que essa fórmula (e não outra) é a solução. Faça os gráficos das funções  $y = \sqrt{x-1}$  e  $y = a-x$  e interprete a solução da equação dada em termos desses gráficos.

**540.** Resolva os sistemas de equações, em  $\mathbb{R} \times \mathbb{R}$ :

$$a) \begin{cases} xy = 36 \\ \sqrt{x} + \sqrt{y} = 5 \end{cases}$$

$$c) \begin{cases} \sqrt{\frac{x}{y}} + \sqrt{\frac{y}{x}} = \frac{5}{2} \\ x + y = 10 \end{cases}$$

$$b) \begin{cases} \sqrt{x} - \sqrt{y} = 2\sqrt{xy} \\ x + y = 20 \end{cases}$$

$$d) \begin{cases} x + y - \sqrt{xy} = 7 \\ x^2 + y^2 + xy = 133 \end{cases}$$

**541.** Resolva os sistemas de equações, em  $\mathbb{R} \times \mathbb{R}$ :

$$\begin{aligned} \text{a)} \quad & \begin{cases} 5\sqrt{x^2 - 3y - 1} + \sqrt{x + 6y} = 19 \\ 3\sqrt{x^2 - 3y - 1} = 1 + 2\sqrt{x + 6y} \end{cases} \\ \text{b)} \quad & \begin{cases} \sqrt{x + y} + \sqrt{2x + 4y} = 4 + \sqrt{2} \\ \sqrt{x + 2y} - \sqrt{2x + 2y} = 2\sqrt{2} - 2 \end{cases} \end{aligned}$$

**154.** Equação  $\sqrt[3]{f(x)} = g(x)$

Façamos agora o estudo da equação do tipo  $\sqrt[3]{f(x)} = g(x)$ .

Vamos mostrar que ao elevarmos esta equação ao cubo não introduzimos raízes estranhas, isto é, obtemos uma equação equivalente.

$$\sqrt[3]{f(x)} = g(x) \Leftrightarrow f(x) = [g(x)]^3.$$

De fato, considerando estas duas equações, temos:

$$\sqrt[3]{f(x)} = g(x) \quad \text{e} \quad f(x) = [g(x)]^3$$

ou

$$\sqrt[3]{f(x)} - g(x) = 0 \quad (1) \quad \text{e} \quad f(x) - [g(x)]^3 = 0 \quad (2).$$

Observemos em (2) que:

$$f(x) - [g(x)]^3 = [\sqrt[3]{f(x)} - g(x)] \cdot [(\sqrt[3]{f(x)})^2 + g(x) \cdot \sqrt[3]{f(x)} + (g(x))^2] = 0.$$

Como o fator  $(\sqrt[3]{f(x)})^2 + g(x) \cdot \sqrt[3]{f(x)} + (g(x))^2$  é sempre positivo, pois

$$(\sqrt[3]{f(x)})^2 + g(x) \cdot \sqrt[3]{f(x)} + (g(x))^2 = \left[ \sqrt[3]{f(x)} + \frac{g(x)}{2} \right]^2 + \frac{3 \cdot [g(x)]^2}{4},$$

resulta que o fator  $\sqrt[3]{f(x)} - g(x)$  é nulo e a equação (2) tem sempre as mesmas soluções da equação (1), isto é, (1) e (2) são equivalentes.

## EXERCÍCIOS

**542.** Resolva, em  $\mathbb{R}$ , as equações:

a)  $\sqrt[3]{2x + 1} = 3$

b)  $\sqrt[3]{4x^2 + 9x + 1} = x + 1$



**Solução**

$$a) \sqrt[3]{2x + 1} = 3 \implies 2x + 1 = 3^3 \implies x = 13$$

$$S = \{13\}.$$

$$b) \sqrt[3]{4x^2 + 9x + 1} = x + 1 \implies 4x^2 + 9x + 1 = (x + 1)^3 \implies$$

$$\implies 4x^2 + 9x + 1 = x^3 + 3x^2 + 3x + 1 \implies x^3 - x^2 - 6x = 0 \implies$$

$$\implies x(x^2 - x - 6) = 0 \implies x = 0 \text{ ou } x = 3 \text{ ou } x = -2$$

$$S = \{0, 3, -2\}.$$

**543.** Resolva, em  $\mathbb{R}$ , as equações:

$$a) \sqrt[3]{3x - 5} = 1$$

$$f) \sqrt[3]{x^2 - 8x + 40} = 3$$

$$b) \sqrt[3]{4x + 1} = 2$$

$$g) \sqrt[3]{x + 1} = 2x + 1$$

$$c) \sqrt[3]{2x + 5} = -3$$

$$h) \sqrt[3]{3x - 1} = 2x - 1$$

$$d) \sqrt[3]{x^2 - x - 4} = 2$$

$$i) \sqrt[3]{2x^2 + 3x - 1} = 2x - 1$$

$$e) \sqrt[3]{3x^2 - 7x - 5} = 1$$

$$j) \sqrt[3]{8 + 15x - 5x^2 - 3x^3} = x + 2$$

**544.** Resolva a equação  $2\sqrt[3]{x^4} - 3\sqrt[3]{x^2} - 20 = 0$  no conjunto dos reais.

**545.** Resolva a equação  $\sqrt[3]{x + 49} - \sqrt[3]{x - 49} = 2$ , para  $x$  real.

**Solução**

$$\sqrt[3]{x + 49} - \sqrt[3]{x - 49} = 2 \implies \sqrt[3]{x + 49} = 2 + \sqrt[3]{x - 49} \implies (\sqrt[3]{x + 49})^3 =$$

$$= (2 + \sqrt[3]{x - 49})^3 \implies x + 49 = 8 + 12\sqrt[3]{x - 49} + 6(\sqrt[3]{x - 49})^2 + x - 49 \implies$$

$$\implies 6(\sqrt[3]{x - 49})^2 + 12\sqrt[3]{x - 49} - 90 = 0 \implies (\sqrt[3]{x - 49})^2 + 2\sqrt[3]{x - 49} - 15 = 0.$$

Fazendo  $\sqrt[3]{x - 49} = y$ , temos:

$$y^2 + 2y - 15 = 0 \implies y = 3 \text{ ou } y = -5, \text{ mas } y = \sqrt[3]{x - 49}; \text{ então:}$$

$$\sqrt[3]{x - 49} = 3 \implies x - 49 = 3^3 \implies x = 76$$

$$\sqrt[3]{x - 49} = -5 \implies x - 49 = (-5)^3 \implies x = -76$$

$$S = \{76, -76\}.$$

**546.** Resolva a equação  $\sqrt[3]{x + 1} - \sqrt[3]{x - 6} = 1$ , em  $\mathbb{R}$ .

**547.** Se o número  $x$  é solução da equação  $\sqrt[3]{x + 9} - \sqrt[3]{x - 9} = 3$ , determine o valor de  $x^2$ .

**548.** Resolva a equação  $\sqrt[3]{x - 1} + \sqrt[3]{x - 2} = \sqrt[3]{2x - 3}$ , em  $\mathbb{R}$ .

- 549.** Resolva a equação  $\sqrt[3]{2-x} = 1 - \sqrt{x-1}$ , para  $x$  real.
- 550.** Resolva a equação  $\sqrt[3]{x+1} + \sqrt[3]{x-1} = \sqrt[3]{5x}$ , no conjunto  $\mathbb{R}$ .

**Solução**

Para resolvermos esta equação vamos utilizar a identidade

$$(A + B)^3 = A^3 + B^3 + 3AB(A + B).$$

Fazendo  $A = \sqrt[3]{x+1}$ ,  $B = \sqrt[3]{x-1}$  e  $A + B = \sqrt[3]{5x}$ , temos:

$$(\sqrt[3]{5x})^3 = (\sqrt[3]{x+1})^3 + (\sqrt[3]{x-1})^3 + 3\sqrt[3]{x+1} \cdot \sqrt[3]{x-1} \cdot \sqrt[3]{5x} \Rightarrow$$

$$\Rightarrow x+1+x-1+3\sqrt[3]{5x^3-5x}=5x \Rightarrow \sqrt[3]{5x^3-5x}=x \Rightarrow 5x^3-5x=x^3 \Rightarrow$$

$$\Rightarrow 4x^3-5x=0 \Rightarrow x(4x^2-5)=0 \Rightarrow x=0 \text{ ou } x=\frac{\sqrt{5}}{2} \text{ ou } x=-\frac{\sqrt{5}}{2}$$

$$S = \left\{ 0, \frac{\sqrt{5}}{2}, -\frac{\sqrt{5}}{2} \right\}.$$

- 551.** Resolva, em  $\mathbb{R}$ , as equações:

- a)  $\sqrt[3]{x+2} + \sqrt[3]{x-2} = \sqrt[3]{11x}$   
 b)  $\sqrt[3]{x+1} - \sqrt[3]{x-1} = \sqrt[3]{x^2-1}$   
 c)  $\sqrt[3]{1+\sqrt{x}} + \sqrt[3]{1-\sqrt{x}} = \sqrt[3]{5}$

- 552.** Resolva, em  $\mathbb{R} \times \mathbb{R}$ , o sistema de equações:

$$\begin{cases} x + y = 72 \\ \sqrt[3]{x} + \sqrt[3]{y} = 6 \end{cases}$$

# Inequações Irracionais

**155.** Inequação irracional é uma inequação em que há incógnita sob um ou mais radicais.

*Exemplos*

$$\sqrt{x+2} > 3, \sqrt{x^2-3x+4} > x, \sqrt{x+1} + \sqrt{x-3} > 2.$$

Observemos inicialmente que, se  $a$  e  $b$  são números reais não negativos, então:

$$\begin{aligned} a > b &\Leftrightarrow a^2 > b^2 \\ a < b &\Leftrightarrow a^2 < b^2 \end{aligned}$$

Assim, por exemplo, são *verdadeiras* as implicações

$$\begin{aligned} 2 < 5 &\Rightarrow 4 < 25 \\ \sqrt{3} > \sqrt{2} &\Rightarrow 3 > 2 \\ 4 < 9 &\Rightarrow 2 < 3 \end{aligned}$$

mas são *falsas* as implicações

$$\begin{aligned} -3 < -2 &\Rightarrow 9 < 4 \\ 2 > -5 &\Rightarrow 4 > 25 \\ 2 > -3 &\Rightarrow 4 > 9 \end{aligned}$$

**156. Teorema**

Se  $f(x) \geq 0$  e  $g(x) \geq 0$  em um conjunto de valores  $x$  pertencentes a  $A \subset \mathbb{R}$ , então são equivalentes as inequações  $f(x) > g(x)$  e  $[f(x)]^2 > [g(x)]^2$ .

*Demonstração*

Seja  $S_1$  o conjunto das soluções da inequação  $f(x) > g(x)$  e  $S_2$  o conjunto das soluções da inequação  $[f(x)]^2 > [g(x)]^2$ , isto é,

$$S_1 = \{x \in A \mid f(x) > g(x)\}$$

e

$$S_2 = \{x \in A \mid [f(x)]^2 > [g(x)]^2\}.$$

Para provarmos que as inequações  $f(x) > g(x)$  e  $[f(x)]^2 > [g(x)]^2$  são equivalentes, basta provarmos que  $S_1 = S_2$ .

De fato, para todo  $\alpha$  de  $S_1$ , temos:

$$\begin{aligned} \alpha \in S_1 \subset A &\implies f(\alpha) > g(\alpha) > 0 \implies \left\{ \begin{array}{l} f(\alpha) - g(\alpha) > 0 \\ \text{e} \\ f(\alpha) + g(\alpha) > 0 \end{array} \right\} \implies \\ &\implies [f(\alpha) - g(\alpha)] \cdot [f(\alpha) + g(\alpha)] > 0 \implies [f(\alpha)]^2 - [g(\alpha)]^2 > 0 \implies \\ &\implies [f(\alpha)]^2 > [g(\alpha)]^2 \implies \alpha \in S_2. \end{aligned}$$

Acabamos de provar que  $S_1 \subset S_2$ ; provemos agora que  $S_2 \subset S_1$ .

Para todo  $\alpha$  de  $S_2$ , temos:

$$\begin{aligned} \alpha \in S_2 \subset A &\implies \left\{ \begin{array}{l} \alpha \in S_2 \implies [f(\alpha)]^2 > [g(\alpha)]^2 \implies [f(\alpha)]^2 - [g(\alpha)]^2 > 0 \implies \\ \implies [f(\alpha) + g(\alpha)] \cdot [f(\alpha) - g(\alpha)] > 0 \\ \text{e} \\ \alpha \in A \implies f(\alpha) \geq 0 \text{ e } g(\alpha) \geq 0 \implies f(\alpha) + g(\alpha) \geq 0 \end{array} \right\} \implies \\ &\implies f(\alpha) - g(\alpha) > 0 \implies f(\alpha) > g(\alpha) \implies \alpha \in S_1. \end{aligned}$$

Vejam agora processos para resolvermos alguns tipos de inequações irracionais.

**157. Inequação irracional  $\sqrt{f(x)} < g(x)$** 

O processo para resolvermos esta inequação é:

1º) Estabelecemos o domínio de validade, isto é,

$$f(x) \geq 0 \text{ e } g(x) > 0 \quad (\text{I})$$

2º) Quadramos a inequação proposta e resolvemos

$$f(x) < [g(x)]^2 \quad \text{(II)}$$

As condições (I) e (II) podem ser agrupadas da seguinte forma:

$$0 \leq f(x) < [g(x)]^2 \text{ e } g(x) > 0.$$

Esquemáticamente, temos:

$$\sqrt{f(x)} < g(x) \Leftrightarrow 0 \leq f(x) < [g(x)]^2 \text{ e } g(x) > 0$$

Analogamente, podemos estabelecer para a inequação  $\sqrt{f(x)} \leq g(x)$ :

$$\sqrt{f(x)} \leq g(x) \Leftrightarrow 0 \leq f(x) \leq [g(x)]^2 \text{ e } g(x) \geq 0$$

## EXERCÍCIOS

**553.** Resolva, em  $\mathbb{R}$ , as inequações irracionais:

a)  $\sqrt{x^2 - 3x} < 2$

b)  $\sqrt{2x + 5} \leq x + 1$

**Solução**

$$a) \sqrt{x^2 - 3x} < 2 \Rightarrow 0 \leq x^2 - 3x < 4 \Rightarrow \begin{cases} x^2 - 3x \geq 0 \\ \text{e} \\ x^2 - 3x < 4 \end{cases}$$

$$\Rightarrow \begin{cases} x^2 - 3x \geq 0 \\ \text{e} \\ x^2 - 3x - 4 < 0 \end{cases} \Rightarrow \begin{cases} x \leq 0 \text{ ou } x \geq 3 \\ \text{e} \\ -1 < x < 4 \end{cases} \quad \text{(I)}$$






$$S = \{x \in \mathbb{R} \mid -1 < x \leq 0 \text{ ou } 3 \leq x < 4\}.$$





$$b) \sqrt{2x+5} \leq x+1 \Rightarrow \begin{cases} x+1 \geq 0 \\ 0 \leq 2x+5 \leq (x+1)^2 \end{cases}$$

$$\Rightarrow \begin{cases} x+1 \geq 0 \\ 2x+5 \geq 0 \\ 2x+5 \leq (x+1)^2 \end{cases} \Rightarrow \begin{cases} x+1 \geq 0 \\ 2x+5 \geq 0 \\ x^2-4 \geq 0 \end{cases} \Rightarrow \begin{cases} x \geq -1 \\ x \geq -\frac{5}{2} \\ x \leq -2 \text{ ou } x \geq 2 \end{cases} \begin{matrix} \text{(I)} \\ \text{(II)} \\ \text{(III)} \end{matrix}$$



$$S = \{x \in \mathbb{R} \mid x \geq 2\}.$$

**554.** Resolva as inequações, no conjunto dos números reais:

a)  $\sqrt{3x-2} < 2$

b)  $\sqrt{2x+5} \leq 3$

c)  $\sqrt{x^2-x-2} < 2$

d)  $\sqrt{3x^2-5x+2} \leq 2$

e)  $\sqrt{2x^2+x+3} < 1$

**555.** Resolva, em  $\mathbb{R}$ , as inequações:

a)  $\sqrt{4-3x} \leq x$

b)  $\sqrt{x+5} < x-1$

c)  $\sqrt{2x+9} < x-3$

d)  $\sqrt{x+3} \leq x+1$

e)  $\sqrt{x+1} < 3-x$

f)  $\sqrt{2x^2-x-6} \leq x$

g)  $\sqrt{x^2-3x+3} < 2x-1$

h)  $\sqrt{2x^2-5x-3} < x+3$

i)  $1 + \sqrt{x^2-3x+2} \leq 2x$

**556.** Resolva, em  $\mathbb{R}$ , a desigualdade:

$$1-3x > \sqrt{2+x^2-3x}$$

**158.** Inequação irracional  $\sqrt{f(x)} > g(x)$ 

O processo para resolução desta inequação consiste em duas partes, que são:

1.<sup>a</sup> parte

$$g(x) < 0 \quad \text{e} \quad f(x) \geq 0$$

pois, sendo  $g(x) < 0$  e  $f(x) \geq 0$ , a inequação  $\sqrt{f(x)} > g(x)$  está satisfeita.

2.<sup>a</sup> parte

a) Estabelecemos o domínio de validade da inequação, isto é:

$$f(x) \geq 0 \quad \text{e} \quad g(x) \geq 0 \quad (\text{I})$$

b) Quadramos a inequação proposta recaindo em:

$$f(x) > [g(x)]^2 \quad (\text{II})$$

As condições (I) e (II) podem ser agrupadas da seguinte forma:

$$f(x) > [g(x)]^2 \quad \text{e} \quad g(x) \geq 0.$$

Esquemáticamente, temos:

$$\sqrt{f(x)} > g(x) \Rightarrow \begin{cases} f(x) \geq 0 \quad \text{e} \quad g(x) < 0 \\ \text{ou} \\ f(x) > [g(x)]^2 \quad \text{e} \quad g(x) \geq 0 \end{cases}$$

Analogamente, para a inequação  $\sqrt{f(x)} \geq g(x)$ , temos:

$$\sqrt{f(x)} \geq g(x) \Rightarrow \begin{cases} f(x) \geq 0 \quad \text{e} \quad g(x) < 0 \\ \text{ou} \\ f(x) \geq [g(x)]^2 \quad \text{e} \quad g(x) \geq 0 \end{cases}$$

## EXERCÍCIOS

**557.** Resolva, em  $\mathbb{R}$ , as inequações:

a)  $\sqrt{3x - 5} \geq 2$

b)  $\sqrt{3x^2 - 7x + 2} > -4$

c)  $\sqrt{2x - 1} > x - 2$

**Solução**

$$\text{a) } \sqrt{3x-5} \geq 2 \Rightarrow 3x-5 \geq 2^2 \Rightarrow x \geq 3$$

$$S = \{x \in \mathbb{R} \mid x \geq 3\}.$$

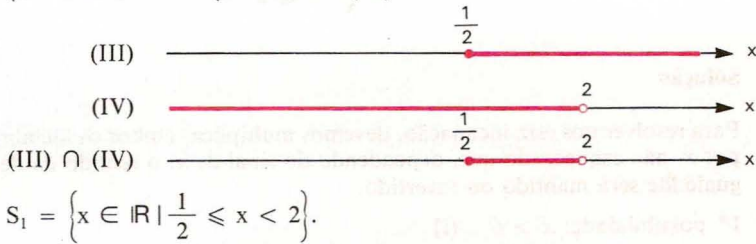
$$\text{b) } \sqrt{3x^2-7x+2} > -4 \Rightarrow 3x^2-7x+2 \geq 0 \Rightarrow x < \frac{1}{3} \text{ ou } x > 2$$

$$S = \left\{x \in \mathbb{R} \mid x < \frac{1}{3} \text{ ou } x > 2\right\}.$$

$$\text{c) } \sqrt{2x-1} > x-2 \Rightarrow \begin{cases} 2x-1 \geq 0 \text{ e } x-2 < 0 & \text{(I)} \\ \text{ou} \\ 2x-1 > (x-2)^2 \text{ e } x-2 \geq 0 & \text{(II)} \end{cases}$$

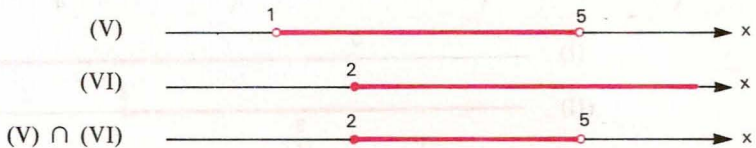
Resolvendo (I), temos:

$$\begin{cases} 2x-1 \geq 0 \\ \text{e} \\ x-2 < 0 \end{cases} \Rightarrow \begin{cases} x \geq \frac{1}{2} & \text{(III)} \\ \text{e} \\ x < 2 & \text{(IV)} \end{cases}$$



Resolvendo (II), temos:

$$\begin{cases} 2x-1 < (x-2)^2 \\ \text{e} \\ x-2 \geq 0 \end{cases} \Rightarrow \begin{cases} x^2-6x+5 < 0 \\ \text{e} \\ x-2 \geq 0 \end{cases} \Rightarrow \begin{cases} 1 < x < 5 & \text{(V)} \\ \text{e} \\ x \geq 2 & \text{(VI)} \end{cases}$$



$$S_2 = \{x \in \mathbb{R} \mid 2 \leq x < 5\}.$$

A solução da inequação proposta é dada por:

$$S = S_1 \cup S_2 = \left\{x \in \mathbb{R} \mid \frac{1}{2} \leq x < 5\right\}.$$

**558.** Resolva as inequações, no conjunto dos números reais:

a)  $\sqrt{2x + 3} > 5$

e)  $\sqrt{x^2 - 2x + 7} \geq 3$

b)  $\sqrt{3x + 7} \geq 1$

f)  $\sqrt{4 - 19x - 5x^2} \geq -3$

c)  $\sqrt{4x - 3} > -2$

g)  $\sqrt{5 + 5x - 2x^2} \geq 3$

d)  $\sqrt{4x^2 - 13x + 7} > 2$

**559.** Resolva as inequações, em  $\mathbb{R}$ :

a)  $\sqrt{3x - 2} > x$

f)  $\sqrt{x^2 + 4x - 4} \geq 2x - 2$

b)  $\sqrt{6 - x} \geq x$

g)  $\sqrt{7x - 1} \geq x + 2$

c)  $\sqrt{2x + 3} \geq 1 - x$

h)  $\sqrt{4x^2 - 5x + 2} \geq x - 2$

d)  $\sqrt{6x^2 + x - 1} > 2x + 1$

i)  $\sqrt{2 + x - x^2} > x - 4$

e)  $\sqrt{x^2 - 6x + 5} > x - 2$

j)  $\sqrt{2 + 3x - 2x^2} > x - 2$

**560.** Resolva, em  $\mathbb{R}$ , a inequação:

$$\frac{\sqrt{3-x}}{x} \leq 2$$

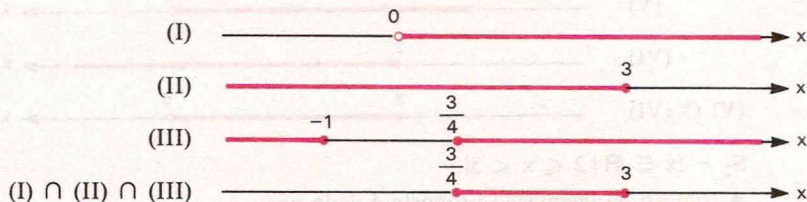
### Solução

Para resolvermos esta inequação, devemos multiplicar ambos os membros por  $x$ , não esquecendo que, dependendo do sinal de  $x$ , o sentido da desigualdade será mantido ou invertido.

1ª possibilidade:  $x > 0$  (I)

$$\frac{\sqrt{3-x}}{x} \leq 2 \Rightarrow \sqrt{3-x} \leq 2x \Rightarrow 0 \leq 3-x \leq 4x^2 \Rightarrow$$

$$\Rightarrow \begin{cases} 3-x \geq 0 \\ e \\ 3-x \leq 4x^2 \end{cases} \Rightarrow \begin{cases} 3-x \geq 0 \\ e \\ 4x^2 + x - 3 \geq 0 \end{cases} \Rightarrow \begin{cases} x \leq 3 & \text{(II)} \\ e \\ x \leq -1 \text{ ou } x \geq \frac{3}{4} & \text{(III)} \end{cases}$$



$$S_1 = \left\{ x \in \mathbb{R} \mid \frac{3}{4} \leq x \leq 3 \right\}.$$

2ª possibilidade:  $x < 0$  (IV)

$$\frac{\sqrt{3-x}}{x} \leq 2 \Rightarrow \sqrt{3-x} \geq 2x \xrightarrow{(2x < 0)} 3-x \geq 0 \Rightarrow x \leq 3 \quad (V)$$

(IV)

(V)

(IV)  $\cap$  (V)

$$S_2 = \{x \in \mathbb{R} \mid x < 0\}.$$

A solução da inequação proposta é dada por:

$$S = S_1 \cup S_2 = \left\{x \in \mathbb{R} \mid x < 0 \text{ ou } \frac{3}{4} \leq x \leq 3\right\}.$$

**561.** Resolva as inequações, em  $\mathbb{R}$ :

a)  $\frac{\sqrt{5x+3}}{x} < \sqrt{2}$

c)  $\frac{\sqrt{x+2}}{x} \geq 1$

b)  $\frac{\sqrt{24-2x-x^2}}{x} < 1$

d)  $\frac{\sqrt{-x^2+7x-6}}{x} \geq 1$

**159.** Inequação irracional  $\sqrt{f(x)} > \sqrt{g(x)}$

O processo de resolução desta inequação é:

1º) Estabelecemos o domínio de validade da inequação, isto é,

$$f(x) \geq 0 \quad \text{e} \quad g(x) \geq 0 \quad (I)$$

2º) Quadramos a inequação proposta recaindo em

$$f(x) > g(x) \quad (II)$$

As condições (I) e (II) podem ser agrupadas da seguinte forma

$$f(x) > g(x) \geq 0.$$

Esquemáticamente, temos:

$$\sqrt{f(x)} > \sqrt{g(x)} \Rightarrow f(x) > g(x) \geq 0$$



De modo análogo, para a inequação

$$\sqrt{f(x)} \geq \sqrt{g(x)}, \text{ temos:}$$

$$\sqrt{f(x)} \geq \sqrt{g(x)} \implies f(x) \geq g(x) \geq 0$$

## EXERCÍCIOS

**562.** Resolva, em  $\mathbb{R}$ , a inequação:

$$\sqrt{2x^2 - x - 1} > \sqrt{x^2 - 4x + 3}$$

**Solução**

$$\begin{aligned} \sqrt{2x^2 - x - 1} > \sqrt{x^2 - 4x + 3} &\implies 2x^2 - x - 1 > x^2 - 4x + 3 \geq 0 \implies \\ \implies \begin{cases} 2x^2 - x - 1 > x^2 - 4x + 3 \\ x^2 - 4x + 3 \geq 0 \end{cases} &\implies \begin{cases} x^2 + 3x - 4 > 0 \\ x^2 - 4x + 3 \geq 0 \end{cases} \end{aligned}$$

$$\implies \begin{cases} x < -4 \text{ ou } x > 1 \\ x \leq 1 \text{ ou } x \geq 3 \end{cases} \quad \text{(I)}$$

$$\implies \begin{cases} x < -4 \text{ ou } x > 1 \\ x \leq 1 \text{ ou } x \geq 3 \end{cases} \quad \text{(II)}$$

(I)

(II)

(I)  $\cap$  (II)

$$S = \{x \in \mathbb{R} \mid x < -4 \text{ ou } x \geq 3\}.$$

**563.** Resolva as inequações, em  $\mathbb{R}$ :

a)  $\sqrt{3x - 2} \geq \sqrt{2x - 3}$

b)  $\sqrt{5 - x} < \sqrt{2x + 7}$

c)  $\sqrt{2x^2 - 5x - 3} \leq \sqrt{8x + 1}$

d)  $\sqrt{x^2 - 7x + 17} \geq \sqrt{8 + 2x - x^2}$

e)  $\sqrt{2x^2 - 10x + 8} > \sqrt{x^2 - 6x + 7}$

f)  $\sqrt{-x^2 + 5x - 6} < \sqrt{4x^2 + 12x + 11}$

g)  $\sqrt{2 - 3x - x^2} > \sqrt{x^2 - 5x + 4}$

h)  $\sqrt{x^2 - 2x + 2} < \sqrt{2x^2 - x + 4}$

**564.** Resolva, no conjunto dos reais, as inequações:

$$\begin{array}{ll} \text{a) } \sqrt{4 - \sqrt{1 - x}} > \sqrt{2 - x} & \text{c) } \sqrt{1 - x} \leq \sqrt{\sqrt{5 + x}} \\ \text{b) } \sqrt{2 - \sqrt{3 + x}} - \sqrt{4 + x} < 0 & \text{d) } \sqrt[4]{x + 8} < \sqrt{x + 2} \end{array}$$

**565.** Resolva, em  $\mathbb{R}$ , a inequação:

$$\sqrt{x + 1} < 2 + \sqrt{x - 4}$$

### Solução

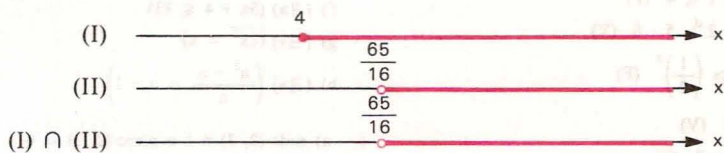
Estabelecemos inicialmente o domínio de validade da inequação

$$\begin{cases} x + 1 \geq 0 \\ \text{e} \\ x - 4 \geq 0 \end{cases} \Rightarrow x \geq 4 \quad (\text{I})$$

Notemos que, para os valores de  $x$  satisfazendo (I), ambos os membros da inequação proposta são positivos, então podemos quadrá-la sem preocupações.

$$\begin{aligned} \sqrt{x + 1} < 2 + \sqrt{x - 4} &\Rightarrow x + 1 < 4 + x - 4 + 4\sqrt{x - 4} \Rightarrow 1 < 4\sqrt{x - 4} \Rightarrow \\ \Rightarrow \sqrt{x - 4} > \frac{1}{4} &\Rightarrow x - 4 > \frac{1}{16} \Rightarrow x > \frac{65}{16} \quad (\text{II}) \end{aligned}$$

A solução da inequação proposta é:



$$S = \left\{ x \in \mathbb{R} \mid x > \frac{65}{16} \right\}.$$

**566.** Resolva as inequações, para  $x$  real:

$$\begin{array}{ll} \text{a) } \sqrt{x + 5} < 1 + \sqrt{x - 2} & \text{c) } \sqrt{3 - x} - \sqrt{x + 1} > \frac{1}{2} \\ \text{b) } \sqrt{x - 1} - \sqrt{x - 4} < 3 & \text{d) } \sqrt{x^2 + 3x + 2} < 1 + \sqrt{x^2 - x + 1} \end{array}$$

**567.** Resolva, em  $\mathbb{R}$ , a inequação:

$$\sqrt{x + 6} - \sqrt{x + 1} > \sqrt{2x - 5}$$

**568.** Resolva, em  $\mathbb{R}$ , a inequação:

$$x + \sqrt{x^2 - 10x + 9} > \sqrt{x + 2\sqrt{x^2 - 10x + 9}}$$

# Respostas dos Exercícios

## Capítulo I

1. São proposições: a, b, c, d, e, f, g.  
São verdadeiras: a, c, d, e, g.

2. a)  $3 \cdot 7 \neq 21$  (F)

b)  $3(11 - 7) = 5$  (F)

c)  $3 \cdot 2 + 1 \leq 4$  (F)

d)  $5 \cdot 7 - 2 > 5 \cdot 6$  (V)

e)  $\left(\frac{1}{2}\right)^7 \geq \left(\frac{1}{2}\right)^3$  (F)

f)  $\sqrt{2} \geq 1$  (V)

g)  $-(-4) < 7$  (V)

h)  $3 \not\leq 7$  (V)

3. a) V

b) V

c) V

d) F

4. a) V

b) V

c) V

d) V

5. a) F

b) V

c) V

d) V

e) V

f) F

g) F

e) F

f) F

g) V

h) V

6. p (V); q (V); r (F); s (F)

8. a)  $(\exists x)(x^2 - 5x + 4 = 0)$

b)  $(\forall a)((a + 1)(a - 1) = a^2 - 1)$

c)  $(\exists y)\left(\frac{y}{3} + \frac{y}{4} \neq \frac{y}{7}\right)$

d)  $(\forall m)(\sqrt{m^2 + 9} \neq m + 3)$

e)  $(\forall x)(-(-x) = x)$

f)  $(\exists a)(5a + 4 \leq 11)$

g)  $(\exists x)(\sqrt{x^2} = x)$

h)  $(\exists a)\left(\frac{a^2 - a}{a} = a - 1\right)$

9. a)  $\text{mdc}(2, 3) \neq 1$  e  $\text{mmc}(2, 3) = 6$

b)  $\frac{3}{5} \neq \frac{6}{10}$  e  $3 \cdot 10 = 6 \cdot 5$

c)  $\frac{3}{7} < 1$  ou  $-3 < -7$

d)  $2^2 = 4$  e  $\sqrt{4} \neq 2$

e)  $(-3)^2 = 9$  e  $\sqrt{9} = -3$

f)  $2 > 5$  e  $3^2 > 5^2$

g)  $(\exists x)(x > 2 \text{ e } 3^x \leq 3^2)$

h)  $(\forall x)(\sqrt{x} \geq 0)$

i) Existe um número inteiro primo e par.

j) Existe um triângulo isósceles e não equilátero.

k) Todo losango é quadrado.

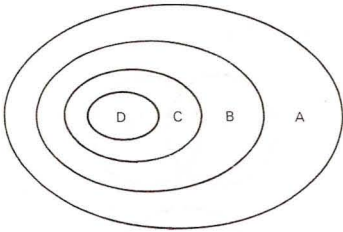
l) Todo número tem raiz quadrada diferente de zero.

m) Existe um triângulo equiângulo e não equilátero.

10. a) F    d) F    g) F    j) V    m) F  
 b) F    e) F    h) V    k) F  
 c) V    f) F    i) V    l) F

## Capítulo II

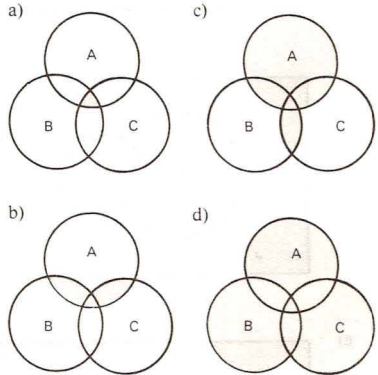
13. a)  $\{-9, -6, -3, 0, 3, 6, 9\}$   
 b)  $\{\pm 1, \pm 2, \pm 3, \pm 6, \pm 7, \pm 14, \pm 21, \pm 42\}$   
 c)  $\{0\}$   
 d)  $\left\{\frac{1}{1}, \frac{1}{2}, \frac{2}{1}, \frac{2}{2}\right\}$   
 e) {Cuiabá, Campo Grande, Goiânia}
14.  $A = \{x | x \text{ é divisor de } 6\}$   
 $B = \{x | x \text{ é múltiplo inteiro e negativo de } 10\}$   
 $C = \{x | x \text{ é quadrado de um inteiro}\}$   
 $D = \{x | x \text{ é satélite natural da Terra}\}$
15.  $D = \{3\}$
16.  $B = \emptyset$
19. todas
20. a) V    c) F    e) F    g) V    i) V  
 b) F    d) F    f) V    h) V    j) F
- 21.



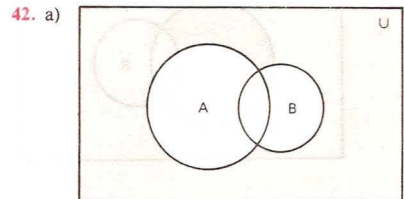
22.  $\mathcal{P}(A) = \{\emptyset, \{a\}, \{b\}, \{c\}, \{d\}, \{a, b\}, \{a, c\}, \{a, d\}, \{b, c\}, \{b, d\}, \{c, d\}, \{a, b, c\}, \{a, b, d\}, \{a, c, d\}, \{b, c, d\}, A\}$
23.  $A \cup B = \{a, b, c, d\}$ ,  $A \cup C = \{a, b, c, e\}$ ,  
 $B \cup C = \{c, d, e\}$ ,  $A \cup B \cup C = \{a, b, c, d, e\}$
25. a) V    b) F    c) F    d) V    e) V    f) V

26. círculo de centro  $O$  e raio  $2r$
27. plano  $\alpha$
28.  $A \cap B = \{b, c, d\}$ ,  $A \cap C = \{c\}$ ,  
 $B \cap C = \{c, e\}$ ,  $A \cap B \cap C = \{c\}$
30. a) V    b) F    c) F    d) V    e) V    f) V
31. a) L    b) R    c) Q    d) Q    e) Q    f) P
33.  $X = \{a, c, e\}$
34.  $C = \{2, 5, 6, 7, 9, 10\}$
35.  $4 : \{1, 2\}, \{1, 2, 3\}, \{1, 2, 4\}, \{1, 2, 3, 4\}$

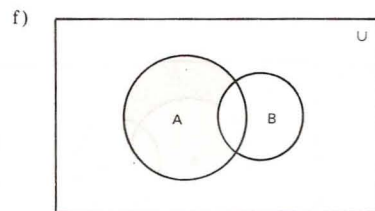
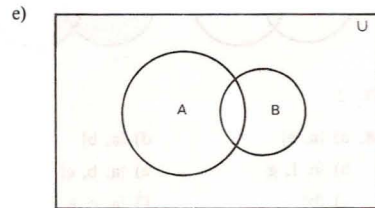
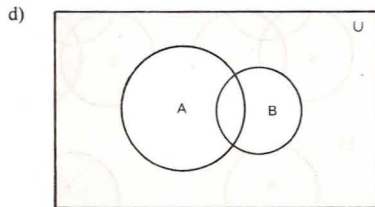
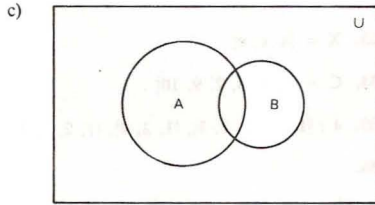
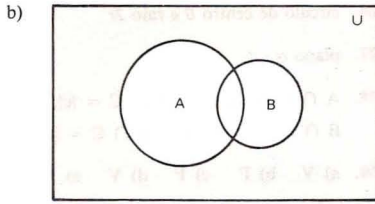
36.



37. 2
38. a)  $\{a, b\}$     d)  $\{a, b\}$   
 b)  $\{e, f, g\}$     e)  $\{a, b, c\}$   
 c)  $\{b\}$     f)  $\{a, c, e, f, g\}$
40. a) V    b) V    c) F    d) V
41.  $X = \{1, 3, 5\}$



RESPOSTAS DOS EXERCÍCIOS



44. a) V    b) V    c) F    d) V

45.  $\bar{F} = \{6, 7, 8\}$

46.  $A = \{6, -1\}$      $D = \left\{-\frac{1}{2}\right\}$   
 $B = \{e, x, r, c, i, o\}$      $E = \{2, 3, 4, 5\}$   
 $C = \{3, -3, 5\}$

47. a, b, d, f

49. 64

50.  $n_{A \cup B \cup C} = n_A + n_B + n_C - n_{A \cap B} - n_{B \cap C} - n_{C \cap A} + n_{A \cap B \cap C}$

51.  $n(A \cap B) = 8$

52. 332 e 83

53.  $P' \cup Q$

54. a) 8    b) 1    c) 7    d) 3    e) 12

55.  $n(A) = 4; n(B) = 4$

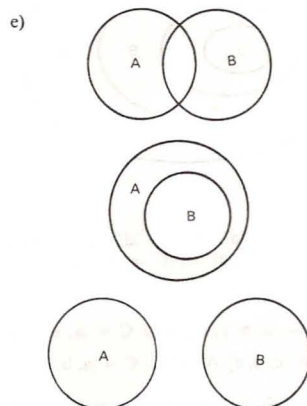
56. a) 500    b) 61    c) 257    d) 84

57.  $A = \{p, q, r, s, t\}$   
 $B = \{r, s, x, z\}$   
 $C = \{s, t, u, v, x\}$

58. a) 560    b) 280

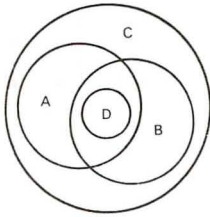
59. 40%

60. a)  $\{a, b, e, f, g\}$





61.



## Capítulo III

62.  $n(H) = 14$

63.  $n(X) = 22$

64.  $B = \mathbb{N}^*$

65. a, c, d, g, h, i

66.  $D(6) = \{\pm 1, \pm 2, \pm 3, \pm 6\}$

$D(-18) = \{\pm 1, \pm 2, \pm 3, \pm 6, \pm 9, \pm 18\}$

$D(-24) \cap D(16) = \{\pm 1, \pm 2, \pm 4, \pm 8\}$

$M(4) = \{0, \pm 4, \pm 8, \pm 12, \dots\}$

$M(10) = \{0, \pm 10, \pm 20, \pm 30, \dots\}$

$M(-9) \cap M(6) = \{0, \pm 18, \pm 36, \pm 54, \dots\}$

67. 12, 0, -1, -4 e 49

68. a) Não, pois  $1 \in D(a) \cap D(b)$ .

b)  $m$  é um máximo divisor comum de  $a$  e  $b$ :  
 $\text{mdc}(a, b) = \pm m$ .

c)  $a$  e  $b$  são primos entre si:  $\text{mdc}(a, b) = \pm 1$ .

d) Quando  $a$  é múltiplo de  $b$ .

e) Quando  $a$  e  $b$  são primos entre si.

f)  $n$  é um mínimo múltiplo comum de  $a$  e  $b$ :  
 $\text{mmc}(a, b) = \pm n$ .

69. a)  $\pm 1$

d)  $\pm 6$

b)  $\pm 2$

e)  $\pm 12$

c)  $\pm 2$

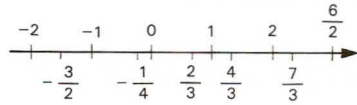
f)  $\pm 42$

70. a, b, c, d, e, f, h, k,  $\ell$

71.  $\frac{2}{5}, \frac{4}{9}, \frac{8}{25}, \frac{32}{99}, \frac{271}{5}$  e  $\frac{602}{111}$

72.  $\frac{2}{3} < \frac{11}{12} < \frac{15}{16} < \frac{18}{19} < \frac{47}{48} < 1$

74.



75. a) 1

b) 2

76. 0,025

77.  $\alpha$  é racional,  $\alpha = 1,4111\dots = \frac{127}{90}$

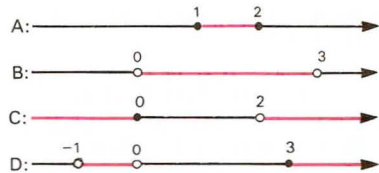
78. 17 000 dólares

79. 20%

80. a, b, c, f, g, h, i

88. 1

89.



90.  $[-1, 3] = \{x \in \mathbb{R} \mid -1 \leq x \leq 3\}$

$[0, 2[ = \{x \in \mathbb{R} \mid 0 \leq x < 2\}$

$] -3, 4[ = \{x \in \mathbb{R} \mid -3 < x < 4\}$

$] -\infty, 5[ = \{x \in \mathbb{R} \mid x < 5\}$

$[1, +\infty[ = \{x \in \mathbb{R} \mid x \geq 1\}$

92. a)  $[1, 2]$

d)  $[0, 2]$

b)  $]1, 2[$

e)  $[-1, 2[$

c)  $\left]0, \frac{2}{5}\right[$

f)  $[1, 2]$

93. a)  $[-1, 4]$

c)  $[-1, 5]$

b)  $] -2, 5[$

d)  $\left[-\frac{3}{2}, 0\right]$

94.  $\mathbb{C}_{\mathbb{A}}^{\mathbb{B}} = [0, 1] \cup [3, 5[$

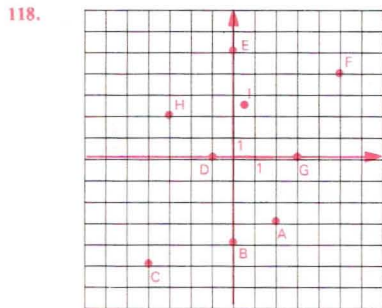
95.  $\{x \in \mathbb{R} \mid -1 < x \leq 5\}$

96.  $[0, 2]$

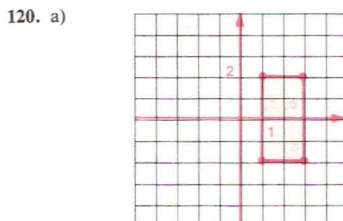
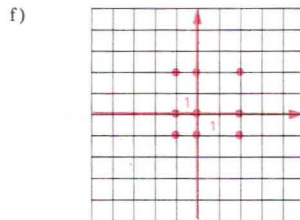
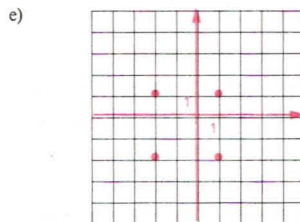
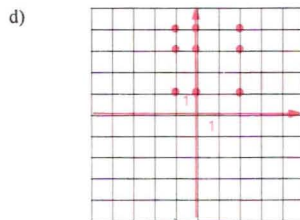
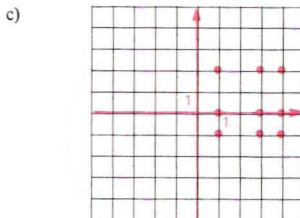
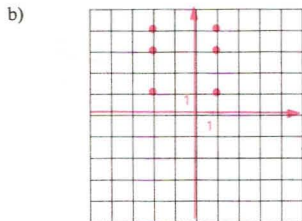
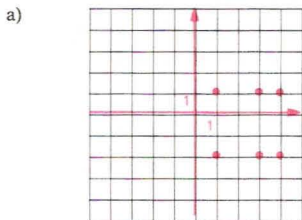
97.  $\mathbb{Z}$

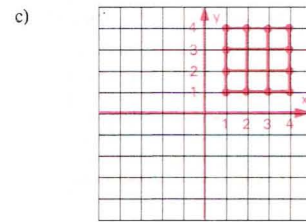
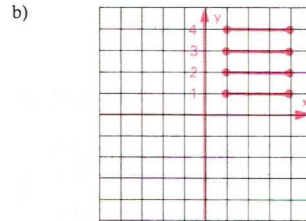
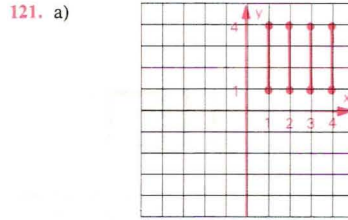
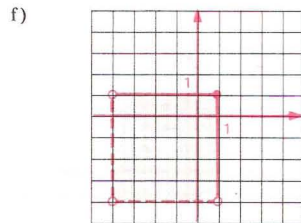
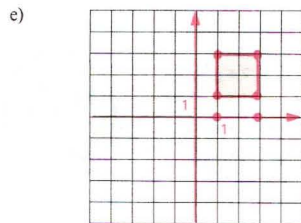
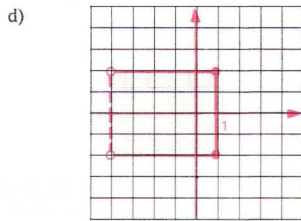
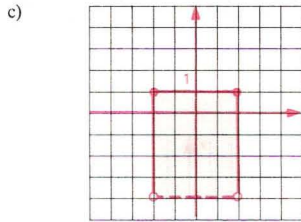
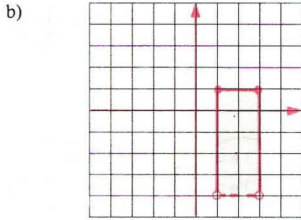
# Capítulo IV

117. A(4, 2), B(-4, 6), C(-5, -3), D(4, -5), E(0, 4), F(-3, 0), G(0, -6), H(5, 0), I(0, 0)



119. a)  $A \times B = \{(1, -2), (1, 1), (3, -2), (3, 1), (4, -2), (4, 1)\}$   
 b)  $B \times A = \{(-2, 1), (-2, 3), (-2, 4), (1, 1), (1, 3), (1, 4)\}$   
 c)  $A \times C = \{(1, -1), (1, 0), (1, 2), (3, -1), (3, 0), (3, 2), (4, -1), (4, 0), (4, 2)\}$   
 d)  $C \times A = \{(-1, 1), (-1, 3), (-1, 4), (0, 1), (0, 3), (0, 4), (2, 1), (2, 3), (2, 4)\}$   
 e)  $B^2 = \{(-2, -2), (-2, 1), (1, -2), (1, 1)\}$   
 f)  $C^2 = \{(-1, -1), (-1, 0), (-1, 2), (0, -1), (0, 0), (0, 2), (2, -1), (2, 0), (2, 2)\}$





122.  $A \times A$  está contido em todos os nove.  
 $A \times B$  está contido em  $A \times B$ ,  $A \times C$ ,  $B \times B$ ,  $B \times C$ ,  $C \times C$  e  $C \times B$ .  
 $A \times C$  está contido em  $B \times C$  e  $C \times C$ .  
 $B \times A$  está contido em  $B \times A$ ,  $B \times B$ ,  $B \times C$ ,  $C \times A$ ,  $C \times B$  e  $C \times C$ .  
 $C \times A$  está contido em  $C \times A$ ,  $C \times B$  e  $C \times C$ .  
 $B \times B$  está contido em  $B \times B$ ,  $B \times C$ ,  $C \times B$  e  $C \times C$ .  
 $B \times C$  está contido em  $B \times C$ ,  $C \times C$  e  $C \times B$ .  
 $C \times B$  está contido em  $C \times B$  e  $C \times C$ .  
 $C \times C$  está contido em  $C \times C$ .

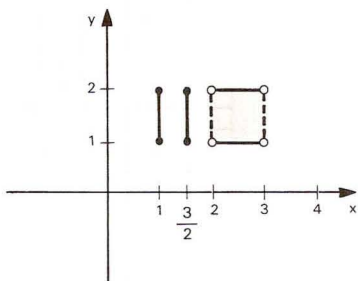
124.  $A^2 = \{(-2, -2), (-2, 0), (-2, 1), (-2, 3), (0, -2), (0, 0), (0, 1), (0, 3), (1, -2), (1, 0), (1, 1), (1, 3), (3, -2), (3, 0), (3, 1), (3, 2)\}$

125.  $A \times B = \{(-1, -1), (-1, 0), (-1, 2), (-1, 5), (0, -1), (0, 0), (0, 2), (0, 5), (2, -1), (2, 0), (2, 2), (2, 5)\}$

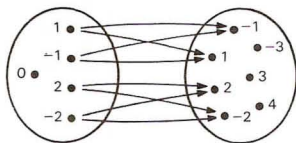
126.  $n(F \times G) = 12$

RESPOSTAS DOS EXERCÍCIOS

127.

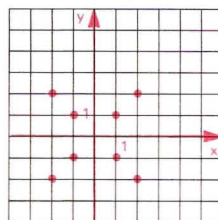
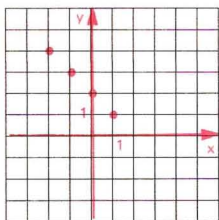
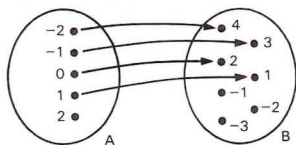


c)  $T = \{(-2, -2), (-2, 2), (-1, -1), (-1, 1), (1, -1), (1, 1), (2, -2), (2, 2)\}$



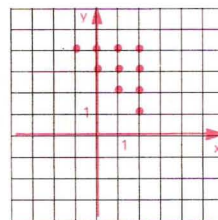
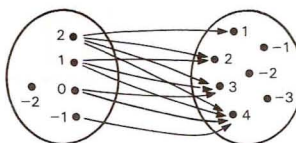
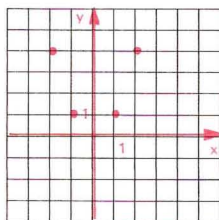
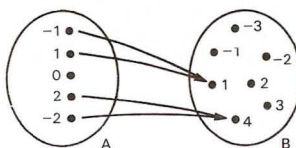
128.  $n(D) = 3$

129. a)  $R = \{(-2, 4), (-1, 3), (0, 2), (1, 1)\}$

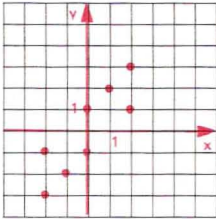
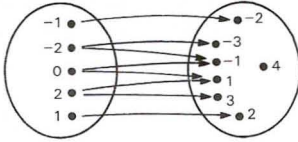


d)  $V = \{(-1, 4), (0, 3), (0, 4), (1, 2), (1, 3), (1, 4), (2, 1), (2, 2), (2, 3), (2, 4)\}$

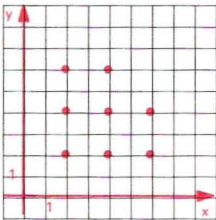
b)  $S = \{(-2, 4), (2, 4), (-1, 1), (1, 1)\}$



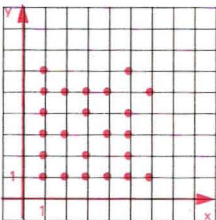
e)  $W = \{(-2, -3), (-2, -1), (-1, -2), (0, -1), (0, 1), (1, 2), (2, 1), 2, 3\}$



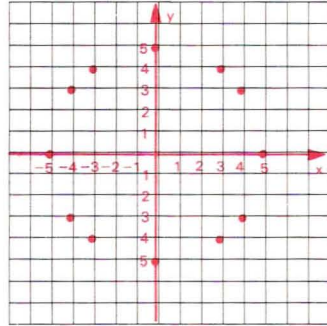
130.  $R = \{(2, 2), (2, 4), (2, 6), (4, 2), (4, 6), (6, 2), (6, 4)\}$



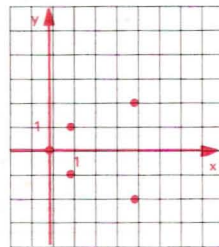
131.



132.



133. a)  $D = \{1, 2\}$  e  $\text{Im} = \{1, 3, 4\}$   
 b)  $D = \{-2, -1, 3, 2\}$  e  $\text{Im} = \{-7, 4, 1\}$   
 c)  $D = \{2, 1, 5\}$  e  $\text{Im} = \{1, -3, \sqrt{2}\}$   
 d)  $D = \{1 + \sqrt{2}, 1 - \sqrt{3}\}$  e  $\text{Im} = \{\sqrt{2}, 1\}$   
 e)  $D = \left\{3, \frac{5}{2}, \frac{3}{2}\right\}$  e  $\text{Im} = \left\{\frac{1}{2}, -1, 0\right\}$
134. a)  $D(R) = \{-2, -1, 0, 1\}$  e  $\text{Im}(R) = \{1, 2, 3, 4\}$   
 b)  $D(S) = \{-2, -1, 1, 2\}$  e  $\text{Im}(S) = \{1, 4\}$   
 c)  $D(T) = \{-2, -1, 1, 2\}$   
 e  $\text{Im}(T) = \{-2, -1, 1, 2\}$   
 d)  $D(V) = \{-1, 0, 1, 2\}$  e  $\text{Im}(V) = \{1, 2, 3, 4\}$   
 e)  $D(W) = \{-2, -1, 0, 1, 2\}$  e  
 $\text{Im}(W) = \{-3, -2, -1, 1, 2, 3\}$
135. a)  $R = \{(0, 0), (1, -1), (1, 1), (4, -2), (4, 2)\}$   
 b)  $D(R) = \{0, 1, 4\}$  e  
 $\text{Im}(R) = \{-2, -1, 0, 1, 2\}$   
 c)

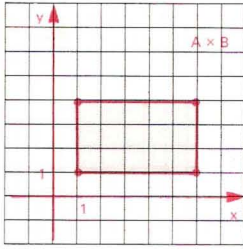


136.  $D_f = \{x \in \mathbb{R} \mid x \neq -2 \text{ e } x \neq \pm 2\}$

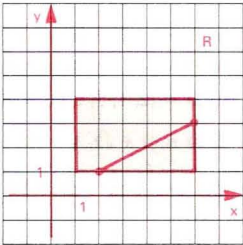


RESPOSTAS DOS EXERCÍCIOS

137. a)

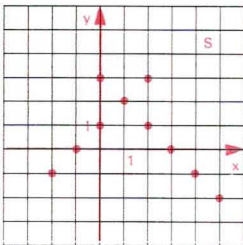
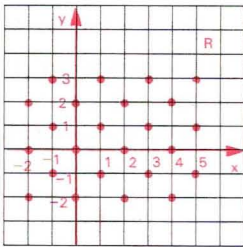


b)



c)  $D(R) = \{x \in \mathbb{R} \mid 2 \leq x \leq 6\}$  e  
 $\text{Im}(R) = \{y \in \mathbb{R} \mid 1 \leq y \leq 3\}$

138. a)



b)  $D_R = \{-2, -1, 0, 1, 2, 3, 4, 5\} = D_S$   
 $\text{Im}_R = \{-2, -1, 0, 1, 2, 3\} = \text{Im}_S$   
c)  $R \cap S = \emptyset$

139. a)  $R^{-1} = \{(2, 1), (1, 3), (3, 2)\}$

b)  $R^{-1} = \{(-1, 1), (-1, 2), (-1, 3), (1, -2)\}$

c)  $R^{-1} = \{(-2, -3), (3, 1), (-3, -2), (1, 3)\}$

140. a)  $R = R^{-1} = \{(0, 8), (1, 7), (2, 6), (3, 5), (4, 4), (5, 3), (6, 2), (7, 1), (8, 0)\}$

b)  $R = \{(0, 5), (2, 4), (4, 3), (6, 2), (8, 1), (10, 0)\}$

$R^{-1} = \{(5, 0), (4, 2), (3, 4), (2, 6), (1, 8), (0, 10)\}$

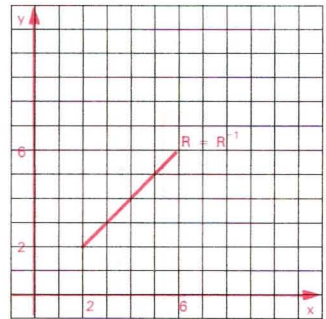
c)  $R = \{(0, 10), (1, 5), (2, 2), (3, 1), (4, 2), (5, 5), (6, 10)\}$

$R^{-1} = \{(10, 0), (5, 1), (2, 2), (1, 3), (2, 4), (5, 5), (10, 6)\}$

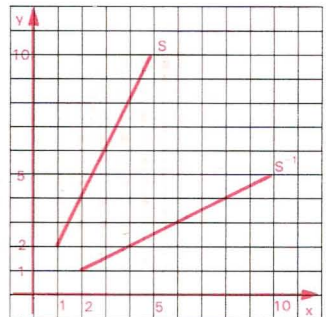
d)  $R = \{(0, 1), (1, 2), (2, 4), (3, 8)\}$

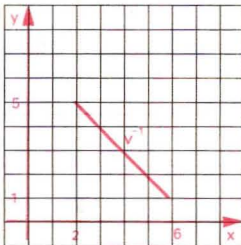
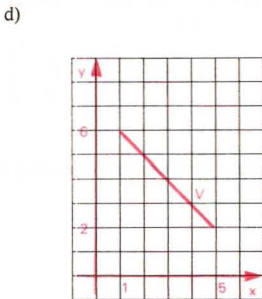
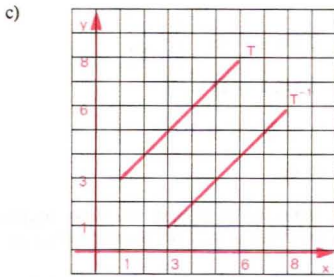
$R^{-1} = \{(1, 0), (2, 1), (4, 2), (8, 3)\}$

141. a)



b)





## Capítulo V

142. a) Não define função de  $A$  em  $B$ , pois o elemento  $2 \in A$  não está associado a nenhum elemento de  $B$ .  
 b) Não define função de  $A$  em  $B$ , pois o elemento  $1 \in A$  está associado a dois elementos de  $B$ .

c e d) Define função de  $A$  em  $B$ , pois todo elemento de  $A$  está associado a um único elemento de  $B$ .

143. Somente d), pois o conjunto de partida é  $A = [0, 1, 2]$  e o conjunto de chegada é  $B = [-1, 0, 1, 2]$ .
144. a) É função.  
 b) Não é função de  $\mathbb{R}$  em  $\mathbb{R}$ , pois qualquer reta vertical conduzida pelos pontos  $(x, 0)$ , com  $x > 0$ , encontra o gráfico da relação em dois pontos.  
 c) Não é função de  $\mathbb{R}$  em  $\mathbb{R}$ , pois qualquer reta vertical conduzida pelos pontos  $(x, 0)$ , com  $-1 < x < 1$ , não encontra o gráfico da relação.  
 d) É função.  
 e) É função.  
 f) Não é função de  $\mathbb{R}$  em  $\mathbb{R}$ , pois a reta vertical conduzida pelo ponto  $(3, 0)$  encontra o gráfico da relação em mais que dois pontos e as retas verticais conduzidas pelos pontos  $(x, 0)$ , com  $x \neq 3$ , não encontram o gráfico da relação.

145. a)  $f: \mathbb{R} \rightarrow \mathbb{R}$   
 $x \mapsto -x$                       c)  $h: \mathbb{R} \rightarrow \mathbb{R}$   
 $x \mapsto x^2 - 1$   
 b)  $g: \mathbb{R} \rightarrow \mathbb{R}$                       d)  $k: \mathbb{R} \rightarrow \mathbb{R}$   
 $x \mapsto x^3$                                    $x \mapsto 2$

146. a)  $f: \mathbb{Q} \rightarrow \mathbb{Q}$                       c)  $h: \mathbb{R}^* \rightarrow \mathbb{R}$   
 $x \mapsto -x + 1$                                $x \mapsto \frac{1}{x}$   
 b)  $g: \mathbb{Z} \rightarrow \mathbb{Q}$   
 $x \mapsto 2^x$

147. a)  $f(2) = 4$   
 b)  $f(-3) = -11$   
 c)  $f(0) = -2$   
 f)  $f\left(\frac{3}{2}\right)$  não tem significado, pois  $\frac{3}{2} \notin \mathbb{Z}$ .

148. a)  $f(2) = 2$   
 b)  $f(-1) = 8$   
 c)  $f\left(\frac{1}{2}\right) = \frac{11}{4}$   
 d)  $f\left(-\frac{1}{3}\right) = \frac{46}{9}$   
 e)  $f(\sqrt{3}) = 7 - 3\sqrt{3}$   
 f)  $f(1 - \sqrt{2}) = 4 + \sqrt{2}$

149.  $f(2) = 17$

150. a)  $f(3) = 1$

b)  $f\left(-\frac{3}{7}\right) = 1$

c)  $f(\sqrt{2}) = 1 + \sqrt{2}$

d)  $f(\sqrt{4}) = 1$

e)  $f(\sqrt{3} - 1) = \sqrt{3}$

f)  $f(0,75) = 1$

152.  $x = -4$

153.  $x = 2$  ou  $x = 3$

155.  $f(0) = 0$  para  $m \neq 0$

156. 32

158. a)  $D(f) = \{0, 1, 2\}$  e  $\text{Im}(f) = \{-1, 0, 1\}$

b)  $D(g) = \{-1, 0, 1, 2\}$  e  $\text{Im}(g) = \{1, 2\}$

c)  $D(h) = \{-1, 0, 1\}$  e  $\text{Im}(h) = \{-2\}$

d)  $D(k) = \{-2, 0, 1, 2\}$  e  $\text{Im}(k) = \{-2, -1, 0, 2\}$

159. a)  $\text{Im} = \{-2, 0, 2\}$

b)  $\text{Im} = \{y \in \mathbb{R} \mid -2 \leq y \leq 2\}$

c)  $\text{Im} = \{y \in \mathbb{R} \mid y = 1 \text{ ou } y \geq 2\}$

d)  $\text{Im} = \mathbb{R}$

e)  $\text{Im} = \{y \in \mathbb{R} \mid 0 \leq y \leq 2 \text{ ou } y > 4\}$

f)  $\text{Im} = \{y \in \mathbb{R} \mid y \leq 1\}$

160. a)  $D = \{-4, -3, -2, -1, 0, 1, 2, 3\}$  e  $\text{Im} = \{1, 2, 3, 4, 5\}$

b)  $D = \{x \in \mathbb{R} \mid -2 \leq x \leq 3\}$  e  $\text{Im} = \{y \in \mathbb{R} \mid -3 \leq y \leq 2\}$

c)  $D = \{x \in \mathbb{R} \mid -2 \leq x \leq 4\}$  e  $\text{Im} = \{y \in \mathbb{R} \mid 1 \leq y \leq 5\}$

d)  $D = \{x \in \mathbb{R} \mid -3 \leq x < 5\}$  e  $\text{Im} = \{y \in \mathbb{R} \mid 1 \leq y < 3\}$

e)  $D = \{x \in \mathbb{R} \mid -4 \leq x \leq 4\}$  e  $\text{Im} = \{y \in \mathbb{R} \mid -3 \leq y \leq 5\}$

f)  $D = \{x \in \mathbb{R} \mid -3 \leq x < 4\}$  e  $\text{Im} = \{-3, -2, -1, 0, 1, 2, 3\}$

161. a)  $D(f) = \mathbb{R}$

b)  $D(g) = \mathbb{R} - \{-2\}$

c)  $D(h) = \mathbb{R} - \{2, -2\}$

d)  $D(p) = \{x \in \mathbb{R} \mid x \geq 1\}$

e)  $D(q) = \{x \in \mathbb{R} \mid x > -1\}$

f)  $D(r) = \{x \in \mathbb{R} \mid x \geq -2 \text{ e } x \neq 2\}$

g)  $D(s) = \mathbb{R}$

h)  $D(t) = \mathbb{R} - \left\{-\frac{3}{2}\right\}$

i)  $D(n) = \mathbb{R} - \{3\}$

162.  $\{y \in \mathbb{R} \mid y \geq 2\}$

163.  $[2, 6]$

164. Todas são iguais, pois são todas funções de  $\mathbb{R}$  em  $\mathbb{R}$  e associam cada número real ao seu cubo.

165. Não são iguais, pois para  $x < 0$  temos  $\sqrt{x^2} \neq x$ .

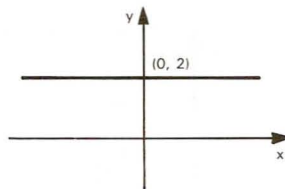
166. Somente serão iguais se forem funções de  $A$  em  $\mathbb{R}$ , em que  $A$  é qualquer subconjunto de  $\{x \in \mathbb{R} \mid x \geq 1\}$ .

167. São iguais, pois  $\sqrt{\frac{x+1}{x^2-x}} = \frac{\sqrt{x+1}}{\sqrt{x^2-x}}$  para  $-1 \leq x < 0$  ou  $x > 1$ .

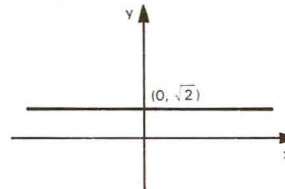
168. Não são iguais, pois não têm o mesmo domínio.

## Capítulo VI

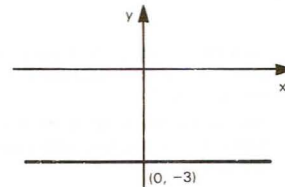
169. a)



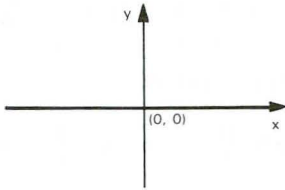
b)



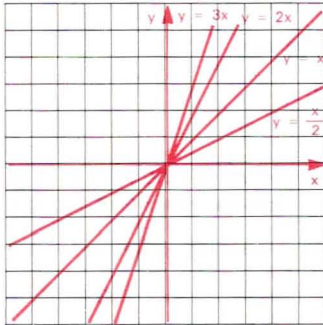
c)



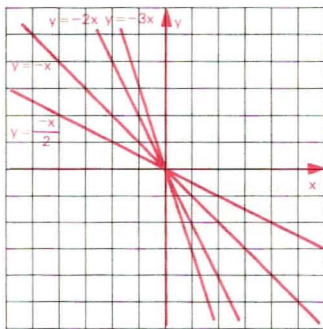
d)



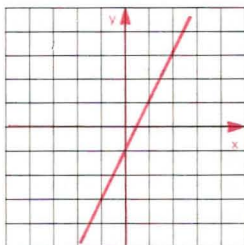
170.



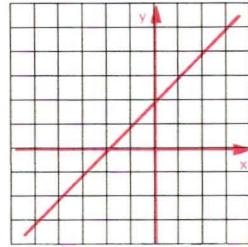
171.



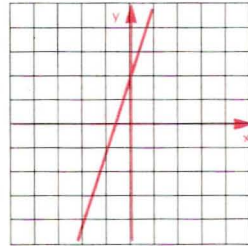
172. a)



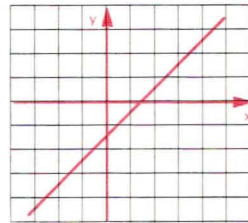
b)



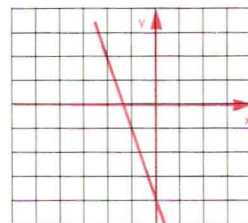
c)



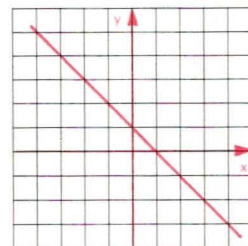
d)



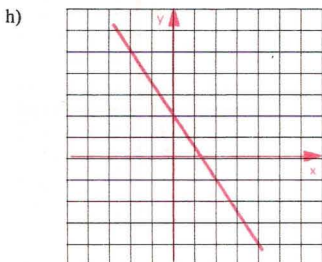
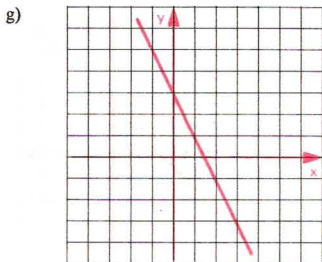
e)



f)



RESPOSTAS DOS EXERCÍCIOS



174. a)  $S = \{(3, 2)\}$       d)  $S = \{(3, -2)\}$

b)  $S = \{(-2, 4)\}$       e)  $S = \emptyset$

c)  $S = \{(2, -1)\}$       f)  $S = \{(0, 0)\}$

175. a)  $S = \{(3, -1)\}$       b)  $S = \{(2, 1)\}$

177. a)  $y = 2x - 1$       c)  $y = x - 5$

b)  $y = \frac{1 - 3x}{2}$       d)  $y = 2$

178. 23 brancas; 16 pretas

179.  $f(3) = -1$

181.  $y = -3x - 2$

182.  $y = -\frac{x}{2} - \frac{1}{2}$

183.  $y = \frac{3}{2}x + 4$

184.  $y = -\frac{x}{3} - 3$

185. a)  $y = \frac{x}{3} + \frac{1}{3}$       c)  $y = \frac{2x}{3} - \frac{1}{3}$

b)  $y = -\frac{x}{2} + 4$       d)  $y = 2x + 3$

186. 20 litros

187. 1)  $x \leq 25\,068 \Rightarrow f(x) = 0$

$25\,068 < x \leq 83\,561 \Rightarrow f(x) = \frac{x}{10} - 2\,506,80$

$x > 83\,561 \Rightarrow f(x) = \frac{x}{4} - n$

2)  $n = 15\,040,95$

188. mãe:  $\frac{H}{8}$ ; cada menino:  $\frac{H}{4}$ ; a menina  $\frac{3H}{8}$

189. 3 300 km

190. CR\$100,00

191. CR\$ 90,00

192. 3

193. 25

194. a) crescente para  $x \in \mathbb{R} \mid x \leq -2$  ou  $x \geq 1$   
decrecente para  $x \in \mathbb{R} \mid -2 \leq x \leq 1$

b) crescente para  $x \in \mathbb{R} \mid -1 \leq x \leq 0$  ou  $x \geq 1$

decrecente para  $x \in \mathbb{R} \mid x \leq -1$  ou  $0 \leq x \leq 1$

c) crescente para  $x \in \mathbb{R} \mid x \leq 0$  ou  $x > 0$

196. a) crescente      d) decrescente

b) decrescente      e) decrescente

c) crescente      f) crescente

198. a) crescente para  $m > -2$   
decrecente para  $m < -2$   
constante para  $m = -2$

b) crescente para  $m < 4$   
decrecente para  $m > 4$   
constante para  $m = 4$

c) crescente para  $m < -3$   
decrecente para  $m > -3$   
constante para  $m = -3$

e) crescente para  $m > 1$   
decrecente para  $m < 1$   
constante para  $m = 1$

199. a)  $f(x) = 0 \Leftrightarrow x = -5$  ou  $x = -3$  ou  $x = 2$   
ou  $x = 6$

$f(x) > 0 \Leftrightarrow x < -5$  ou  $-3 < x < 2$  ou  $x > 6$   
 $f(x) < 0 \Leftrightarrow -5 < x < -3$  ou  $2 < x < 6$

b)  $g(x) = 0 \Leftrightarrow x = -3$  ou  $x = -1$  ou  $x = 3$   
 $g(x) > 0 \Leftrightarrow -3 < x < -1$


$g(x) < 0 \Leftrightarrow x < -3$  ou  $x > -1$  e  $x \neq 3$

c)  $h(x) = 0 \Leftrightarrow x = -2$

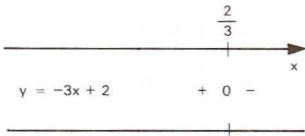
$h(x) > 0 \Leftrightarrow x \neq -2$



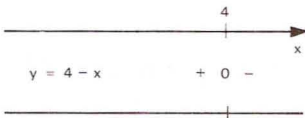
200. a)




b)




c)



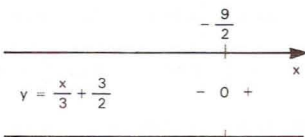
d)



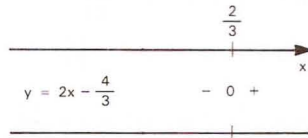
e)



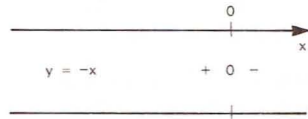
f)



g)



h)



202.  $x < 3$

203.  $x > \frac{4}{3}$

204. a)  $x \geq -\frac{1}{5}$     b)  $x > \frac{1}{2}$     c)  $\forall x \in \mathbb{R}$

205. a)  $x > 2$

b)  $x \geq 0$

c)  $\exists x \in \mathbb{R}$

d)  $x < -2$

e)  $x \leq 3$

206. a)  $S = \{x \in \mathbb{R} \mid x > -4\}$

b)  $S = \{x \in \mathbb{R} \mid x \leq -10\}$

c)  $S = \left\{x \in \mathbb{R} \mid x \geq -\frac{-3}{4}\right\}$

208. a)  $S = \{x \in \mathbb{R} \mid x \geq 3\}$

b)  $S = \{x \in \mathbb{R} \mid x > -3\}$

c)  $S = \{x \in \mathbb{R} \mid x \geq 7\}$

d)  $S = \{x \in \mathbb{R} \mid x < 0\}$

e)  $S = \emptyset$

f)  $S = \mathbb{R}$

209. 7,9 ou mais

RESPOSTAS DOS EXERCÍCIOS

211. a)  $S = \{x \in \mathbb{R} \mid x > 1\}$

b)  $S = \left\{x \in \mathbb{R} \mid x < \frac{1}{2}\right\}$

c)  $S = \left\{x \in \mathbb{R} \mid x > -\frac{2}{3}\right\}$

212. a)  $S = \left\{x \in \mathbb{R} \mid -\frac{1}{3} < x < \frac{5}{3}\right\}$

b)  $S = \left\{x \in \mathbb{R} \mid \frac{1}{2} \leq x < 4\right\}$

c)  $S = \left\{x \in \mathbb{R} \mid -\frac{1}{3} < x < 1\right\}$

d)  $S = \emptyset$

e)  $S = \left\{x \in \mathbb{R} \mid x < \frac{1}{3}\right\}$

f)  $S = \{x \in \mathbb{R} \mid x > 1\}$

213. a)  $S = \{x \in \mathbb{R} \mid 1 \leq x \leq 2\}$

b)  $S = \{x \in \mathbb{R} \mid x < -3\}$

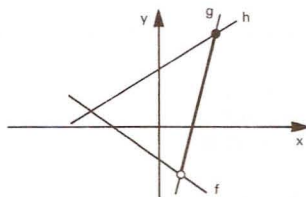
c)  $S = \{x \in \mathbb{R} \mid 3 \leq x \leq 6\}$

d)  $S = \emptyset$

e)  $S = \left\{x \in \mathbb{R} \mid -1 < x < \frac{2}{9}\right\}$

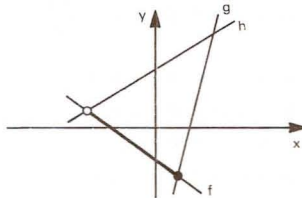
f)  $S = \{x \in \mathbb{R} \mid -1 < x < 1\}$

214. a)



$S = \{x \in \mathbb{R} \mid 1 < x \leq 4\}$

b)



$S = \{x \in \mathbb{R} \mid -3 < x \leq 1\}$

c)  $S = \emptyset$

215. a)  $S = \left\{x \in \mathbb{R} \mid x < -1 \text{ ou } x > \frac{3}{5}\right\}$

b)  $S = \left\{x \in \mathbb{R} \mid x < -\frac{5}{2} \text{ ou } x > 2\right\}$

c)  $S = \left\{x \in \mathbb{R} \mid x < -\frac{3}{4} \text{ ou } -\frac{2}{5} < x < 2\right\}$

d)  $S = \left\{x \in \mathbb{R} \mid -\frac{2}{3} < x < \frac{4}{3} \text{ ou } x > 6\right\}$

e)  $S = \left\{x \in \mathbb{R} \mid x \leq -\frac{7}{2} \text{ ou } x \geq \frac{1}{6}\right\}$

f)  $S = \left\{x \in \mathbb{R} \mid -\frac{2}{7} \leq x \leq \frac{5}{2}\right\}$

g)  $S = \left\{x \in \mathbb{R} \mid x \leq -\frac{3}{5} \text{ ou } -\frac{1}{4} \leq x \leq \frac{3}{2}\right\}$

h)  $S = \left\{x \in \mathbb{R} \mid \frac{1}{4} \leq x \leq \frac{5}{3} \text{ ou } x \geq \frac{7}{2}\right\}$

216. a)  $S = \{x \in \mathbb{R} \mid x \neq 3\}$

b)  $S = \left\{x \in \mathbb{R} \mid x < -\frac{8}{3}\right\}$

c)  $S = \emptyset$

d)  $S = \left\{x \in \mathbb{R} \mid x < \frac{1}{7}\right\}$

e)  $S = \mathbb{R}$

f)  $S = \left\{x \in \mathbb{R} \mid x \leq -\frac{1}{5}\right\}$

g)  $S = \left\{-\frac{4}{3}\right\}$

h)  $S = \left\{x \in \mathbb{R} \mid x \geq \frac{8}{3}\right\}$

218. a)  $S = \left\{x \in \mathbb{R} \mid x \geq \frac{2}{7}\right\}$

b)  $S = \left\{x \in \mathbb{R} \mid -\frac{1}{3} < x < \frac{2}{5}\right\}$

c)  $S = \left\{x \in \mathbb{R} \mid x \leq -6 \text{ ou } x = \frac{1}{3} \text{ ou } x = -\frac{5}{4}\right\}$

d)  $S = \left\{x \in \mathbb{R} \mid x \geq \frac{1}{5} \text{ ou } x = -3\right\}$

219.  $S = \left\{x \in \mathbb{R} \mid x < 0 \text{ ou } \frac{2}{3} < x < 2\right\}$

220. a)  $S = \left\{x \in \mathbb{R} \mid x < -2 \text{ ou } x > -\frac{1}{2}\right\}$

b)  $S = \left\{x \in \mathbb{R} \mid x < \frac{2}{3} \text{ ou } x > \frac{3}{2}\right\}$

## Capítulo VII

$$c) S = \left\{ x \in \mathbb{R} \mid -\frac{1}{5} < x \leq \frac{3}{4} \right\}$$

$$d) S = \left\{ x \in \mathbb{R} \mid x \leq -\frac{3}{2} \text{ ou } x > -\frac{1}{3} \right\}$$

$$221. a) S = \left\{ x \in \mathbb{R} \mid x < \frac{7}{8} \text{ ou } x > \frac{4}{3} \right\}$$

$$b) S = \{x \in \mathbb{R} \mid -2 \leq x < -1\}$$

$$c) S = \{x \in \mathbb{R} \mid -3 < x < 15\}$$

$$d) S = \left\{ x \in \mathbb{R} \mid x < -10 \text{ ou } x > \frac{-4}{3} \right\}$$

$$e) S = \{x \in \mathbb{R} \mid 1 \leq x < 2\}$$

$$f) S = \{x \in \mathbb{R} \mid 2 < x \leq 3\}$$

$$222. a) S = \left\{ x \in \mathbb{R} \mid -\frac{3}{4} < x < \frac{1}{2} \text{ ou } x > 4 \right\}$$

$$b) S = \left\{ x \in \mathbb{R} \mid x < -\frac{5}{2} \text{ ou } -\frac{3}{5} < x < -\frac{1}{3} \right\}$$

$$c) S = \left\{ x \in \mathbb{R} \mid x \leq -\frac{4}{5} \text{ ou } -\frac{1}{4} \leq x < \frac{5}{4} \right\}$$

$$d) S = \left\{ x \in \mathbb{R} \mid \frac{1}{2} \leq x < 3 \text{ ou } x > 5 \right\}$$

$$223. a) S = \{x \in \mathbb{R} \mid -3 < x < 4 \text{ ou } x > 11\}$$

$$b) S = \{x \in \mathbb{R} \mid 0 < x < 1 \text{ ou } x > 2\}$$

$$c) S = \{x \in \mathbb{R} \mid -4 < x < -2\}$$

$$d) S = \left\{ x \in \mathbb{R} \mid x < -\frac{5}{3} \text{ ou } -\frac{29}{24} \leq x < -\frac{2}{3} \right\}$$

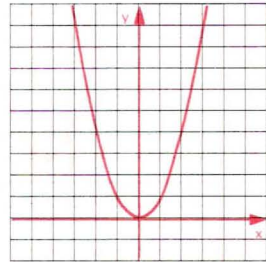
$$e) S = \left\{ x \in \mathbb{R} \mid -\frac{5}{4} < x < -\frac{9}{42} \text{ ou } x > \frac{1}{4} \right\}$$

$$f) S = \left\{ x \in \mathbb{R} \mid x < 1 \text{ ou } \frac{3}{2} < x < 2 \text{ ou } x > 3 \right\}$$

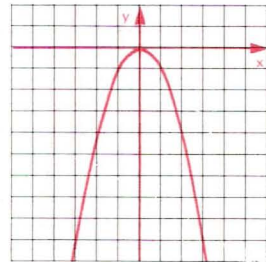
$$g) S = \left\{ x \in \mathbb{R} \mid -1 < x \leq 0 \text{ ou } \frac{1}{3} < x < 1 \text{ ou } x \geq 3 \right\}$$

$$224. S = \{x \in \mathbb{R} \mid x < 0 \text{ ou } x \geq 2\}$$

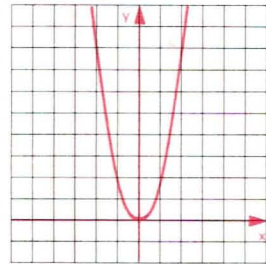
225. a)



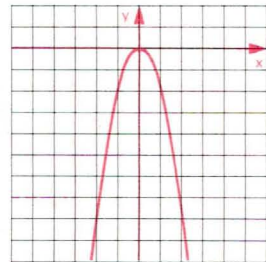
b)



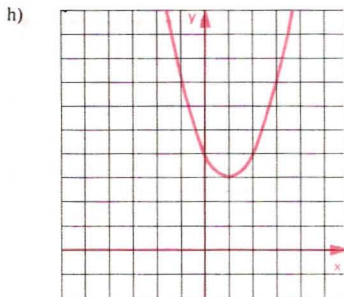
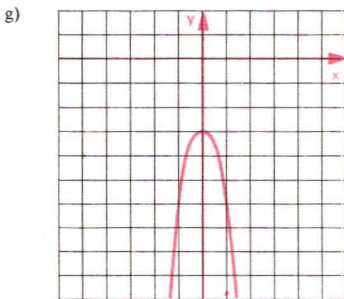
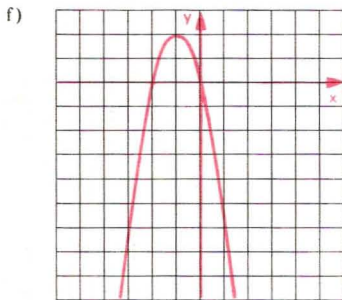
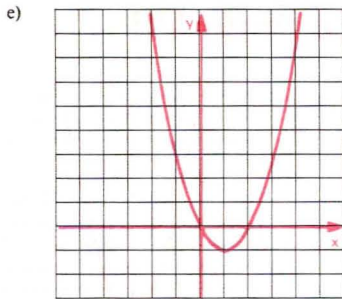
c)



d)



RESPOSTAS DOS EXERCÍCIOS



226.  $m \neq 2$  e  $m \neq -2$

227.  $f(x) = -2x^2 + 3x + 1$

228.  $abc = -70$

229. a)  $x = 1$  ou  $x = 2$

b)  $x = 3$  ou  $x = 4$

c)  $x = 2$  ou  $x = \frac{1}{3}$

d) Não existe  $x \in \mathbb{R}$ .

e)  $x = -2$

f)  $x = -\frac{1}{2}$  ou  $x = 2$

g)  $x = 1 + \sqrt{2}$  ou  $x = 1 - \sqrt{2}$

h) Não existe  $x \in \mathbb{R}$ .

i)  $x = \frac{\sqrt{2}}{2}$

j)  $x = -1$  ou  $x = \sqrt{3}$

k)  $x = 0$  ou  $x = 2$

l)  $x = \sqrt{2}$  ou  $x = -\sqrt{2}$

m) Não existe  $x \in \mathbb{R}$ .

n)  $x = 0$

230. 50

231.  $S = \{(3, 4), (4, 3)\}$

232. a)  $S = [-1, 4]$

b)  $S = \{(4, -4), (-1, 6)\}$

234. a)  $x = 1$  ou  $x = -1$  ou  $x = 2$  ou  $x = -2$

b)  $x = 3$  ou  $x = -3$

c)  $x = \sqrt{3}$  ou  $x = -\sqrt{3}$

d)  $x = \sqrt{2}$  ou  $x = -\sqrt{2}$

e) Não existe  $x \in \mathbb{R}$ .

f) Não existe  $x \in \mathbb{R}$ .

g)  $x = 0$  ou  $x = 2$  ou  $x = -2$

h)  $x = 2$  ou  $x = -1$

236.  $m > \frac{-9}{16}$  e  $m \neq 1$

237.  $m \leq \frac{17}{16}$  e  $m \neq -2$

238.  $m = -1$  ou  $m = \frac{1}{3}$

239.  $m = -2$  ou  $m = \frac{2}{5}$

240.  $m < -\frac{13}{12}$

241.  $m < -\frac{1}{4}$

242. São as mesmas de  $ax^2 + bx + c$ , multiplicadas por  $\alpha\beta$ .

244. a)  $\frac{5}{2}$

d)  $\frac{29}{4}$

b)  $-\frac{1}{2}$

e)  $-\frac{29}{2}$

c)  $-5$

f)  $\frac{155}{8}$

245.  $m = 2\sqrt{2}$

246.  $|x_1 - x_2| = 46$

247.  $\frac{b^2 - 2ac}{c^2}$

248.  $m = -3$

249.  $k = 6$

251. a)  $x^2 + x - 6 = 0$

b)  $4x^2 + 4x - 3 = 0$

c)  $x^2 - 5,4x + 2 = 0$

d)  $x^2 - (1 - \sqrt{2})x - \sqrt{2} = 0$

e)  $x^2 - 2x - 2 = 0$

252. a)  $a^2x^2 - (b^2 - 2ac)x + c^2 = 0$

b)  $cx^2 + bx + a = 0$

c)  $acx^2 - (b^2 - 2ac) + ac = 0$

d)  $a^3x^2 + (b^3 - 3abc)x + c^3 = 0$

253.  $m = -2 + \sqrt{6}$  ou  $m = -2 - \sqrt{6}$

254.  $g(x) = x^2 - \frac{p}{q}x + \frac{1}{q}$

255.  $m + n = 80$

256. a)  $V(0, -4)$

d)  $V\left(\frac{1}{4}, \frac{25}{16}\right)$

b)  $V\left(\frac{3}{2}, \frac{9}{4}\right)$

e)  $V\left(\frac{1}{2}, \frac{1}{36}\right)$

c)  $V\left(\frac{5}{4}, -\frac{9}{8}\right)$

f)  $V\left(\frac{7}{6}, -\frac{121}{36}\right)$

257. a)  $x_m = -\frac{5}{4}$  e  $y_m = -\frac{25}{8}$

b)  $x_M = 2$  e  $y_M = 12$

c)  $x_m = 1$  e  $y_m = 0$

d)  $x_m = \frac{7}{4}$  e  $y_m = \frac{-9}{16}$

e)  $x_M = \frac{5}{2}$  e  $y_M = -\frac{3}{4}$

f)  $x_M = \frac{4}{3}$  e  $y_M = \frac{7}{18}$

258.  $m = 2$

259.  $m = -2$  ou  $m = 1$

260.  $m = -1$

261. Não existe  $m \in \mathbb{R}$ .

263.  $y_M = y_V = \frac{21}{4}$ ;  $y_m = f(6) = -7$

264. Não tem máximo, porque  $a > 0$ .

265.  $v = 8$

266.  $x = 2$  e  $z = 4$

267. quadrado de lado 5 cm

268. 3 e 3

269. retângulo de lados  $\frac{5}{8}$  e  $\frac{5}{2}$

270. retângulo de lados 4 cm e 3 cm

271. retângulo de lados 2 cm e  $\sqrt{3}$  cm

272. retângulo de lados 2 cm e 3 cm

273. 4

274. 0,5 ou 2

275. a)  $Im = \left\{ y \in \mathbb{R} \mid y \geq -\frac{9}{4} \right\}$

b)  $Im = \{ y \in \mathbb{R} \mid y \leq 4 \}$

c)  $Im = \left\{ y \in \mathbb{R} \mid y \geq -\frac{3}{4} \right\}$

d)  $Im = \{ y \in \mathbb{R} \mid y \leq 16 \}$

e)  $Im = \left\{ y \in \mathbb{R} \mid y \leq \frac{25}{16} \right\}$

f)  $Im = \left\{ y \in \mathbb{R} \mid y \geq \frac{1}{2} \right\}$

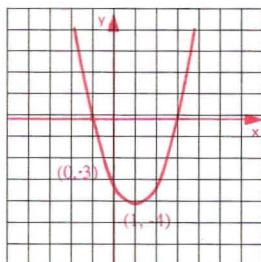


RESPOSTAS DOS EXERCÍCIOS

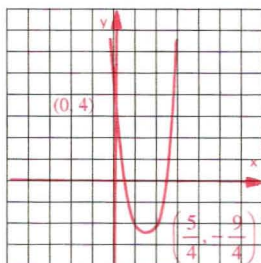
276.  $m = \frac{10}{3}$

277.  $m = \sqrt{10}$  ou  $m = -\sqrt{10}$

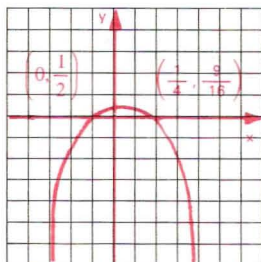
281. a)



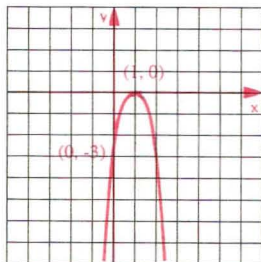
b)



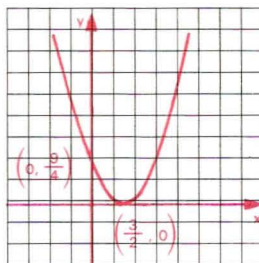
c)



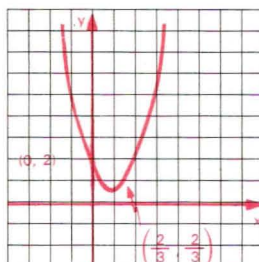
d)



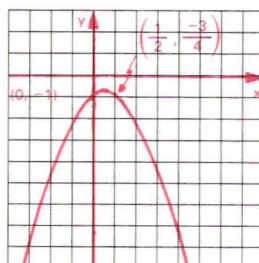
e)



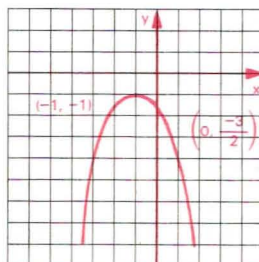
f)



g)



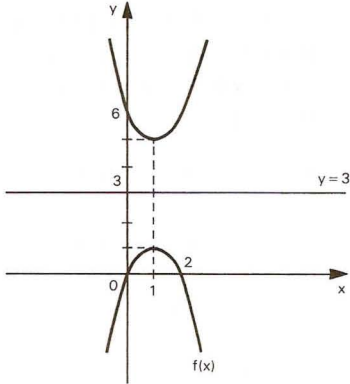
h)



282.  $0 < c < b < a$

285.  $a = 2$

286.  $g(x) = x^2 - 2x + 6$



287.  $A = 9$

288. a)  $x^2 - 2x - 3 > 0 \Leftrightarrow x < -1$  ou  $x > 3$   
 $x^2 - 2x - 3 = 0 \Leftrightarrow x = -1$  ou  $x = 3$   
 $x^2 - 2x - 3 < 0 \Leftrightarrow -1 < x < 3$

b)  $4x^2 - 10x + 4 > 0 \Leftrightarrow x < \frac{1}{2}$  ou  $x > 2$

$4x^2 - 10x + 4 = 0 \Leftrightarrow x = \frac{1}{2}$  ou  $x = 2$

$4x^2 - 10x + 4 < 0 \Leftrightarrow \frac{1}{2} < x < 2$

c)  $-x^2 + \frac{1}{2}x + \frac{1}{2} > 0 \Leftrightarrow -\frac{1}{2} < x < 1$

$-x^2 + \frac{1}{2}x + \frac{1}{2} = 0 \Leftrightarrow x = -\frac{1}{2}$  ou  $x = 1$

$-x^2 + \frac{1}{2}x + \frac{1}{2} < 0 \Leftrightarrow x < -\frac{1}{2}$  ou  $x > 1$

d)  $-3x^2 + 6x - 3 = 0 \Leftrightarrow x = 1$

$-3x^2 + 6x - 3 < 0 \Leftrightarrow x \neq 1$

e)  $x^2 - 3x + \frac{9}{4} > 0 \Leftrightarrow x \neq \frac{3}{2}$

$x^2 - 3x + \frac{9}{4} = 0 \Leftrightarrow x = \frac{3}{2}$

f)  $3x^2 - 4x + 2 > 0, \forall x \in \mathbb{R}$

g)  $-x^2 + x - 1 < 0, \forall x \in \mathbb{R}$

h)  $-\frac{1}{2}x^2 - x - \frac{3}{2} < 0, \forall x \in \mathbb{R}$

289.  $x_1 < x < x_2$  ( $x$  deve estar entre as raízes)

290.  $\Delta < 0$  e  $\begin{cases} a > 0 \Leftrightarrow f(x) > 0, \forall x \in \mathbb{R} \\ a < 0 \Leftrightarrow f(x) < 0, \forall x \in \mathbb{R} \end{cases}$

294. a)  $S = \{x \in \mathbb{R} \mid x < 1 \text{ ou } x > 2\}$

b)  $S = \{x \in \mathbb{R} \mid -2 < x < 3\}$

c)  $S = \left\{x \in \mathbb{R} \mid x \leq -3 \text{ ou } x \geq \frac{1}{3}\right\}$

d)  $S = \left\{x \in \mathbb{R} \mid -\frac{5}{2} \leq x \leq 4\right\}$

e)  $S = \left\{x \in \mathbb{R} \mid \frac{1}{4} \leq x \leq \frac{3}{2}\right\}$

f)  $S = \mathbb{R} - \left\{\frac{1}{2}\right\}$

g)  $S = \mathbb{R}$

h)  $S = \left\{\frac{3}{2}\right\}$

i)  $S = \mathbb{R}$

j)  $S = \mathbb{R}$

k)  $S = \emptyset$

l)  $S = \emptyset$

295. para todo  $x$  real

296.  $A \cap B = \emptyset$

297.  $\{x \in \mathbb{R} \mid 0 \leq x \leq 2\}$

298.  $20 < q(a) < 30$

299.  $\{x \in \mathbb{R} \mid x \leq -2 \text{ ou } x \geq 2\}$

301. a)  $S = \left\{x \in \mathbb{R} \mid -\frac{3}{2} < x < -\frac{1}{2} \text{ ou } 0 < x < \frac{1}{2}\right\}$

b)  $S = \left\{x \in \mathbb{R} \mid 1 \leq x \leq \frac{3}{2} \text{ ou } 2 \leq x \leq \frac{5}{2}\right\}$

c)  $S = \{x \in \mathbb{R} \mid -2 < x < 3 \text{ e } x \neq 1\}$

d)  $S = \{x \in \mathbb{R} \mid x = -3 \text{ ou } 1 \leq x \leq 2\}$

e)  $S = \{x \in \mathbb{R} \mid -1 < x < 1 \text{ ou } x > 2\}$

f)  $S = \{x \in \mathbb{R} \mid x \leq 3\}$

RESPOSTAS DOS EXERCÍCIOS

302. a)  $P_1(5, 0)$  e  $P_2\left(-\frac{1}{2}, 0\right)$

b)  $S = \left\{x \in \mathbb{R} \mid -\frac{1}{2} \leq x \leq 5\right\}$

303. 19

304.  $\{x \in \mathbb{R} \mid -4 < x < 2 \text{ ou } 3 < x < 4\}$

305.  $A = \{x \in \mathbb{R} \mid 0 < x < 2 \text{ ou } 5 < x < 6\}$

307. a)  $S = \left\{x \in \mathbb{R} \mid x < -\frac{5}{4} \text{ ou } -\frac{1}{2} < x < 1 \text{ ou } x > 2\right\}$

b)  $S = \left\{x \in \mathbb{R} \mid x < -2 \text{ ou } -\frac{1}{3} < x \leq \frac{1}{3} \text{ ou } x \geq \frac{2}{3}\right\}$

c)  $S = \{x \in \mathbb{R} \mid x < -3 \text{ ou } x \geq 0\}$

d)  $S = \left\{x \in \mathbb{R} \mid -2 < x < \frac{1}{2} \text{ ou } x > \frac{2}{3}\right\}$

e)  $S = \{x \in \mathbb{R} \mid -1 \leq x < 2 \text{ ou } 3 \leq x < 5\}$

f)  $S = \left\{x \in \mathbb{R} \mid -2 < x < -\frac{3}{2} \text{ ou } -\frac{3}{4} < x < -\frac{1}{3}\right\}$

g)  $S = \left\{x \in \mathbb{R} \mid -4 \leq x \leq -\frac{3}{4} \text{ ou } 1 < x < \frac{5}{2}\right\}$

h)  $S = \{x \in \mathbb{R} \mid x > 0\}$

308. a)  $\{x \in \mathbb{R} \mid -1 \leq x < 1 \text{ ou } x > 2\}$

b)  $\{x \in \mathbb{R} \mid x \leq 0 \text{ ou } x > 1\}$

c)  $\{x \in \mathbb{R} \mid x > 2\}$

d)  $\{x \in \mathbb{R} \mid x < -1 \text{ ou } 0 \leq x < 1\}$

e)  $\{t \in \mathbb{R} \mid t < 0\}$

f)  $\{x \in \mathbb{R} \mid x < -1 \text{ ou } -1 < x \leq 0 \text{ ou } x > 1\}$

309.  $\{x \in \mathbb{R} \mid x < 1\}$

310.  $\{x \in \mathbb{R} \mid x \geq 3\}$

311. a) Significa obter para quais valores  $x$  a função está definida.

b)  $D_f = \{x \in \mathbb{R} \mid -3 < x \leq -1 \text{ ou } 1 \leq x < 5\}$

312.  $D_Y = \{x \in \mathbb{R} \mid x < -3 \text{ ou } 2 < x \leq 5\}$

313.  $\{x \in \mathbb{R} \mid x \geq 2\}$

314.  $-4 \leq x < -3 \text{ ou } -1 < x \leq 2 \text{ ou } x \geq 3, x \in \mathbb{R}$

315. a)  $S = \{x \in \mathbb{R} \mid 4 < x \leq 6\}$

b)  $S = \{x \in \mathbb{R} \mid -3 \leq x < -2\}$

c)  $S = \{x \in \mathbb{R} \mid -1 \leq x \leq 1 \text{ ou } 2 \leq x \leq 4\}$

d)  $S = \{x \in \mathbb{R} \mid -3 \leq x < -1\}$

e)  $S = \{x \in \mathbb{R} \mid -1 < x < 0\}$

f)  $S = \emptyset$

316. a)  $S = \{x \in \mathbb{R} \mid x < -2 \text{ ou } x > 3\}$

b)  $S = \{x \in \mathbb{R} \mid -5 \leq x < -3\}$

c)  $S = \left\{x \in \mathbb{R} \mid -\frac{1}{2} \leq x < \frac{1}{2} \text{ ou } x > \frac{3}{2}\right\}$

d)  $S = \left\{\frac{1}{2}\right\}$

317. a) V    b) V    c) F    d) F    e) V

318. a) F    b) F    c) F    d) V    e) V

320. a)  $S = \{x \in \mathbb{R} \mid -3 \leq x \leq -1 \text{ ou } 1 \leq x \leq 3\}$

b)  $S = \{x \in \mathbb{R} \mid x < -2 \text{ ou } x > 2\}$

c)  $S = \{x \in \mathbb{R} \mid -1 < x < 1\}$

d)  $S = \emptyset$

e)  $S = \{x \in \mathbb{R} \mid x \leq -1 \text{ ou } x \geq 2\}$

f)  $S = \mathbb{R}$

322. a)  $m > \frac{9}{4}$                       f)  $1 < m < \frac{4}{3}$

b)  $m \leq \frac{1}{4}$                       g)  $m \leq -2$

c)  $0 < m < 4$                       h)  $m \geq 3$

d)  $\nexists m \in \mathbb{R}$                       i)  $m < -2$

e)  $\nexists m \in \mathbb{R}$                       j)  $m \geq 1$

324. a)  $-2 < m < 2$                       c)  $m < -\frac{3}{4}$

b)  $m < 1$                       d)  $-1 < m < 2$

325.  $p > 11$

326.  $-2 < m < -1$

327.  $a > \frac{\sqrt{2}}{4}$

## Capítulo VIII

328.  $0 < m < 8$

329.  $k \geq 9$

331. a)  $0 < m < \frac{7}{9}$

b)  $m > 1$

c)  $-2 < m < 0$

d)  $-3 < m < x$

332.  $m < -1$

333.  $-2 < m < 2$

334.  $k = 1$

336.  $m < \frac{3}{2}$  ou  $3 < m \leq \frac{7}{2}$

337.  $m < \frac{-2\sqrt{2}}{3}$

338.  $m < -5$

339.  $-5 < m < -1$

340.  $1 < m < 4$

341.  $-\frac{3}{2} < m < -1$

342.  $0 < m < \frac{1}{2}$

343.  $m < \frac{3}{2}$  e  $m \neq 0$  ou  $m > 3$

344.  $m > 1$

345.  $-\sqrt{2} < m < -1$

346.  $-1 < m < 2$

347.  $m > 1$

348.  $m < -2$  ou  $2 < m < 3$

349.  $-\frac{1}{4} \leq m < 0$  ou  $m > 2$

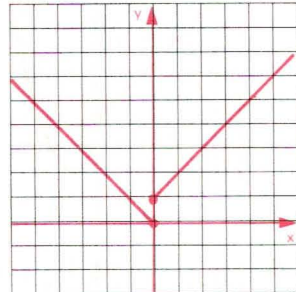
350.  $k = 1$

351. a) 49      b) 39      c) 6

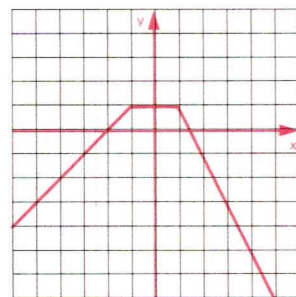
352.  $m < \frac{5}{2}$

353. duas raízes negativas

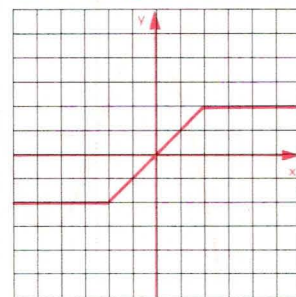
354. a)



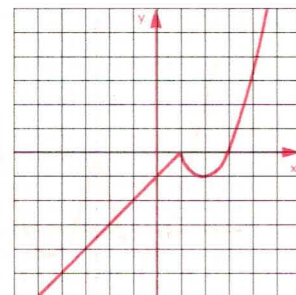
b)



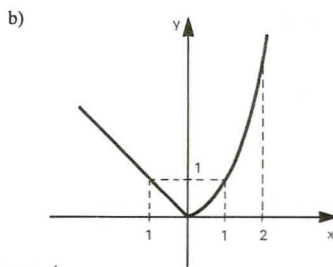
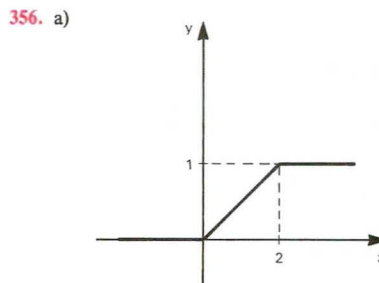
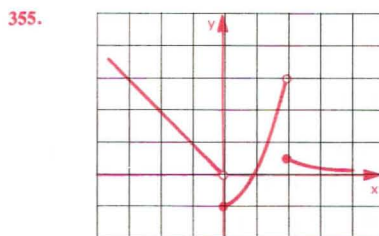
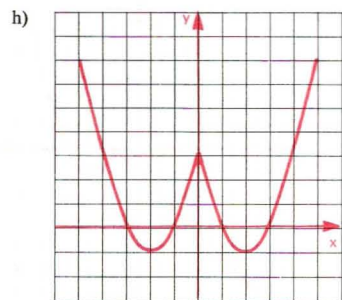
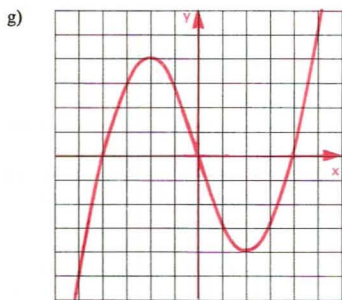
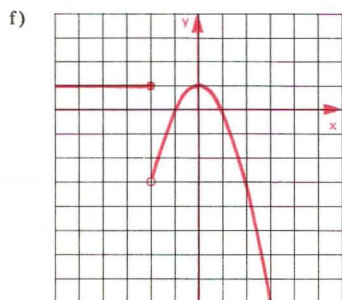
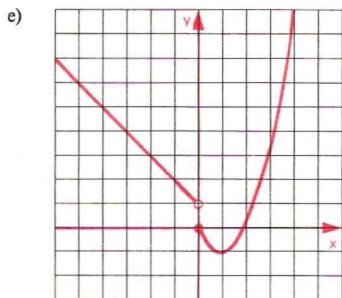
c)



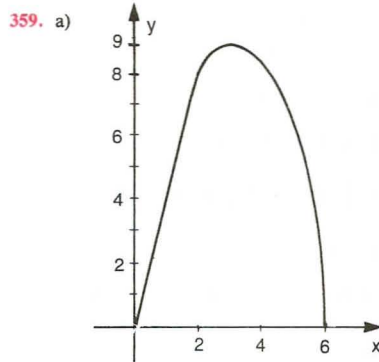
d)



RESPOSTAS DOS EXERCÍCIOS



358.  $x = 4$

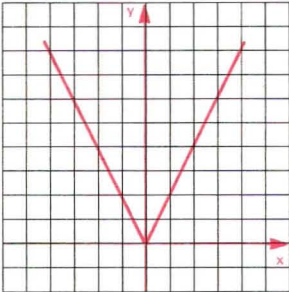


b)  $f(x) = 5$  para  $x = \frac{5}{4}$  ou  $x = 5$

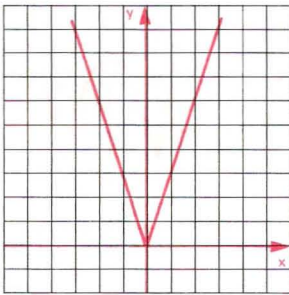


360. a) não                      c) sim                      e) sim  
 b) sim                          d) não

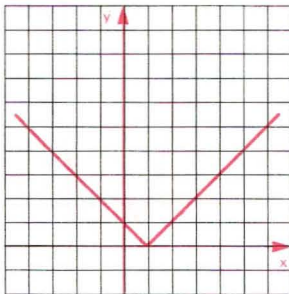
361. a)



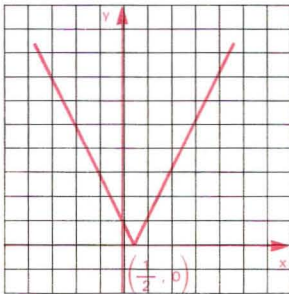
b)



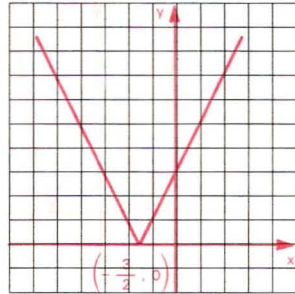
363. a)



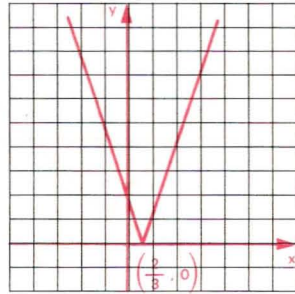
b)



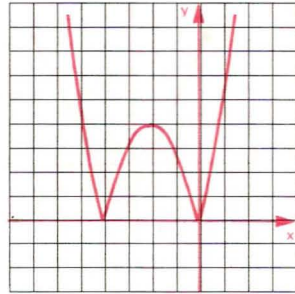
c)



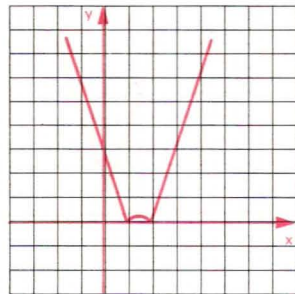
d)



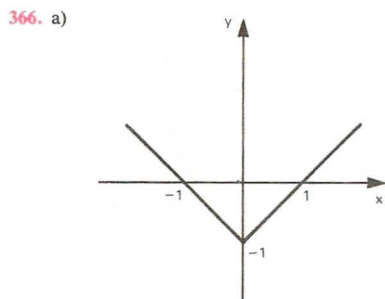
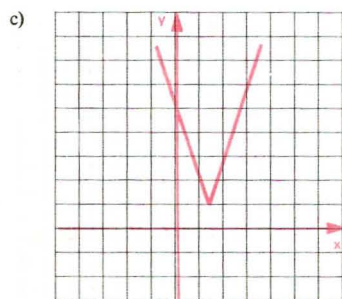
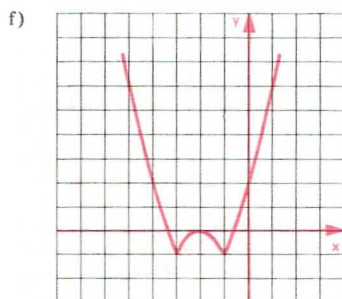
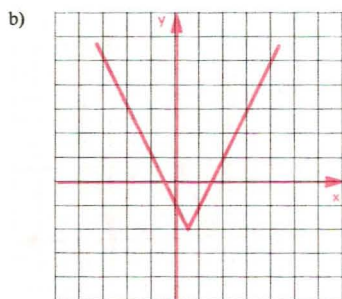
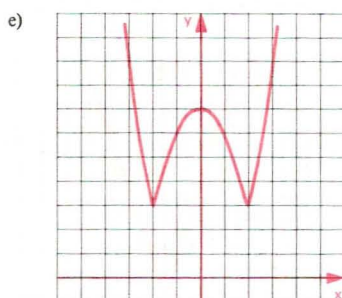
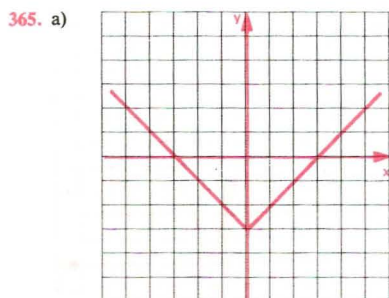
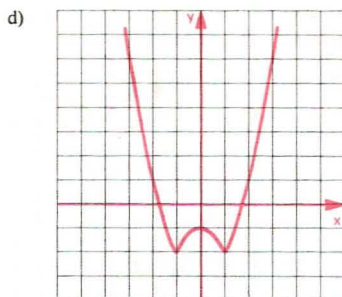
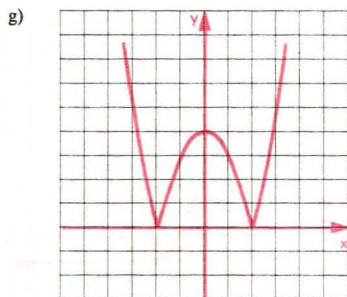
e)

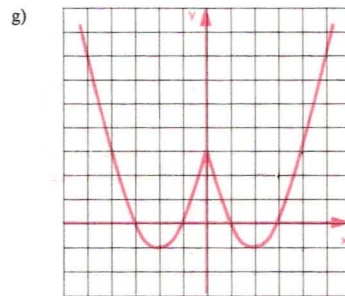
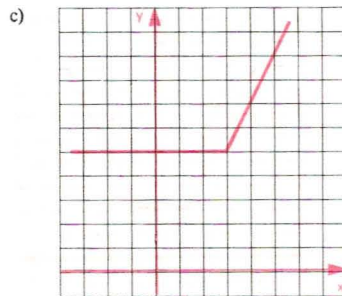
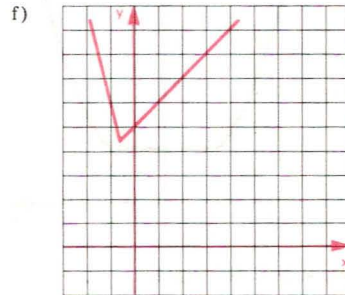
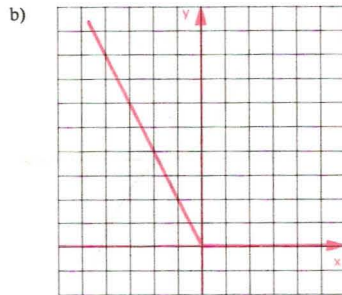
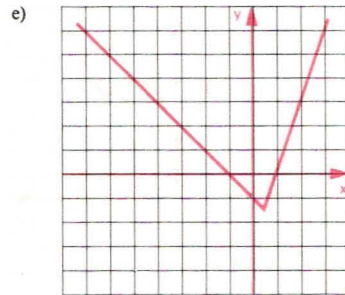
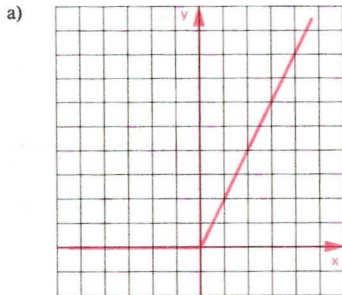
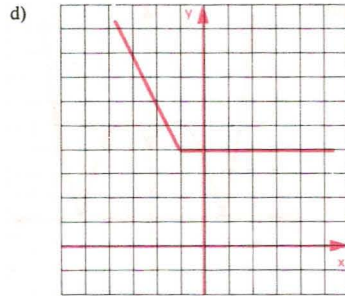
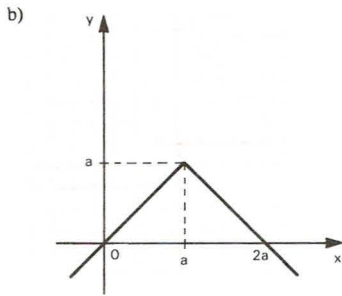


f)

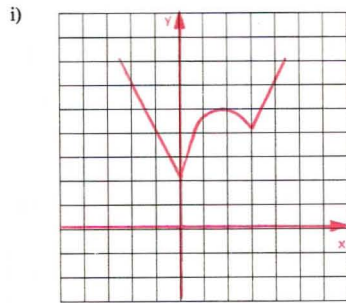
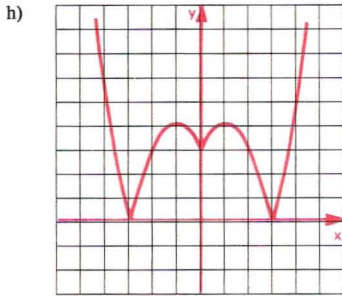


RESPOSTAS DOS EXERCÍCIOS

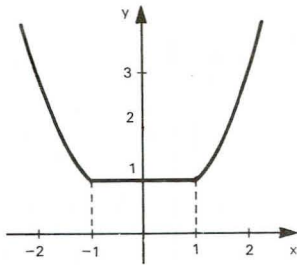




RESPOSTAS DOS EXERCÍCIOS



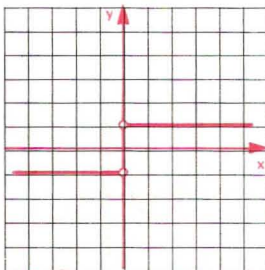
369.



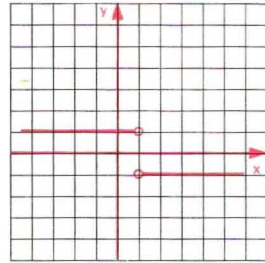
370.  $\text{Im}_f = \{y \in \mathbb{R} \mid y \geq 2\}$

371. a, b, c

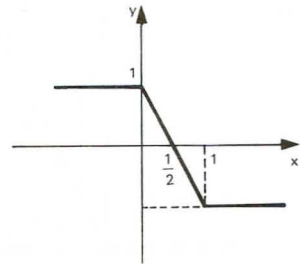
372.



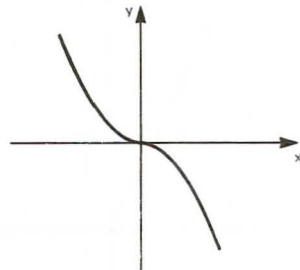
373.



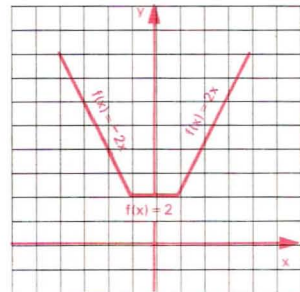
375. a)

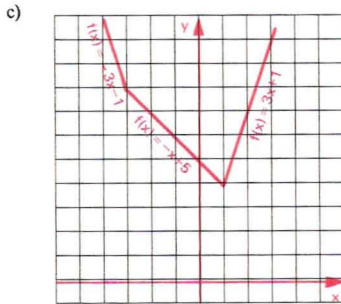
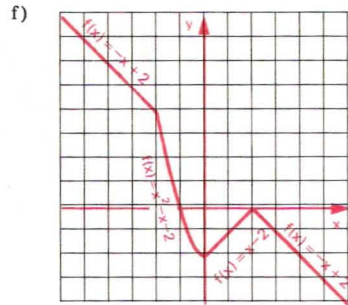
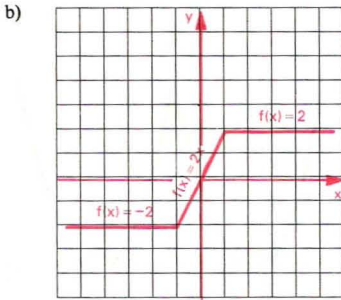


b)

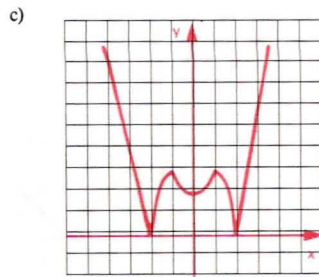
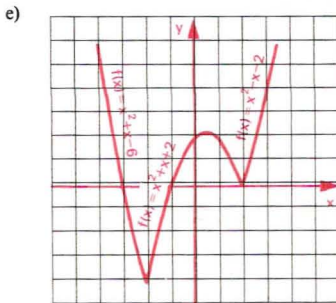
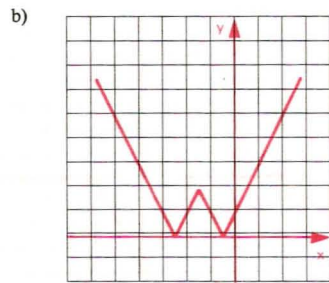
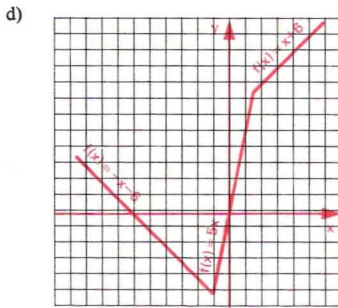
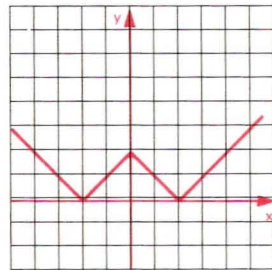


376. a)





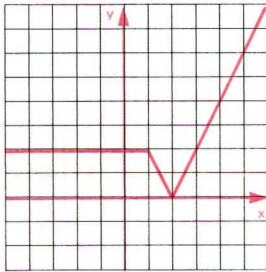
378. a)



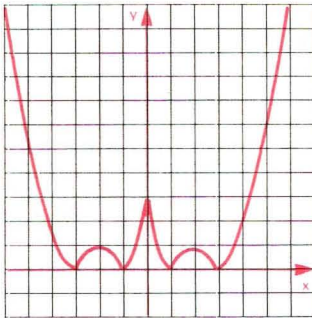


RESPOSTAS DOS EXERCÍCIOS

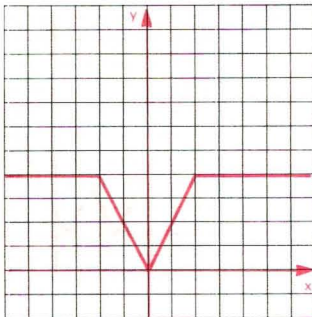
d)



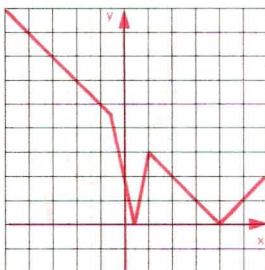
e)



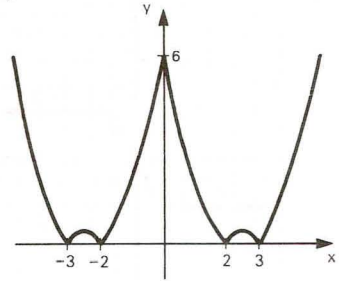
f)



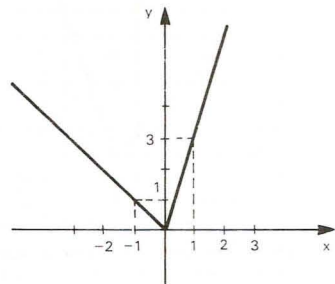
g)



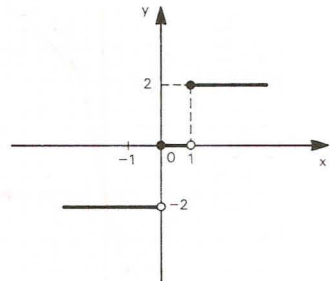
379. a)



b)



c)



380. a, b, c, d

381. a)  $S = [1, -5]$

b)  $S = \left\{1, -\frac{1}{3}\right\}$

c)  $S = \left\{\frac{5}{4}\right\}$

d)  $S = \emptyset$

e)  $S = \{-1, 1, 2, 4\}$

f)  $S = \left\{-\frac{1}{2}, \frac{1}{2}, 2, 3\right\}$

g)  $S = [1, 3]$

382.  $k > 1$

383. a)  $S = \left\{ -\frac{3}{2}, -\frac{1}{4} \right\}$

b)  $S = \left\{ 2, -\frac{1}{3} \right\}$

c)  $S = \{-6, -1, 1, 4\}$

d)  $S = \left\{ -\frac{3}{2}, \frac{1}{3}, 1 \right\}$

384. a)  $S = \left\{ \frac{1}{3} \right\}$

b)  $S = \emptyset$

c)  $S = [4, 2]$

d)  $S = [-13, -6]$

e)  $S = \left\{ x \in \mathbb{R} \mid x \geq \frac{2}{3} \right\}$

f)  $S = \left\{ x \in \mathbb{R} \mid x \geq \frac{4}{3} \right\}$

385.  $S = \{-2, 2\}$

387. a)  $S = \{x \in \mathbb{R} \mid -1 \leq x \leq 0\}$

b)  $S = \{x \in \mathbb{R} \mid x < 0 \text{ ou } x > 1\}$

388. a)  $S = \left\{ x \in \mathbb{R} \mid -\frac{2}{3} < x < 2 \right\}$

b)  $S = \{x \in \mathbb{R} \mid 1 \leq x \leq 2\}$

c)  $S = \left\{ x \in \mathbb{R} \mid -\frac{1}{3} \leq x \leq 3 \right\}$

d)  $S = \left\{ -\frac{4}{3} \right\}$

e)  $S = \emptyset$

f)  $S = \{x \in \mathbb{R} \mid x < -1 \text{ ou } x > 2\}$

g)  $S = \left\{ x \in \mathbb{R} \mid x \leq -\frac{8}{5} \text{ ou } x \geq 0 \right\}$

h)  $S = \left\{ x \in \mathbb{R} \mid x \leq \frac{1}{3} \text{ ou } x \geq 1 \right\}$

i)  $S = \left\{ x \in \mathbb{R} \mid x \neq \frac{5}{3} \right\}$

j)  $S = \mathbb{R}$

k)  $S = \{x \in \mathbb{R} \mid -2 \leq x < 0 \text{ ou } 2 < x \leq 4\}$

389. a)  $S = \{x \in \mathbb{R} \mid 1 < x < 2 \text{ ou } 3 < x < 4\}$

b)  $S = \{x \in \mathbb{R} \mid x < -2 \text{ ou } -1 < x < 2 \text{ ou } x > 3\}$

c)  $S = \{x \in \mathbb{R} \mid x \leq -1 \text{ ou } 2 \leq x \leq 3 \text{ ou } x \geq 6\}$

d)  $S = \{x \in \mathbb{R} \mid -2 \leq x \leq 1 \text{ ou } 2 \leq x \leq 5\}$

e)  $S = \left\{ x \in \mathbb{R} \mid -\frac{1}{4} < x < \frac{5}{8} \text{ e } x \neq \frac{1}{3} \right\}$

f)  $S = \left\{ x \in \mathbb{R} \mid x \leq \frac{1}{5} \text{ ou } x \geq 1 \right\}$

g)  $S = \{x \in \mathbb{R} \mid x < -3 \text{ ou } -1 < x < 1 \text{ ou } x > 3\}$

h)  $S = \{x \in \mathbb{R} \mid x \leq -3 \text{ ou } -1 \leq x \leq 0 \text{ ou } x \geq 2\}$

i)  $S = \{x \in \mathbb{R} \mid -3 \leq x \leq 0 \text{ ou } 1 \leq x \leq 4\}$

390. 29

391. a) V b) V c) V d) V e) F

392. 5

393.  $S = \{x \in \mathbb{R} \mid -1 < x < 2 \text{ ou } 4 < x < 7\}$

394.  $S = \{x \in \mathbb{R} \mid -2 < x < -1 \text{ ou } 0 < x < 1\}$

395. 5

396. a) V b) V c) F d) F e) V f) F

397.  $-1, 0, 3 \text{ e } 4$

399. a)  $S = \{x \in \mathbb{R} \mid x \geq 3\}$

b)  $S = \{x \in \mathbb{R} \mid x < 5\}$

c)  $S = \{x \in \mathbb{R} \mid -1 \leq x \leq 1\}$

d)  $S = \mathbb{R}$

e)  $S = \emptyset$

f)  $S = \{x \in \mathbb{R} \mid 3 \leq x \leq 6\}$

g)  $S = \{x \in \mathbb{R} \mid 4 < x < 6\}$

400.  $S = \{x \in \mathbb{R} \mid 1 < x < 4\}$

401. a, b, c, e

402.  $S = \{x \in \mathbb{R} \mid x > 0\}$

404. a)  $S = \{x \in \mathbb{R} \mid x < -5 \text{ ou } 1 < x < 5\}$

b)  $S = \{x \in \mathbb{R} \mid x < -2 \text{ ou } x > 0\}$

c)  $S = \{x \in \mathbb{R} \mid x \leq -5 \text{ ou } -3 \leq x \leq 7\}$

d)  $S = \left\{ x \in \mathbb{R} \mid -3 < x < \frac{11}{3} \right\}$

e)  $S = \{x \in \mathbb{R} \mid x < -2 \text{ ou } x > 4\}$

f)  $S = \{x \in \mathbb{R} \mid x \leq 0 \text{ ou } x \geq 3\}$

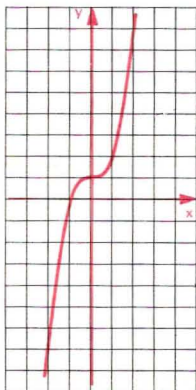
g)  $S = \emptyset$

405.  $S = \{x \in \mathbb{R} \mid x \leq 0 \text{ ou } x \geq 6\}$

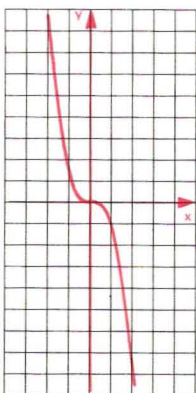
406.  $S = \{x \in \mathbb{R} \mid x \geq -3\}$

## Capítulo IX

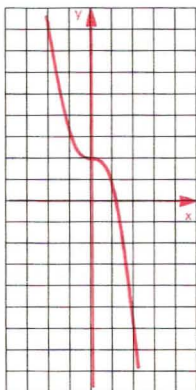
407. a)



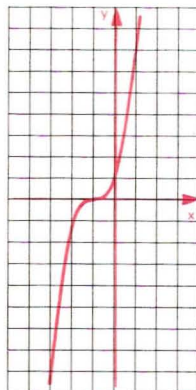
b)



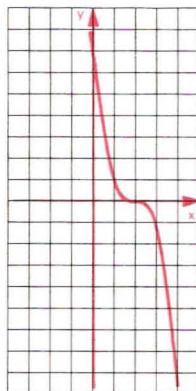
c)



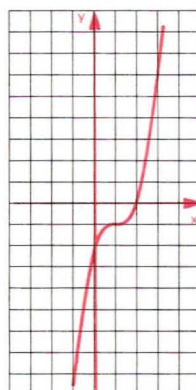
d)

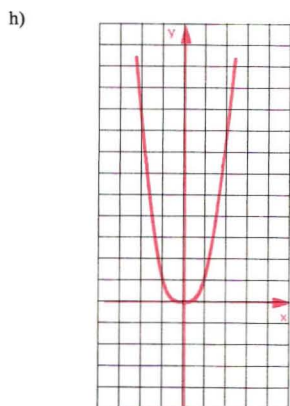
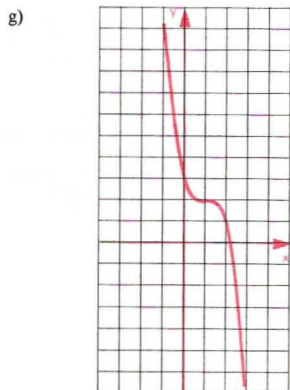


e)

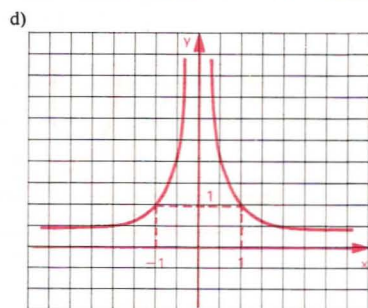
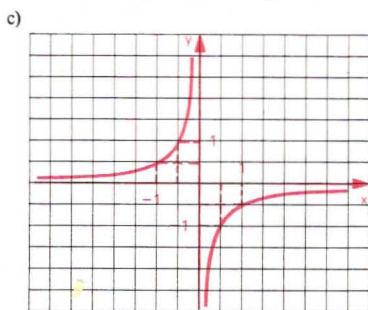
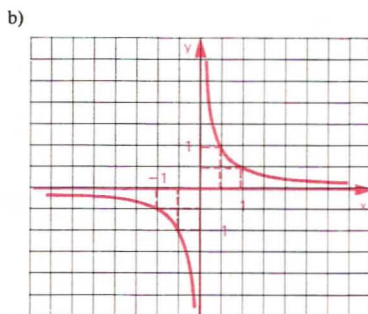
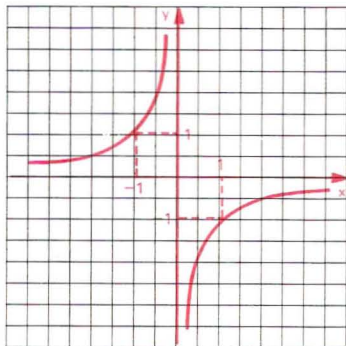


f)

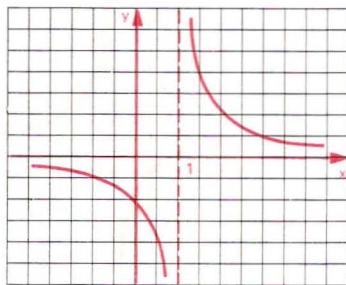




408. a)

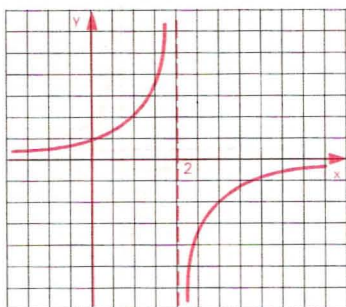


410. a)

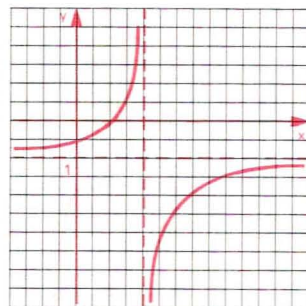


RESPOSTAS DOS EXERCÍCIOS

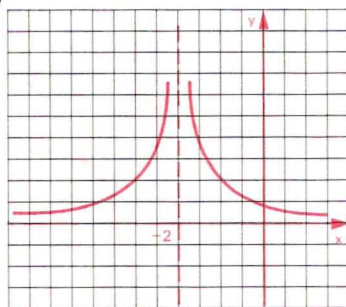
b)



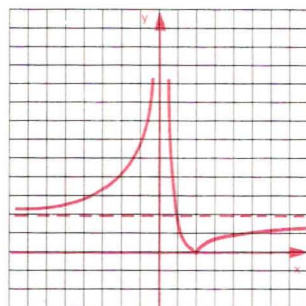
c)



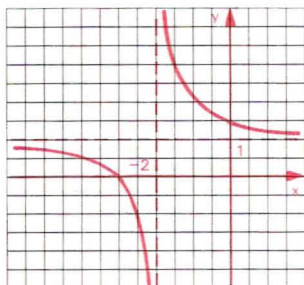
c)



d)

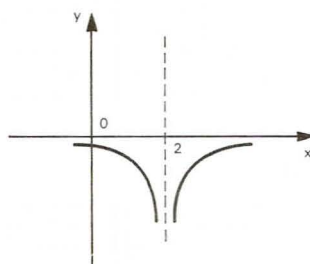


411. a)

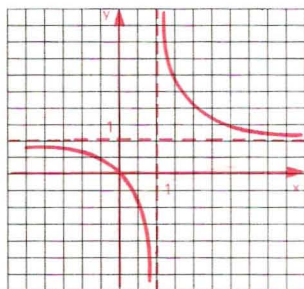


413.  $\frac{35}{12}$

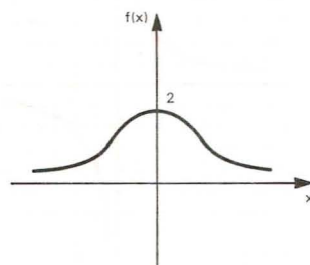
414. a)



b)

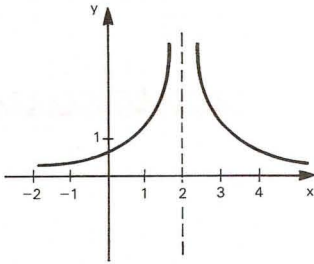


b)

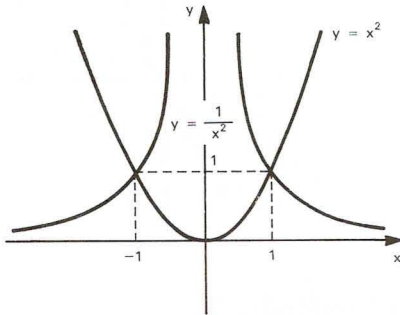




c)



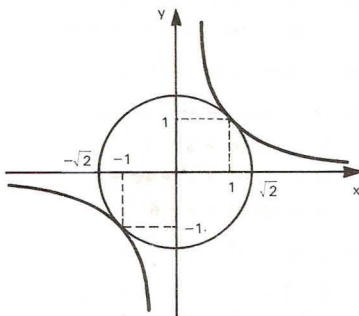
415.



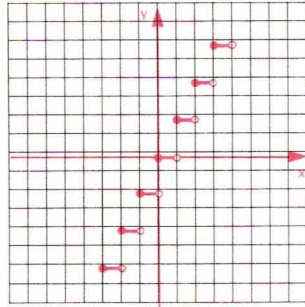
$$S = \{(-1, 1), (1, 1)\}$$

416.  $x = \frac{1 \pm \sqrt{5}}{2}$

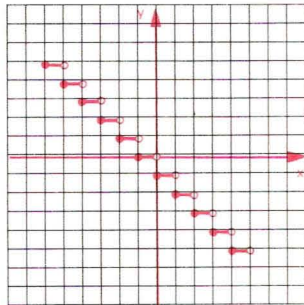
417.



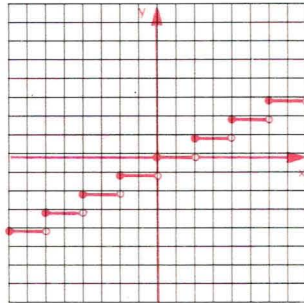
418. a)



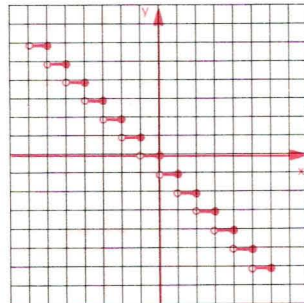
b)

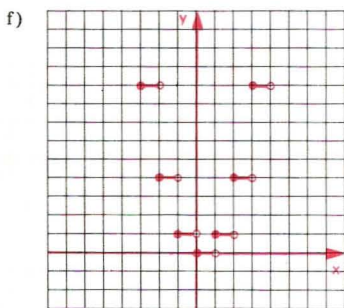
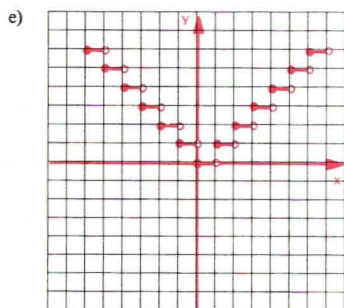
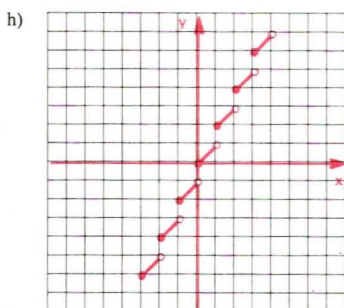
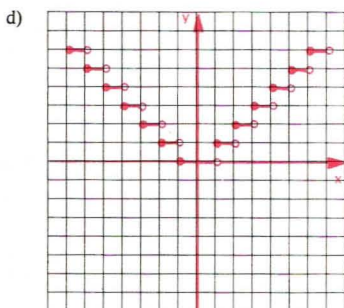
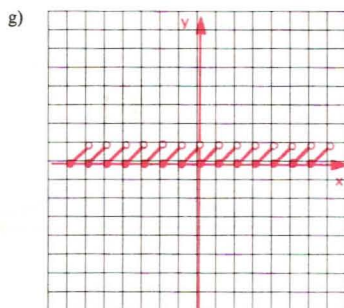
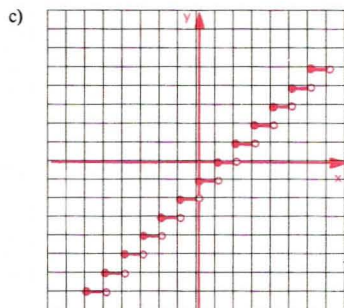


420. a)



b)





## Capítulo X

422. a)  $(f \circ g)(x) = 4x^2 - 2x - 2$   
 $(g \circ f)(x) = 5 + 2x - 2x^2$   
 b)  $(f \circ g)(-2) = 18, (g \circ f)(-2) = -7$   
 c)  $x = 2$  ou  $x = -\frac{3}{2}$
423.  $(f \circ g)(x) = x^4 - 6x^2 + 6$   
 $(g \circ f)(x) = x^4 - 8x^3 + 18x^2 - 8x$
424.  $(f \circ g)(x) = 2, (g \circ f)(x) = 5$
425. a)  $(f \circ g)(x) = x^2 - 6x + 11$   
 b)  $(g \circ f)(x) = x^2 - 1$   
 c)  $(f \circ f)(x) = x^4 + 4x^2 + 6$   
 d)  $(g \circ g)(x) = x - 6$
426.  $f(-x) = -x^3 - 3x^2 - 2x - 1$   
 $f\left(\frac{1}{x}\right) = \frac{1}{x^3} - \frac{3}{x^2} + \frac{2}{x} - 1$   
 $f(x-1) = x^3 - 6x^2 + 11x - 7$

427.  $a = 1$

431. a)  $D(f \circ g) = \left\{ x \in \mathbb{R} \mid x \leq \frac{1}{2} \text{ ou } x \geq 2 \right\}$

b)  $D(g \circ f) = \{x \in \mathbb{R} \mid x \geq 1\}$

432. a)  $D(f \circ g) = \mathbb{R} - \left\{ -\frac{1}{2} \right\}$

$(f \circ g)(x) = \frac{2x + 4}{2x + 1}$

b)  $D(g \circ f) = \mathbb{R} - \{2\}$

$(g \circ f)(x) = \frac{5x - 4}{x - 2}$

433.  $[(h \circ g) \circ f](x) = 12x^2 + 12x + 2$

434.  $[h \circ (g \circ f)](x) = 2x^2 - 2x + 7$

435.  $\theta = \pm \frac{\pi}{12} + k\pi, \theta = \frac{5\pi}{12} + k\pi$  ou

$\theta = \frac{7\pi}{12} + k\pi$

436.  $(a, 3a - 3), \forall a \in \mathbb{R}$       437.  $a = \frac{m + 4}{m + 2}$

438. a, c, e: *falsos*; b, d, f: *verdadeiros*

439.  $f(g(x)) = 3$

440.  $(f \circ [f \circ f])(x) = x$

441.  $((h \circ f) \circ g)(2) = 5$

442.  $x = \frac{-1}{2}$

443.  $d(a - 1) = b(c - 1)$

445.  $g(x) = \frac{x^2 - 2x - 4}{2}$

447.  $f(x) = \frac{x^2 + 2x - 1}{2}$

448.  $f(x) = \frac{2x + 4}{x - 1}$  para  $x \neq 1$

449.  $a = 1; b = \frac{1}{2}$

450.  $b = -3$

451.  $D_{f(x)} = \left\{ x \in \mathbb{R} \mid x \neq \frac{1}{2} \right\}$

452.  $f\left(\frac{-12}{15}\right) = 7$

453. 7

454.  $k = -1; t = 3$

b)  $\left\{ x \in \mathbb{R} \mid x \leq \frac{1}{2} \text{ ou } x > 3 \right\}$

456.  $(f \circ g)(x) = \begin{cases} 4x^2 + 4x \text{ se } x \geq -\frac{1}{2} \\ 4x + 3 \text{ se } x < -\frac{1}{2} \end{cases}$

$(g \circ f)(x) = \begin{cases} 2x^2 - 8x + 9 \text{ se } x \geq 2 \\ 4x - 3 \text{ se } x < 2 \end{cases}$

457.  $(f \circ g)(x) = \begin{cases} 9x^2 - 12x + 6 \text{ se } x \geq 1 \\ -\frac{1}{3x} \text{ se } \frac{1}{3} < x < 1 \\ -9x^2 + 12x \text{ se } x \leq \frac{1}{3} \end{cases}$

$(g \circ f)(x) = \begin{cases} -3x^2 - 4 \text{ se } x \leq -1 \\ \frac{2x - 7}{x - 2} \text{ se } -1 \leq x < 1 \\ 3x^2 - 10 \text{ se } x \geq 1 \end{cases}$

458.  $(f \circ g)(x) = \begin{cases} 4x + 1 \text{ se } x > 2 \\ 1 - 4x^2 \text{ se } -1 \leq x \leq 1 \\ x^4 + x^2 \text{ se } x < -1 \text{ ou } 1 < x \leq 2 \end{cases}$

$(g \circ f)(x) = \begin{cases} 4x - 2 \text{ se } x > \frac{5}{4} \\ -16x^2 + 24x - 8 \text{ se } 0 \leq x \leq \frac{5}{4} \\ x^2 - 3x + 3 \text{ se } x < 0 \end{cases}$

459.  $f(x) = \begin{cases} x^2 + 3x - 1 \text{ se } x \geq -1 \\ 2x + 9 \text{ se } x < -1 \end{cases}$

460. a) injetora  
b) sobrejetora  
d) bijetora  
e) não é injetora nem sobrejetora

461. a) injetora  
b) bijetora  
c) sobrejetora  
d) não é injetora nem sobrejetora

462. a) III      c) II      e) II      g) III  
b) IV      d) I      f) III      h) II

463.  $b = 2$

464.  $a = \frac{3}{4}$

RESPOSTAS DOS EXERCÍCIOS

465.  $B = \{y \in \mathbb{R} \mid -2 \leq y < 3\}$

466.  $B = \{y \in \mathbb{R} \mid 0 \leq y \leq 5\}$

467. a) III b) II c) I d) II e) II f) II

468. sobrejetora

469. a, b, e, f: falsas; c, d, g: verdadeiras

470. b, d, h: falsas; a, c, e, f, g: verdadeiras

471. a, c: falsas; b, d, e, f: verdadeiras

472. a, c, d: falsas; b, e: verdadeiras

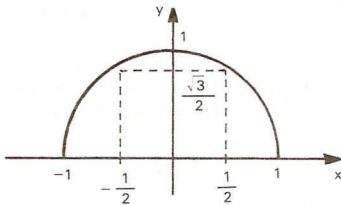
473. a)  $D_f = \{x \in \mathbb{R} \mid -1 \leq x \leq 1\}$

b)  $\text{Im}_f = \{y \in \mathbb{B} \mid 0 \leq y \leq 1\}$

c) Não, porque, por exemplo,

$$f\left(\frac{-1}{2}\right) = f\left(\frac{1}{2}\right) = \frac{\sqrt{3}}{2}.$$

d)



474. a, b, d: falsas; c, e: verdadeiras

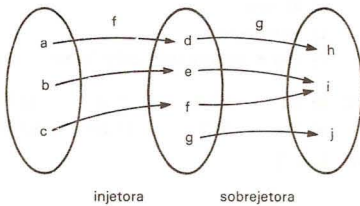
478. As funções  $I_A$  e  $I_B$  são iguais se, e somente se,  $A = B$ .

479.  $m \leq n, m \geq n, m = n$

480. 12

481. 6

482.



$g \circ f$  não é injetora nem sobrejetora.

485. 8

486. a)  $f^{-1}(x) = \frac{x-3}{2}$

b)  $g^{-1}(x) = \frac{3x-1}{4}$

c)  $h^{-1}(x) = \sqrt[3]{x-2}$

d)  $p^{-1}(x) = 1 + \sqrt[3]{x-2}$

e)  $q^{-1}(x) = x^3 - 2$

f)  $r^{-1}(x) = (x+1)^3$

g)  $s^{-1}(x) = \sqrt[3]{1-x^3}$

487.  $f^{-1}(2) = 0$

488.  $f^{-1}(x) = \sqrt[3]{x-1}$

489. Não, pois  $f$  não é injetora, por exemplo:  $f(-1) = f(1) = 1$ ; portanto  $f$  não é bijetora.

490. a, c, e: falsas; b, d: verdadeiras

492.  $f^{-1}: \mathbb{R}_+ \rightarrow \mathbb{R}_+$

$f^{-1}(x) = \sqrt{x}$

b)  $f^{-1}: \mathbb{R}_+ \rightarrow A$

$f^{-1}(x) = 1 - \sqrt{x}$

c)  $f^{-1}: \mathbb{R}_- \rightarrow A$

$f^{-1}(x) = 2 - \sqrt{-x}$

d)  $f^{-1}: \mathbb{R}_- \rightarrow A$

$f^{-1}(x) = -1 - \sqrt{-x}$

e)  $f^{-1}: B \rightarrow \mathbb{R}_-$

$f^{-1}(x) = -\sqrt{x-1}$

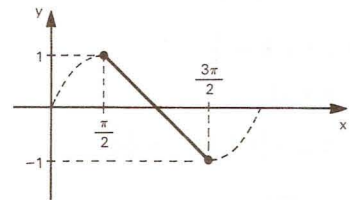
f)  $f^{-1}: B \rightarrow \mathbb{R}_+$

$f^{-1}(x) = \sqrt{4-x}$

g)  $f^{-1}: B \rightarrow \mathbb{R}_-$

$f^{-1}(x) = -\sqrt{x+1}$

493.



a, d, e: falsas; b, c: verdadeiras

494. b, f: *não*; a, c, d, e: *sim*

496. a)  $f^{-1} : \mathbb{R} - \{1\} \rightarrow \mathbb{R} - \{3\}$

$$f^{-1}(x) = \frac{3x+3}{x-1}$$

b)  $f^{-1} : \mathbb{R} - \{2\} \rightarrow \mathbb{R} - \{-1\}$

$$f^{-1}(x) = \frac{3-x}{x-2}$$

c)  $f^{-1} : \mathbb{R} - \{-1\} \rightarrow \mathbb{R} - \{3\}$

$$f^{-1}(x) = \frac{3x+4}{x+1}$$

d)  $f^{-1} : \mathbb{R} - \left\{\frac{5}{3}\right\} \rightarrow \mathbb{R} - \left\{\frac{1}{3}\right\}$

$$f^{-1}(x) = \frac{x+2}{3x-5}$$

e)  $f^{-1} : \mathbb{R} - \{4\} \rightarrow \mathbb{R}^*$

$$f^{-1}(x) = \frac{2}{x-4}$$

f)  $f^{-1} : \mathbb{R} - \{3\} \rightarrow \mathbb{R} - \{3\}$

$$f^{-1}(x) = \frac{3x+2}{x-3}$$

497.  $(f \circ g^{-1})(0) = 8$

498.  $a = -1$

500. É o  $\sqrt{17}$ , pois  $f^{-1}(\sqrt{17}) = 3$ , isto é,  
 $f(3) = \sqrt{17}$ .

502. a)  $f^{-1} : B \rightarrow A$

$$f^{-1}(x) = 1 + \sqrt{x+1}$$

b)  $f^{-1} : B \rightarrow A$

$$f^{-1}(x) = -1 + \sqrt{x-1}$$

c)  $f^{-1} : B \rightarrow A$

$$f^{-1}(x) = 2 - \sqrt{x+1}$$

d)  $f^{-1} : B \rightarrow A$

$$f^{-1}(x) = \frac{3 + \sqrt{4x+1}}{2}$$

e)  $f^{-1} : B \rightarrow A$

$$f^{-1}(x) = 2 + \sqrt{9-x}$$

f)  $f^{-1} : B \rightarrow A$

$$f^{-1}(x) = -1 - \sqrt{5-x}$$

g)  $f^{-1} : B \rightarrow A$

$$f^{-1}(x) = \frac{5 + \sqrt{8x+9}}{4}$$

504. a)

$$f^{-1}(x) = \begin{cases} \frac{x-3}{2} & \text{se } x \geq 7 \\ \frac{x-1}{3} & \text{se } x < 7 \end{cases}$$

b)

$$f^{-1}(x) = \begin{cases} \frac{5-x}{3} & \text{se } x \leq 8 \\ \frac{4-x}{4} & \text{se } x > 8 \end{cases}$$

c)

$$f^{-1}(x) = \begin{cases} \sqrt{x} & \text{se } x \geq 0 \\ \frac{x}{2} & \text{se } x < 0 \end{cases}$$

d)

$$f^{-1}(x) = \begin{cases} \sqrt[3]{x+2} & \text{se } x < -3 \\ \frac{x-1}{4} & \text{se } x \geq -3 \end{cases}$$

e)

$$f^{-1}(x) = \begin{cases} x^2+3 & \text{se } x \geq 0 \\ 3 - \sqrt[3]{x} & \text{se } x < 0 \end{cases}$$

f)

$$f^{-1}(x) = \begin{cases} 2 + \sqrt{x-3} & \text{se } x \geq 3 \\ \frac{x+1}{2} & \text{se } -3 < x < 3 \\ -1 - \sqrt{-x-3} & \text{se } x \leq -3 \end{cases}$$

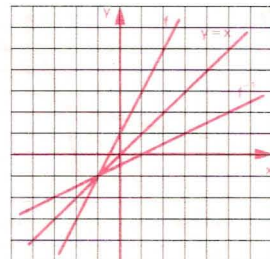
505. Não, pois  $f$  não é injetora, por exemplo:  
 $f(-2) = f(1) = 3$ , portanto  $f$  não é bijetora.

506.

$$f^{-1}(x) = \begin{cases} x-5 & \text{se } x \geq 7 \\ \frac{x+3}{5} & \text{se } -8 \leq x < 7 \\ \frac{x+5}{3} & \text{se } x < -8 \end{cases}$$

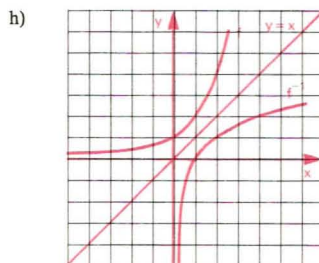
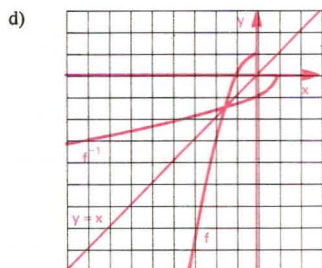
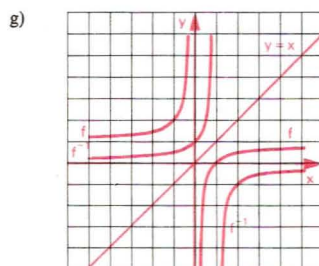
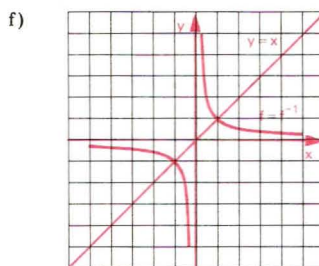
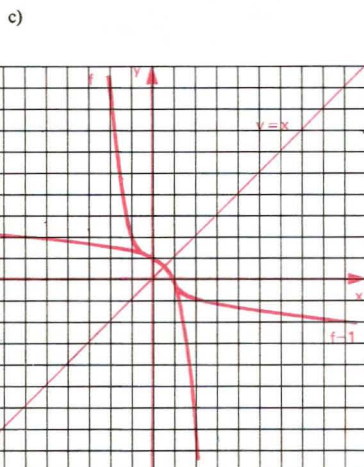
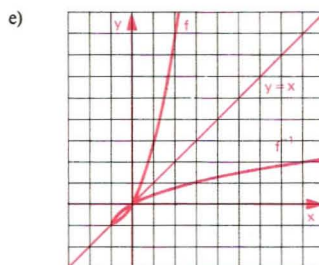
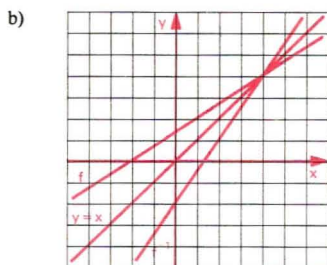
$$e \ f^{-1}(42) = 37$$

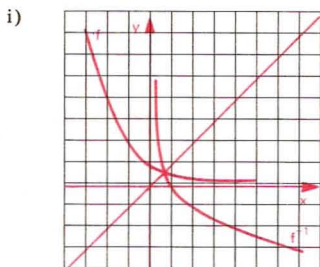
508. a)





RESPOSTAS DOS EXERCÍCIOS





510. a)  $(g \circ f)^{-1} : \mathbb{R} \rightarrow \mathbb{R}$

$$(g \circ f)^{-1}(x) = \frac{x+2}{12}$$

b)  $(g \circ f)^{-1} : \mathbb{R} \rightarrow \mathbb{R}$

$$(g \circ f)^{-1}(x) = 3\sqrt{\frac{x-3}{2}}$$

c)  $(g \circ f)^{-1} : \mathbb{C} \rightarrow \mathbb{R}$

$$(g \circ f)^{-1}(x) = \sqrt{4-x}$$

d)  $(g \circ f)^{-1} : \mathbb{R}_+ \rightarrow \mathbb{A}$

$$(g \circ f)^{-1}(x) = \frac{3 + \sqrt{x}}{2}$$

e)  $(g \circ f)^{-1} : \mathbb{C} \rightarrow \mathbb{A}$

$$(g \circ f)^{-1}(x) = \sqrt{x^2-3}$$

511. Não, pois  $g$  não é injetora, por exemplo:  $g(-1) = g(1) = 0$ ; portanto  $g \circ f$  não é bi-jetora.

512.  $[h \circ (g \circ f)]^{-1} : \mathbb{B} \rightarrow \mathbb{A}$

$$[h \circ (g \circ f)]^{-1}(x) = \frac{2 - \sqrt{x+1}}{4}$$

## Apêndice I

514. a)  $S = \{6\}$

b)  $S = \{-4\}$

c)  $S = \{1, 4\}$

d)  $S = \left\{ \frac{7 + \sqrt{33}}{4}, \frac{7 - \sqrt{33}}{4} \right\}$

e)  $S = \left\{ 0, \frac{7}{3} \right\}$

f)  $S = \{77\}$

g)  $S = \{13\}$

h)  $S = \{3\}$

i)  $S = \{3, 4\}$

j)  $S = \{4\}$

k)  $S = \{0\}$

l)  $S = \{1\}$

m)  $S = \emptyset$

n)  $S = \left\{ 0, \frac{1}{4} \right\}$

o)  $S = \left\{ \frac{5}{4} \right\}$

p)  $S = \{0, 2\}$

515.  $S = \{5\}$

516.  $x = 2$

517. c, d, f, g: *falsos*; a, b, e: *verdadeiros*

518.  $S = \emptyset$

520. a)  $S = \{4, 9\}$

b)  $S = \left\{ \frac{1}{9} \right\}$

c)  $S = \emptyset$

d)  $S = \{4 + 2\sqrt{3}\}$

e)  $S = \{1, \sqrt[3]{25}\}$

f)  $S = \{1\}$

g)  $S = \{16\}$

h)  $S = \{81\}$

i)  $S = \left\{ 1, \frac{1}{16} \right\}$

j)  $S = \left\{ 1, \frac{1}{16} \right\}$

522. a)  $S = \left\{ -2, \frac{1}{3} \right\}$

b)  $S = \{5, -1\}$

c)  $S = \left\{ 4, -3, \frac{1 + \sqrt{29}}{2}, \frac{1 - \sqrt{29}}{2} \right\}$

d)  $S = \emptyset$

e)  $S = \left\{ 3, -\frac{5}{5} \right\}$

523.  $S = \{0, 1, 4\}$

525. a)  $S = \{64\}$                       d)  $S = \{34\}$   
 b)  $S = \emptyset$                               e)  $S = \left\{\frac{177}{4}\right\}$   
 c)  $S = \left\{\frac{5}{4}\right\}$                               f)  $S = \{40\}$

526. a)  $S = \{0, 4\}$                       d)  $S = \{1, 17\}$   
 b)  $S = \{2\}$                               e)  $S = \{8\}$   
 c)  $S = \{2, 6\}$                           f)  $S = \emptyset$   
 g)  $S = \left\{\frac{4}{\sqrt{5}}, -\frac{4}{\sqrt{5}}\right\}$

527. a)  $S = \{6\}$                               d)  $S = \{3\}$   
 b)  $S = \left\{\frac{5}{11}\right\}$                               e)  $S = \{3a\}$   
 c)  $S = \{4\}$

529. a)  $S = \{3\}$                               c)  $S = \{2\}$   
 b)  $S = \{19\}$                               d)  $S = \{3\}$

530. a)  $S = \{3\}$                               d)  $S = \{4\}$   
 b)  $S = \left\{\frac{2}{3}\right\}$                               e)  $S = \{3\}$   
 c)  $S = \{3, 4\}$

532. a)  $S = \{1\}$                               c)  $S = \{2\}$   
 b)  $S = \left\{\frac{1}{4}\right\}$

533. a)  $S = \{1\}$                               c)  $S = \{0\}$   
 b)  $S = \left\{\frac{25}{9}\right\}$

534.  $\begin{cases} a \leq b \Rightarrow S = \{a\} \\ a > b \Rightarrow S = \{b\} \end{cases}$

535.  $S = \left\{\frac{3a}{4}\right\}$

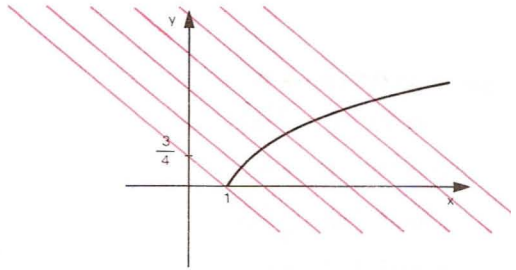
536.  $\begin{cases} a = b = 0 \Rightarrow S = \mathbb{R}. \\ a \geq b > 0 \Rightarrow S = \left\{\frac{(a-b)^2}{4b}\right\} \\ a < b \text{ ou } b = 0 \Rightarrow S = \emptyset \end{cases}$

537. a)  $b \geq 1 \Rightarrow S = \left\{\frac{2a\sqrt{b}}{b+1}\right\}$   
 b)  $a = b \Rightarrow S = \{x \in \mathbb{R}_+ \mid x \geq a\}$   
 $a \neq b \Rightarrow S = \{a+b\}$

c)  $b > a \Rightarrow S = \left\{\frac{2a^2b}{a^2+b^2}\right\}$

538.  $a < 0$  e  $|b| \geq |a| \rightarrow S = \left\{0, \frac{5a^2 - b^2}{4a}\right\}$

539.  $a \geq \frac{3}{4}$ ;  $x = \frac{(2a+1) - \sqrt{4a-3}}{2}$  porque a interseção se dá nos pontos de menor abscissa.



540. a)  $S = \{(9, 4), (4, 9)\}$   
 b)  $S = \{(10 + 4\sqrt{6}, 10 - 4\sqrt{6})\}$   
 c)  $S = \{(2, 8), (8, 2)\}$   
 d)  $S = \{(9, 4), (4, 9)\}$

541. a)  $S = \left\{(4, 2), \left(-\frac{9}{2}, \frac{41}{12}\right)\right\}$   
 b)  $\{(-4, 6)\}$

543. a)  $S = \{2\}$   
 b)  $S = \left\{\frac{7}{4}\right\}$   
 c)  $S = \{-16\}$   
 d)  $S = \{4, -3\}$   
 e)  $S = \left\{-\frac{2}{3}, 3\right\}$   
 f)  $S = \{4 + \sqrt{3}, 4 - \sqrt{3}\}$   
 g)  $S = \{0\}$   
 h)  $S = \left\{0, \frac{3 + \sqrt{3}}{4}, \frac{3 - \sqrt{3}}{4}\right\}$   
 i)  $S = \left\{0, \frac{1}{4}, \frac{3}{2}\right\}$   
 j)  $S = \left\{0, -3, \frac{1}{4}\right\}$

544.  $S = \emptyset$

546.  $S = \{-2, 7\}$

547.  $x^2 = 80$

548.  $S = \left\{1, \frac{3}{2}, 2\right\}$

549.  $S = \{1, 2, 10\}$

551. a)  $S = \{0\}$

b)  $S = \left\{\frac{\sqrt{5}}{2}, -\frac{\sqrt{5}}{2}\right\}$

c)  $S = \left\{\frac{4}{5}\right\}$

552.  $S = \{(8, 64), (64, 8)\}$

## Apêndice II

554. a)  $S = \left\{x \in \mathbb{R} \mid \frac{2}{3} \leq x < 2\right\}$

b)  $S = \left\{x \in \mathbb{R} \mid -\frac{5}{2} \leq x \leq 2\right\}$

c)  $S = \{x \in \mathbb{R} \mid -2 < x \leq -1 \text{ ou } 2 \leq x < 3\}$

d)  $S = \left\{x \in \mathbb{R} \mid -\frac{1}{3} \leq x \leq \frac{2}{3} \text{ ou } 1 \leq x \leq 2\right\}$

e)  $S = \emptyset$

555. a)  $S = \left\{x \in \mathbb{R} \mid 1 \leq x \leq \frac{4}{3}\right\}$

b)  $S = \{x \in \mathbb{R} \mid x > 4\}$

c)  $S = \{x \in \mathbb{R} \mid x > 8\}$

d)  $S = \{x \in \mathbb{R} \mid x \geq 1\}$

e)  $S = \left\{x \in \mathbb{R} \mid -1 \leq x < \frac{7 - \sqrt{17}}{2}\right\}$

f)  $S = \{x \in \mathbb{R} \mid 2 \leq x \leq 3\}$

g)  $S = \{x \in \mathbb{R} \mid x > 1\}$

h)  $S = \left\{x \in \mathbb{R} \mid -1 < x \leq -\frac{1}{2} \text{ ou } 3 \leq x < 12\right\}$

i)  $S = \left\{x \in \mathbb{R} \mid \frac{1 + \sqrt{13}}{6} \leq x \leq 1 \text{ ou } x \geq 2\right\}$

556.  $S = \left\{x \in \mathbb{R} \mid x < \frac{3 - \sqrt{41}}{16}\right\}$

558. a)  $S = \{x \in \mathbb{R} \mid x > 11\}$

b)  $S = \{x \in \mathbb{R} \mid x \geq -2\}$

c)  $S = \left\{x \in \mathbb{R} \mid x \geq \frac{3}{4}\right\}$

d)  $S = \left\{x \in \mathbb{R} \mid x < \frac{1}{4} \text{ ou } x > 3\right\}$

e)  $S = \{x \in \mathbb{R} \mid x \leq 1 - \sqrt{3} \text{ ou } x \geq 1 + \sqrt{3}\}$

f)  $S = \left\{x \in \mathbb{R} \mid -4 \leq x \leq \frac{1}{5}\right\}$

g)  $S = \emptyset$

559. a)  $S = \{x \in \mathbb{R} \mid 1 < x < 2\}$

b)  $S = \{x \in \mathbb{R} \mid x \leq 2\}$

c)  $S = \{x \in \mathbb{R} \mid x \geq 2 - \sqrt{6}\}$

d)  $S = \left\{x \in \mathbb{R} \mid x < -\frac{1}{2} \text{ ou } x > 2\right\}$

e)  $S = \{x \in \mathbb{R} \mid x \leq 1\}$

f)  $S = \left\{x \in \mathbb{R} \mid x \leq -2 - 2\sqrt{2} \text{ ou } -2 + 2\sqrt{2} \leq x \leq \frac{6 + 2\sqrt{3}}{3}\right\}$

g)  $S = \emptyset$

h)  $S = \mathbb{R}$

i)  $S = \{x \in \mathbb{R} \mid -1 \leq x \leq 2\}$

j)  $S = \left\{x \in \mathbb{R} \mid -\frac{1}{2} \leq x < 2\right\}$

561. a)  $S = \left\{x \in \mathbb{R} \mid -\frac{3}{5} \leq x < 0 \text{ ou } x > 3\right\}$

b)  $S = \{x \in \mathbb{R} \mid -6 \leq x < 0 \text{ ou } 3 < x \leq 4\}$

c)  $S = \{x \in \mathbb{R} \mid 0 < x \leq 2\}$

d)  $S = \left\{x \in \mathbb{R} \mid \frac{3}{2} \leq x \leq 2\right\}$

RESPOSTAS DOS EXERCÍCIOS

563. a)  $S = \left\{ x \in \mathbb{R} \mid x \geq \frac{3}{2} \right\}$

b)  $S = \left\{ x \in \mathbb{R} \mid -\frac{2}{3} < x \leq 5 \right\}$

c)  $S = \left\{ x \in \mathbb{R} \mid 3 \leq x \leq \frac{13 + \sqrt{201}}{4} \right\}$

d)  $S = \left\{ x \in \mathbb{R} \mid -2 \leq x \leq \frac{3}{2} \text{ ou } \right.$

$\left. \begin{array}{l} 3 \leq x \leq 4 \end{array} \right\}$

e)  $S = \{x \in \mathbb{R} \mid x < 2 - \sqrt{3} \text{ ou } x \geq 3 + \sqrt{2}\}$

f)  $S = \{x \in \mathbb{R} \mid 2 \leq x \leq 3\}$

g)  $S = \emptyset$

h)  $S = \mathbb{R}$

564. a)  $S = \left\{ x \in \mathbb{R} \mid \frac{-5 + \sqrt{13}}{2} < x \leq 1 \right\}$

b)  $S = \left\{ x \in \mathbb{R} \mid \frac{-3 - \sqrt{5}}{2} < x \leq 1 \right\}$

c)  $S = \{x \in \mathbb{R} \mid -1 \leq x \leq 1\}$

d)  $S = \{x \in \mathbb{R} \mid x > 1\}$

566. a)  $S = \{x \in \mathbb{R} \mid x > 11\}$

b)  $S = \{x \in \mathbb{R} \mid x \geq 4\}$

c)  $S = \left\{ x \in \mathbb{R} \mid -1 \leq x < 1 - \frac{\sqrt{31}}{8} \right\}$

d)  $S = \left\{ x \in \mathbb{R} \mid x \leq -2 \text{ ou } -1 \leq x < \frac{-1 + \sqrt{13}}{6} \right\}$

567.  $S = \left\{ x \in \mathbb{R} \mid \frac{5}{2} \leq x < 3 \right\}$

568.  $S = \left\{ x \in \mathbb{R} \mid \frac{-45}{4} < x < 1 \text{ ou } x \geq 9 \right\}$



# Testes de Vestibulares

## Noções de lógica

1. (U.F.GO-84) A negação de  $x \geq -2$  é:  
a)  $x \geq 2$       b)  $x \leq -2$       c)  $x < -2$       d)  $x < 2$       e)  $x \leq 2$
2. (FUVEST-80) Cada um dos cartões abaixo tem de um lado um número e do outro lado uma letra.



Alguém afirmou que todos os cartões que têm uma vogal numa face têm um número par na outra. Para verificar se tal afirmação é verdadeira:

- a) é necessário virar todos os cartões.  
b) é suficiente virar os dois primeiros cartões.  
c) é suficiente virar os dois últimos cartões.  
d) é suficiente virar os dois cartões do meio.  
e) é suficiente virar o primeiro e o último cartão.
3. (PUC-RS-82) Sejam  $p$  e  $q$  duas proposições. A negação de  $p \wedge q$  equivale a:
- a)  $\sim p \vee \sim q$       d)  $\sim p \wedge q$   
b)  $\sim p \wedge \sim q$       e)  $p \wedge \sim q$   
c)  $\sim p \vee q$
4. (PUC-SP-85) A negação da proposição  $x \in (A \cup B)$  é:
- a)  $x \notin (A \cap B)$       d)  $x \in A$  ou  $x \notin B$   
b)  $x \notin A$  ou  $x \in B$       e)  $x \notin A$  e  $x \notin B$   
c)  $x \notin A$  e  $x \in B$

5. (VUNESP-85) A negação de “para todo real  $x$  existe um real  $y$  tal que  $y < x$ ” é equivalente a:
- existe um real  $x$  tal que  $x \leq y$  para todo real  $y$ .
  - não existe um real  $x$  tal que  $x \leq y$  para todo real  $y$ .
  - existe um real  $x$  tal que  $y \leq x$  para todo real  $y$ .
  - não existe um real  $x$  tal que  $y \leq x$  para todo real  $y$ .
  - para todos reais  $x, y$ , com  $x < y$ , existe um real  $z$  com  $x < z < y$ .
6. (U.F.BA-81) A proposição  $\sim p \vee q \Rightarrow q \wedge r$  é verdadeira, se:
- $p$  e  $q$  são verdadeiras e  $r$ , falsa.
  - $p$  e  $q$  são falsas e  $r$ , verdadeira.
  - $p$  e  $r$  são falsas e  $q$ , verdadeira.
  - $p, q$  e  $r$  são verdadeiras.
  - $p, q$  e  $r$  são falsas.
7. (PUC-RS-80) A sentença  $(\exists x | x - a = b)$  é a negação de:
- $\exists x | x - a \neq b$
  - $\exists x | x - a > b$
  - $\exists x | x - a < b$
  - $\forall x, x - a = b$
  - $\forall x, x - a \neq b$
8. (U.F.RS-84) A negação da proposição “Para todo  $y$ , existe um  $x$  tal que  $y = \text{sen}(x)$ ” é:
- Para todo  $y$ , existe um  $x$  tal que  $y = \text{sen}(x)$ .
  - Para todo  $y$  e para todo  $x, y = \text{sen}(x)$ .
  - Existe um  $y$  e existe um  $x$  tal que  $y = \text{sen}(x)$ .
  - Existe um  $y$  tal que, para todo  $x, y = \text{sen}(x)$ .
  - Existe um  $y$  tal que, para todo  $x, y \neq \text{sen}(x)$ .
9. (U.F.RS-82) A negação da proposição  $(\forall x \in \mathbb{R}) (\exists y \in \mathbb{R}) [xy = 1]$  é:
- $(\exists x \in \mathbb{R}) (\forall y \in \mathbb{R}) [xy = 1]$
  - $(\forall x \in \mathbb{R}) (\exists y \in \mathbb{R}) [xy \neq 1]$
  - $(\exists x \in \mathbb{R}) (\forall y \in \mathbb{R}) [xy \neq 1]$
  - $(\forall x \in \mathbb{R}) (\forall y \in \mathbb{R}) [xy \neq 1]$
  - $(\exists x \in \mathbb{R}) (\exists y \in \mathbb{R}) [xy \neq 1]$

## Conjuntos

10. (CESGRANRIO-82) Sejam  $M, N$  e  $P$  conjuntos. Se  $M \cup N = \{1, 2, 3, 5\}$  e  $M \cup P = \{1, 3, 4\}$ , então  $M \cap N \cup P$  é:
- $\emptyset$
  - $\{1, 3\}$
  - $\{1, 3, 4\}$
  - $\{1, 2, 3, 5\}$
  - $\{1, 2, 3, 4, 5\}$
11. (U.MACK.-80) Dados os conjuntos  $A, B$  e  $C$ , não vazios, sabe-se que  $A \subset B$ ; então sempre se tem:
- $A \cap C = \emptyset$
  - $A \cap B = \emptyset$
  - $B \cap C = \emptyset$
  - $A \cap B \subset C$
  - $A \cap C \subset B$
12. (PUC-MG-92) Sendo  $A$  e  $B$  dois conjuntos quaisquer, assinale a alternativa verdadeira:
- $(A - B) \subset B$
  - $(A - B) \subset A \cup B$
  - $A \neq B \Rightarrow a \notin B$
  - $A \cup B = B \Rightarrow A = \emptyset$
  - $A \cap B = \emptyset \Rightarrow A \cup B = \emptyset$

13. (VUNESP-84) Suponhamos que:

$$A \cup B = \{a, b, c, d, e, f, g, h\}$$

$$A \cap B = \{d, e\}$$

$$A - B = \{a, b, c\}$$

Então:

a)  $B = \{f, g, h\}$

d)  $B = \{d, e\}$

b)  $B = \{d, e, f, g, h\}$

e)  $B = \emptyset$

c)  $B = \{a, b, c, d, e\}$

14. (U.F.RN-84) Se  $A, B$  e  $C$  são conjuntos tais que  $C - (A \cup B) = \{6, 7\}$  e  $C \cap (A \cup B) = \{4, 5\}$ , então  $C$  é igual a:

a)  $\{4, 5\}$

d)  $\{5, 6, 7\}$

b)  $\{6, 7\}$

e)  $\{4, 5, 6, 7\}$

c)  $\{4, 5, 6\}$

15. (U.F.VIÇOSA-90) Sejam  $A, B, C$  e  $D$  subconjuntos quaisquer do conjunto universo  $U$ , tais que  $(A \cap B) \cap (C - D) = \emptyset$ . Como consequência, pode-se afirmar obrigatoriamente que:

a)  $A \cap B = \emptyset$  e  $C - D = \emptyset$

d)  $B \cap C = \emptyset$

b)  $C - D = \emptyset$

e)  $A \cap B = \emptyset$

c)  $(A - D) \cap (C \cap B) = \emptyset$

16. (FGV-81) Dados os conjuntos  $A = \{a, b, c, d\}$ ,  $B = \{b, c, d, e\}$ ,  $C = \{a, c, f\}$ , então  $[(A - B) \cup (B - C) \cup (A \cap B)] \cap [(A \cap C) \cup (B \cap A \cap C)]$  é:

a)  $\{a, b, c, d, e\}$

d)  $\{a, b\}$

b)  $\{a, b, c, d\}$

e)  $\{b, c, d\}$

c)  $\{a, c\}$

17. (FATEC-89) Assinale a alternativa verdadeira. Se  $A$  e  $B$  são dois conjuntos, não vazios, e  $\emptyset$  é o conjunto vazio, então:

a)  $\{x \mid x \in A \text{ e } x \in B\} = A \cup B$

b)  $B \supset (A \cap B)$

c)  $A \cap \emptyset = \{\emptyset\}$

d)  $B - A = X$  implica  $C_B A = X$

e)  $A \subset A \cap B$

18. (CESGRANRIO-80) Sejam os conjuntos  $U = \{1, 2, 3, 4\}$  e  $A = \{1, 2\}$ . O conjunto  $B$  tal que  $B \cap A = \{1\}$  e  $B \cup A = U$  é:

a)  $\emptyset$

b)  $\{1\}$

c)  $\{1, 2\}$

d)  $\{1, 3, 4\}$

e)  $U$

19. (PUC-RS-82) Dados os conjuntos  $A = \{a, b, c\}$ ,  $B = \{a, d\}$  e  $C = \{a, b, d\}$ , o conjunto  $X$  tal que  $A \cup C = B \cup X$  e  $B \cap X = \emptyset$  é:

a)  $\{a\}$

b)  $\{b\}$

c)  $\{c\}$

d)  $\{a, b\}$

e)  $\{b, c\}$

20. (U.F.RS-84) O conjunto  $A$  é subconjunto de  $B$  e  $A \neq B$ .  $A \cup (B - A)$  é:

a)  $B$

b)  $A$

c)  $\emptyset$

d)  $A - B$

e)  $A \cap B$

21. (PUC-RS-80) Sejam  $A, B \subset U$ . Se  $x \in \overline{(A \cup B)}$ , então:

a)  $x \in A \cap B$

d)  $x \in A \cap \overline{B}$

b)  $x \in A \cup B$

e)  $x \in \overline{A} \cap \overline{B}$

c)  $x \in \overline{A} \cap \overline{B}$

22. (FGV-81) Simplificando a expressão abaixo

$$\overline{(\overline{X \cap Y}) \cup (\overline{X} \cap Y)}$$

teremos:

- a) universo                      b) vazio                      c)  $X \cap Y$                       d)  $\overline{X \cap Y}$                       e)  $X \cap \overline{Y}$
23. (ITA-88) Sejam  $A$ ,  $B$  e  $C$  subconjuntos do conjunto dos números reais. Então podemos afirmar que:
- a)  $(A \cap B)^C = A^C \cap B^C$   
 b)  $(A \cup B)^C = A^C \cup B^C$   
 c) Se  $A \subset B$  então  $A^C \subset B^C$   
 d)  $(A \cap B) \cup C^C = (A^C \cup C)^C \cap (B^C \cup C)^C$   
 e)  $A \cup (B \cup C)^C = (A \cup B^C) \cap (A \cup C^C)$

Nota:  $A^C$  significa o complementar de  $A$  no conjunto dos reais.

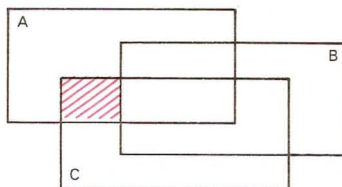
24. (ITA-89) Sejam  $A$ ,  $B$  e  $C$  subconjuntos de  $\mathbb{R}$ , não vazios, e  $A - B = \{p \in \mathbb{R}; p \in A \text{ e } p \notin B\}$ . Quais as igualdades:

1.  $(A - B) \times C = (A \times C) - (B \times C)$
2.  $(A - B) \times C = (A \times B) - (B \times C)$
3.  $(A \cap B) - A \neq (B \cap A) - B$
4.  $A - (B \cap C) = (A - B) \cup (A - C)$
5.  $(A - B) \cap (B - C) = (A - C) \cap (A - B)$

podemos garantir que:

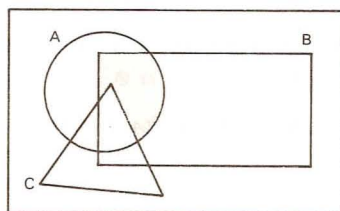
- a) 2 e 4 são verdadeiras.  
 b) 1 e 5 são verdadeiras.  
 c) 3 e 4 são verdadeiras.  
 d) 1 e 4 são verdadeiras.  
 e) 1 e 3 são verdadeiras.
25. (U.F.RN-83) A parte hachurada do gráfico abaixo corresponde a:

- a)  $(A \cap B) - B$   
 b)  $(A \cap C) - B$   
 c)  $(B \cap C) - A$   
 d)  $(A \cap C) - A$   
 e)  $(A \cap B) - C$



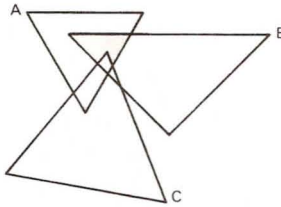
26. (F.SANTANA-83) Na figura abaixo, estão representados os conjuntos  $A$ ,  $B$  e  $C$  não vazios. A região sombreada representa o conjunto:

- a)  $(A \cap B) - C$   
 b)  $(A \cup B \cup C) - C$   
 c)  $(A - B) - C$   
 d)  $(B \cup C) \cap A$   
 e)  $A \cap B \cap C$



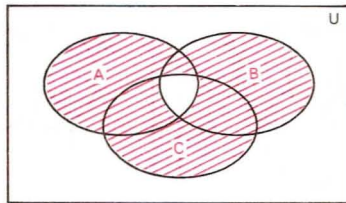
27. (U.E.BA-84) Na figura abaixo, estão representados os conjuntos não vazios  $A$ ,  $B$  e  $C$ . A região sombreada representa o conjunto:

- a)  $A \cap B \cap C$
- b)  $(A \cup B) - C$
- c)  $(A \cap B) - C$
- d)  $(B \cap C) - A$
- e)  $(A \cup C) - B$



28. (U.F.PA-84) A parte hachurada da figura abaixo, onde  $U$  é o conjunto universo, e  $A$ ,  $B$ ,  $C$  são conjuntos, representa:

- a)  $A \cup B \cup C$
- b)  $A \cap B \cap C$
- c)  $(A \cap B) \cup (A \cap C)$
- d)  $(A \cup B) \cap (A \cup C)$
- e)  $(A \cup B \cup C) - (A \cap B \cap C)$

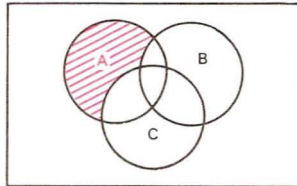


29. (EAESP-FGV-80) Considere as afirmações a respeito da parte hachurada do diagrama abaixo:

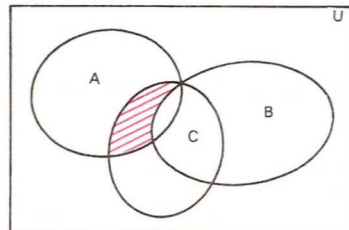
- I -  $A \cap (\overline{B \cup C})$
- II -  $A \cap (\overline{B \cap C})$
- III -  $A \cap (\overline{B \cup C})$
- IV -  $A \cap (\overline{B \cap C})$

A(s) afirmação(ões) correta(s) é (são):

- a) I
- b) III
- c) I e IV
- d) II e III
- e) II e IV



30. (U.F.PE-84) Considere o seguinte “diagrama de Venn” que representa graficamente os conjuntos  $A$ ,  $B$  e  $C$ , onde  $U$  representa o universo.

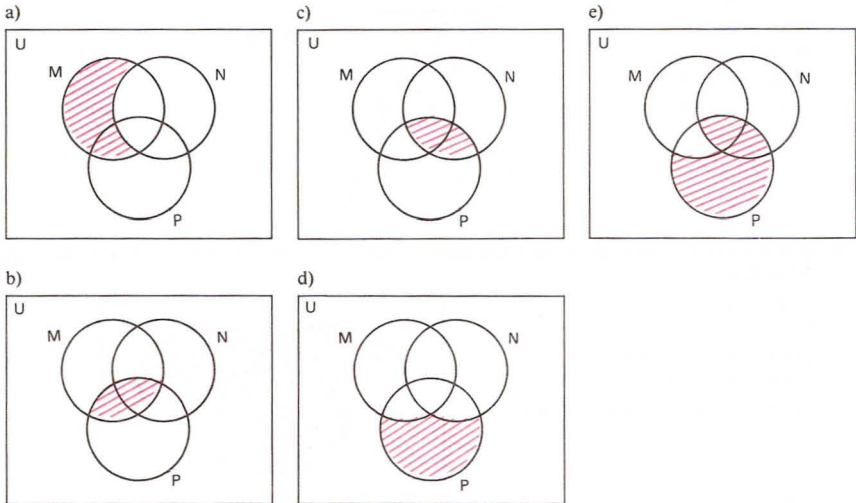


Assinale dentre as alternativas abaixo o conjunto que é representado pela área tracejada no diagrama, onde a barra ( $\overline{\phantom{x}}$ ) representa o complementar do conjunto em relação a  $U$ .

- a)  $A \cap B \cap C$
- b)  $A \cap B \cap \overline{C}$
- c)  $A \cup B \cup C$
- d)  $A \cap \overline{B} \cap C$
- e)  $\overline{A} \cup B \cup C$

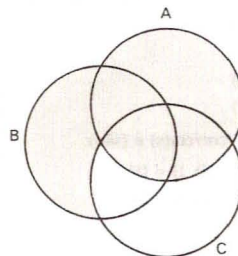


31. (U.F.BA-81) A representação do complementar de  $(M - N) \cap P$ , em relação a  $P$ , está indicada pela região hachurada de:



32. (U.F.BA-91) Na figura ao lado, a parte sombreada representa as operações:

- a)  $[(A \cup B \cup C) - C] \cup (A \cap C)$
- b)  $(A \cup B) - C$
- c)  $A \cup (B - C)$
- d)  $(B - C) \cup (A - C) \cup (A \cap C)$
- e)  $(A - C) \cup B$



33. (VUNESP-88) Se  $A = \{x \in \mathbb{N} \mid x = 4n, \text{ com } n \in \mathbb{N}\}$  e

$$B = \{x \in \mathbb{N}^* \mid \frac{20}{x} = n, \text{ com } n \in \mathbb{N}\}$$

então o número de elementos de  $A \cap B$  é:

- a) 3
  - b) 2
  - c) 1
  - d) 0
  - e) impossível de determinar
34. (U.F.MG-89) Os conjuntos  $A$ ,  $B$  e  $A \cup B$  têm, respectivamente, 10, 9 e 15 elementos. O número de elementos de  $A \cap B$  é:
- a) 2
  - b) 3
  - c) 4
  - d) 6
  - e) 8
35. (FATEC-88) Seja  $n$  um número natural. Se  $A = \{x \in \mathbb{N} \mid x = 2n\}$  e  $B = \{x \in \mathbb{N} \mid x = 2n + 1\}$ , então:
- a)  $B - A = \{1\}$
  - b)  $A \cup B = \mathbb{N}$
  - c)  $A \cup B = [0, 10]$
  - d)  $A \cap B = A$
  - e)  $A \cap B = \{x \in \mathbb{N} \mid x \text{ é par}\}$

36. (U.F.MG-87) Sejam os conjuntos  $A = \{x \in \mathbb{Z} : x = 6n + 3, n \in \mathbb{Z}\}$  e  $B = \{x \in \mathbb{Z} : x = 3n, n \in \mathbb{Z}\}$ . então,  $A \cap B$  é igual a:
- $\{x \in \mathbb{Z} : x \text{ é ímpar e múltiplo de } 3\}$
  - $\{x \in \mathbb{Z} : x \text{ é par e múltiplo de } 3\}$
  - $\{x \in \mathbb{Z} : x \text{ é múltiplo de } 3\}$
  - $\{x \in \mathbb{Z} : x \text{ é múltiplo de } 9\}$
  - $\{x \in \mathbb{Z} : x \text{ é ímpar}\}$
37. (U.F.RN-83) Se  $A, B$  e  $C$  são conjuntos tais que  $n(A - (B \cup C)) = 15$ ,  $n(B - A(A \cup C)) = 20$ ,  $n(C - (A \cup B)) = 35$  e  $n(A \cup B \cup C) = 120$ , então  $n((A \cap B) \cup (A \cap C) \cup (B \cap C))$  é igual a:
- 40
  - 50
  - 60
  - 70
  - 80
38. (U.F.RS-83) O número de elementos do conjunto  $P(A) \cup P(B)$ , com  $A$  e  $B$  disjuntos e com dois elementos cada um, é:
- 2
  - 4
  - 5
  - 7
  - 8
39. (U.F.VIÇOSA-89) Um conjunto  $A$  tem 8 elementos distintos. O número de subconjuntos de  $A$ , com 5 elementos diferentes cada, é:
- 52
  - 54
  - 58
  - 56
  - 60
40. (U.F.PE-83) Seja  $S = \{S_1, S_2, S_3\}$  o conjunto de sintomas de uma determinada moléstia. Em geral, um portador desta moléstia apresenta apenas um subconjunto não vazio de  $S$ . Assinale a única alternativa correspondente ao número de subconjuntos de  $S$  que poderão apresentar os pacientes portadores desta moléstia.
- 7
  - 8
  - 16
  - 15
  - 14
41. (U.F.PE-84) Considere os seguintes conjuntos:  
 $A = \{1, 2, \{1, 2\}\}$      $B = \{\{1\}, 2\}$     e     $C = \{1, \{1\}, \{2\}\}$   
 Assinale abaixo a alternativa falsa:
- $A \cap B = \{2\}$
  - $B \cap C = \{\{1\}\}$
  - $B - C = A \cap B$
  - $B \subset A$
  - $A \cap \mathcal{P}(A) = \{\{1, 2\}\}$ , onde  $\mathcal{P}(A)$  é o conjunto dos subconjuntos de  $A$
42. (CESESP-82) Considere as afirmações abaixo, onde  $\mathcal{P}(X)$  é o conjunto das partes de um conjunto  $X$ .
- Existe  $A \in \mathcal{P}(X)$  tal que  $B \cap A = B$  qualquer que seja  $B \in \mathcal{P}(X)$ .
  - Qualquer que seja  $A \in \mathcal{P}(X)$ , existe  $B \in \mathcal{P}(X)$  tal que  $A \cap B = \emptyset$ .
  - Quaisquer que sejam  $A$  e  $B$  em  $\mathcal{P}(X)$ , tem-se  $A \cap B = \emptyset$ .
  - Existe  $A \in \mathcal{P}(X)$  tal que  $B \cup A = B$ , qualquer que seja  $B \in \mathcal{P}(X)$ .
- Assinale, então, a alternativa correta:
- apenas I é verdadeira.
  - apenas IV é verdadeira.
  - I, II e III são verdadeiras.
  - II e IV são falsas.
  - apenas III é falsa.
43. (CESESP-82) Numa Universidade são lidos apenas dois jornais  $X$  e  $Y$ . 80% dos alunos da mesma lêem o jornal  $X$  e 60% o jornal  $Y$ . Sabendo-se que todo aluno é leitor de pelo menos um dos dois jornais, assinale a alternativa que corresponde ao percentual de alunos que lêem ambos.
- 80%
  - 14%
  - 40%
  - 60%
  - 48%

44. (EAESP-FGV-80) Numa pesquisa de mercado, foram entrevistadas várias pessoas acerca de suas preferências em relação a 3 produtos:  $A$ ,  $B$  e  $C$ . Os resultados da pesquisa indicaram que:
- 210 pessoas compram o produto  $A$ .
  - 210 pessoas compram o produto  $B$ .
  - 250 pessoas compram o produto  $C$ .
  - 20 pessoas compram os 3 produtos.
  - 100 pessoas não compram nenhum dos 3 produtos.
  - 60 pessoas compram os produtos  $A$  e  $B$ .
  - 70 pessoas compram os produtos  $A$  e  $C$ .
  - 50 pessoas compram os produtos  $B$  e  $C$ .
- Quantas pessoas foram entrevistadas?
- a) 670                      b) 970                      c) 870                      d) 610                      e) 510
45. (EAESP-FGV-80) No problema anterior, calcular quantas pessoas compram apenas o produto  $A$ ; apenas o produto  $B$ ; apenas o produto  $C$ .
- a) 210; 210; 250    d) 120; 140; 170  
 b) 150; 150; 180    e) n.d.a.  
 c) 100; 120; 150
46. (FGV-81) Numa Universidade com  $N$  alunos, 80 estudam Física, 90 Biologia, 55 Química, 32 Biologia e Física, 23 Química e Física, 16 Biologia e Química e 8 estudam nas três faculdades. Sabendo-se que esta Universidade somente mantém as três faculdades, quantos alunos estão matriculados na Universidade?
- a) 304                      b) 162                      c) 146                      d) 154                      e) n.d.a.
47. (PUC-SP-82) Em um exame vestibular, 30% dos candidatos eram da área de Humanas. Dentre esses candidatos, 20% optaram pelo curso de Direito. Do total dos candidatos, qual a porcentagem dos que optaram por Direito?
- a) 50%                      b) 20%                      c) 10%                      d) 6%                      e) 5%
48. (PUC-SP-83) Dentre os inscritos em um concurso público, 60% são homens e 40% são mulheres. Já têm emprego 80% dos homens e 30% das mulheres. Qual a porcentagem dos candidatos que já têm emprego?
- a) 60%                      b) 40%                      c) 30%                      d) 24%                      e) 12%

## Conjuntos numéricos

49. (PUC-CAMP-80) No conjunto  $\mathbb{N}$  dos números naturais, seja  $M(a)$  o conjunto dos múltiplos de  $a$ . Então podemos afirmar que:
- a)  $(M(6) \cap M(3)) \cap M(4) = M(12)$     d)  $(M(3) \cap M(4)) \cap M(6) = M(6)$   
 b)  $M(4) \cap M(8) = M(4)$     e) n.d.a.  
 c)  $(M(2) \cap M(4)) \cap M(8) = M(4)$
50. (V.UNIF.RS-80) Dados os conjuntos  $M_a = \{n \cdot a \mid n \in \mathbb{N}\}$  e  $M_b = \{n \cdot b \mid n \in \mathbb{N}\}$ , com  $a$  e  $b$  naturais não nulos, então  $M_a$  é subconjunto de  $M_b$  sempre que:
- a)  $a$  for menor do que  $b$ .    d)  $b$  for divisor de  $a$ .  
 b)  $b$  for menor do que  $a$ .    e)  $a$  e  $b$  forem pares.  
 c)  $a$  for divisor de  $b$ .
51. (U.E.LONDRINA-84) Seja  $n(E)$  o número de elementos de um conjunto  $E$ . Se  $A$  é o conjunto dos divisores naturais de 18 e  $B$  é o conjunto dos divisores naturais de 48, então  $n(A \cup B)$  é um número:
- a) quadrado perfeito.    c) maior que 10.    e) cubo perfeito.  
 b) múltiplo de 5.    d) menor que 6.


52. (CESGRANRIO-80) O mínimo múltiplo comum entre os números  $2^m$ , 3 e 5 é 240. O expoente  $m$  é:
- a) 2                      b) 3                      c) 4                      d) 5                      e) 15
53. (U.F.MG-92) Considere-se o conjunto  $M$  de todos os números inteiros formados por exatamente três algarismos iguais. Pode-se afirmar que todo  $n \in M$  é múltiplo de:
- a) 5                      b) 7                      c) 13                      d) 17                      e) 37
54. (FUVEST-91) No alto de uma torre de uma emissora de televisão duas luzes "piscam" com frequências diferentes. A primeira "pisca" 15 vezes por minuto e a segunda "pisca" 10 vezes por minuto. Se num certo instante as luzes piscam simultaneamente, após quantos segundos elas voltarão a piscar simultaneamente?
- a) 12                      b) 10                      c) 20                      d) 15                      e) 30
55. (U.F.MG-92) Sejam  $a, b, c$  números primos distintos, em que  $a > b$ . O máximo divisor comum e o mínimo múltiplo comum de  $m = a^2 b c^2$  e  $n = ab^2$  são, respectivamente, 21 e 1764. Pode-se afirmar que  $a + b + c$  é:
- a) 9                      b) 10                      c) 12                      d) 42                      e) 62
56. (U.F.MG-92) Todas as afirmativas sobre números inteiros estão corretas, *exceto*:
- a) Nem todo número primo é ímpar.  
 b) Todo inteiro par pode ser escrito na forma  $n^2 + 2$ ,  $n \in \mathbb{Z}$ .  
 c) A soma de dois inteiros ímpares é sempre um inteiro par.  
 d) Todo inteiro ímpar pode ser escrito na forma  $2n - 9$ ,  $n \in \mathbb{Z}$ .  
 e) Se  $n$  é um inteiro ímpar, então  $n^2$  também é ímpar.
57. (PUC-CAMP-80) A um aluno foram propostas as questões:
- A — Numa divisão, cujo resto não é nulo, o menor número que se deve adicionar ao dividendo para que ela se torne exata é:  $(d - r)$  (sendo  $d$  o divisor e  $r$  o resto).  
 B — A soma de três números naturais consecutivos é sempre divisível por 3.  
 C — O produto de dois números ímpares consecutivos, aumentado de uma unidade, é sempre um quadrado perfeito.
- O aluno respondeu que as três questões propostas são verdadeiras. Responda você:
- a) O aluno acertou somente em relação à terceira questão.  
 b) O aluno acertou somente em relação à primeira questão.  
 c) Acertou integralmente.  
 d) O aluno acertou somente em relação à segunda questão.  
 e) N.d.a.
58. (U.F.RN-84) Se  $A = \{4, 9, 16, 25, 36\}$ , então  $A$  é equivalente a:
- a)  $\{x^2; x \in \mathbb{Z}^*\}$   
 b)  $\{x^2; x \in \mathbb{N}\}$   
 c)  $\{x^2; x \in \mathbb{N} \text{ e } 1 < x < 7\}$   
 d)  $\{x^2; x \in \mathbb{N} \text{ e } 2 < x < 6\}$   
 e)  $\{x; x \text{ é quadrado perfeito}\}$
59. (U.F.MG-92) O valor de  $m = \frac{\sqrt{(-2)^2} \cdot (0,33... - 1)}{2^{-1}}$  é:
- a)  $-\frac{8}{3}$                       b)  $-\frac{4}{3}$                       c)  $-\frac{2}{3}$                       d)  $\frac{5}{2}$                       e)  $\frac{8}{3}$

60. (FUVEST-91) Os números inteiros positivos são dispostos em “quadrados” da seguinte maneira:

1	2	3	10	11	12	19	..	..
4	5	6	13	14	15	..	..	..
7	8	9	16	17	18	..	..	..

O número 500 se encontra em um desses “quadrados”. A “linha” e a “coluna” em que o número 500 se encontra são, respectivamente:

- a) 2 e 2                      b) 3 e 3                      c) 2 e 3                      d) 3 e 2                      e) 3 e 1
61. (PUC-SP-80) Um enxadrista quer decorar uma parede retangular, dividindo-a em quadrados, como se fosse um tabuleiro de xadrez. A parede mede 4,40 m por 2,75 m. Qual o menor número de quadrados que ele pode colocar na parede?



- a) 40  
b) 55  
c) 30  
d) 88  
e) 16
62. (PUC-SP-81) A dízima periódica 0,4999... é igual a:
- a)  $\frac{49}{99}$                       b)  $\frac{5}{11}$                       c)  $\frac{1}{2}$                       d)  $\frac{49}{90}$                       e)  $\frac{4}{9}$

63. (PUC-SP-82) Sabe-se que o produto de dois números irracionais pode ser um número racional. Um exemplo é:
- a)  $\sqrt{12} \cdot \sqrt{3} = \sqrt{36}$                       d)  $\sqrt{2} \cdot 2 = \sqrt{8}$   
b)  $\sqrt{4} \cdot \sqrt{9} = 6$                       e)  $\sqrt{2} \cdot \sqrt{3} = \sqrt{6}$   
c)  $\sqrt{3} \cdot 1 = \sqrt{3}$

64. (FGV-83) Sejam  $a$ ,  $b$  e  $c$  números reais quaisquer. Assinale a afirmação verdadeira:
- a)  $a > b \Leftrightarrow a^2 > b^2$                       d)  $\frac{c}{a+b} = \frac{c}{a} + \frac{c}{b}$   
b)  $a > b \Leftrightarrow ac > bc$                       e)  $a^2 = b^2 \Leftrightarrow a = b$   
c)  $\sqrt{a^2 + b^2} \geq a$

65. (U.E.BA-81) Se  $A = \{x \in \mathbb{R} \mid -1 < x < 2\}$  e  $B = \{x \in \mathbb{R} \mid 0 \leq x < 3\}$ , o conjunto  $A \cap B$  é o intervalo:
- a)  $[0; 2[$                       b)  $]0; 2[$                       c)  $[-1; 3]$                       d)  $] -1; 3[$                       e)  $] -1; 3]$

66. (PUC-MG-92) A diferença  $A - B$ , sendo  $A = \{x \in \mathbb{R} \mid -4 \leq x \leq 3\}$  e  $B = \{x \in \mathbb{R} \mid -2 \leq x < 5\}$  é igual a:
- a)  $\{x \in \mathbb{R} \mid -4 \leq x < -2\}$                       d)  $\{x \in \mathbb{R} \mid 3 \leq x \leq 5\}$   
b)  $\{x \in \mathbb{R} \mid -4 \leq x \leq -2\}$                       e)  $\{x \in \mathbb{R} \mid -2 \leq x < 5\}$   
c)  $\{x \in \mathbb{R} \mid 3 < x < 5\}$

67. (FUVEST-91) Na figura estão representados geometricamente os números reais 0,  $x$ ,  $y$  e 1. Qual a posição do número  $xy$ ?



- a) À esquerda de 0.                      c) Entre  $x$  e  $y$ .                      e) À direita de 1.  
b) Entre 0 e  $x$ .                      d) Entre  $y$  e 1.



68. (FUVEST-92) Se  $-4 < x < -1$  e  $1 < y < 2$ , então  $xy$  e  $\frac{2}{x}$  estão no intervalo:

a)  $|-8, -1|$

d)  $|-8, \frac{-1}{2}|$

b)  $|-2, \frac{-1}{2}|$

e)  $|-1, \frac{-1}{2}|$

c)  $|-2, -1|$

69. (U.F.PA-84) Sendo  $\mathbb{N}$ ,  $\mathbb{Z}$ ,  $\mathbb{Q}$ ,  $\mathbb{R}$ ,  $\mathbb{C}$  os conjuntos numéricos usuais, assinale a afirmação verdadeira:

a)  $\mathbb{N} \supset \mathbb{Z}$

b)  $-\sqrt{2} \in \mathbb{Q}$

c)  $\mathbb{Z} \in \mathbb{R}$

d)  $0 \in \mathbb{C}$

e)  $\mathbb{Q} \supset \mathbb{Z}$

70. (EAESP-FGV-80) Assinalando  $V$  ou  $F$  se as sentenças abaixo são verdadeiras ou falsas

$\mathbb{N} \supset \mathbb{Q}$

$\mathbb{Q} \cap \mathbb{R} = \mathbb{Q}$

$\mathbb{N} \cup \mathbb{Z} = \mathbb{N}$

$\mathbb{Q} \cap \mathbb{R} \supset \mathbb{Q}$

obtemos:

a) FVFF

b) VVVV

c) FVVF

d) FVVV

e) VVVF

71. (COVEST-90) Assinale a afirmação verdadeira entre as seguintes:

a) No conjunto dos números inteiros relativos, existe um elemento que é menor do que todos os outros.

b) O número real  $\sqrt{2}$  pode ser representado sob a forma  $\frac{p}{q}$ , onde  $p$  e  $q$  são inteiros,  $q \neq 0$ .

c) O número real representado por  $0,37222\dots$  é um número racional.

d) Toda raiz de uma equação algébrica do 2º grau é um número real.

e) O quadrado de qualquer número real é um número racional.

72. (FUVEST-87) Qual o conjunto dos valores assumidos pela expressão:

$$\frac{a}{|a|} + \frac{b}{|b|} + \frac{c}{|c|} + \frac{abc}{|abc|}$$

quando  $a$ ,  $b$ ,  $c$  variam no conjunto de todos os números reais não nulos?

a)  $\{-4, -3, -2, -1, 0, 1, 2, 3, 4\}$

b)  $\{-4, -2, 0, 2, 4\}$

c)  $\{-4, 0, 4\}$

d)  $\{4\}$

e)  $\mathbb{R}$

73. (ITA-85) Sejam  $X$  um conjunto não vazio;  $A$  e  $B$  dois subconjuntos de  $X$ . Definimos  $A^C = \{x \in X \text{ tal que } x \notin A\}$ ;  $A - B = \{x \in A \text{ tal que } x \notin B\}$ .

Dadas as sentenças:

1 -  $A \cap B = \emptyset \Leftrightarrow A \subset B^C \Leftrightarrow B \subset A^C$ , onde " $\Leftrightarrow$ " significa "equivalente" e  $\emptyset$  o conjunto vazio;

2 - Se  $X = \mathbb{R}$ ;  $A = \{x \in \mathbb{R} \text{ tal que } x^3 - 1 = 0\}$ ;  $B = \{x \in \mathbb{R} \text{ tal que } x^2 - 1 = 0\}$  e  $C = \{x \in \mathbb{R} \text{ tal que } x - 1 = 0\}$ , então  $A = C = B$ ;

3 -  $A - \emptyset = A$  e  $A - B = A - (A \cap B)$ ;

4 -  $A - B \neq A \cap B^C$ ;

podemos afirmar que está (estão) correta(s):

a) as sentenças nº 1 e nº 3.

d) as sentenças nº 2, nº 3 e nº 4.

b) as sentenças nº 1, nº 2 e nº 4.

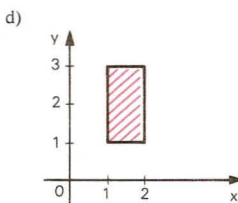
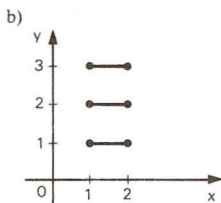
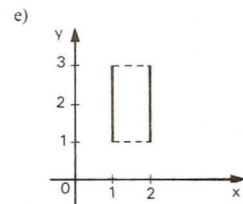
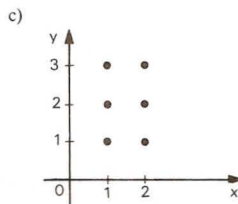
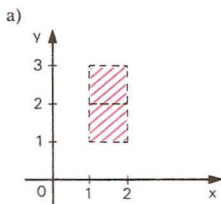
e) apenas a sentença nº 2.

c) as sentenças nº 3 e nº 4.

74. (PUC-SP-80) Supondo que uma certa propriedade  $P$  é verdadeira para o número  $n \in \mathbb{N}$ , consegue-se provar que ela é verdadeira para o número  $3n$ . Se  $P$  é verdadeira para  $n = 2$ , então pode-se garantir que ela é verdadeira para  $n$  igual a:
- a) 216                      b) 162                      c) 512                      d) 261                      e) 270

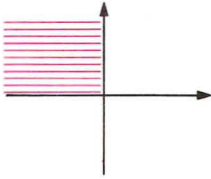
## Relações

75. (U.E.LONDRINA-84) Em  $\mathbb{R} \times \mathbb{R}$ , sejam  $(2m + n; m - 4)$  e  $(m + 1; 2n)$  dois pares ordenados iguais. Então  $m^n$  é igual a:
- a) -2                      b) 0                      c)  $\frac{1}{2}$                       d) 1                      e)  $\sqrt{2}$
76. (U.F.MG-90) Sejam  $P = (a, b)$  e  $Q = (c, -2)$  dois pontos no plano cartesiano tais que  $ac < 0$ ,  $b < 0$  e  $c > 0$ . Pode-se afirmar que:
- a)  $P$  é um ponto do 1º quadrante.                      d)  $P$  é um ponto do 4º quadrante.  
 b)  $P$  é um ponto do 2º quadrante.                      e)  $P$  pode estar no 1º ou 4º quadrante.  
 c)  $P$  é um ponto do 3º quadrante.
77. (U.F.UBERLÂNDIA-82) Dados os conjuntos  $A = \{0, -1, 1\}$ ,  $B = \{1, 3, 4\}$  e  $C = \{0, 1\}$ , temos  $(A - B) \times (C - B)$  igual a:
- a)  $\{(0, 0); (0, -1)\}$                       c)  $\{(0, 0); (0, 1)\}$                       e)  $\emptyset$  (vazio)  
 b)  $\{(-1, 0); (0, 0)\}$                       d)  $\{(0, 1), (0, -1)\}$
78. (U.F.RN-83) Se  $n(A) = 3$  e  $n(B) = 2$ , então  $(n(A \times B))^{n(A \cap B)}$  é no máximo igual a:
- a) 1                      b) 6                      c) 12                      d) 18                      e) 36
79. (U.E.LONDRINA-83) Sejam os conjuntos  $A$  e  $B$  tais que  $A \times B = \{(-1; 0), (2; 0), (-1; 2), (2; 2), (-1; 3), (2; 2)\}$ . O número de elementos do conjunto  $A \cap B$  é:
- a) 0                      b) 1                      c) 2                      d) 3                      e) 4
80. (U.F.PE-85) Assinale a única alternativa abaixo que representa o gráfico do conjunto  $B \times A$  onde  $A = \{1, 2, 3\}$  e  $B = \{x \in \mathbb{R} : 1 \leq x \leq 2\}$ .




81. (U.F.BA-81) Sendo  $F = \mathbb{R} \times \mathbb{Z}$  e  $G = \mathbb{R}^* \times \mathbb{N}^*$ , a representação gráfica de  $F - G$  é:

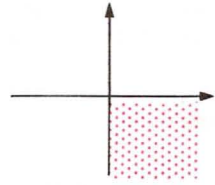
a)



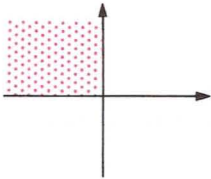
c)




e)



b)



d)



82. (U.F.PA-84) Dados os conjuntos  $A = \{a, b, c\}$  e  $B = \{a, b\}$ , qual dos conjuntos abaixo é uma relação de  $A$  em  $B$ ?

- a)  $\{(a, b), (b, b), (c, c)\}$
- b)  $\{(a, a), (b, b), (b, c)\}$
- c)  $\{(a, a), (b, b), (a, c)\}$

- d)  $\{(a, a), (b, b), (a, b)\}$
- e)  $\{(c, b), (b, c)\}$

83. (UNICAP-86) Dada a relação binária em  $\mathbb{N}$  (conjunto dos números naturais)  $\mathbb{R} = \{(x, y) \in \mathbb{N} \times \mathbb{N} \mid x + y = 10\}$  assinala, entre as alternativas abaixo, a única correta.

- a)  $\mathbb{R}$  é reflexiva
- b)  $\mathbb{R}$  é simétrica
- c)  $\mathbb{R}$  é anti-simétrica

- d)  $\mathbb{R}$  é transitiva
- e)  $\left(\frac{5}{3}, \frac{25}{3}\right) \in \mathbb{R}$

84. (U.E.CE-91) Se  $P = \{1, 2, 5, 7, 8\}$ , então o número de elementos do conjunto  $W = \{(x, y) \in P^2; x < y\}$  é:

- a) 8
- b) 9
- c) 10
- d) 11

85. (F.SANTANA-83) Seja a relação  $R$ , de  $A$  em  $A$ , definida por  $(x; y) \in \mathbb{R} \Leftrightarrow$

$$\Rightarrow \begin{cases} y = \sqrt{x}, & \text{se } x \text{ é par} \\ y = x + 1, & \text{se } x \text{ é ímpar} \end{cases}$$

. Se  $A = \{0, 1, 2, 3, 4, 5, 6, 7, 8, 9\}$ , o número de pontos do gráfico cartesiano de  $\mathbb{R}$  é:

- a) 5
- b) 6
- c) 8
- d) 9
- e) 10

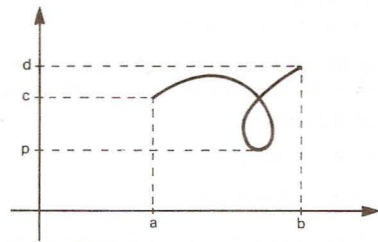
86. (PUC-RS-81) Seja  $\mathbb{R}$  a relação de  $A = \{x \in \mathbb{Z} \mid -3 < x \leq 5\}$  em  $B = \{x \in \mathbb{Z} \mid -2 \leq x < 4\}$ , definida por  $x^2 = (y - 1)^2$  com  $x \in A$  e  $y \in B$ . O conjunto imagem de  $\mathbb{R}$  é:

- a)  $\{x \in \mathbb{Z} \mid -2 < x < 4\}$
- b)  $\{x \in \mathbb{Z} \mid -2 \leq x < 4\}$
- c)  $\{x \in \mathbb{Z} \mid -2 \leq x \leq 4\}$
- d)  $\{x \in \mathbb{Z} \mid -3 < x < 5\}$
- e)  $\{x \in \mathbb{Z} \mid -3 < x \leq 5\}$

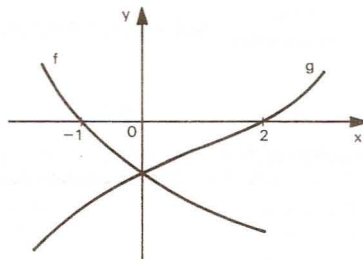
87. (U.F.UBERLÂNDIA-82) Considerando a relação  $R = \{(a, b) \in \mathbb{N} \times \mathbb{N} : a + 2b = 6\}$ , então o domínio e a imagem de  $R^{-1}$  são, respectivamente:
- a)  $\mathbb{N}$  e  $\mathbb{N}$  d)  $\{0, 2, 4, 6\}$  e  $\{0, 1, 2, 3\}$   
 b)  $\{0, 1, 2\}$  e  $\{2, 4, 6\}$  e)  $\{0, 1, 2, 3\}$  e  $\{0, 1, 2, 3\}$   
 c)  $\{0, 1, 2, 3\}$  e  $\{0, 2, 4, 6\}$

## Funções

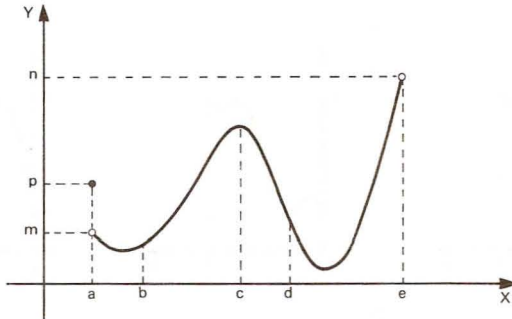
88. (U.F.PE-85) Dados os conjuntos  $A = \{a, b, c, d\}$  e  $B = \{1, 2, 3, 4, 5\}$ , assinale a única alternativa que define uma função de  $A$  em  $B$ .
- a)  $\{(a, 1), (b, 3), (c, 2)\}$   
 b)  $\{(a, 3), (b, 1), (c, 5), (a, 1)\}$   
 c)  $\{(a, 1), (b, 1), (c, 1), (d, 1)\}$   
 d)  $\{(a, 1), (a, 2), (a, 3), (a, 4), (a, 5)\}$   
 e)  $\{(1, a), (2, b), (3, c), (4, d), (5, a)\}$
89. (U.F.PA-84) Sejam os conjuntos  $A = \{1, 2\}$  e  $B = \{0, 1, 2\}$ . Qual das afirmativas abaixo é verdadeira?
- a)  $f : x \rightarrow 2x$  é uma função de  $A$  em  $B$ .  
 b)  $f : x \rightarrow x + 1$  é uma função de  $A$  em  $B$ .  
 c)  $f : x \rightarrow x^2 - 3x + 2$  é uma função de  $A$  em  $B$ .  
 d)  $f : x \rightarrow x^2 - x$  é uma função de  $B$  em  $A$ .  
 e)  $f : x \rightarrow x - 1$  é uma função de  $B$  em  $A$ .
90. (U.FORTALEZA-81) O gráfico ao lado:
- a) representa uma função  $f : [a; b] \rightarrow \mathbb{R}$ .  
 b) não representa uma função de  $[a; b]$  em  $\mathbb{R}$  porque existe  $y \in \mathbb{R}$  que não é imagem de qualquer  $x \in [a; b]$ .  
 c) não representa uma função de  $[a; b]$  em  $\mathbb{R}$  porque existe elemento  $x \in [a; b]$  com mais de uma imagem.  
 d) representa uma função  $f : [a; b] \rightarrow [p; d]$ .



91. (U.F.MG-82) Na figura estão esboçados os gráficos de duas funções  $f$  e  $g$ . O conjunto  $\{x \in \mathbb{R}; f(x) g(x) < 0\}$  é dado por:
- a)  $x > 0$  ou  $x < -1$   
 b)  $-1 < x < 0$   
 c)  $0 < x < 2$   
 d)  $-1 < x < 2$   
 e)  $x < -1$  ou  $x > 2$

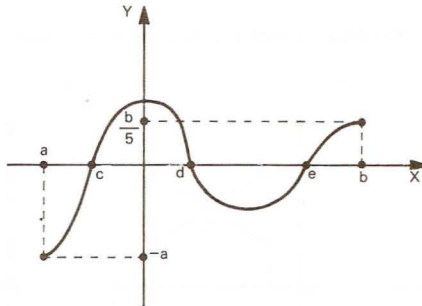


92. (U.F.MG-90) Observe o gráfico da função  $f$ .



Com base nesse gráfico, pode-se afirmar que:

- $f$  assume o valor máximo em  $x = c$ .
  - $f$  assume o valor mínimo em  $x \in \{x \in \mathbb{R} : d \leq x < e\}$ .
  - o conjunto imagem de  $f$  é  $\{x \in \mathbb{R} : m < x \leq n\}$ .
  - o domínio de  $f$  é  $\{x \in \mathbb{R} : a < x \leq e\}$ .
  - $f$  não está definida em  $a$ .
93. (U.C.SALVADOR-91) Sobre a função  $f$ , de  $[a, b]$  em  $\mathbb{R}$ , cujo gráfico se vê abaixo, é verdade que:

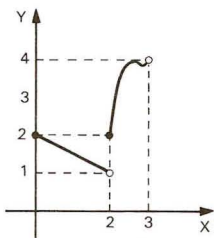


- $f(x) \leq 0$  para todo  $x$  no intervalo  $[d, e]$ .
  - $f$  é crescente no intervalo  $[0, b]$ .
  - $f(e) > f(d)$ .
  - $f$  tem apenas duas raízes reais.
  - $f(x) > 0$  para todo  $x$  no intervalo  $[a, 0]$ .
94. (U.F.PA-84) Dada a função  $f$  de  $A = \{0, 1, 2\}$  em  $B = \{-2, -1, 0, 1, 2\}$  definida por  $f(x) = x - 1$ , qual o conjunto imagem de  $f$ ?
- $\{-1, 0, 1\}$
  - $\{-2, -1, 0, 1, 2\}$
  - $\{0, 1, 2\}$
  - $\{-2, -1, 0\}$
  - $\{0, -1, 2\}$

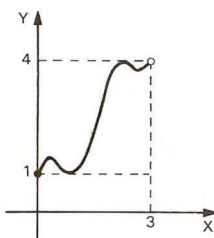


95. (U.F.MG-90) Dos gráficos, o único que representa uma função de imagem  $\{y \in \mathbb{R} : 1 \leq y \leq 4\}$  e domínio  $\{x \in \mathbb{R} : 0 \leq x < 3\}$  é:

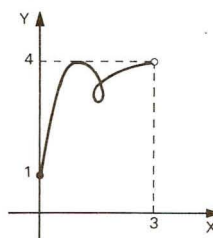
a)



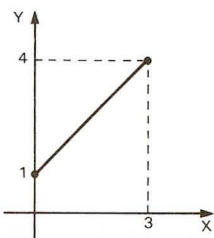
c)



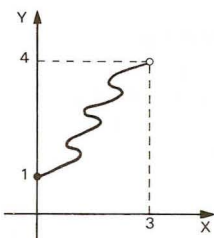
e)



b)

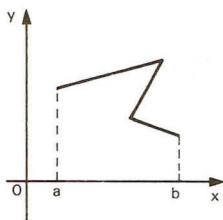


d)

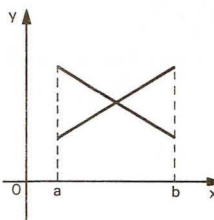


96. (U.F.MG-87) Das figuras abaixo a única que representa o gráfico de uma função real  $y = f(x)$ ,  $x \in [a, b]$ , é:

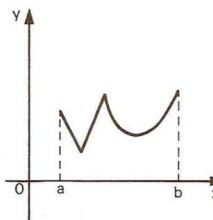
a)



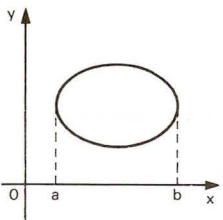
c)



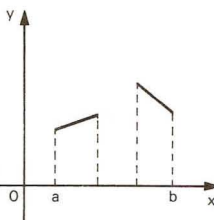
e)



b)



d)



97. (U.F.RN-84) A imagem da função  $f: \mathbb{R} \rightarrow \mathbb{R}$ , definida por  $f(x) = \frac{1}{1+x^2}$ , contém o elemento:

- a) -2                      b) 0                      c)  $\frac{1}{2}$                       d) 2                      e) 5

98. (V.UNIF.RS-80) Sejam  $V = \{(P; Q) \mid P \text{ e } Q \text{ são vértices distintos de um hexágono regular}\}$  e  $f$  uma função que associa a cada par  $(P; Q)$  e  $V$  a distância de  $P$  a  $Q$ . O número de elementos do conjunto imagem de  $f$  é:

- a) 3                      b) 4                      c) 5                      d) 15                      e) 30

99. (CESGRANRIO-85) Seja  $f(x)$  a função que associa, a cada número real  $x$ , o menor dos números  $(x+1)$  e  $(-x+5)$ . Então, o valor máximo de  $f(x)$  é:

- a) 1                      b) 3                      c) 4                      d) 5                      e) 7

100. (FGV-88) A função  $f$  é tal que:

$f(x)$  é crescente para  $x < c$

$f(x)$  é decrescente para  $x > c$

Então, podemos concluir que:

- a)  $c$  é ponto de máximo de  $f$ .  
 b)  $c$  é ponto de mínimo de  $f$ .  
 c)  $c$  é ponto de inflexão de  $f$ .  
 d)  $f(c) \geq c$ .  
 e) n.d.a.

101. (U.E.CE-80) Seja  $F: \mathbb{R} \rightarrow \mathbb{R}$  uma função satisfazendo as seguintes propriedades:

I -  $f(0) = 1$

II -  $f(x+y) = f(x) \cdot f(y) \quad \forall x, y \in \mathbb{R}$

III -  $0 < f(1) < 1$

Então o valor da expressão  $f(0) + f(1) + f(2) + \dots + f(9)$  é igual a:

- a)  $\frac{f(1)^{10} - f(1)}{f(1) - 1}$                       b)  $f(1)^{10} - 1$                       c)  $f(1)^{10} - f(1)$                       d)  $\frac{f(1)^{10} - 1}{f(1) - 1}$

102. (CESGRANRIO-87) Se  $f(x) = \frac{x^4 + x^2}{x+1}$ , então  $f\left(-\frac{1}{2}\right)$  é:

- a)  $\frac{5}{24}$                       b)  $-\frac{5}{32}$                       c)  $-\frac{5}{8}$                       d)  $\frac{5}{32}$                       e)  $\frac{5}{8}$

103. (U.C.MG-81) O valor da expressão  $y = \frac{0,25 - x^2}{0,5 + x}$  para  $x = -2,1$  é:

- a) -1,6                      b) -1,2                      c) 1,3                      d) 2,6                      e) 3,1

104. (U.C.SALVADOR-91) O valor da expressão  $\frac{x^3 - 6x^2 + 9x}{x^2 - 9} \cdot \frac{x+3}{x}$ , para  $x = 99$ , é:

- a) 100                      b) 99                      c) 98                      d) 97                      e) 96

105. (U.F.MG-92) Suponha-se que o número  $f(x)$  de funcionários necessários para distribuir, em um dia, contas de luz entre  $x$  por cento de moradores, numa determinada cidade, seja dado pela função

$$f(x) = \frac{300x}{150 - x}$$

Se o número de funcionários necessários para distribuir, em um dia, as contas de luz foi 75, a porcentagem de moradores que as receberam é:

- a) 25                      b) 30                      c) 40                      d) 45                      e) 50

106. (U.F.MG-92) Em uma experiência realizada com camundongos, foi observado que o tempo requerido para um camundongo percorrer um labirinto, na  $n$ ésima tentativa, era dado pela função  $f(n) = \left(3 + \frac{12}{n}\right)$  minutos. Com relação a essa experiência, pode-se afirmar que um camundongo:
- consegue percorrer o labirinto em menos de três minutos.
  - gasta cinco minutos e 40 segundos para percorrer o labirinto na quinta tentativa.
  - gasta oito minutos para percorrer o labirinto na terceira tentativa.
  - percorre o labirinto em quatro minutos na décima tentativa.
  - percorre o labirinto, numa das tentativas, em três minutos e 30 segundos.
107. (FUVEST-92) A função que representa o valor a ser pago após um desconto de 3% sobre o valor  $x$  de uma mercadoria é:
- $f(x) = x - 3$
  - $f(x) = 0,97x$
  - $f(x) = 1,3x$
  - $f(x) = -3x$
  - $f(x) = 1,03x$
108. (U.E.CE-91) Sejam  $f: \mathbb{R} \rightarrow \mathbb{R}$  e  $g: \mathbb{R} \rightarrow \mathbb{R}$  funções definidas por:  
 $f(x) = x + 2$  e  $g(x) = x - 2$ . Se  $m = f\left(\cos \frac{\pi}{4}\right)$  e  
 $n = g\left(\sin \frac{\pi}{4}\right)$ , então  $m^2 - n^2$  é igual a:
- $2\sqrt{2}$
  - $3\sqrt{2}$
  - $4\sqrt{2}$
  - $5\sqrt{2}$
109. (UNICAP-87) Seja  $f: \mathbb{R} \rightarrow \mathbb{R}$  uma função definida por  $f(x) = a \cdot 3^{bx}$ , onde  $a$  e  $b$  são constantes reais. Dado que  $f(0) = 900$  e  $f(10) = 300$ , calcule  $K$  tal que  $f(k) = 100$ .
- 40
  - 25
  - 15
  - 30
  - 20
110. (PUC-SP-80) A função de Euler  $\varnothing$  é definida para todo natural  $n > 1$  da seguinte maneira:  $\varnothing(n)$  é o número de números naturais primos com  $n$  e menores que  $n$ . Quanto vale  $\varnothing(12)$ ?
- 4
  - 5
  - 3
  - 6
  - 0
111. (CESGRANRIO-91) Para ser aprovado, um aluno precisa ter média maior ou igual a 5. Se ele obteve notas 3 e 6 nas provas parciais (que têm peso 1 cada uma), quanto precisa tirar na prova final (que tem peso 2) para ser aprovado?
- 4
  - 4,5
  - 5
  - 5,5
  - 6
112. (PUC-CAMP-80) Considerando  $N = \{0, 1, 2, 3, \dots\}$  e, ainda,  
 $A = \{x \in N \mid \frac{24}{x} = n, n \in N\}$   
 $B = \{x \in N \mid 3x + 4 < 2x + 9\}$ ,  
podemos afirmar que:
- $A \cup B$  tem 8 elementos.
  - $A \cup B = A$ .
  - $A \cap B = A$ .
  - $A \cap B$  possui 4 elementos.
  - n.d.a.
113. (FATEC-88) Se  $y_1 = a + \frac{c}{a}x$ ,  $y_2 = a - \frac{c}{a}x$ ,  $a > 0$ ,  $a < c$  e  $x < -a$ , então:
- $y_1 > 0$  e  $y_2 > 0$
  - $y_1 < 0$  e  $y_2 > 0$
  - $y_1 > 0$  e  $y_2 < 0$
  - $y_1 < 0$  e  $y_2 < 0$
  - $y_1 = y_2$

114. (UNICAP-87) Se  $D \subset \mathbb{R}$  é o domínio da função  $g(x) = \sqrt{\frac{I-x}{I+x}}$ , então podemos afirmar que  $D$  é: igual a:

- a)  $[-1, 1]$       b)  $[1, +\infty)$       c)  $(-1, 1]$       d)  $[-1, 1)$       e)  $(-1, 1)$

115. (U.F.CE-92) O domínio da função real  $g(x) = \sqrt{\frac{x-2}{x-7}}$  é:

- a)  $\{x \in \mathbb{R}; x > 7\}$   
 b)  $\{x \in \mathbb{R}; x \leq 2\}$   
 c)  $\{x \in \mathbb{R}; 2 \leq x < 7\}$   
 d)  $\{x \in \mathbb{R}; x \leq 2 \text{ ou } x > 7\}$

## Funções do 1º grau

116. (CESGRANRIO-91) Se  $(2+3)^2 - x = 12$ , então  $x$  vale:

- a) -2      b) -1      c) 1      d) 9      e) 13

117. (U.F.RN-83) Se  $\frac{x}{3} - 3 = \frac{I}{5}(2x+2) - 4$ , então:

- a)  $x + 9 = 0$       d)  $9x - 1 = 0$   
 b)  $x - 9 = 0$       e)  $9x + 1 = 0$   
 c)  $x - 1 = 0$

118. (U.E.CE-82) Se  $x_1$  é a solução da equação  $\frac{x}{3} + \frac{x}{6} = 16 - \frac{x}{4}$ , então o valor de  $x_1$  está compreendido entre os números:

- a) 17 e 19      b) 19 e 21      c) 21 e 23      d) 23 e 25

119. (U.E.LONDRINA-83) Seja a solução da equação  $\frac{3 \cdot (x+2)}{5} - \frac{3x+I}{4} = 2$ , em  $\mathbb{R}$ . Então:

- a)  $2a = 14$       d)  $3a = -21$   
 b)  $a^3 = -21$       e)  $a + 1 = 0$   
 c)  $a = -\frac{11}{3}$

120. (U.F.MG-90) A raiz da equação

$$\frac{2(x+1)}{3} - \frac{3(x+2)}{4} = \frac{x+1}{6} \text{ pertence ao intervalo:}$$

- a)  $[-6, -3]$       b)  $[-3, -1]$       c)  $[-2, 0]$       d)  $[0, 2]$       e)  $[2, 6]$

121. (U.F.MG-90) A raiz da equação  $(y-1)(y+1) - (y-1)^2 + 2 = 9 - 7y$  pertence ao conjunto:

- a)  $\left\{\frac{7}{5}\right\}$       d)  $\{-1, 9\}$   
 b)  $\left\{\frac{11}{5}, 0\right\}$       e)  $\{0, 3\}$   
 c)  $\{1, 2\}$

122. (U.E.LONDRINA-84) Seja a função  $f: \mathbb{R} \rightarrow \mathbb{R}$  tal que  $f(x) = ax + b$ . Se os pontos  $(0; -3)$  e  $(2; 0)$  pertencem ao gráfico de  $f$ , então  $a + b$  é igual a:
- a)  $\frac{9}{2}$                       b) 3                      c)  $\frac{2}{3}$                       d)  $-\frac{3}{2}$                       e) -1
123. (FGV-88) O gráfico da função  $f(x) = mx + n$  passa pelos pontos  $(4, 2)$  e  $(-1, 6)$ . Assim, o valor de  $m + n$  é:
- a)  $-\frac{13}{5}$                       b)  $\frac{22}{5}$                       c)  $\frac{7}{5}$                       d)  $\frac{13}{5}$                       e) 2,4
124. (PUC-SP-82) No conjunto dos números reais, a equação  $ax = b$ , na incógnita  $x$ :
- a) não pode ter infinitas soluções.                      d) tem infinitas soluções se  $b \neq 0$ .  
 b) sempre tem solução.                      e) tem solução única se  $a \neq 0$ .  
 c) só tem solução se  $a \neq 0$ .
125. (PUC-MG-92) Uma função do 1º grau é tal que  $f(-1) = 5$  e  $f(3) = -3$ . Então  $f(0)$  é igual a:
- a) 0                      b) 2                      c) 3                      d) 4                      e) -1
126. (U.F.VIÇOSA-89) Uma função  $f$  é dada por  $f(x) = ax + b$ , onde  $a$  e  $b$  são números reais. Se  $f(-1) = 3$  e  $f(1) = -1$ , então  $f(3)$  é o número:
- a) 1                      b) 3                      c) -3                      d) 5                      e) -5
127. (U.E.BA-84) A função  $f$ , de  $\mathbb{R}$  em  $\mathbb{R}$ , definida por  $f(x) = (k^2 - 1) \cdot x + 3$ , é crescente se, e somente se:
- a)  $k \neq 1$  e  $k \neq -1$   
 b)  $k = 1$  ou  $k = -1$   
 c)  $k > 0$   
 d)  $-1 < k < 1$   
 e)  $k < -1$  ou  $k > 1$
128. (FUVEST-92) A tabela abaixo mostra a temperatura das águas do oceano Atlântico (ao nível do equador) em função da profundidade:

Profundidade	Superfície	100 m	500 m	1 000 m	3 000 m
Temperatura	27 °C	21 °C	7 °C	4 °C	2,8 °C

Admitindo que a variação da temperatura seja aproximadamente linear entre cada duas das medições feitas para a profundidade, a temperatura prevista para a profundidade de 400 m é de:

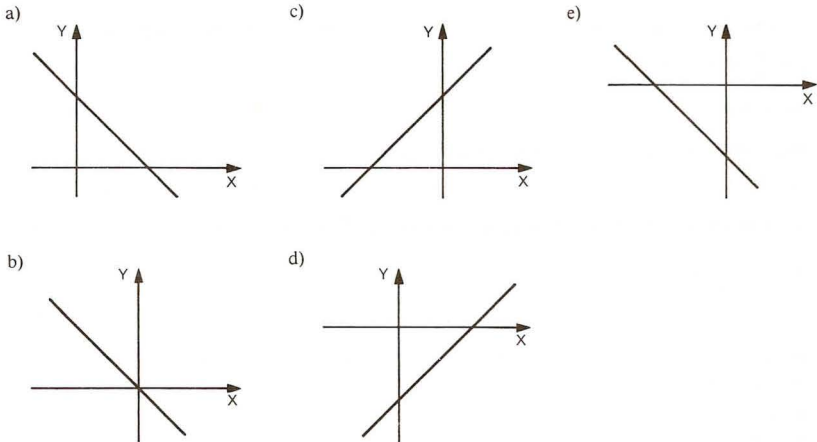
- a) 16 °C                      b) 14 °C                      c) 12,5 °C                      d) 10,5 °C                      e) 8 °C
129. (FATEC-89) O gráfico da função, definida por:

$$\begin{vmatrix} 1 & -1 & x \\ 3 & 5 & -1 \\ 1 & 2 & y \end{vmatrix} = 0,$$

- a) intercepta o eixo  $x$  no ponto de abscissa  $-\frac{3}{8}$ .  
 b) intercepta o eixo  $y$  no ponto de ordenada  $-\frac{3}{2}$ .  
 c) determina, com os eixos coordenados, uma região triangular de área  $\frac{9}{16}$ .  
 d) passa pela origem do sistema cartesiano.  
 e) não admite raiz real.



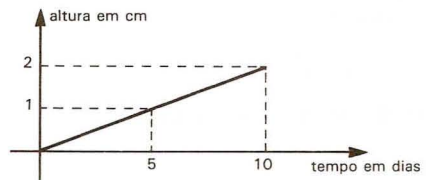
130. (U.F.MG-90) Sendo  $a < 0$  e  $b > 0$ , a única representação gráfica correta para a função  $f(x) = ax + b$  é:



131. (PUC-SP-80) Para produzir um objeto, uma firma gasta Cz\$ 1,20 por unidade. Além disso, há uma despesa fixa de Cz\$ 4 000,00, independente da quantidade produzida. O preço de venda é de Cz\$ 2,00 por unidade. Qual é o número mínimo de unidades, a partir do qual a firma começa a ter lucro?

- a) 1 800      b) 2 500      c) 3 600      d) 4 000      e) 5 000

132. (VUNESP-85) Um botânico mede o crescimento de uma planta, em centímetros, todos os dias. Ligando os pontos colocados por ele num gráfico, resulta a figura ao lado. Se for mantida sempre esta relação entre tempo e altura, a planta terá, no 30º dia, uma altura igual a:



- a) 5 cm      b) 6 cm      c) 3 cm      d) 15 cm      e) 30 cm

133. (FGV-81) Duas funções importantes em finanças são: Receita Total:  $RT = P \times Q$  e Custo Total:  $CT = CF + CVU \times Q$ , onde:  $P$  = preço de venda unitário;  $CF$  = custo fixo;  $CVU$  = custo variável unitário;  $Q$  = quantidade produzida e vendida.

A Metalúrgica Atlas S.A. produz uma peça, para a qual são conhecidos os seguintes dados (mensais):  $P = \text{Cz}\$ 5\,000,00$ ;  $CF = \text{Cz}\$ 100\,000,00$ ;  $CVU = \text{Cz}\$ 2\,000,00$ ; Lucro =  $L = RT - CT = \text{Cz}\$ 800\,000,00$ . A Metalúrgica Atlas, a fim de enfrentar seus concorrentes, decide reduzir em 20% o preço de venda unitário ( $P$ ), mas pretende obter o mesmo lucro, através do aumento em  $Q$ . Este aumento (em %) deverá ser de:

- a) 20%      b) 150%      c) 40%      d) 50%      e) 10%

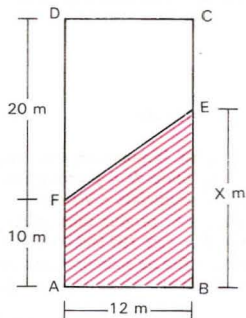
134. (U.F.MG-92) Para alimentar seus pássaros, um criador compra, mensalmente, ração e milho num total de 1 000 kg. A ração custa Cz\$ 400,00 o quilograma e o milho, Cz\$ 250,00.

Se  $x$  representa a quantidade, em quilogramas, de ração comprada, pode-se afirmar que a função-gasto, em cruzeiros, é dada por:

- a)  $g(x) = 150x$ ,  $0 < x < 1\,000$       d)  $g(x) = 250x + 400\,000$ ,  $0 < x < 1\,000$   
 b)  $g(x) = 400x$ ,  $0 < x < 1\,000$       e)  $g(x) = 400x - 250\,000$ ,  $0 < x < 1\,000$   
 c)  $g(x) = 150x + 250\,000$ ,  $0 < x < 1\,000$

135. (U.F.GO-84) O menor múltiplo de 3 que satisfaz a inequação  $x + 5 < 2x - 1$  é:  
 a) 12                      b) 9                      c) 6                      d) 3                      e) 0
136. (U.F.SE-84) Quantos números inteiros, estritamente positivos, satisfazem a inequação  $x + \frac{3}{2} < 3x - 4$ ?  
 a) nenhum                      b) dois                      c) três                      d) quatro                      e) infinitos
137. (PUC-SP-84) O menor número inteiro  $k$  que satisfaz a inequação  $8 - 3(2k - 1) < 0$  é:  
 a) -2                      b) -1                      c) 0                      d) 1                      e) 2
138. (CESGRANRIO-84) Se  $a < -2$ , os valores de  $x$  tais que  $\frac{a}{2}(x - a) < -(x + 2)$  são aqueles que satisfazem:  
 a)  $x < a - 2$                       d)  $x > a - 2$   
 b)  $x < -2a$                       e)  $a - 2 < x < 2 - a$   
 c)  $x > 2a$
139. (FATEC-88) Os gráficos cartesianos das funções  $f$  e  $g$ , de  $\mathbb{R}$  em  $\mathbb{R}$ , interceptam-se num ponto do 1º quadrante. Se  $f(x) = x + 7$  e  $g(x) = -2x + k$ , onde  $k$  é constante, então  $k$  satisfaz a condição:  
 a)  $k > 7$                       d)  $-1 < k \leq 0$   
 b)  $1 < k \leq 7$                       e)  $-7 < k \leq -1$   
 c)  $0 < k \leq 1$
140. (CESGRANRIO-88) O número  $\frac{3x + 2}{5}$  é o seno de um ângulo. Pode-se afirmar que:  
 a)  $-1 \leq x \leq 5$                       d)  $-\frac{7}{3} \leq x \leq 1$   
 b)  $-1 \leq x < \frac{7}{3}$                       e)  $-\frac{3}{7} \leq x \leq \frac{7}{3}$   
 c)  $-1 \leq x \leq 2$

141. (U.F.MG-92) Observe a figura.



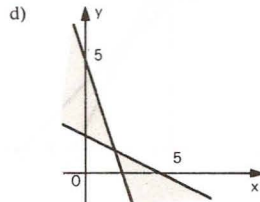
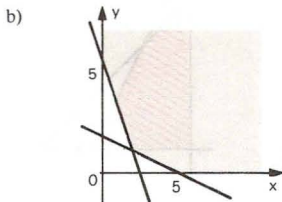
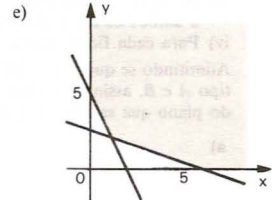
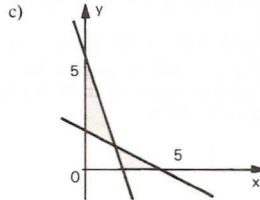
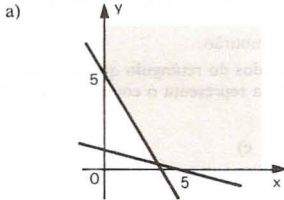
O retângulo  $ABCD$  representa um terreno e o trapézio hachurado, uma construção a ser feita nele. Por exigências legais, essa construção deve ter uma área, no mínimo, igual a 45% e, no máximo, igual a 60% do terreno.

Todos os valores possíveis de  $x$  pertencem ao intervalo:

- a)  $[17, 26]$                       d)  $[17, 18]$   
 b)  $[13,5, 18]$                       e)  $[18, 26]$   
 c)  $[14, 18]$

142. (U.F.R.PE-87) Suponha que  $x$  e  $y$  representam quantidades de dois bens, sendo, por isso, números não negativos. Nas alternativas abaixo aparecem sombreadas algumas regiões do plano  $xy$ . Indique qual delas representa o conjunto solução do sistema de inequação:

$$\begin{cases} x + 2y \geq 4 \\ 3x + y \geq 6 \end{cases}$$



143. (U.F.R.PE-91) Quantas soluções possui o sistema

$$\begin{cases} y < 3x \\ y < -3x + 6 \\ x > 0 \end{cases}$$

tais que  $x$  e  $y$  pertençam a  $\mathbb{Z}$ ?

- a) 0                      b) 1                      c) 2                      d) 3                      e) 6

144. (CESGRANRIO-85) Os valores positivos de  $x$ , para os quais  $(x - 1)(x - 2)(x + 3) < 0$ , constituem o intervalo aberto:

- a) (1, 3)                      b) (2, 3)                      c) (0, 3)                      d) (0, 1)                      e) (1, 2)

145. (U.E.LONDRINA-84) Quantos números inteiros satisfazem a inequação  $\frac{4-x}{1+x} \geq 0$ ?

- a) 2                      b) 3                      c) 4                      d) 5                      e) 6

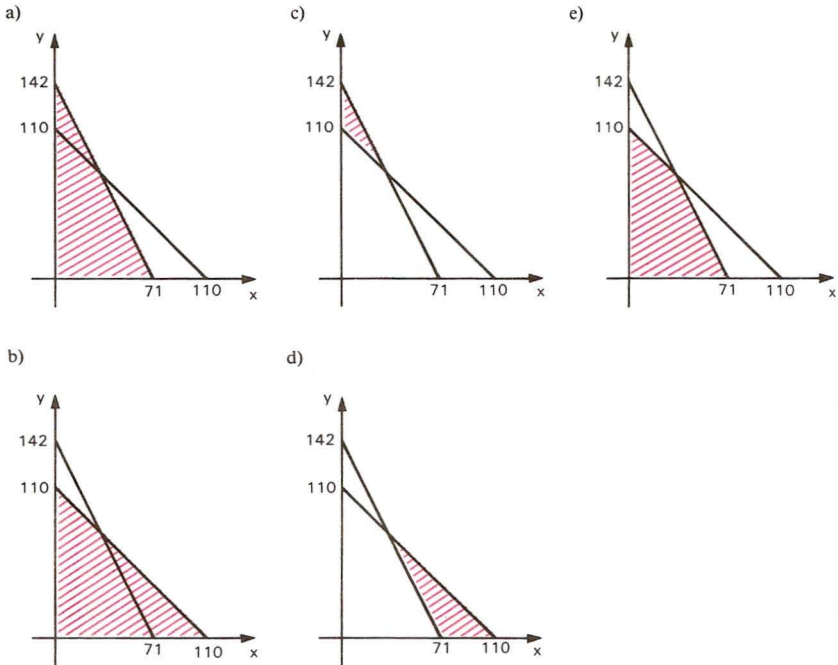
146. (U.F.SE-84) O conjunto solução da inequação  $\frac{x+3}{2x-5} \leq 0$ , em  $\mathbb{R}$ , é:

- a)  $\left[-3; \frac{5}{2}\right]$                       d)  $]-\infty; -3]$   
 b)  $]-3; \frac{5}{2}[$                       e)  $]-\infty; -3] \cup \left[\frac{5}{2}; +\infty\right[$   
 c)  $\left[-3; \frac{5}{2}\right[$

**147.** (CESESP-86) Um pecuarista deseja cercar com mourões e arame farpado um terreno de forma retangular. Dispõe para isso de 142 mourões, 888 grampos e arame em quantidade suficiente. A construção da cerca deve obedecer aos seguintes critérios:

- i) Dois lados paralelos têm cercas do tipo A e os outros dois lados cerca do tipo B.
- ii) A distância entre cada mourão das cercas do tipo A é de 1 m, enquanto nas cercas do tipo B essa distância é de 2 m.
- iii) As cercas do tipo A têm 4 fios de arame e as cercas do tipo B têm 8 fios, sendo que 4 fios são comuns a ambos os tipos de cercas.
- iv) Para cada fio de arame é batido um e só um grampo em cada mourão.

Admitindo-se que  $x$  e  $y$  são respectivamente os comprimentos dos lados do retângulo que têm cercas do tipo A e B, assinale a única alternativa cuja parte tracejada da figura representa o conjunto dos pontos do plano que satisfaz as condições impostas.



**148.** (U.F.MG-90) O conjunto de todos os valores reais de  $x$  que satisfazem a desigualdade  $\frac{-3}{x+1} \geq 0$  é:

- a) vazio
- b)  $\{x \in \mathbb{R} : x \leq -1\}$
- c)  $\{x \in \mathbb{R} : x < -1\}$
- d)  $\{x \in \mathbb{R} : x \geq -1\}$
- e)  $\{x \in \mathbb{R} : x > -1\}$

**149.** (U.F.UBERLÂNDIA-81) O domínio da função real  $f(x) = \sqrt{\frac{x+1}{-x+2}}$  é:

- a)  $\{x \in \mathbb{R} \mid -1 < x < 2\}$
- b)  $\{x \in \mathbb{R} \mid -1 \leq x < 2\}$
- c)  $\{x \in \mathbb{R} \mid -1 \leq x \leq 2\}$
- d)  $\{x \in \mathbb{R} \mid x \leq -1 \wedge x > 2\}$
- e)  $\{x \in \mathbb{R} \mid x \leq -1 \vee x > 2\}$

150. (EAESP-FGV-80) Resolver a inequação:  $\frac{3x+4}{x-2} > 1$ .
- a)  $2 < x < 3$     d)  $x \geq 3$   
 b)  $2 \leq x \leq 3$     e) n.d.a.  
 c)  $-3 \leq x < -1/2$
151. (U.C.SALVADOR-92) Qual é o menor número inteiro que satisfaz a inequação  $1 + \frac{x-1}{2} > 1$ ?
- a) 0                      b) 1                      c) 2                      d) 3                      e) 4

## Função quadrática

152. (PUC-MG-92) Uma função do 2º grau é tal que  $f(0) = 5$ ,  $f(1) = 3$  e  $f(-1) = 9$ . Então  $f(2)$  é:
- a) 0                      b) 2                      c) 3                      d) -3                      e) -5
153. (FUVEST-89) O gráfico de  $f(x) = x^2 + bx + c$ , onde  $b$  e  $c$  são constantes, passa pelos pontos  $(0, 0)$  e  $(1, 2)$ . Então  $f\left(-\frac{2}{3}\right)$  vale:
- a)  $-\frac{2}{9}$                       b)  $\frac{2}{9}$                       c)  $-\frac{1}{4}$                       d)  $\frac{1}{4}$                       e) 4
154. (V.UNIF.RS-80) Para que a parábola de equação  $y = ax^2 + bx - 1$  contenha os pontos  $(-2; 1)$  e  $(3; 1)$ , os valores de  $a$  e  $b$  são, respectivamente:
- a)  $3$  e  $-3$     d)  $\frac{1}{3}$  e  $-3$   
 b)  $\frac{1}{3}$  e  $-\frac{1}{3}$     e)  $1$  e  $\frac{1}{3}$   
 c)  $3$  e  $-\frac{1}{3}$
155. (U.MACK.-80) O ponto  $(k, 3k)$  pertence à curva dada por  $f(x) = x^2 - 2x + k$ ; então,  $k$  pode ser:
- a)  $-2$                       b)  $-1$                       c)  $2$                       d)  $3$                       e)  $4$
156. (U.E.CE-80) Dados três pontos no plano cartesiano, não colineares e com abscissas distintas duas a duas, o número de funções quadráticas que podem ser encontradas de maneira que esses pontos pertençam aos seus gráficos é:
- a) 0                      b) 1                      c) 2                      d) mais que duas
157. (V.UNIF.RS-80) Os números mínimo e máximo, respectivamente, de pares ordenados com pelo menos uma coordenada nula que o conjunto
- $$A = \{(x; y) \in \mathbb{R}^2 \mid y = ax^2 + bx + c\}$$
- pode apresentar, fixados  $a \in \mathbb{R}^*$ ,  $b \in \mathbb{R}$  e  $c \in \mathbb{R}$ , são:
- a)  $0$  e  $2$                       b)  $0$  e  $3$                       c)  $1$  e  $2$                       d)  $1$  e  $3$                       e)  $2$  e  $3$
158. (U.F.RS-82) Se  $x^2 + bx + c = 0$  e  $2(x+1)^2 = 0$  são equações equivalentes, então  $b + c$  é:
- a) 1                      b) 2                      c) 3                      d) 4                      e) 5



159. (U.F.MG-90) A soma de todas as raízes da equação  $(x-1)^2 - (x-1)(x+4) = (x-1)(x+1)$  é:  
 a) -5                      b) -2                      c) 2                      d) 5                      e) 6
160. (CESGRANRIO-85) Os valores do parâmetro  $p$ , para os quais a equação  $x^2 + x + (p^2 - 7p) = 0$  tem uma raiz nula, são:  
 a) 2 e 5                      b) -5 e -2                      c) 3 e 4                      d) 0 e 7                      e) -7 e 3
161. (CESGRANRIO-88) Se é igual a 1 (um) uma das raízes de  $x^2 + bx + c = 0$ , então os coeficientes  $b$  e  $c$  satisfazem a condição:  
 a)  $b = -c - 1$                       d)  $b + c = 1$   
 b)  $bc = 1$                       e)  $b - c = 1$   
 c)  $b = c$
162. (VUNESP-85) Sempre que o discriminante da equação  $ax^2 + 2bx + c = 0$  é igual a zero, com  $a \neq 0$  e  $b \neq 0$ , então  $a$ ,  $b$  e  $c$ :  
 a) formam uma progressão geométrica.                      d) são negativos.  
 b) formam uma progressão aritmética.                      e) são diferentes.  
 c) são positivos.
163. (FUVEST-83) A equação  $x^2 - x + c = 0$ , para um conveniente valor de  $c$ , admite raízes iguais a:  
 a) -1 e 1                      b) zero e 2                      c) -1 e zero                      d) 1 e -3                      e) -1 e 2
164. (U.F.RS-84) A equação do 2º grau  $ax^2 + ax + 1 = 0$  tem uma raiz de multiplicidade 2. Essa raiz é:  
 a)  $-\frac{1}{2}$                       b)  $-\frac{1}{4}$                       c)  $\frac{1}{2}$                       d) 2                      e) 4
165. (U.F.MG-82) Se a equação  $x^2 + px + q = 0$  admite raízes reais simétricas, então:  
 a)  $p = 1$  e  $q = 0$                       d)  $p = 0$  e  $q > 0$   
 b)  $p = 1$  e  $q > 0$                       e)  $p = 0$  e  $q < 0$   
 c)  $p = 1$  e  $q < 0$
166. (U.F.MG-89) Considere a equação do segundo grau, em  $x$ ,  $x^2 - (m-2)x + m + 2 = 0$ . Pode-se afirmar que o conjunto de todos os valores de  $m$ , para os quais a diferença entre as raízes da equação seja 4, é:  
 a) {2}                      b) {10}                      c) {-2, 10}                      d) {-2, 2}                      e) {2, 10}
167. (U.F.RS-83) As raízes de  $x^2 + 2ax + a^2 - b^2 = 0$ , com  $a \in \mathbb{R}$  e  $b \in \mathbb{R}$ , nunca são números:  
 a) naturais.  
 b) inteiros negativos.  
 c) racionais e não inteiros.  
 d) irracionais.  
 e) complexos e não reais.
168. (F.SANTANA-83) Considerem-se dois números cuja soma é 18 e cujo produto é -32. A soma dos inversos desses números é igual a:  
 a) -9                      b)  $-\frac{16}{9}$                       c)  $-\frac{9}{16}$                       d)  $\frac{1}{18}$                       e)  $\frac{9}{16}$
169. (PUC-RJ-82) A diferença entre dois números é 28 e seu produto é 333. Então sua soma é:  
 a) 16                      b) 26                      c) 36                      d) 46                      e) 56

170. (PUC-SP-85) Qual é a função do 2º grau cuja única raiz é  $-3$  e cujo gráfico passa pelo ponto  $A = (-2; 5)$ ?
- a)  $f(x) = 5x^2 + 30x + 45$   
 b)  $f(x) = -\frac{5}{4}x^2 - \frac{5}{4}x + \frac{15}{2}$   
 c)  $f(x) = -5x^2 - 20x - 15$
- d)  $f(x) = x^2 + 10x + 21$   
 e)  $f(x) = -x^2 + 9$
171. (F.SANTANA-83) Sejam  $\frac{5}{2}$  e  $-\frac{3}{2}$ , respectivamente, a soma e o produto das raízes da equação  $2x^2 + bx + c = 0$ . O valor de  $b + c$  é:
- a)  $-8$   
 b)  $-2$   
 c)  $1$   
 d)  $2$   
 e)  $8$
172. (PUC-MG-92) As raízes da função quadrática  $y = 2x^2 + mx + l$  são positivas e uma é o dobro da outra. A soma dessas raízes é:
- a)  $2,4$   
 b)  $2,1$   
 c)  $1,8$   
 d)  $1,5$   
 e)  $1,2$
173. (FUVEST-84) A equação  $\frac{x}{l-x} + \frac{x-2}{x} - l = 0$  tem duas raízes. A soma e o produto dessas raízes são iguais a:
- a)  $-2$   
 b)  $0$   
 c)  $3$   
 d)  $-4$   
 e)  $1$
174. (U.F.GO-80) O valor de  $k$  para que a soma das raízes da equação  $(k-2)x^2 - 3kx + l = 0$  seja igual ao seu produto é:
- a)  $1/2$   
 b)  $1/3$   
 c)  $2/3$   
 d)  $-3/2$   
 e)  $-1/3$
175. (PUC-SP-85) Se as raízes da equação  $x^2 + bx + l2 = 0$  são, cada uma, 7 unidades maiores do que as raízes de  $x^2 + \beta x + l2 = 0$ , então:
- a)  $\beta = -5$   
 b)  $\beta = 5$   
 c)  $\beta = -7$
- d)  $\beta = 7$   
 e) faltam dados para determinar  $\beta$
176. (CESGRANRIO-80) Seja  $P(x) = x^2 + bx + c$ . Um polinômio do 2º grau cujas raízes são iguais ao dobro das de  $P(x)$  é:
- a)  $4x^2 + 2bx + 4c$   
 b)  $x^2 + 2bx + 2c$   
 c)  $2P(x)$
- d)  $x^2 - bx + c$   
 e)  $x^2 + 2bx + 4c$
177. (U.C.SALVADOR-91) Um professor dispunha de 144 doces para dividir igualmente entre os alunos de sua classe. Como no dia da distribuição faltaram 12 alunos, ele dividiu os 144 doces igualmente entre os presentes, cabendo a cada aluno 1 doce a mais. O número de alunos presentes no dia da distribuição era:
- a) 36  
 b) 40  
 c) 42  
 d) 48  
 e) 50
178. (PUC-SP-80) A equação  $x + y = x \cdot y$  com duas incógnitas reais:
- a) não admite solução com  $x > 0$  e  $y > 0$ .  
 b) admite solução com  $x < 0$  e  $y < 0$ .  
 c) tem uma única solução real.  
 d) tem exatamente duas soluções reais.  
 e) não admite solução em que  $x = l$ .
179. (U.C.SALVADOR-91) Um especulador comprou dólares na segunda-feira gastando 90 000 cruzeiros. Na terça-feira, com o dólar 10 cruzeiros mais caro, o especulador voltou a comprar dólares, gastando 144 000 cruzeiros. Nos dois dias, ele comprou 1 500 dólares. Quantos foram comprados na terça-feira?
- a) 1 100  
 b) 1 050  
 c) 1 000  
 d) 950  
 e) 900



189. (CESGRANRIO-81) Se o par  $(x, y)$  de números reais é solução de

$$\begin{cases} x^2 - y^2 = 5 \\ xy = 6 \end{cases}$$

podemos concluir que  $(x - y)^2$  é:

- a) 0                      b) 1                      c)  $\sqrt{5}$                       d) 5                      e) 36
190. (U.F.MG-90) Para que o trinômio do segundo grau  $y = ax^2 + bx + c$  tenha um mínimo no ponto  $(0, 4)$ , os números reais  $a, b, c$  devem satisfazer as seguintes condições:
- a)  $a < 0, b = 0, c = 4$                       d)  $a = 4, b < 0, c = 0$   
 b)  $a > 0, b = 0, c = 4$                       e)  $a = 4, b > 0, c = 0$   
 c)  $a = 1, b = 0, c > 4$
191. (U.MACK.-80) Em  $y = ax^2 + bx + c$ , ( $a \neq 0$ ), com  $a, b$  e  $c$  reais, tem-se  $y$  máximo para  $x = 2$ . Então:
- a)  $\frac{b}{a} = -4$  e  $a < 0$                       d)  $\frac{b}{a} = 4$  e  $c < 0$   
 b)  $b = -4$  e  $a > 0$                       e)  $b = 4a$  com  $a$  e  $c$  quaisquer  
 c)  $\left| \frac{b}{a} \right| = 4$  e  $a$  qualquer
192. (U.F.PR-83) Se  $2x + y = 3$ , o valor mínimo de  $\sqrt{x^2 + y^2}$  é:
- a)  $\frac{1}{5}$                       b)  $\frac{2}{5}$                       c)  $\frac{\sqrt{45}}{7}$                       d)  $\frac{\sqrt{45}}{5}$                       e)  $\sqrt{3}$
193. (U.F.MG-92) Uma das raízes de  $f(x) = (x - a)(x - b)$  é igual a 4 e o gráfico de  $f$  passa pelo ponto  $(5, 12)$ . Pode-se afirmar que o mínimo da função é:
- a)  $-\frac{121}{4}$                       b)  $\frac{3}{2}$                       c)  $\frac{121}{4}$                       d)  $-\frac{3}{8}$                       e)  $-28$
194. (ITA-80) No sistema de coordenadas cartesianas ortogonais, a curva  $y = ax^2 + bx + c$  passa pelos pontos  $(1, 1)$ ,  $(2, m)$  e  $(m, 2)$ , onde  $m$  é um número real diferente de 2. Sobre esta curva podemos afirmar que:
- a) Ela admite um mínimo para todo  $m$  tal que  $1/2 < m < 3/2$ .  
 b) Ela admite um mínimo para todo  $m$  tal que  $0 < m < 1$ .  
 c) Ela admite um máximo para todo  $m$  tal que  $-1/2 < m < 1/2$ .  
 d) Ela admite um máximo para todo  $m$  tal que  $1/2 < m < 3/2$ .  
 e) Ela admite um máximo para todo  $m$  tal que  $0 < m < 1$ .
195. (PUC-MG-92) O ponto extremo  $V$  da função quadrática  $f(x) = x^2 - 6x + 8$  é:
- a) um máximo, sendo  $V = (3, -1)$ .  
 b) um mínimo, sendo  $V = (-3, +1)$ .  
 c) um máximo, sendo  $V = (-3, +1)$ .  
 d) um mínimo, sendo  $V = (3, +1)$ .  
 e) um mínimo, sendo  $V = (3, -1)$ .
196. (U.FORTALEZA-81) Considere a função  $f: \mathbb{R} \rightarrow \mathbb{R}$ , definida por  $f(x) = x^2 - 2x + 5$ . Pode-se afirmar corretamente que:
- a) o vértice do gráfico de  $f$  é o ponto  $(1, 4)$ .  
 b)  $f$  possui dois zeros reais distintos.  
 c)  $f$  atinge um máximo para  $x = 1$ .  
 d) o gráfico de  $f$  é tangente ao eixo das abscissas.

197. (CEESP-86) Um fabricante vende, mensalmente,  $x$  unidades de um determinado artigo por  $V(x) = x^2 - x$ , sendo o custo de produção dado por  $c(x) = 2x^2 - 7x + 8$ . Assinale a alternativa correspondente ao número de artigos que devam ser vendidos mensalmente de modo que obtenha o lucro máximo.
- a) quinze unidades  
b) cinco unidades  
c) mil unidades  
d) três unidades  
e) nenhuma unidade
198. (U.F.GO-84) Seja  $A(x)$  a área do triângulo cujos vértices são os pontos  $(0, 0)$ ,  $(x, 0)$  e  $(x, x)$ . Então para  $0 < x \leq 1$ , podemos afirmar que:
- a)  $y = A(x)$  é uma função crescente de  $x$ .  
b)  $y = A(x)$  não define função.  
c) o valor máximo de  $y = A(x)$  é 1.  
d)  $y = A(x)$  é uma função linear.  
e) o valor de  $A(x)$  para  $x = \frac{1}{2}$  é  $\frac{1}{4}$ .
199. (U.F.PE-85) Um fabricante pode produzir sapatos ao custo de Cr\$ 200,00 o par. Estima-se que, se cada par for vendido por  $x$  cruzados, o fabricante venderá por mês  $800 - x$  ( $0 \leq x \leq 800$ ) pares de sapatos. Assim o lucro mensal do fabricante é uma função do preço de venda. Assinale a alternativa que indica em cruzados o preço de venda, de modo que o lucro mensal seja máximo.
- a) 200                      b) 500                      c) 600                      d) 350                      e) 400
200. (U.F.PE-81) Considere a seguinte função quadrática  $f(x) = x^2 - 5x + 6$ . Assinale a alternativa correspondente ao conjunto de todos os pontos onde esta função é crescente.
- a)  $(-\infty; 2] \cup [3; +\infty)$   
b)  $[2; 3]$   
c)  $(-\infty; 2,5)$   
d)  $(2,5; +\infty)$   
e)  $[2; 2,5]$
201. (VUNESP-84) Uma função quadrática tem o eixo dos  $y$  como eixo de simetria. A distância entre os zeros da função é de 4 unidades, e a função tem  $-5$  como valor mínimo. Esta função quadrática é:
- a)  $y = 5x^2 - 4x - 5$   
b)  $y = 5x^2 - 20$   
c)  $y = \frac{5}{4}x^2 - 5x$   
d)  $y = \frac{5}{4}x^2 - 5$   
e)  $y = \frac{5}{4}x^2 - 20$
202. (U.F.SE-84) O gráfico da função  $f$ , de  $\mathbb{R}$  em  $\mathbb{R}$ , definida por  $f(x) = -2x^2 - x$  é uma parábola cujo vértice é o ponto:
- a)  $(-\frac{1}{4}; -\frac{1}{2})$   
b)  $(\frac{1}{4}; -\frac{1}{2})$   
c)  $(-\frac{1}{4}; -\frac{1}{8})$   
d)  $(\frac{1}{4}; \frac{1}{8})$   
e)  $(-\frac{1}{4}; \frac{1}{8})$
203. (PUC-RS-80) A imagem da função  $f: \mathbb{R} \rightarrow \mathbb{R}$ , definida por  $f(x) = x^2 - 1$ , é o intervalo:
- a)  $[-1; +\infty)$   
b)  $(-1; +\infty)$   
c)  $[0; +\infty)$   
d)  $(-\infty; -1)$   
e)  $(-\infty; -1]$



204. (V.UNIF.RS-80) A imagem da função  $f: \mathbb{R} \rightarrow \mathbb{R}$  definida por  $f(x) = -x^2 + x - 2$  é:

- a)  $(-\infty; -2]$  d)  $[7/4; +\infty)$   
 b)  $[2; +\infty)$  e)  $(-\infty; -7/4]$   
 c)  $(-\infty; 7/4)$

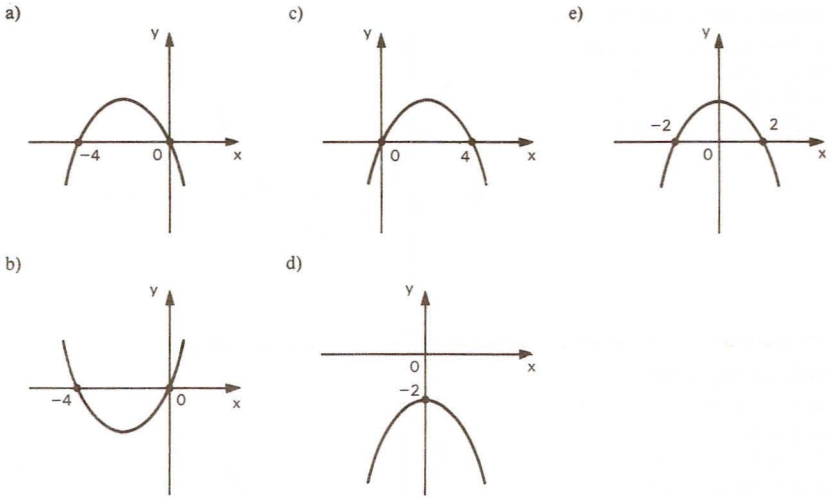
205. (PUC-MG-92) O conjunto imagem da função  $f: [-\sqrt{2}, 1] \rightarrow \mathbb{R}$  definida por  $f(x) = 2x^2 + 1$  é:

- a)  $\{y \in \mathbb{R}; y \geq 1\}$  c)  $\{y \in \mathbb{R}; 3 \leq y \leq 5\}$   
 b)  $\{y \in \mathbb{R}; 1 \leq y \leq 3\}$  d)  $\{y \in \mathbb{R}; 1 \leq y \leq 5\}$

206. (U.F.PA-85) A parábola de equação  $y = x^2 - 5x - 14$  é simétrica em relação à reta:

- a)  $y = x$  b)  $x = -2$  c)  $x = 7$  d)  $x = 5/2$  e)  $y = -x$

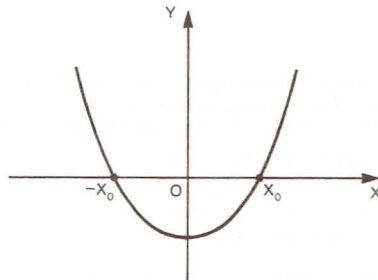
207. (U.C.SALVADOR-91) Considere a função  $f$ , de  $\mathbb{R}$  em  $\mathbb{R}$ , dada por  $f(x) = 4x - x^2$ . Representando-a graficamente no plano cartesiano, obteremos:



208. (U.F.MG-90) O gráfico da função quadrática  $y = ax^2 + bx + c$  é:

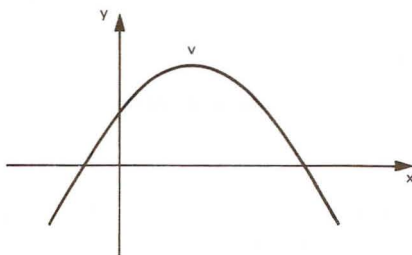
Pode-se afirmar que:

- a)  $a > 0, b = 0, c < 0$   
 b)  $a > 0, b = 0, c > 0$   
 c)  $a > 0, b > 0, c = 0$   
 d)  $a < 0, b = 0, c > 0$   
 e)  $a < 0, b < 0, c = 0$



209. (U.MACK.-80) A equação que melhor se adapta à curva é dada por:

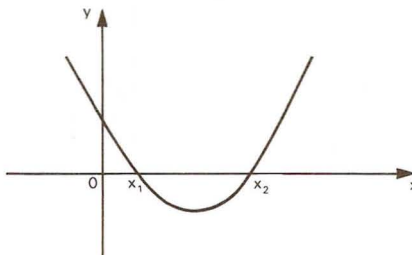
- a)  $(x - 1)^2 = 8(y - 2)$
- b)  $(x - 1)^2 = -8(y - 2)$
- c)  $(y - 2)^2 = 8(x - 1)$
- d)  $(y - 2)^2 = -8(x - 1)^2$
- e)  $x^2 = -8(y - 2)$



210. (U.F.PE-81) O gráfico abaixo representa a função real  $f(x) = bx^2 + ax + c$ .

Assinale a única alternativa correta.

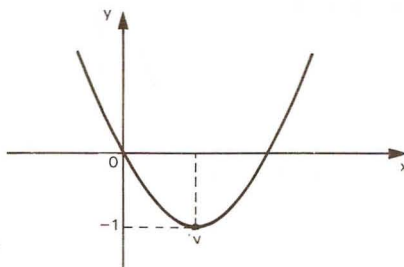
- a)  $b^2 - 4ac > 0$  e  $a > 0$
- b)  $a^2 - 4bc > 0$  e  $b > 0$
- c)  $a^2 - 4bc > 0$  e  $b < 0$
- d)  $b^2 - 4ac > 0$  e  $a < 0$
- e)  $a < 0$  e  $c = 0$



211. (CESGRANRIO-80) O gráfico do trinômio do 2º grau  $x^2 + bx + c$  é o da figura:

Podemos concluir que:

- a)  $b = -1$  e  $c = 0$
- b)  $b = 0$  e  $c = -1$
- c)  $b = 1$  e  $c = 1$
- d)  $b = -2$  e  $c = 0$
- e)  $b = 4$  e  $c = 0$



212. (U.F.MG-92) O gráfico da função quadrática  $y = ax^2 + bx + c$ ,  $a \neq 0$ , tem  $(5, 3)$  como ponto mais próximo do eixo das abscissas e passa pelo ponto  $(1, 4)$ .

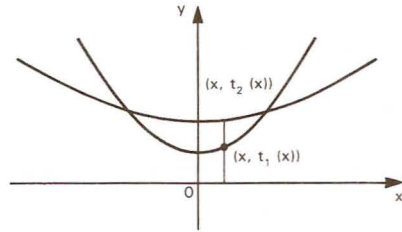
Todas as afirmativas sobre essa função estão corretas, exceto:

- a) A função não tem raízes reais.
- b) Obrigatoriamente se tem  $a > 0$ .
- c) O eixo da simetria do gráfico é a reta  $x = 5$ .
- d) O gráfico passa pelo ponto  $(9, 4)$ .
- e) O gráfico corta o eixo dos y no ponto  $(0, \frac{11}{3})$

213. (U.F.PE-85) Considere os trinômios  $t_1(x) = a_1x^2 + c_1$  e  $t_2(x) = a_2x^2 + c_2$  com representações gráficas dadas por:

Assinale a alternativa correta:

- a)  $a_1 > a_2$  e  $c_1 < c_2$   
 b)  $a_1 < a_2$  e  $c_1 < c_2$   
 c)  $a_1 < a_2$  e  $c_1 > c_2$   
 d)  $a_1 > a_2$  e  $c_1 > c_2$   
 e)  $a_1 > a_2$  e  $c_1 < c_2$



214. (VUNESP-85) A equação cujo gráfico está inteiramente abaixo do eixo dos  $x$  é:
- a)  $y = 2x^2 - 4x - 5$   
 b)  $y = -x^2 + 4x$   
 c)  $y = x^2 - 10$   
 d)  $y = -x^2 + 5$   
 e)  $y = -2x^2 + 4x - 4$
215. (U.F.PA-85) O gráfico da função quadrática  $y = x^2 + px + q$  tem uma só intersecção com o eixo dos  $x$ . Então os valores de  $p$  e  $q$  obedecem à relação:
- a)  $q = p^2/4$   
 b)  $q^2 = p/2$   
 c)  $q = -p^2/4$   
 d)  $q^2 = 4p$   
 e)  $q^2 = -4p$
216. (U.F.SE-84) O trinômio  $y = x^2 + 2kx + 4k$  admitirá duas raízes reais e distintas se, e somente se:
- a)  $k > 4$   
 b)  $0 < k < 4$   
 c)  $k > 0$  e  $k \neq 4$   
 d)  $k < 0$  ou  $k > 4$   
 e)  $k \neq 0$  e  $k \neq 4$
217. (PUC-CAMP-80) Em relação ao trinômio  $-x^2 + x - 8$  podemos afirmar:
- a) é positivo para todo real  $x$ .  
 b) tem 2 zeros reais distintos.  
 c) é negativo para todo real  $x$ .  
 d) muda de sinal quando  $x$  percorre o conjunto de todos os números reais.  
 e) n.d.a.
218. (U.E.BA-84) O trinômio  $y = -2x^2 + 3x - I$  é:
- a) negativo,  $\forall x \in \mathbb{R}$ .  
 b) positivo se  $x \neq I$  e  $x \neq \frac{I}{2}$ .  
 c) negativo se  $-I < x < I$ .  
 d) positivo se  $\frac{I}{2} < x < I$ .  
 e) negativo se  $x > -\frac{I}{2}$ .
219. (U.C.MG-81) A solução da inequação  $x^2 \leq x$  é o intervalo real:
- a)  $(-\infty; -1]$   
 b)  $[-1; +\infty)$   
 c)  $[-1; 0]$   
 d)  $[-1; 1]$   
 e)  $[0; 1]$

220. (U.E.LONDRINA-84) O conjunto dos valores reais de  $x$ , que tornam verdadeira a sentença  $2x^2 - x < 1$ , é:

- a)  $\left\{x \in \mathbb{R} \mid -\frac{1}{2} < x < 1\right\}$                       d)  $\left\{x \in \mathbb{R} \mid \frac{1}{2} < x < 1\right\}$   
 b)  $\left\{x \in \mathbb{R} \mid x > 1 \text{ ou } x < -\frac{1}{2}\right\}$                       e)  $\left\{x \in \mathbb{R} \mid x < -\frac{1}{2}\right\}$   
 c)  $\left\{x \in \mathbb{R} \mid x < 1\right\}$

221. (CESGRANRIO-81) O menor inteiro positivo  $N$  tal que  $3n \leq \frac{1}{2} N(N-1)$  é:

- a) 5                      b) 6                      c) 7                      d) 8                      e) 9

222. (U.F.MG-89) Seja  $f$  uma função real de variável real dada por  $f(x) = \ell n(-x^2 + 3x - 2)$ . O conjunto de todos os números reais no qual  $f$  está definida é:

- a)  $\{x \in \mathbb{R} : x < 1 \text{ ou } x > 2\}$                       d)  $\mathbb{R}$   
 b)  $\{x \in \mathbb{R} : 0 < x < 1\}$                       e)  $\{x \in \mathbb{R} : 2 < x < 3\}$   
 c)  $\{x \in \mathbb{R} : 1 < x < 2\}$

223. (UNICAP-87) Seja  $f: \mathbb{R} \rightarrow \mathbb{R}$  a função definida por  $f(x) = 9x^2 - 6x + k$ . Assinale a única alternativa que indica os valores de  $K \in \mathbb{R}$  para os quais se tem  $f(x) \geq 0$  qualquer que seja  $x$ .

- a)  $K \geq 0$                       b)  $K \leq -3$                       c)  $K \geq 3$                       d)  $K \leq -1$                       e)  $K \geq 1$

224. (FGV-88) O lucro  $L$  de uma empresa é dado por  $L = -x^2 + 8x - 7$ , onde  $x$  é a quantidade vendida. O lucro será positivo se, e somente se:

- a)  $2 < x < 5$                       d)  $0 < x < 12$   
 b)  $x > 7$  ou  $x < 1$                       e)  $x > 12$   
 c)  $1 < x < 7$

225. (U.F.MG-87) O maior número  $a$  tal que  $a \leq x^2 - 4x + 12$  para qualquer valor real de  $x$  é:

- a) -8                      b) -6                      c) 4                      d) 6                      e) 8 \*

226. (CESGRANRIO-91) A menor solução inteira de  $x^2 - 2x - 35 < 0$  é:

- a) -5                      b) -4                      c) -3                      d) -2                      e) -1

227. (UNESP-91) O conjunto solução da inequação  $(x-2)^2 < 2x-1$ , considerando como universo o conjunto  $\mathbb{R}$ , está definido por:

- a)  $1 < x < 5$                       d)  $1 < x < 4$   
 b)  $3 < x < 5$                       e)  $2 < x < 5$   
 c)  $2 < x < 4$

228. (CESGRANRIO-89) As soluções de  $x^2 - 2x < 0$  são os valores de  $x$  pertencentes ao conjunto:

- a) (0, 2)                      d)  $(-\infty, 0) \cup (2, +\infty)$   
 b)  $(-\infty, 0)$                       e) (0,  $+\infty$ )  
 c) (2,  $+\infty$ )

229. (CESGRANRIO-90) Se a equação  $10x^2 + bx + 2 = 0$  não tem raízes reais, então o coeficiente  $b$  satisfaz a condição:

- a)  $-4\sqrt{5} < b < 4\sqrt{5}$                       d)  $0 < b < 8\sqrt{5}$   
 b)  $b < 4\sqrt{5}$                       e)  $-8\sqrt{5} < b < 0$   
 c)  $b > 4\sqrt{5}$





237. (U.F.MG-89) O conjunto de todos os valores reais de  $x$  que satisfazem a desigualdade  $(x^2 - 9)^5 (x - 3)^7 < 0$  é:

- a)  $\{x \in \mathbb{R} : x < -3\}$
- b)  $\{x \in \mathbb{R} : -3 < x < 3\}$
- c)  $\{x \in \mathbb{R} : x > 3\}$
- d)  $\{x \in \mathbb{R} : 3 < x < 9\}$
- e)  $\{x \in \mathbb{R} : x > 9\}$

238. (U.F.PA-84) Sejam os conjuntos:

$$A = \{x \in \mathbb{R} \mid x^2 - 1 \leq 0\} \text{ e}$$

$$B = \{x \in \mathbb{Q} \mid x^3 - 2x^2 + x = 0\}$$

Então,  $A \cap B$  é:

- a)  $\{-1; 1\}$
- b)  $\{0; -1\}$
- c)  $\{-1, 0, 1\}$
- d)  $[0; 1]$
- e)  $[0; 1]$

239. (EAESP-FGV-80) Determinar o domínio da função:  $f(x) = \frac{\sqrt{x^2 - 5}}{\sqrt[3]{x^2 - 1}}$ .

- a)  $\{x \in \mathbb{R} \mid x \leq -\sqrt{5} \text{ ou } x \geq \sqrt{5}\}$
- b)  $\{x \in \mathbb{R} \mid x \leq -1 \text{ ou } x \geq 1\}$
- c)  $\{x \in \mathbb{R} \mid -\sqrt{5} \leq x \leq \sqrt{5}\}$
- d)  $\{x \in \mathbb{R} \mid x < -1 \text{ ou } x > 1\}$
- e) n.d.a.

240. (FGV-81) Dado o sistema de inequações:

$$\begin{cases} -2x^2 + 3x + 2 \leq 0 \\ x^2 + x - 2 \leq 0 \end{cases}$$

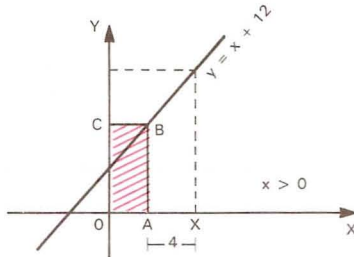
o intervalo que satisfaz estas inequações tem amplitude:

- a) 3/2
- b) 1/2
- c) infinito
- d) 1
- e) n.d.a.

241. (U.F.RS-84) As funções reais  $f$  e  $g$  são definidas em  $D$  por  $f(x) = \sqrt{x^2 - 2x + 1}$  e  $g(x) = x - 1$ . Se  $f = g$ , então  $D$  é subconjunto de:

- a)  $[-1; 0]$
- b)  $[0; 1]$
- c)  $(-\infty; -1)$
- d)  $(-\infty; 0]$
- e)  $(1; +\infty]$

242. (U.F.MG-92) Observe a figura.



A área do retângulo hachurado está compreendida entre 28 e 108. O intervalo que contém todos os valores de  $x$  que satisfazem tal condição é:

- a) (2, 8)
- b) (3, 9)
- c) (4, 6)
- d) (5, 11)
- e) (7, 14)



251. (PUC-SP-84) Sejam  $f$  e  $g$  funções reais de domínio real, onde:

$$f(x) > 0 \text{ somente para } x \geq 3 \text{ ou para } x \leq -2,$$

$$g(x) > 0 \text{ somente para } 1 \leq x \leq 5,$$

$$f(x) \neq 0 \text{ e } g(x) \neq 0 \text{ para todo } x \text{ real.}$$

Nestas condições  $\frac{f(x)}{g(x)} < 0$  somente para:

a)  $x < -2$  ou  $3 < x \leq 5$

d)  $x \leq -2$  ou  $1 \leq x < 3$  ou  $x > 5$

b)  $-2 < x$  ou  $x \geq 5$

e)  $-2 \leq x < 3$  ou  $x \geq 5$

c)  $x \geq 3$  ou  $x < 1$  ou  $x = 2$

252. (FATEC-88) O conjunto solução da inequação  $\frac{x-1}{x^2-4x+3} \geq 1$ , no universo  $\mathbb{R}$ , é:

a)  $]-\infty, 3] \cup [4, +\infty[$

d)  $]3, 4]$

b)  $\mathbb{R} - \{3, 1\}$

e)  $]3, 4[$

c)  $[3, 4]$

253. (U.F.MG-87) A solução da inequação  $x + \frac{1}{x} \leq 2$  é:

a)  $\{x \in \mathbb{R} : x \leq -1 \text{ ou } x = 1\}$

d)  $\{x \in \mathbb{R} : x \leq 1\}$

b)  $\{x \in \mathbb{R} : x < 0 \text{ ou } x = 1\}$

e)  $\{x \in \mathbb{R} : x < 0\}$

c)  $\{x \in \mathbb{R} : x = 1\}$

254. (U.MACK.-80) Considere a função, de  $\mathbb{R}$  em  $\mathbb{R}$ , definida por  $y = ax^2 + bx + c$ , onde  $b^2 - 4ac < 0$  e  $a < 0$ . Então:

a)  $y > 0$  se  $x$  for interior ao intervalo das raízes.

b)  $y > 0$  se  $x$  for exterior ao intervalo das raízes.

c)  $y < 0$  para todo  $x \in \mathbb{R}$ .

d)  $y > 0$  para todo  $x \in \mathbb{R}$ .

e) existe um único  $x \in \mathbb{R}$  tal que  $y = 0$ .

255. (FATEC-88) Seja a equação do 2º grau  $2mx^2 - 2x - (3m + 2) = 0$ , onde  $x \in \mathbb{R}$  e  $m \in \mathbb{R}^*$ . Para que  $x^2$  e  $x^{21}$  sejam raízes da equação e  $x^2 < 1 < x^{21}$ , deve-se ter  $m$  pertencente ao conjunto:

a)  $]-\infty, 0]$

b)  $] -1, +\infty[ - \{0\}$

c)  $]-\infty, -4[ \cup ]0, +\infty[$

d)  $] -3, 0[$

e)  $]-\infty, 5[ - \{0\}$

## Função modular

256. (U.F.MG-92)

Considere-se a função  $f: \mathbb{R} \rightarrow \mathbb{R}$ , definida por  $f(x) = \begin{cases} x - 3 & \text{se } x \leq -2 \\ 2x^2 + 1 & \text{se } -2 < x < 3 \\ 5 & \text{se } x \geq 3 \end{cases}$

Pode-se afirmar que o valor de  $f(\pi) + 2f(\sqrt{5}) + f(-2)$  é:

a) 10

b) 13

c) 22

d) 25

e)  $2\pi^2 + 1$

257. (U.F.PA-84) Dada a função  $f: \mathbb{R} \rightarrow \mathbb{R}$  definida por

$$\begin{aligned} f(x) &= -5 \text{ se } x \text{ é racional} \\ f(x) &= 3 \text{ se } x \text{ é irracional,} \end{aligned}$$

quanto vale a expressão  $f(-\sqrt{2}) - f\left(\frac{2}{3}\right)$  ?

- a) -10                      b) -8                      c) 0                      d) 6                      e) 8

258. (U.F.MG-92) Considere-se a função definida por

$$f(x) = \begin{cases} x^2 & \text{se } x \text{ é racional} \\ 1 - x & \text{se } x \text{ é irracional} \end{cases}$$

O valor de  $f(2) + 2f(\sqrt{2}) - 4f\left[\frac{1}{2}\right]$  é:

- a)  $4 - 2\sqrt{2}$                       d)  $3\sqrt{2}$   
 b)  $5 - 2\sqrt{2}$                       e) 7  
 c)  $2\sqrt{2}$

259. (FUVEST-91) A moeda de um país é o "liberal", indicado por £. O imposto de renda  $I$  é uma função contínua da renda  $R$ , calculada da seguinte maneira:

I. Se  $R \leq 24\,000\text{£}$ , o contribuinte está isento do imposto.

II. Se  $R \geq 24\,000\text{£}$ , calcula-se 15% de  $R$ , e do valor obtido subtrai-se um valor fixo  $P$ , obtendo-se o imposto a pagar  $I$ .

Determine o valor fixo  $P$ .

- a) 1 200£                      d) 6 000£  
 b) 2 400£                      e) 24 000£  
 c) 3 600£

260. (CESGRANRIO-88) Seja  $f(x) = \begin{cases} x + I, & \text{se } 0 \leq x \leq 2 \\ 5 - x, & \text{se } 2 < x \leq 5 \end{cases}$

A área da região limitada por  $x = 0$ ,  $y = 0$  e pelo gráfico da  $f(x)$  é:

- a)  $\frac{15}{2}$                       b) 8                      c)  $\frac{17}{2}$                       d) 9                      e)  $\frac{19}{2}$

261. (CESGRANRIO-84) Seja  $f$  a função definida no intervalo aberto  $(-I; +I)$  por

$$f(x) = \frac{x}{I - |x|}; \text{ então } f\left(-\frac{I}{2}\right) \text{ é:}$$

- a)  $\frac{1}{2}$                       b)  $\frac{1}{4}$                       c)  $-\frac{1}{2}$                       d) -1                      e) -2

262. (U.MACK.-80) Seja a função  $f: \mathbb{R} \rightarrow \mathbb{R}$  definida por

$$f(x) = \begin{cases} |x| + 3, & \text{se } |x| \leq 2 \\ |x - 3|, & \text{se } |x| > 2 \end{cases}$$

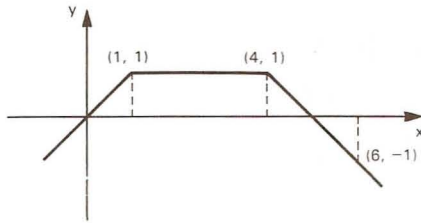
o valor de  $f(f(f(\dots f(0)\dots)))$

- a) é 0.                      d) pode ser 3.  
 b) pode ser 1.                      e) é impossível de ser calculado.  
 c) é 3.

263. (F.C.M.STA.CASA-80) As funções  $f(x) = |x|$  e  $g(x) = x^2 - 2$  possuem dois pontos em comum. A soma das abscissas destes pontos é:

- a) 0                      b) 3                      c) -1                      d) -3                      e) 1

264. (U.F.PR-80) O gráfico abaixo:



corresponde à função real de variável real definida pela lei de correspondência:

a) 
$$\begin{cases} f(x) = x + 2 & \text{para } x < 0 \\ f(x) = 2 & \text{para } 2 \leq x < 4 \\ f(x) = x^2 - x & \text{para } x \geq 4 \end{cases}$$

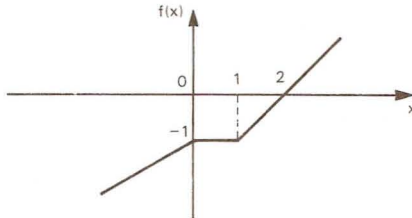
d) 
$$\begin{cases} f(x) = x & \text{se } x \text{ é ímpar} \\ f(x) = 1 & \text{se } x \text{ é par} \end{cases}$$

b) 
$$f(x) = \begin{cases} x & \text{se } x \text{ é par} \\ 1 & \text{se } x \text{ é ímpar} \end{cases}$$

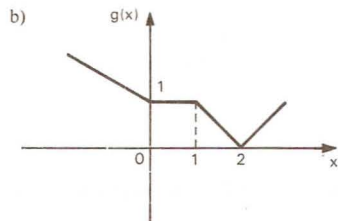
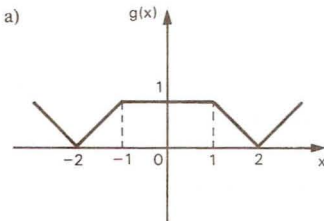
e) 
$$\begin{cases} f(x) = 2 + x & \text{para } x = 2 \\ f(x) = 0 & \text{para } x = 0 \\ f(x) = -2 + x & \text{para } x = -2 \end{cases}$$

c) 
$$\begin{cases} f(x) = x & \text{se } x \leq 1 \\ f(x) = 1 & \text{se } 1 < x < 4 \\ f(x) = 5 - x & \text{se } x \geq 4 \end{cases}$$

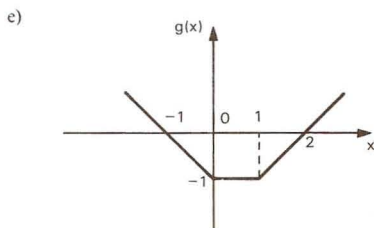
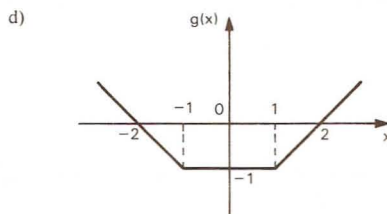
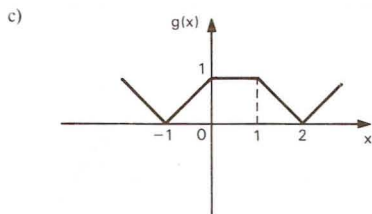
265. (U.F.VIÇOSA-89) A figura abaixo é o gráfico de uma função  $f: \mathbb{R} \rightarrow \mathbb{R}$ .



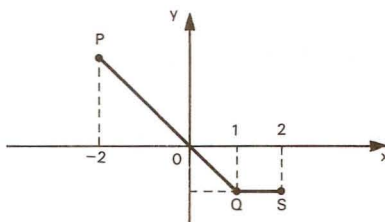
A alternativa correspondente ao gráfico da função  $g(x) = |f(x)|$  é:







266. (CESGRANRIO-89)

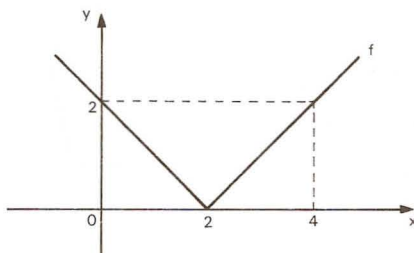


A função  $f$  é definida no intervalo  $(-2, +2)$  e seu gráfico é composto pelos segmentos de reta  $PQ$  e  $QS$ , como se mostra na figura. Se  $f(\sqrt{2}) = -2$ , então  $f(-2)$  vale:

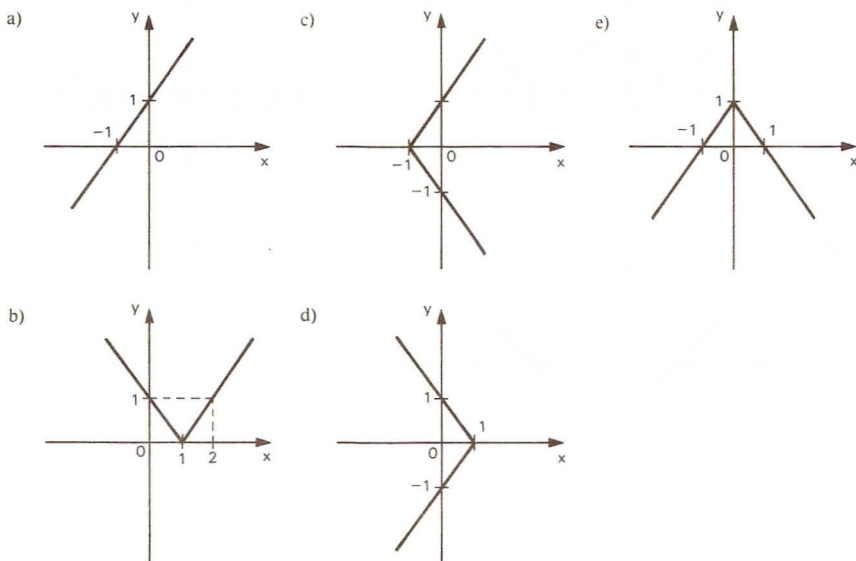
- a) 1                      b) 2                      c) 3                      d) 4                      e) 5

267. (U.C.SALVADOR-92) A figura abaixo pode representar o gráfico da função  $f$ , de  $\mathbb{R}$  em  $\mathbb{R}$ , definida por:

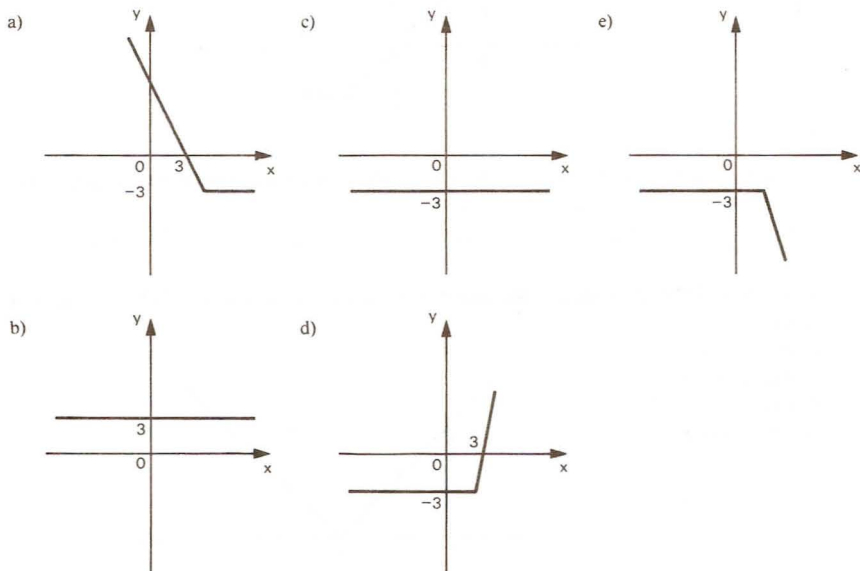
- a)  $f(x) = |x| + 2$   
 b)  $f(x) = |x - 2|$   
 c)  $f(x) = |x + 2|$   
 d)  $f(x) = |x| - 2$   
 e)  $f(x) = ||x| + 2|$



268. (F.C.M.STA.CASA-81) O gráfico que melhor representa a relação  $|y| = x + 1, \forall x, y \in \mathbb{R}$ , é:

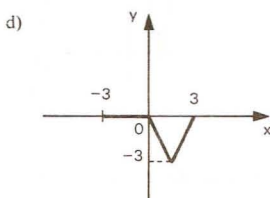
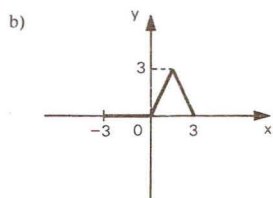
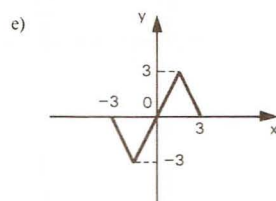
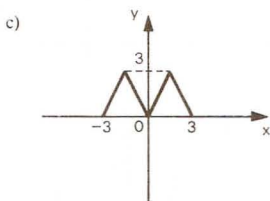
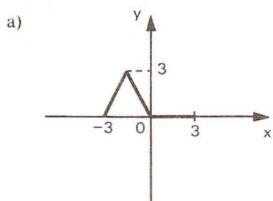
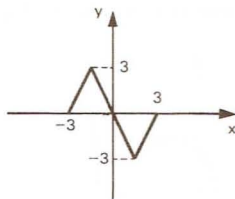


269. (U.MACK.-81) Seja a função  $f: \mathbb{R} \rightarrow \mathbb{R}$  definida por  $y \rightarrow |x - 3| - x$ . O gráfico que melhor a representa é:

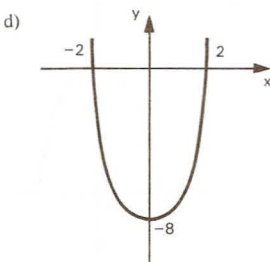
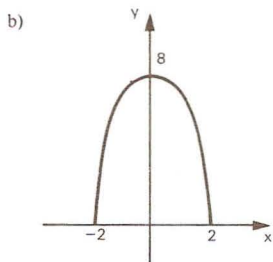
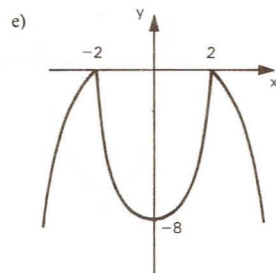
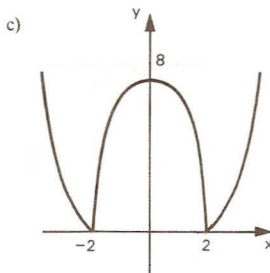
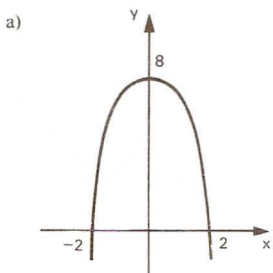


270. (U.MACK.-82) Seja  $y = f(x)$  uma função definida no intervalo  $[-3; 3]$  pelo gráfico ao lado. Considere a função  $g : [-3; 3] \rightarrow \mathbb{R}$  definida por

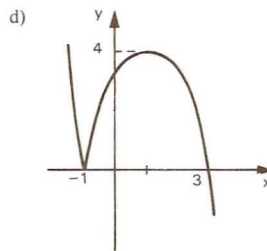
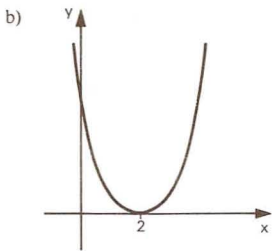
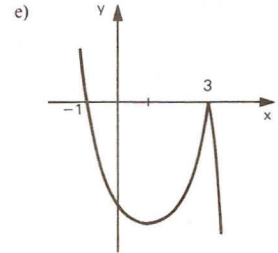
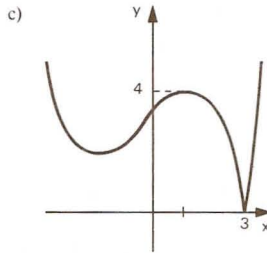
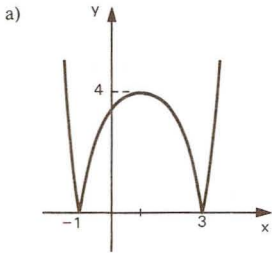
$$g(x) = \frac{|f(x)| - f(x)}{2}. \text{ O gráfico que melhor a representa é:}$$



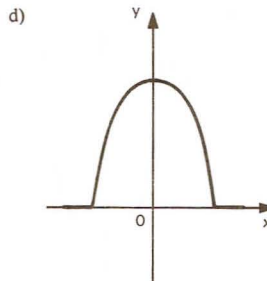
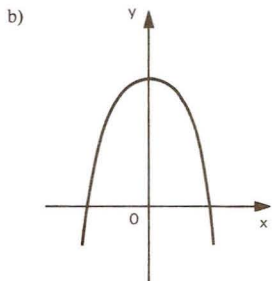
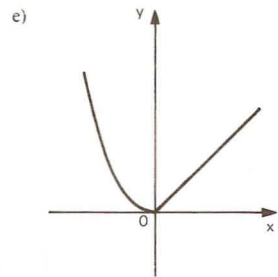
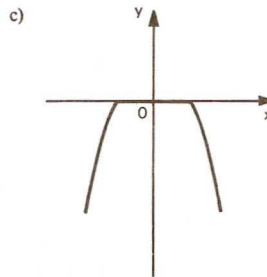
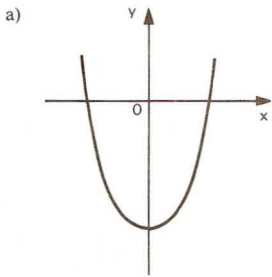
271. (U.F.MG-89) Seja  $f : \mathbb{R} \rightarrow \mathbb{R}$  uma função tal que  $f(x) = |2x^2 - 8|$ . O gráfico de  $y = f(x)$  é:



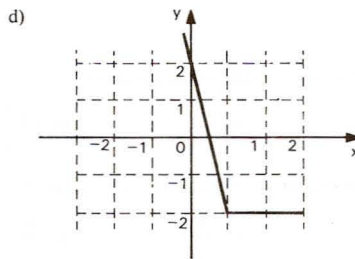
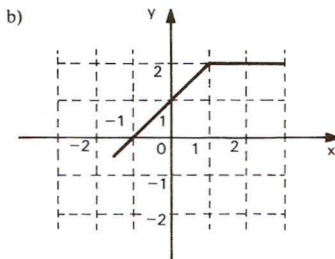
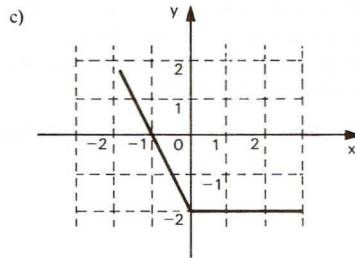
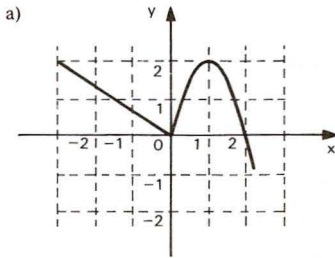
272. (COVEST-90) Qual dos gráficos abaixo melhor representa a função  $f(x) = |x^2 - 2x - 3|$ ?



273. (CESGRANRIO-82) A melhor representação gráfica de  $f: \mathbb{R} \rightarrow \mathbb{R}$ , definida por  $f(x) = |x^2 - 1| - (x^2 - 1)$ , é:

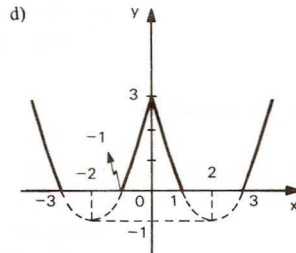
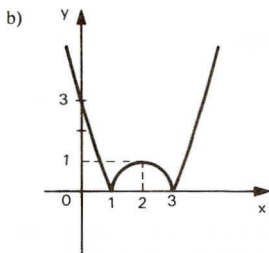
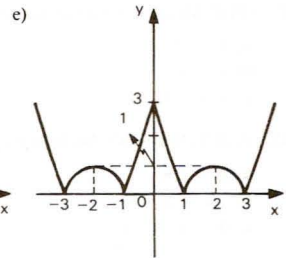
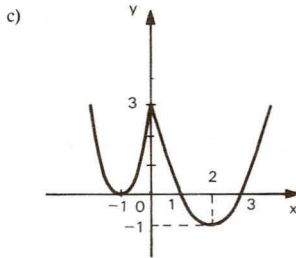
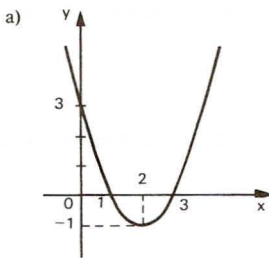


274. (F.C.M.STA.CASA-80) Seja dada a função  $f(x) = \sqrt{(2x-2)^2} - 2x$ , definida para todo  $x$  pertencente ao conjunto dos reais. O gráfico representado abaixo que mais se aproxima de  $f(x)$  é:



275. (FATEC-88) Seja  $f$  a função definida por  $f: \mathbb{R} \rightarrow \mathbb{R}$   
 $x \rightarrow |x^2 - 4| \times |x + 3|$

O gráfico de  $f$  está melhor representado em:





- 276.** (ITA-80) Considere a equação  $|x| = x - 6$ . Com respeito à solução real desta equação podemos afirmar que:
- a) a solução pertence ao intervalo fechado  $[1; 2]$ .
  - b) a solução pertence ao intervalo fechado  $[-2; -1]$ .
  - c) a solução pertence ao intervalo aberto  $(-1; 1)$ .
  - d) a solução pertence ao complementar da união dos intervalos anteriores.
  - e) a equação não tem solução.
- 277.** (F.C.M.STA.CASA-82) O conjunto solução da equação  $|3x - 2| = 3x - 2$ , no universo  $\mathbb{R}$ , é:
- a)  $\mathbb{R}$
  - b)  $\mathbb{R}_+$
  - c)  $\left[\frac{2}{3}; +\infty\right[$
  - d)  $\left]\frac{2}{3}; +\infty\right[$
  - e)  $\left]-\infty; \frac{2}{3}\right]$
- 278.** (PUC-MG-92) A solução da equação  $|3x - 5| = 5x - 1$  é:
- a)  $\{-2\}$
  - b)  $\left\{\frac{3}{4}\right\}$
  - c)  $\left\{\frac{1}{5}\right\}$
  - d)  $\{2\}$
  - e)  $\left\{\frac{3}{4}, -2\right\}$
- 279.** (U.C.MG-81) O produto das raízes da equação  $|2x + 3| = 1 - x$  é:
- a)  $\frac{3}{4}$
  - b)  $\frac{4}{3}$
  - c)  $\frac{8}{3}$
  - d)  $\frac{19}{2}$
  - e) 6
- 280.** (CESGRANRIO-87) A soma das soluções reais de  $|x + 2| = 2|x - 2|$  é:
- a)  $\frac{1}{3}$
  - b)  $\frac{2}{3}$
  - c) 6
  - d)  $\frac{19}{3}$
  - e)  $\frac{20}{3}$
- 281.** (PUC-MG-92) Os pontos de ordenada negativa do gráfico de  $f(x) = x|x - 1| + 2$  são aqueles para os quais:
- a)  $x < 0$
  - b)  $x > 1$
  - c)  $x < -1$
  - d)  $-1 < x < 1$
  - e)  $-1 < x < 2$
- 282.** (U.E.LONDRINA-84) Seja  $p$  o produto das soluções reais da equação  $||x + 1| - 2| = 2$ . Então  $p$  é tal que:
- a)  $p < -4$
  - b)  $-2 < p < 0$
  - c)  $4 < p < 16$
  - d)  $0 < p < 4$
  - e)  $p > 16$
- 283.** (U.F.VIÇOSA-89) Os valores de  $x$  que satisfazem a equação  $|x|^2 - 4|x| + 4 = 0$  são dois números:
- a) ímpares.
  - b) divisores de três.
  - c) primos.
  - d) positivos.
  - e) múltiplos de três.
- 284.** (ITA-88) Sabendo-se que as soluções da equação  $|x|^2 - |x| - 6 = 0$  são raízes da equação  $x^2 - ax + b = 0$ , podemos afirmar que:
- a)  $a = 1$  e  $b = 6$
  - b)  $a = 0$  e  $b = -6$
  - c)  $a = 1$  e  $b = -6$
  - d)  $a = 0$  e  $b = -9$
  - e) não existem  $a$  e  $b$  tais que  $x^2 - ax + b = 0$  contenha todas as raízes da equação dada.

285. (U.FORTALEZA-82) Assinale o item que contém a implicação verdadeira:

a)  $x > y \Rightarrow |x| > |y|$

c)  $x > y \Rightarrow x - y > y - x$

b)  $x > y \Rightarrow x^2 > y^2$

d)  $x > y \Rightarrow a^x > a^y$ , onde  $a > 0$  e  $a \neq 1$

286. (U.F.UBERLÂNDIA-82) O conjunto solução da inequação  $|3x - 5| < 3$  é:

a)  $\left\{x \in \mathbb{R} : x < \frac{8}{3}\right\}$

d)  $\left\{x \in \mathbb{R} : x < \frac{2}{3} \text{ ou } x > \frac{8}{3}\right\}$

b)  $\left\{x \in \mathbb{R} : x > \frac{2}{3}\right\}$

e)  $\emptyset$

c)  $\left\{x \in \mathbb{R} : \frac{2}{3} < x < \frac{8}{3}\right\}$

287. (FGV-88) Quantos números inteiros não negativos satisfazem a inequação  $|x - 2| < 5$ ?

a) infinitos

b) 4

c) 5

d) 6

e) 7

288. (U.E.CE-81) Dados os conjuntos

$A = \{x \in \mathbb{Z} \mid |x - 5| < 3\}$  e

$B = \{x \in \mathbb{Z} \mid |x - 4| \geq 1\}$

A soma dos elementos de  $A \cap B$  é igual a:

a) 19

b) 20

c) 21

d) 22

289. (U.E.CE-80) Adicionando-se os valores inteiros de  $x$  que satisfazem simultaneamente as desigualdades  $|x - 1| \leq 2$  e  $|2x - 1| \geq 1$  obtemos:

a) 6

b) 3

c) 4

d) 5

290. (U.E.CE-92) Sejam  $\mathbb{Z}$  o conjunto dos números inteiros,

$F = \{x \in \mathbb{Z}; 0 < x + 2 < 5\}$ ,  $G = \{x \in \mathbb{Z}; |x - 2| < 2\}$  e  $H = \{x \in \mathbb{Z}; x^2 \leq 1\}$ .

O conjunto  $(F - G) \cup H$  é:

a)  $\{-1, 0, 2\}$

c)  $\{0, 1, 2\}$

b)  $\{-1, 0, 1\}$

d)  $\{0, 1, 3\}$

291. (U.E.CE-91) Sejam  $\mathbb{Z}$  o conjunto dos números inteiros,

$M = \{x \in \mathbb{Z}; |2x - 3| = |x - 2|\}$ ,  $P = \{x \in \mathbb{Z}; |x + 2| = |3x - 4|\}$  e  $T = \{x \in \mathbb{Z}; |x - 3| \leq 2\}$ .

O conjunto  $(T - M) \cap (T - P)$  é:

a)  $\{1, 2, 4\}$

c)  $\{3, 4, 5\}$

b)  $\{2, 4, 5\}$

d)  $\{1, 2, 3\}$

292. (U.F.VIÇOSA-90) Quer-se que o número real  $x$  satisfaça simultaneamente as desigualdades  $3 < x < 8$  e  $|2x - b| < 5$ , onde  $b$  é constante. Para isso, o valor de  $b$  deve ser um número:

a) par negativo.

d) múltiplo de três.

b) irracional.

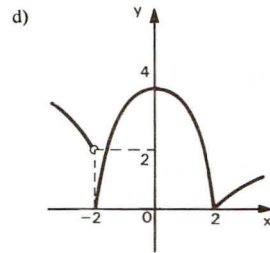
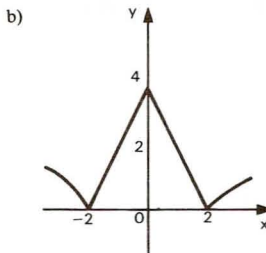
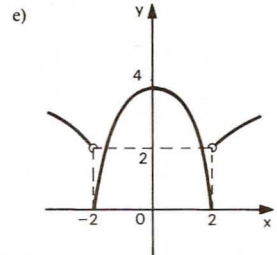
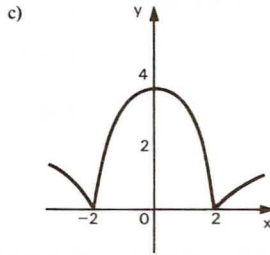
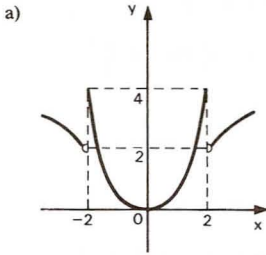
e) divisível por cinco.

c) ímpar positivo.

293. (U.MACK.-80) O gráfico da função  $f$  de  $\mathbb{R}$  em  $\mathbb{R}$ , dada por

$$f(x) = \begin{cases} \sqrt{2-x}, & \text{se } x < -2 \\ 4-x^2, & \text{se } |x| \leq 2 \\ \sqrt{x-2}, & \text{se } x > 2 \end{cases}$$

é melhor representado por:



294. (UNICAP-87) Seja  $S \subset \mathbb{R}$  o conjunto solução da desigualdade  $||x-1|-4| \leq 3$ . Assinale, dentre as alternativas abaixo, aquela que representa o conjunto  $S$ .

- a)  $[-6, 0] \cup [2, 8]$   
 b)  $[-3, 1] \cup [3, 7]$   
 c)  $[-4, 6] \cup [9, 13]$

- d)  $[-7, 2] \cup [3, 10]$   
 e)  $[-1, 2] \cup [3, 11]$

295. (PUC-RS-81) Dentre as proposições

- I -  $(\forall x \in \mathbb{R}) (x^2 \geq x)$   
 II -  $(\exists x \in \mathbb{R}) (x^2 = x)$   
 III -  $(\forall x \in \mathbb{R}) (|x| < 0)$   
 IV -  $(\exists x \in \mathbb{R}) (x^2 = 0)$

as falsas são:

- a) I e II  
 b) I e III  
 c) I e IV

- d) II e III  
 e) II e IV

296. (ITA-91) Se  $A = \{x \in \mathbb{R} : |x^2 + x + 1| \leq |x^2 + 2x - 3|\}$ , então temos:

a)  $A = \left[-2, \frac{1}{2}\right] \cup [4, +\infty[$

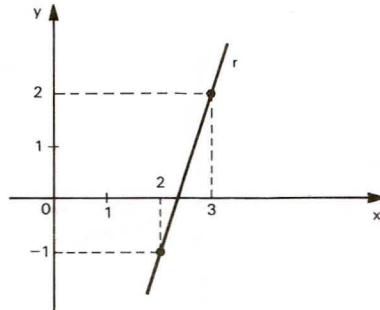
d)  $A = ]-\infty, -3] \cup [1, +\infty[$

b)  $A = \left[\frac{1}{2}, 4\right]$

e) n.d.a.

c)  $A = [-3, 1]$

297. (U.F.MG-92) Observe a figura.



A reta  $r$  é o gráfico de uma função  $g$ . Seja  $f$  a função dada por  $f(x) = |x - 1|$ . Pode-se afirmar que  $f(x) \leq g(x)$  tem como conjunto solução:

- a)  $\{x \in \mathbb{R} : x \leq 3\}$
- b)  $\{x \in \mathbb{R} : x \geq 3\}$
- c)  $\{x \in \mathbb{R} : x \leq 2\}$
- d)  $\emptyset$
- e)  $\mathbb{R}$

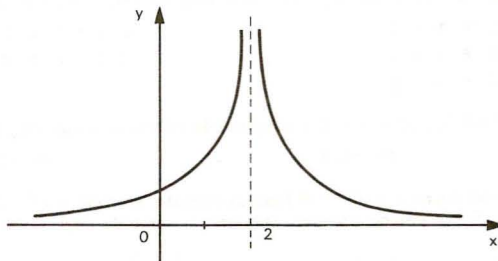
## Outras funções elementares

298. (CESGRANRIO-88) Resolvendo a inequação  $(4x^2 + 1) \cdot x^3 \cdot (5 - 3x) > 0$ , obtemos:

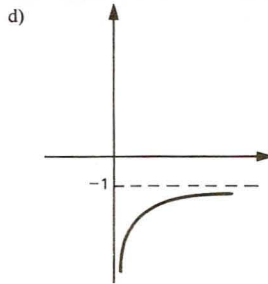
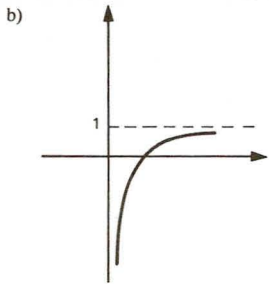
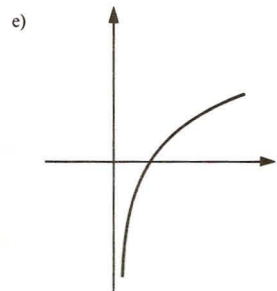
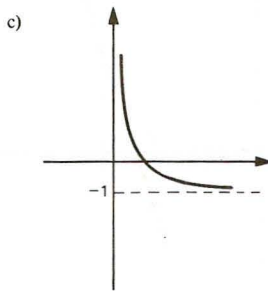
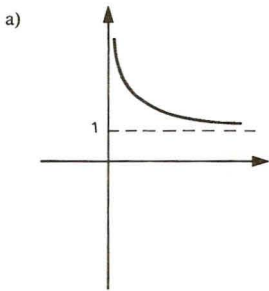
- a)  $0 < x < 4$
- b)  $\frac{5}{3} < x < 4$
- c)  $0 < x < \frac{5}{3}$
- d)  $x < 0$  ou  $x > \frac{5}{3}$
- e)  $x = 0$  ou  $x > \frac{5}{3}$

299. (U.MACK.-82) A função que melhor se adapta ao gráfico é:

- a)  $f(x) = \frac{-1}{(x + 2)}$
- b)  $f(x) = \frac{1}{(x - 2)}$
- c)  $f(x) = \frac{1}{(x + 2)}$
- d)  $f(x) = \frac{1}{(x + 2)^2}$
- e)  $f(x) = \frac{1}{(x - 2)^2}$



300. (EAESP-FGV-80) Assinale o gráfico correspondente à função  $y = 1 - \frac{1}{x}$ ,  $x > 0$ :



## Função composta – Função inversa

301. (PUC-MG-92) Se  $f(x) = \frac{1}{x-1}$ , o valor de  $x$ , de modo que  $f[f(x)] = 1$ , é:

- a) 1,0      b) 2,0      c) 1,5      d) -1,0      e) -1,5

302. (PUC-SP-80) Sejam as funções dadas por  $f(x) = 3x - 2$  e  $g(x) = 2x + 3$ . Se  $b = f(a)$ , então  $g(b)$  vale:

- a)  $6a - 1$       b)  $5a + 1$       c)  $3a - 2$       d)  $6a - 6$       e)  $5a - 2$

303. (U.F.VIÇOSA-90) A função  $f: \mathbb{R} \rightarrow \mathbb{R}$  é dada por  $f(x) = ax + b$ , com  $a > 0$ . Se  $f(f(x)) = x$ , então:

- a)  $a = 2$  e  $b = 0$       d)  $a = 2$  e  $b = 2$   
 b)  $a = 1$  e  $b = 0$       e)  $a = 1$  e  $b = 2$   
 c)  $a = 2$  e  $b = 1$

304. (U.F.GO-84) Se  $f(x) = x - 3$ , o conjunto de valores de  $x$  tais que  $f(x^2) = f(x)$  é:

- a)  $[0, 1]$       b)  $[-1, 0]$       c)  $\{1\}$       d)  $[-2, 3]$       e)  $[3, 4]$

305. (U.E.CE-80) Sejam  $f, g: \mathbb{R} \rightarrow \mathbb{R}$  funções definidas por  $f(x) = x^2 - 1$  e  $g(x) = 2x + 1$ . Então a função composta  $f \circ g$  assume o menor valor em um ponto do intervalo:

- a)  $(-1; 0)$       b)  $(0; 1)$       c)  $(\frac{1}{2}; 2)$       d)  $(-1; -\frac{1}{2})$



- 306.** (ITA-85) Considere as seguintes funções:  $f(x) = x - \frac{7}{2}$  e  $g(x) = x^2 - \frac{1}{4}$  definidas para todo  $x$  real. Então, a respeito da solução da inequação  $|(g \circ f)(x)| > (g \circ f)(x)$ , podemos afirmar que:
- a) nenhum valor de  $x$  real é solução.                      d) se  $x > 4$ , então  $x$  é solução.  
 b) se  $x < 3$ , então  $x$  é solução.                            e) se  $3 < x < 4$ , então  $x$  é solução.  
 c) se  $x > \frac{7}{2}$ , então  $x$  é solução.
- 307.** (F.C.M.STA.CASA-81) Seja  $f$  uma função linear, definida por  $f(x) = kx - l$ . Se  $f$  é crescente e  $f(f(2)) = 0$ , o valor de  $2^k$  é:
- a)  $2\sqrt{2}$                       b) 2                      c)  $\sqrt{2}$                       d)  $\frac{\sqrt{2}}{2}$                       e)  $\frac{1}{2}$
- 308.** (U.F.SE-84) Se a função  $f: \mathbb{R} \rightarrow \mathbb{R}$  é definida por  $f(x) = 2x$ , então  $f(f(x))$  é igual a:
- a)  $4x^2$                       b)  $4x$                       c)  $x$                       d)  $2x$                       e)  $2x^2$
- 309.** (U.F.PA-84) Dadas as funções  $f$  e  $g$  de  $\mathbb{R}$  em  $\mathbb{R}$  definidas por  $f(x) = x^2 - x$  e  $g(x) = x + l$ , qual das funções abaixo representa  $(f \circ g)(x)$ ?
- a)  $x^2 + 1$                       d)  $x^2 + 2x + 1$   
 b)  $x^2 - x + 1$                       e)  $x^2 + x$   
 c)  $x^2 - 1$
- 310.** (U.F.MG-87) Se  $g(x) = x^2 + x$  e  $f(x) = ax + b$ , então os valores positivos de  $a$ ,  $b$  e  $c$  tais que  $g(f(x)) = x^2 + 5x + c$  são:
- a)  $a = 1$ ,  $b = 3$ ,  $c = 12$                       d)  $a = 2$ ,  $b = 1$ ,  $c = 6$   
 b)  $a = 1$ ,  $b = 2$ ,  $c = 6$                       e)  $a = 2$ ,  $b = 2$ ,  $c = 6$   
 c)  $a = 1$ ,  $b = 2$ ,  $c = 4$
- 311.** (U.F.RS-82) Se  $f$  e  $g$  são funções definidas por  $f(x) = \frac{l-x}{l+x}$  e  $g(x) = \frac{l}{x}$ , então  $(f \circ g)(x) = f(g(x))$  é igual a:
- a)  $g(x)$                       b)  $-f(x)$                       c)  $f(x)$                       d)  $\frac{1}{f}(x)$                       e)  $(g \circ f)(x)$
- 312.** (U.F.MG-87) Sejam  $f$  e  $g$  funções reais de variável real dadas por  $f(x) = \frac{x-1}{x+2}$  e  $g(x) = \frac{l}{x(x-2)}$ . O maior subconjunto dos números reais onde pode ser definida a composta  $g \circ f$  é:
- a)  $\mathbb{R} - \{-5, 1\}$                       d)  $\mathbb{R} - \{-5, -2, 0, 1, 2\}$   
 b)  $\mathbb{R} - \{-5, -2, 1\}$                       e)  $\mathbb{R} - \{-2, 0, 2\}$   
 c)  $\mathbb{R} - \{0, 2\}$
- 313.** (EAESP-FGV-80) Seja  $f(x) = ax^3 + bx^3 + cx^2 + d$  uma função definida para todo  $x$  real. Para que  $f(x) = f(-x)$  qualquer que seja  $x$  real é necessário que:
- a)  $a = b$                       b)  $a = -b$                       c)  $a = b = 0$                       d)  $b = c = 0$                       e)  $a = c$
- 314.** (CESGRANRIO-83) Sejam  $f$  e  $g$  funções definidas em  $\mathbb{R}$  por  $f(x) = 2x + l$  e  $g(x) = x - 3$ . O valor de  $g[f(3)]$  é:
- a)  $-1$                       b) 1                      c) 2                      d) 3                      e) 4
- 315.** (U.F.PA-85) Dadas as funções:  $f(x) = \sqrt{x+3}$  e  $g(x) = x^2 - l$ , o valor de  $g \circ f(0)$  é:
- a) 0                      b) 1                      c)  $\sqrt{2}$                       d)  $\sqrt{3}$                       e) 2

316. (U.E.CE-82) Sejam  $f$  e  $g$  funções de  $\mathbb{R}$  em  $\mathbb{R}$  definidas por:

$$f(x) = x^2 - 1 \quad \text{e} \quad g(x) = 3x + 1$$

onde  $R$  é o conjunto dos números reais.

Então o valor de  $f(g(1)) + g(f(1))$  é:

- a) 15                      b) 16                      c) 17                      d) 18

317. (U.F.MG-89) Seja  $f$  uma função tal que  $f(x) = \frac{x}{4}(x-6)^2$ .

Pode-se, então, afirmar que o valor de  $f(4+h) + f(4-h)$  para  $h \in \mathbb{R}$  é dado por:

- a) 8                      b) 32                      c)  $2(h-2)^2$                       d)  $h^2 + 8$                       e)  $8(h+1)^2$

318. (VUNESP-88) Dada a função  $f(x) = x^2 - 8x + 15$ , definida nos reais, a afirmação *falsa* a respeito dela é:

- a) A função se anula para  $x = 3$  ou para  $x = 5$ .  
 b)  $f(-1) = 24$ .  
 c) O menor valor que  $f(x)$  atinge é  $-1$ .  
 d) Para  $x > 4$ , quando  $x$  cresce,  $f(x)$  também cresce.  
 e) Quando dobramos  $x$ ,  $f(x)$  também fica dobrada.

319. (ITA-90) Sejam as funções  $f$  e  $g$  dadas por:

$$f: \mathbb{R} \rightarrow \mathbb{R}, f(x) = \begin{cases} 1 & \text{se } |x| < 1 \\ 0 & \text{se } |x| \geq 1 \end{cases}$$

$$g: \mathbb{R} - \{1\} \rightarrow \mathbb{R}, g(x) = \frac{2x-3}{x-1}$$

Sobre a composta  $(f \circ g)(x) = f(g(x))$  podemos garantir que:

- a) se  $x \geq \frac{3}{2}$ ,  $f(g(x)) = 0$                       d) se  $1 < x \leq \frac{4}{3}$ ,  $f(g(x)) = 1$   
 b) se  $1 < x < \frac{3}{2}$ ,  $f(g(x)) = 1$                       e) n.d.a.  
 c) se  $\frac{4}{3} < x < 2$ ,  $f(g(x)) = 1$

320. (CESGRANRIO-82) Sejam  $A = \{1, 2, 3\}$  e  $f: A \rightarrow A$  definida por  $f(1) = 3$ ,  $f(2) = 1$  e  $f(3) = 2$ . O conjunto solução de  $f[f(x)] = 3$  é:

- a)  $\{1\}$                       b)  $\{2\}$                       c)  $\{3\}$                       d) vazio                      e)  $\{1, 2, 3\}$

321. (U.F.MG-87) Seja  $A = \{0, 1, 2, 3, 4\}$  e  $f: A \rightarrow A$  uma função dada por  $f(x) = x + 1$  se  $x \neq 4$  e  $f(4) = 1$ . O número  $x \in A$  tal que  $(f \circ f \circ f \circ f)(x) = 2$  é:

- a) 0                      b) 1                      c) 2                      d) 3                      e) 4

322. (PUC-SP-83) Se  $f(x) = 3x - 4$  e  $f(g(x)) = x + 4$ , então  $g(1)$  vale:

- a) -2                      b) 0                      c) 1                      d) 3                      e) 5

323. (ITA-92) Considere as funções:  $f: \mathbb{R}^* \rightarrow \mathbb{R}$ ,  $g: \mathbb{R} \rightarrow \mathbb{R}$  e  $h: \mathbb{R}^* \rightarrow \mathbb{R}$  definidas por:

$$f(x) = 3^x + \frac{1}{x}, \quad g(x) = x^2; \quad h(x) = \frac{81}{x}$$

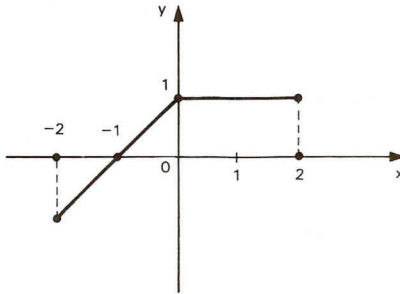
O conjunto dos valores de  $x$  em  $\mathbb{R}^*$  tais que  $(f \circ g)(x) = (h \circ f)(x)$  é subconjunto de:

- a)  $[0, 3]$                       b)  $[3, 7]$                       c)  $[-6, 1]$                       d)  $[-2, 2]$                       e) n.d.a.

324. (CESGRANRIO-88) Seja  $f$  a função definida no intervalo fechado  $[-2, 2]$ , cujo gráfico está indicado na figura. O valor de

$f[f(2)] - f[f(-2)]$  é:

- a) -2  
b) -1  
c) 0  
d) 1  
e) 2

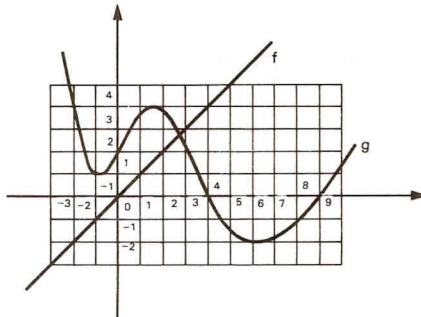


325. (VUNESP-90) Na figura estão representados os gráficos de uma função polinomial  $g$ , e da função  $f(x) = x$ . A partir da figura pode-se determinar que

$$(g(6))^2 - g(g(6))$$

vale, aproximadamente:

- a) -2  
b) 4  
c) 0  
d) -1  
e) 1



326. (U.F.MG-81) Sendo  $P(x) = ax + b$ , o valor da expressão  $P(x+1) - P(x)$  é:

- a)  $a+1$       b)  $ax$       c)  $a(x+1)$       d)  $a+b$       e)  $a$

327. (UNICAP-87) Sejam  $f: \mathbb{R} \rightarrow \mathbb{R}$  e  $g: \mathbb{R} \rightarrow \mathbb{R}$  definidas respectivamente por  $f(x) = ax + b$ ,  $a \in \mathbb{R}$ ,  $b \in \mathbb{R}$ ,  $a \neq 0$ , e  $g(x) = [f(x+1) - f(x)] \cdot x$ . Então podemos afirmar que:

- a)  $f(x) = g(x)$ ,  $\forall x \in \mathbb{R}$ .  
b)  $f(g(x)) = g(f(x))$ ,  $\forall x \in \mathbb{R}$ .  
c) Existe um único valor  $x \in \mathbb{R}$  tal que  $f(x) = g(x)$ .  
d) Os gráficos de  $f$  e de  $g$  são retas paralelas.  
e) O gráfico de  $f$  é uma reta enquanto o gráfico de  $g$  é uma parábola.

328. (FATEC-88) Seja a função  $f$  tal que  $f: (\mathbb{R} - \{-2\}) \rightarrow \mathbb{R}$ , onde  $f(x) = \frac{x-2}{x+2}$ . O número real  $x$  que satisfaz

$f(f(x)) = -1$  é:

- a) -4      b) -2      c) 2      d) 4      e) n.d.a.

329. (U.F.MG-90) Sejam  $f: \mathbb{R} \rightarrow \mathbb{R}$  e  $g: \mathbb{R} - \{0\} \rightarrow \mathbb{R}$  funções tais que  $f(x) = x + 1$  e  $g(x) = \frac{x^2 + x}{x}$ .

Então, pode-se afirmar que:

- |  |   |
|--|---|
| a) $f = g$   | d) $f(x) > 0$ e $g(x) > 0$ , $\forall x > -1$ |
| b) $g \circ f$ está definida em $\mathbb{R}$             | e) $f(x) < 0$ e $g(x) < 0$ , $\forall x < -1$ |
| c) $(f \circ g)(x) = x + 2$ , $\forall x \in \mathbb{R}$ |   |

330. (U.F.BA-81) A igualdade  $f(x) = f(x + 1)$ ,  $\forall x$ ,  $x \in \mathbb{R}$  é verificada pela função:

- |                |                 |
|----------------|-----------------|
| a) linear.     | d) exponencial. |
| b) constante.  | e) logarítmica. |
| c) quadrática. |                 |

331. (U.C.MG-81) Se  $P(x - 1) = 2x + 1$ , então  $P(x)$  é:

- |             |            |            |             |             |
|-------------|------------|------------|-------------|-------------|
| a) $2x - 3$ | b) $x - 3$ | c) $x - 2$ | d) $2x - 1$ | e) $2x + 3$ |
|-------------|------------|------------|-------------|-------------|

332. (U.F.MG-89) Seja  $f$  uma função tal que  $f(x + 2) = x^2 - 4$ . Pode-se, então, afirmar que  $f(x)$  é dada por:

- |               |               |
|---------------|---------------|
| a) $x^2 - 2x$ | d) $x^2 + 4x$ |
| b) $x^2 - 4x$ | e) $x + 2$    |
| c) $x^2 + 4$  |               |

333. (U.F.GO-84) Se  $f: \mathbb{Z} \rightarrow \mathbb{Z}$  é tal que  $f(n + 1) = n - 1$ , então o valor de  $f(n - 1)$  é:

- |            |        |            |            |            |
|------------|--------|------------|------------|------------|
| a) $n + 1$ | b) $n$ | c) $n - 1$ | d) $n - 2$ | e) $n - 3$ |
|------------|--------|------------|------------|------------|

334. (U.E.BA-84) Seja  $f$  uma função decrescente do 1º grau e tal que  $f(3) = 5$  e  $f(f(1)) = 1$ . O gráfico de  $f$  corta o eixo dos  $x$  no ponto de abscissa:

- |         |        |        |                  |                  |
|---------|--------|--------|------------------|------------------|
| a) $-1$ | b) $2$ | c) $8$ | d) $\frac{2}{3}$ | e) $\frac{1}{2}$ |
|---------|--------|--------|------------------|------------------|

335. (CESGRANRIO-80) A função  $f$  satisfaz a relação

$$f(x + 1) = x f(x), x > 0.$$

Se  $f\left(\frac{1}{2}\right) = \sqrt{\pi}$ , o valor de  $f\left(\frac{3}{2}\right)$  é:

- |                           |                  |                     |            |                 |
|---------------------------|------------------|---------------------|------------|-----------------|
| a) $\frac{\sqrt{\pi}}{2}$ | b) $2\sqrt{\pi}$ | c) $\frac{3\pi}{2}$ | d) $\pi^2$ | e) $\sqrt{\pi}$ |
|---------------------------|------------------|---------------------|------------|-----------------|

336. (U.F.MG-82) Uma função  $f: \mathbb{R} \rightarrow \mathbb{R}$  é tal que  $f(5x) = 5f(x)$  para todo número real  $x$ . Se  $f(25) = 75$ , então o valor de  $f(1)$  é:

- |      |      |       |       |       |
|------|------|-------|-------|-------|
| a) 3 | b) 5 | c) 15 | d) 25 | e) 45 |
|------|------|-------|-------|-------|

337. (F.C.M.STA.CASA-81) Se  $f$  é uma função tal que  $f(a + b) = f(a) \cdot f(b)$ , quaisquer que sejam os números reais  $a$  e  $b$ , então  $f(3x)$  é igual a:

- |                   |                  |
|-------------------|------------------|
| a) $3 \cdot f(x)$ | d) $[f(x)]^3$    |
| b) $3 + f(x)$     | e) $f(3) + f(x)$ |
| c) $f(x^3)$       |                  |

338. (U.MACK.-81) Se  $f(g(x)) = 2x^2 - 4x + 4$  e  $f(x - 2) = x + 2$ , então o valor de  $g(2)$  é:

- |         |        |        |        |         |
|---------|--------|--------|--------|---------|
| a) $-2$ | b) $2$ | c) $0$ | d) $6$ | e) $14$ |
|---------|--------|--------|--------|---------|

339. (U.F.RN-83) Seja  $f$  uma função real de variável real. Se  $f(x + 3) = x^2 + 2$ , então  $f(-1)$  é igual a:

- |       |       |       |       |       |
|-------|-------|-------|-------|-------|
| a) 12 | b) 18 | c) 24 | d) 30 | e) 36 |
|-------|-------|-------|-------|-------|

340. (PUC-MG-92) Dados  $g(x) = 5x^2 + 3$  e  $g \circ f(x) = 5x - 7$ , o domínio de  $f(x)$  é:

- a)  $\{x \in \mathbb{R} \mid x \geq 2\}$
- b)  $\left\{x \in \mathbb{R} \mid 0 < x \leq \frac{3}{5}\right\}$
- c)  $\left\{x \in \mathbb{R} \mid x \geq \frac{7}{5}\right\}$
- d)  $\{x \in \mathbb{R} \mid x \leq 2\}$
- e)  $\{x \in \mathbb{R} \mid x \leq -2\}$

341. (PUC-MG-92) Duas funções  $f$  e  $g$  são tais que  $f(x) = x - 1$  e  $|f(g(x))| = 2x + 2$ . Então  $g(1)$  é igual a:

- a) 5
- b) 4
- c) 3
- d) 2
- e) 1

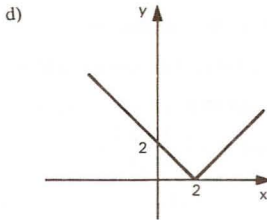
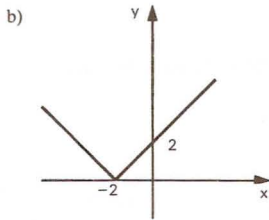
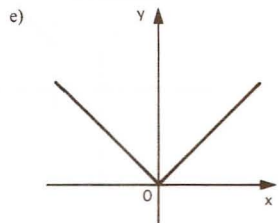
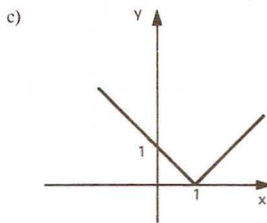
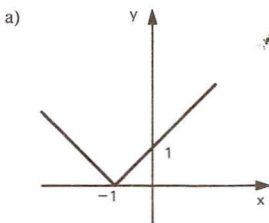
342. (U.C.SALVADOR-91) Sejam  $f$  e  $g$  funções de  $\mathbb{R}$  em  $\mathbb{R}$  tais que  $f(x) = 2x - 3$  e  $f(g(x)) = -4x + 1$ . Nestas condições,  $g(-1)$  é igual a:

- a) -5
- b) -4
- c) 0
- d) 4
- e) 5

343. (CESGRANRIO-87) Se  $f(n + 1) = \frac{2f(n) + 1}{2}$ , para  $n = 1, 2, 3, \dots$  e se  $f(1) = 2$ , então  $f(101)$  é:

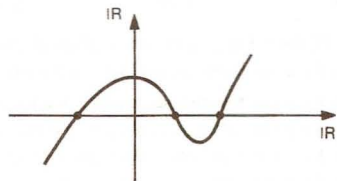
- a) 49
- b) 50
- c) 51
- d) 52
- e) 53

344. (U.E.BA-84) Seja  $f$  a função de  $\mathbb{R}$  em  $\mathbb{R}$  definida por  $f(x) = 1 + x$ . O gráfico da função real  $g$ , definida por  $g(x) = |f(f(x))|$  é:



345. (PUC-RJ-81) Se a função  $f : \mathbb{R} \rightarrow \mathbb{R}$  tem o gráfico abaixo e se  $I_{\mathbb{R}}$  é a função identidade de  $\mathbb{R}$ , podemos afirmar que:

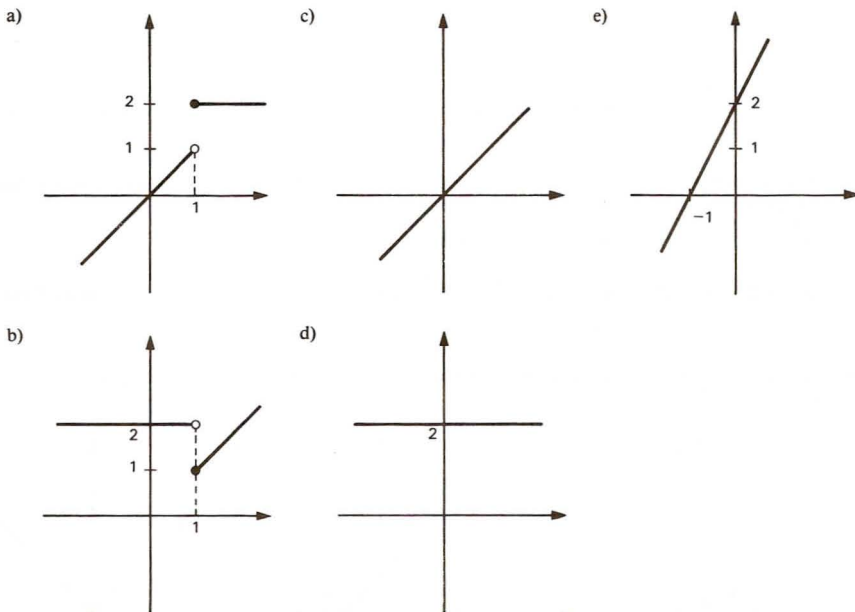
- a) existe uma função  $g : \mathbb{R} \rightarrow \mathbb{R}$  tal que  $g \circ f = I_{\mathbb{R}}$
- b) existe uma função  $g : \mathbb{R} \rightarrow \mathbb{R}$  tal que  $f \circ g = I_{\mathbb{R}}$
- c) existe uma função  $g : \mathbb{R} \rightarrow \mathbb{R}$  tal que  $f \circ g = I_{\mathbb{R}}$  e  $g \circ f = I_{\mathbb{R}}$
- d) a função  $f$  é tal que  $f \circ f = I_{\mathbb{R}}$
- e) a função  $f$  é tal que  $f \circ f = f$ .





346. (U.F.BA-81) Sendo  $f(x) = 2$  e  $g(x) = x$ , a representação gráfica de

$$h(x) = \begin{cases} f(g(x)) & \text{para } x \geq 1 \\ g(f(x)) & \text{para } x < 1 \end{cases} \quad \text{é:}$$



347. (ITA-83) Sejam três funções  $f, u, v : \mathbb{R} \rightarrow \mathbb{R}$  tais que:

$$f\left(x + \frac{1}{x}\right) = f(x) + \frac{1}{f(x)} \quad \text{para todo } x \text{ não nulo e } (u(x))^2 + (v(x))^2 = 1 \text{ para todo } x \text{ real.}$$

Sabendo-se que  $x_0$  é um número real tal que  $u(x_0) \cdot v(x_0) \neq 0$  e

$$f\left| \frac{1}{u(x_0)} \cdot \frac{1}{v(x_0)} \right| = 2, \text{ o valor de } f\left| \frac{u(x_0)}{v(x_0)} \right| \text{ é:}$$

- a) -1                      b) 1                      c) 2                      d)  $\frac{1}{2}$                       e) -2

348. (U.F.VIÇOSA-89) Sejam os conjuntos  $A = \{1, 2, 3\}$  e  $B = \{4, 5, 6, 7\}$ .

O número máximo de funções injetoras que podem ser definidas de  $A$  em  $B$  é:

- a) 20                      b) 24                      c) 21                      d) 22                      e) 23

349. (U.F.PE-84) Sejam  $f$  e  $g$  funções de  $\mathbb{Z}$  em  $\mathbb{Z}$ . Assinale, dentre as alternativas abaixo, aquela que é verdadeira:

- a) Se  $f$  e  $g$  são injetivas, então  $f + g$  é injetiva.  
 b) Se  $f$  e  $g$  são sobrejetivas, então  $f + g$  é sobrejetiva.  
 c) Se  $f$  e  $g$  são injetivas, então  $f \circ g$  é injetiva.  
 d) Se  $f$  e  $g$  são injetivas, então o produto  $fg$  é injetiva.  
 e) Se  $f$  e  $g$  são sobrejetivas, então o produto  $fg$  é sobrejetiva.

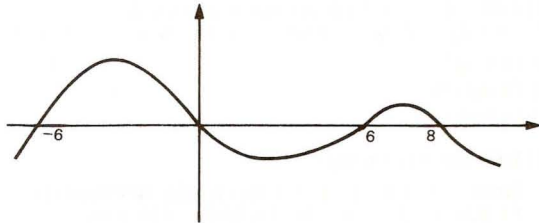
350. (F.C.M.STA.CASA-82) Seja  $f$  uma função de  $\mathbb{R}$  em  $\mathbb{R}$ , definida por  $f(x) = \begin{cases} 0, & \text{se } x \text{ é par} \\ 1, & \text{se } x \text{ é ímpar} \end{cases}$

Nestas condições, pode-se afirmar que:

- a)  $f$  é injetora e não sobrejetora.  
 b)  $f$  é sobrejetora e não injetora.  
 c)  $f(-5) \cdot f(2) = 1$ .  
 d)  $f(f(x)) = 0, \forall x \in \mathbb{R}$ .  
 e) o conjunto imagem de  $f$  é  $(0, 1)$ .
351. (ITA-89) Sejam  $A$  e  $B$  subconjuntos de  $\mathbb{R}$ , não vazios, possuindo  $B$  mais de um elemento. Dada uma função  $f: A \rightarrow B$ , definimos  $L: A \rightarrow A \times B$  por  $L(a) = (a, f(a))$ , para todo  $a \in A$ . Podemos afirmar que:
- a) A função  $L$  sempre será injetora.  
 b) A função  $L$  sempre será sobrejetora.  
 c) Se  $f$  for sobrejetora, então  $L$  também o será.  
 d) Se  $f$  não for injetora, então  $L$  também não o será.  
 e) Se  $f$  for bijetora, então  $L$  será sobrejetora.
352. (U.MACK-82) Uma função  $f$  é definida em  $A$  e tem imagem em  $B$ . Sabe-se que o conjunto  $A$  tem  $2K - 2$  elementos e o conjunto  $B$  tem  $K + 3$  elementos. Se  $f$  é injetora, então:
- a)  $1 < K \leq 5$   
 b)  $5 < K \leq 7$   
 c)  $7 < K \leq 8$   
 d)  $8 < K < 10$   
 e)  $K \geq 10$

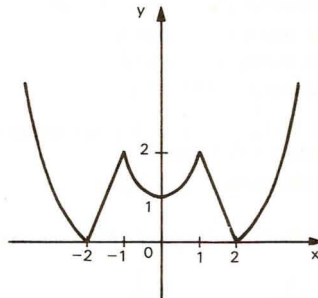
353. (U.F.BA-81) Sendo  $f$  a função esboçada ao lado, tem-se:

- a)  $f$  é par.  
 b)  $f$  é injetora.  
 c)  $f$  é crescente em  $[0; 6]$ .  
 d)  $f\left(\frac{1}{\sqrt{3}}\right) < 0$ .  
 e)  $f(0) > f(6)$ .



354. (U.FORTALEZA-82) Pelo gráfico da função  $f: \mathbb{R} \rightarrow \mathbb{R}$  abaixo, podemos garantir que:

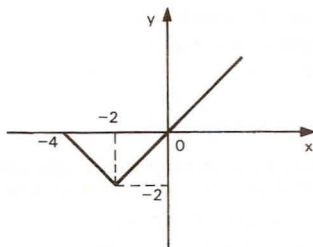
- a)  $f$  é injetiva e seu conjunto de valores (conjunto imagem) é  $[0; 2]$ .  
 b)  $f$  é sobrejetiva e o número  $\frac{3}{2}$  é imagem de exatamente quatro elementos distintos.  
 c)  $f$  não é injetiva e seu conjunto de valores é  $[0; \infty)$ .  
 d)  $f$  não é sobrejetiva, mas o número  $\frac{3}{2}$  é imagem de somente quatro reais distintos.



355. (U.MACK.-81) Seja  $y = f(x)$  uma função definida no intervalo  $[-4; +\infty)$  pelo gráfico.

Considere a função  $g : [-5; +\infty) \rightarrow \mathbb{R}$  definida por  $g(x) = 1 - f(x + 2)$ . Podemos afirmar que:

- a)  $g(-3) < 0$  e  $f(-3) \cdot f(-2) > 0$ .
- b)  $g(-5) > 0$  e  $f(\sqrt{5}) < 0$ .
- c)  $g(0) = 1$  e  $f$  não é função injetora.
- d)  $f(\pi) = \pi$  e  $g$  não é função sobrejetora.
- e) nenhuma das anteriores está correta.



356. (U.F.PE-83) Sejam  $f$  e  $g$  funções de  $\mathbb{N}$  em  $\mathbb{N}$  definidas por:

$$f(n) = \sum_{i=1}^{n=364} i \quad \text{e} \quad g(n) = \frac{n(n+1)}{2}$$

Assinale então a alternativa falsa:

- a) a função  $f$  é igual à função  $g$ .
- b)  $f$  é injetiva.
- c)  $4f(n)g(n) = n^4 + 2n^3 + n^2$ .
- d)  $f(n) + g(n) = n(n+1)$ .
- e)  $g$  é sobrejetiva.

357. (ITA-80) Sejam  $A$  e  $B$  subconjuntos não vazios de  $\mathbb{R}$  e  $f : A \rightarrow B$ ,  $g : B \rightarrow A$  duas funções tais que  $f \circ g = I_B$ , onde  $I_B$  é a função identidade em  $B$ . Então podemos afirmar que:

- a)  $f$  é sobrejetora.
- b)  $f$  é injetora.
- c)  $f$  é bijetora.
- d)  $g$  é injetora e par.
- e)  $g$  é bijetora e ímpar.

358. (ITA-85) Dadas as sentenças:

- 1 - Sejam  $f : X \rightarrow Y$  e  $g : Y \rightarrow X$  duas funções satisfazendo  $(g \circ f)(x) = x$ , para todo  $x \in X$ . Então  $f$  é injetiva, mas  $g$  não é necessariamente sobrejetiva.
- 2 - Seja  $f : X \rightarrow Y$  uma função injetiva. Então,  $f(A) \cap f(B) = f(A \cap B)$ , onde  $A$  e  $B$  são dois subconjuntos de  $X$ .
- 3 - Seja  $f : X \rightarrow Y$  uma função injetiva. Então, para cada subconjunto  $A$  de  $X$ ,  $f(A^C) \subset (f(A))^C$  onde  $A^C = \{x \in X \mid x \notin A\}$  e  $(f(A))^C = \{x \in Y \mid x \notin f(A)\}$

podemos afirmar que está (estão) correta(s):

- a) as sentenças nº 1 e nº 2.
- b) as sentenças nº 2 e nº 3.
- c) apenas a sentença nº 1.
- d) as sentenças nº 1 e nº 3.
- e) todas as sentenças.

359. (U.F.RS-82) Se  $f : \mathbb{R} \rightarrow \mathbb{R}$  é uma função e  $\{(x, 2) \mid x \in \mathbb{R}\} \cap \{(x, f(x)) \mid x \in \mathbb{R}\}$  contém mais de um elemento, então  $f$  não é:

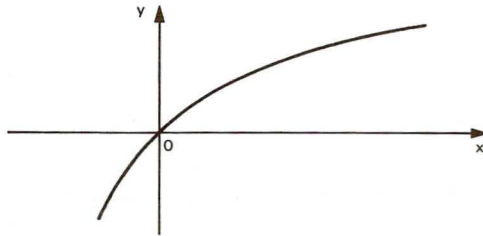
- a) sobrejetora.
- b) injetora.
- c) constante.
- d) periódica.
- e) quadrática.

360. (U.F.RS-84) As funções  $f$  e  $f^{-1}$  são inversas. Se  $f$  é definida por  $f(x) = \frac{1}{x-3}$ , então  $f^{-1}(x)$  é igual a:

- a)  $\frac{1}{x+3}$
- b)  $\frac{1}{x} + 3$
- c)  $\frac{1}{x} - 3$
- d)  $x - 3$
- e)  $3 - x$

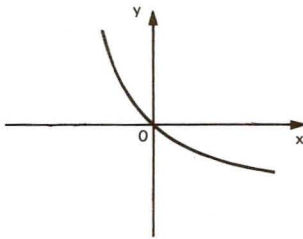
361. (U.F.VIÇOSA-89) Considere a função  $f$  definida por  $f(x) = 10x + 3$ ,  $x \in \mathbb{R}$ . Seja  $g$  a função inversa de  $f$ . Então,  $g(-7)$  é:
- a) -1                      b) 1                      c) 3                      d) -2                      e) 2
362. (U.F.MG-90) O valor de  $a$ , para que a função inversa de  $f(x) = 3x + a$  seja  $g(x) = \frac{x}{3} - 1$ , é:
- a) -3                      b)  $-\frac{1}{3}$                       c)  $\frac{1}{3}$                       d) 1                      e) 3
363. (U.F.PR-82) Dada a função  $g$  definida por  $g(x) = x + 4$  para todo valor real de  $x$ , então a função  $g^{-1}$ , inversa de  $g$ , é definida por:
- a)  $g^{-1}(x) = x^{-1} - 4$                       d)  $g^{-1}(x) = x - 4$   
 b)  $g^{-1}(x) = x^{-1} + 4$                       e)  $g^{-1}(x) = \{g(x)\}^{-1}$   
 c)  $g^{-1}(x) = \frac{1}{x + 4}$
364. (U.F.PELOTAS-83) Se  $f$  é uma função de  $\mathbb{R}$  em  $\mathbb{R}$ , definida por  $f(x) = 2x - 1$ , então  $f^{-1}(-1)$  é igual a:
- a) -3                      b) -1                      c) 0                      d) 1                      e) 3
365. (U.E.BA-84) Seja a função  $f: \mathbb{R} - \frac{1}{3} \rightarrow B \subset \mathbb{R}$  definida por  $f(x) = \frac{x}{3x - 1}$ . Se  $f$  admite inversa, então o conjunto  $B$  é:
- a)  $\mathbb{R}$                       d)  $\mathbb{R} - \left\{-\frac{1}{3}\right\}$   
 b)  $\mathbb{R}^*$                       e)  $\mathbb{R} - \{3\}$   
 c)  $\mathbb{R} - \left\{\frac{1}{3}\right\}$
366. (U.E.CE-81) Sejam  $f(x) = x^2$  para  $x > 0$  e  $g(x)$  a inversa de  $f$ , então o valor de  $f(g(4)) + g(f(4))$  está no intervalo:
- a)  $[0; 6)$                       b)  $[6; 12)$                       c)  $[12; 18)$                       d)  $[18; 24)$
367. (U.F.RS-81) A função inversa de  $f: (0; 1) \rightarrow \left(\frac{1}{2}; 1\right)$  definida por  $f(x) = \frac{1}{x + 1}$ , a cada  $x$  de seu domínio faz corresponder:
- a)  $x + 1$                       b)  $x - 1$                       c)  $\frac{x + 1}{x - 1}$                       d)  $\frac{1 - x}{x}$                       e)  $\frac{1 + x}{x}$
368. (U.F.MG-90) A função inversa de  $f: (-\infty, 0] \rightarrow [0, +\infty)$  tal que  $f(x) = x^2$  é a função  $g: [0, +\infty) \rightarrow (-\infty, 0]$  definida por:
- a)  $g(x) = \sqrt{x}$   
 b)  $g(x) = -\sqrt{x}$   
 c)  $g(x) = x^2$   
 d)  $g(x) = -x^2$   
 e)  $g(x) = |x|$
369. (U.F.CE-92) Seja  $f: \mathbb{R} \rightarrow \mathbb{R}$  uma função definida por  $f(x) = mx + p$ . Se o gráfico de  $f$  passa pelos pontos  $P_1(0, 4)$  e  $P_2(3, 0)$ , então o gráfico de  $f^{-1}$  passa pelo ponto:
- a)  $(8, -3)$                       b)  $(8, -2)$                       c)  $(8, 2)$                       d)  $(8, 3)$

370. (CESESP-85) Seja  $f: \mathbb{R} \rightarrow \mathbb{R}$  a função dada pelo gráfico seguinte:

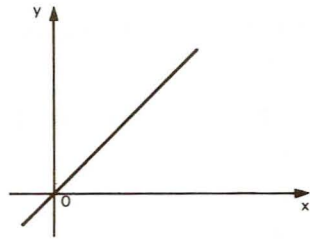


Assinale a alternativa que corresponde ao gráfico da função inversa de  $f$ :

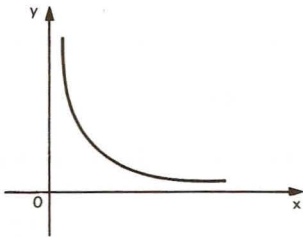
a)



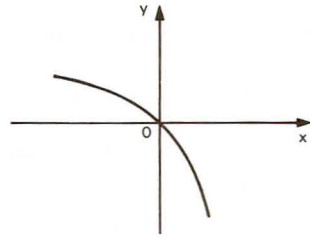
d)



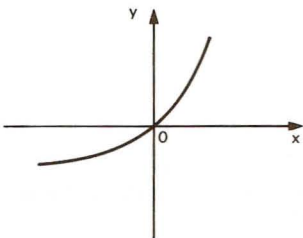
b)



e)

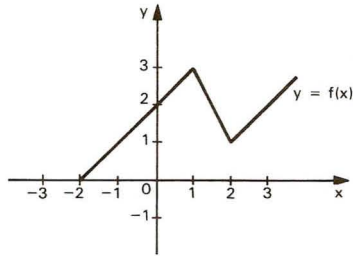


c)

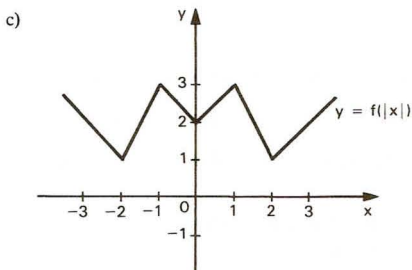
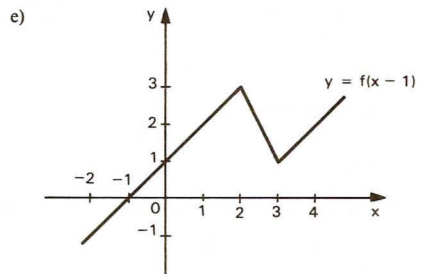
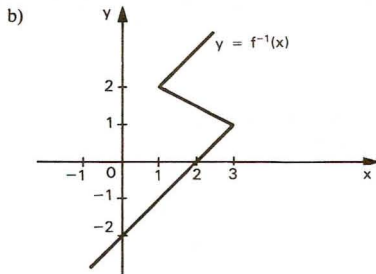
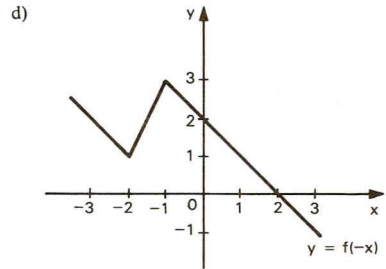
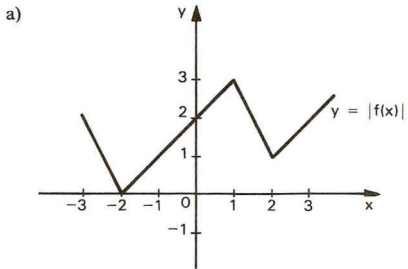




371. (CEESP-86) Considere a função representada no gráfico abaixo:



Assinale a alternativa falsa.



372. (FATEC-87) Seja a função  $f: \mathbb{R} \rightarrow \mathbb{R}$  definida por  $f(x) = 3x + 4$  e  $f^{-1}$  sua inversa. Os gráficos de  $f$  e  $f^{-1}$ :
- são coincidentes.
  - não têm pontos comuns.
  - interceptam-se em dois pontos.
  - interceptam-se somente no ponto  $(-2, -2)$ .
  - interceptam-se somente no ponto  $\left[-\frac{2}{3}, -\frac{2}{3}\right]$
373. (ITA-85) Seja  $f(x) = \frac{e^x - e^{-x}}{e^x + e^{-x}}$  definida em  $\mathbb{R}$ . Se  $g$  for a função inversa de  $f$ , o valor de  $e^g \left(\frac{7}{25}\right)$  será:
- $\frac{4}{3}$
  - $\frac{7e}{25}$
  - $\log_e \frac{25}{7}$
  - $e \left(\frac{7}{25}\right)^2$
  - nenhuma das respostas anteriores
374. (U.F.CE-92) Seja  $P$  o conjunto dos números naturais primos enumerados em ordem crescente e  $\mathbb{N}^*$  o conjunto dos inteiros positivos. Defina a função  $f$  de  $\mathbb{N}^*$  em  $P$  pondo  $f(n)$  igual ao  $n$ -ésimo número primo de  $P$ . Sobre  $f$  e sua inversa  $f^{-1}$ , podemos afirmar:
- $f^{-1}(11) < f^{-1}(7)$
  - $f^{-1}(3) + f^{-1}(5)$  é um elemento de  $P$ .
  - $f^{-1}(7)$  é um elemento de  $P$ .
  - $f^{-1}(13) = 5$ .
  - $f(7) \cdot f(1) = 17$ .
375. (CESGRANRIO-83) Dados  $P = \{x \in \mathbb{Z} \mid 0 \leq x \leq 50\}$  e  $Q = \{y \in \mathbb{Z} \mid 0 \leq y \leq 9\}$  definimos  $f: P \rightarrow Q$  por  $f(x) =$  algarismo das unidades do número  $x$ . Então o número de elementos do conjunto  $f^{-1}\{3\}$  é:
- 5
  - 4
  - 3
  - 2
  - 1
376. (UNICAP-87) Seja  $f: [1, +\infty) \rightarrow [-3, +\infty)$  a função definida por  $f(x) = 3x^2 - 6x$ . Se  $g: [-3, +\infty) \rightarrow [1, +\infty)$  é a função inversa de  $f$ , então  $[g(6) - g(3)]^2$  é igual a:
- 5
  - 1
  - $5 + 2\sqrt{6}$
  - $-5 + 2\sqrt{6}$
  - $5 - 2\sqrt{6}$
377. (ITA-88) Seja  $f(x) = \log_2(x^2 - 1)$ ,  $\forall x \in \mathbb{R}, x < -1$ . A lei que define a inversa de  $f$  é:
- $\sqrt{1 + 2^y}, \forall y \in \mathbb{R}$
  - $-\sqrt{1 + 2^y}, \forall y \in \mathbb{R}$
  - $1 - \sqrt{1 + 2^y}, \forall y \in \mathbb{R}$
  - $-\sqrt{1 - 2^y}, \forall y \in \mathbb{R}, y \leq 0$
  - $1 + \sqrt{1 + 2^y}, \forall y \in \mathbb{R}, y \leq 0$
378. (ITA-91) Considere as afirmações:
- Se  $f: \mathbb{R} \rightarrow \mathbb{R}$  é uma função par e  $g: \mathbb{R} \rightarrow \mathbb{R}$  uma função qualquer, então a composição  $g \circ f$  é uma função par.
  - Se  $f: \mathbb{R} \rightarrow \mathbb{R}$  é uma função par e  $g: \mathbb{R} \rightarrow \mathbb{R}$  uma função ímpar, então a composição  $f \circ g$  é uma função par.
  - Se  $f: \mathbb{R} \rightarrow \mathbb{R}$  é uma função ímpar e inversível, então  $f^{-1}: \mathbb{R} \rightarrow \mathbb{R}$  é uma função ímpar.
- Então:
- apenas a afirmação (I) é falsa.
  - apenas as afirmações (I) e (II) são falsas.
  - apenas a afirmação (III) é verdadeira.
  - todas as afirmações são falsas.
  - n.d.a.

379. (ITA-90) Seja a função  $f: \mathbb{R} - \{2\} \rightarrow \mathbb{R} - \{3\}$  definida por  $f(x) = \frac{2x-3}{x-2} + 1$ .

Sobre sua inversa podemos garantir que:

- a) não está definida, pois  $f$  não é injetora.
- b) não está definida, pois  $f$  não é sobrejetora.
- c) está definida por  $f^{-1}(y) = \frac{y-2}{y-3}$ ,  $y \neq 3$ .
- d) está definida por  $f^{-1}(y) = \frac{y+5}{y-3} - 1$ ,  $y \neq 3$ .
- e) está definida por  $f^{-1}(y) = \frac{2y-5}{y-3}$ ,  $y \neq 3$ .

380. (ITA-88) Seja  $f: \mathbb{R} \rightarrow \mathbb{R}$  uma função estritamente decrescente, isto é, quaisquer  $x$  e  $y$  reais com  $x < y$  tem-se  $f(x) > f(y)$ . Dadas as afirmações:

- I —  $f$  é injetora.
- II —  $f$  pode ser uma função par.
- III — Se  $f$  possui inversa, então sua inversa também é estritamente decrescente.

Podemos assegurar que:

- a) apenas as afirmações I e III são verdadeiras.
- b) apenas as afirmações II e III são falsas.
- c) apenas a afirmação I é falsa.
- d) todas as afirmações são verdadeiras.
- e) apenas a afirmação II é verdadeira.

381. (ITA-90) Seja  $f: \mathbb{R} \rightarrow \mathbb{R}$  a função definida por

$$f(x) = \begin{cases} x + 2, & \text{se } x \leq -1 \\ x^2, & \text{se } -1 < x \leq 1 \\ 4, & \text{se } x > 1 \end{cases}$$

Lembrando que se  $A \subset \mathbb{R}$  então  $f^{-1}(A) = \{x \in \mathbb{R} : f(x) \in A\}$ , considere as afirmações:

- (I)  $f$  não é injetora e  $f^{-1}(\{3, 5\}) = \{\emptyset\}$ .
- (II)  $f$  não é sobrejetora e  $f^{-1}(\{3, 5\}) = f^{-1}(\{2, 6\})$ .
- (III)  $f$  é injetora e  $f^{-1}(\{0, 4\}) = [-2, +\infty[$ .

Então podemos garantir que:

- a) Apenas as afirmações II e III são falsas.
- b) As afirmações I e III são verdadeiras.
- c) Apenas a afirmação II é verdadeira.
- d) Apenas a afirmação III é verdadeira.
- e) Todas as afirmações são falsas.

382. (ITA-92) Dadas as funções  $f: \mathbb{R} \rightarrow \mathbb{R}$  e  $g: \mathbb{R} \rightarrow \mathbb{R}$ , ambas estritamente decrescentes e sobrejetoras, considere  $h = f \circ g$ . Então podemos afirmar que:

- a)  $h$  é estritamente crescente, inversível e sua inversa é estritamente crescente.
- b)  $h$  é estritamente decrescente, inversível e sua inversa é estritamente crescente.
- c)  $h$  é estritamente crescente mas não é necessariamente inversível.
- d)  $h$  é estritamente crescente, inversível e sua inversa é estritamente decrescente.
- e) n.d.a.

## Apêndice I — Equações irracionais

383. (PUC-SP-82) A solução da equação  $x - \sqrt{2x+2} = 3$  é:  
a) 1                      b) -1                      c) 2                      d) 3                      e) 7
384. (U.E.LONDRINA-84) O conjunto solução da equação  $x - I = \sqrt{x+1I}$ , em  $\mathbb{R}$ , está contido no intervalo:  
a)  $]-\infty; 0]$                       b)  $[-3; 2]$                       c)  $[-2; 5[$                       d)  $]3; 6]$                       e)  $[6; +\infty[$
385. (PUC-SP-84) As raízes de  $\sqrt[3]{x^2 - x - I} = x - I$  estão no intervalo:  
a)  $[-2; -1]$                       b)  $[-1; 0]$                       c)  $[0; 3]$                       d)  $]3; 7]$                       e)  $]7; +\infty[$
386. (U.E.CE-82) A soma das raízes da equação  $\sqrt[3]{x^2} - 2\sqrt[3]{x} - 15 = 0$  é:  
a) 98                      b) 97                      c) 96                      d) 95
387. (FGV-88) A soma das raízes da equação  $\sqrt{x^2} + \sqrt{(x-I)^2} = 2$  é:  
a)  $3/2$                       b) -1                      c)  $1/2$                       d) 1                      e)  $-1/2$
388. (U.C.MG-81) O produto das raízes da equação  $\sqrt{3x+I} = I + \sqrt{2x-I}$  é:  
a) -5                      b) 5                      c) 6                      d) 9                      e) 12
389. (FGV-81) Uma das soluções do seguinte sistema de equações

$$\begin{cases} \sqrt{\frac{x}{y}} - \sqrt{\frac{y}{x}} = \frac{3}{2} \\ x + yx + y = 9 \end{cases}$$

atende a qual das alternativas?

- a)  $x - y = 3$                       b)  $x - y = 2$                       c)  $x - y = 1$                       d)  $x - y = 0$                       e)  $x - y = -1$
390. (PUC-MG-92) Se  $x + \sqrt{y} = \frac{19}{9}$  e  $\sqrt{9x+5} - \sqrt{y} = 2$ , a razão  $\frac{y}{x}$  é igual a:  
a) 18                      b) 24                      c) 30                      d) 32                      e) 36

## Apêndice II — Inequações irracionais

391. (CESGRANRIO-85) Se o número real  $x$  satisfaz  $\sqrt{x} > x$ , então podemos concluir que:  
a)  $x > \sqrt{2}$                       b)  $1 < x < 2$                       c)  $x = 0$                       d)  $x > 1$                       e)  $0 < x < 1$
392. (CESGRANRIO-88) Seja  $x$  um número real positivo tal que  $\sqrt{x} > \frac{x}{2}$ . Então, o conjunto de tais números é um intervalo aberto cujo ponto médio é:  
a)  $\frac{1}{4}$                       b)  $\frac{1}{2}$                       c) 1                      d) 2                      e) 3
393. (ITA-88) Sejam  $f$  e  $g$  funções reais de variável real definidas por  
 $f(x) = \ln(x^2 - x)$  e  $g(x) = \frac{I}{\sqrt{I-x}}$ . Então, o domínio de  $f \circ g$  é:  
a)  $]0, e[$                       b)  $]0, 1[$                       c)  $[e, e+1]$                       d)  $] -1, 1[$                       e)  $]1, +\infty[$

Nota:  $f \circ g$  é a lei definida por  $(f \circ g)(x) = f(g(x))$  para cada  $x$  de seu domínio.

# Respostas dos Testes

1. c	40. a	79. e	118. c	157. d
2. e	41. d	80. b	119. d	158. c
3. a	42. e	81. c	120. a	159. a
4. e	43. c	82. d	121. c	160. d
5. a	44. d	83. e	122. d	161. a
6. d	45. c	84. c	123. b	162. a
7. e	46. b	85. b	124. e	163. e
8. e	47. d	86. b	125. c	164. a
9. c	48. a	87. c	126. e	165. e
10. e	49. a	88. c	127. e	166. c
11. e	50. c	89. c	128. d	167. e
12. b	51. c	90. c	129. c	168. c
13. b	52. c	91. e	130. a	169. d
14. e	53. e	92. b	131. e	170. a
15. c	54. a	93. a	132. b	171. a
16. c	55. c	94. a	133. d	172. b
17. d	56. a	95. c	134. c	173. a
18. d	57. c	96. e	135. b	174. b
19. e	58. c	97. c	136. e	175. d
20. a	59. e	98. a	137. e	176. e
21. c	60. a	99. b	138. d	177. a
22. c	61. a	100. e	139. a	178. e
23. e	62. c	101. d	140. d	179. e
24. d	63. a	102. e	141. a	180. d
25. b	64. c	103. d	142. b	181. b
26. a	65. a	104. e	143. e	182. a
27. c	66. a	105. b	144. d	183. d
28. e	67. b	106. e	145. a	184. d
29. d	68. d	107. b	146. c	185. b
30. d	69. e	108. c	147. b	186. d
31. e	70. a	109. e	148. c	187. d
32. c	71. c	110. a	149. b	188. b
33. b	72. c	111. d	150. e	189. b
34. c	73. a	112. d	151. e	190. b
35. b	74. b	113. b	152. c	191. a
36. a	75. c	114. c	153. a	192. d
37. b	76. c	115. d	154. b	193. a
38. d	77. b	116. e	155. e	194. b
39. d	78. e	117. b	156. b	195. e



RESPOSTAS DOS TESTES

196. a	236. b	276. e	316. b	356. e
197. d	237. a	277. c	317. a	357. c
198. a	238. b	278. b	318. e	358. b
199. b	239. a	279. c	319. c	359. b
200. d	240. a	280. e	320. b	360. b
201. d	241. e	281. c	321. c	361. a
202. e	242. d	282. c	322. d	362. e
203. a	243. b	283. c	323. c	363. d
204. e	244. e	284. d	324. d	364. c
205. d	245. d	285. c	325. b	365. c
206. d	246. c	286. c	326. e	366. b
207. c	247. c	287. e	327. d	367. d
208. a	248. a	288. c	328. c	368. b
209. b	249. d	289. d	329. e	369. a
210. b	250. c	290. b	330. b	370. c
211. d	251. d	291. b	331. e	371. a
212. e	252. d	292. c	332. b	372. d
213. e	253. b	293. d	333. e	373. a
214. e	254. c	294. a	334. c	374. b
215. a	255. c	295. b	335. a	375. a
216. d	256. c	296. c	336. a	376. e
217. c	257. e	297. b	337. d	377. b
218. d	258. b	298. a	338. c	378. e
219. e	259. c	299. e	339. b	379. e
220. a	260. c	300. b	340. a	380. a
221. c	261. d	301. c	341. a	381. c
222. c	262. d	302. a	342. d	382. a
223. e	263. a	303. b	343. b	383. e
224. c	264. c	304. a	344. b	384. d
225. e	265. b	305. a	345. d	385. c
226. b	266. d	306. e	346. b	386. a
227. a	267. c	307. b	347. b	387. d
228. a	268. b	308. b	348. b	388. b
229. a	269. d	309. e	349. c	389. a
230. c	270. b	310. b	350. e	390. e
231. d	271. c	311. b	351. e	391. e
232. d	272. a	312. a	352. a	392. d
233. b	273. d	313. c	353. d	393. b
234. b	274. d	314. e	354. c	
235. c	275. e	315. e	355. d	